

ناظر علمی: پوریا حسین پور

نام آزمون: آزمون جامع اقتصاد (دهم انسانی)

قلم چی - ۱۳۹۹

۱ برای تحقق کدام هدف، دولت ها می کوشند تا شرایط رونق اقتصادی را فراهم سازند؟

- ۱ مبارزه با تورم و رکود  
 ۲ ثبات قیمت ها و بهبود وضع توزیع درآمد  
 ۳ ایجاد اشتغال کامل و مبارزه با بیکاری  
 ۴ نگهداری نیروی انسانی در داخل کشور و مقابله با فرار مغزها

قلم چی - ۱۳۹۹

۲ در کدام گزینه جزء اول و چهارم مربوط به هزینه‌های اداری نیست؟

- ۱ حقوق قضات - هزینه‌های آب و برق - یارانه‌ی متعلق به برخی از کالاها - هزینه‌ی مربوط به تلفن  
 ۲ هزینه‌های حمل و نقل - هزینه‌ی آب و برق - هزینه‌ی تلفن و گاز - حقوق نمایندگان مجلس  
 ۳ حقوق معلمان - هزینه‌های حمل و نقل - هزینه‌ی مربوط به ملزوماتی چون: کاغذ و قلم - حقوق ایام بیکاری و از کار افتادگی  
 ۴ حقوق ایام بیکاری و از کار افتادگی - یارانه‌ی متعلق به برخی از کالاها - کمک به آسیب دیدگان از حوادث طبیعی - هزینه‌های مربوط به اجاره و تلفن

قلم چی - ۱۳۹۷

۳ کدام گزینه در مورد مفاهیم کالا و خدمات نادرست است؟

- ۱ کالا مفهومی اقتصادی است بنابراین اشیایی که در بازار خرید و فروش نمی‌شود، کالا به شمار نمی‌رود.  
 ۲ آنچه انسان در مقابل پول خریداری می‌کند و به وسیله‌ی آن نیازها یا خواسته‌هایش را برطرف می‌سازد، کالا نام دارد.  
 ۳ فعالیت معلمان، پزشکان، رانندگان و مشاوران حقوقی مثال‌هایی برای خدمات است.  
 ۴ لوازم التحریر، لباس، دارو و اسباب‌بازی مثال‌هایی برای کالا هستند.

قلم چی - ۱۳۹۷

۴ به ترتیب توضیحات بیان شده در عبارات زیر، به کدام نوع از کالاها اشاره دارد؟

(الف) برخی کالاها خودشان مصرف می‌شود و با یک بار مصرف تمام می‌شوند.

(ب) برخی از کالاها توسط تولیدکنندگان دیگر برای ادامه‌ی فرایند تولید و تبدیل آنها به کالاهاى مختلف دیگر خریداری می‌شوند و مورد استفاده قرار می‌گیرند.

(ج) خدمات برخی کالاها، در فرایند تولید و به وسیله بنگاه‌های تولیدی به کار گرفته می‌شوند.

(د) برخی کالاها با کوچکترین تغییر در قیمت، افراد مصرف آن کالا را تغییر می‌دهند.

- ۱ (الف) کالاهای مصرفی، (ب) کالاهای سرمایه‌ای، (ج) کالاهای واسطه‌ای، (د) کالاهای ضروری  
 ۲ (الف) کالاهای بی‌دوام، (ب) کالاهای واسطه‌ای، (ج) کالاهای سرمایه‌ای، (د) کالاهای تجملی  
 ۳ (الف) کالاهای بی‌دوام، (ب) کالاهای واسطه‌ای، (ج) کالاهای بادوام، (د) کالاهای ضروری  
 ۴ (الف) کالاهای مصرفی، (ب) کالاهای سرمایه‌ای، (ج) کالاهای واسطه‌ای، (د) کالاهای تجملی



۵ کدام یک از گزینه‌های زیر در ارتباط با حسابداری ملی نادرست است و چرا فعالیت‌های غیر قانونی نظیر قاچاق و مانند آن جزء تولید کشور محاسبه نمی‌شود؟  
قلم چی - ۱۳۹۷

۱

در حسابداری ملی فقط آن دسته از فعالیت‌های تولیدی در محاسبه و سنجش منظور می‌شود که از بازار عبور کند؛ یعنی تولید کننده، آن‌ها را در مقابل دریافت پول به مصرف کننده تحویل دهد. - زیرا از این فعالیت‌ها اطلاع دقیقی در دست نیست.

۲

از آنجا که ارزش کالاهای واسطه‌ای در درون کالاهای نهایی است، در محاسبه تولید کل جامعه باید از محاسبه ارزش کالاهای نهایی صرف نظر و فقط ارزش کالاهای واسطه‌ای را محاسبه کنیم. - زیرا محاسبه آن‌ها نوعی مشروعیت دادن به آن‌ها تلقی می‌شود.

۳

در حسابداری ملی فقط آن دسته از فعالیت‌های تولیدی در محاسبه و سنجش منظور می‌شود که از بازار عبور کند؛ یعنی تولید کننده، آن‌ها را در مقابل دریافت پول به مصرف کننده تحویل دهد. - زیرا این فعالیت‌ها به طور مستقیم توسط مصرف‌کنندگان خریداری نمی‌شود.

۴

از آنجا که ارزش کالاهای واسطه‌ای در درون کالاهای نهایی است، در محاسبه تولید کل جامعه باید از محاسبه ارزش کالاهای نهایی صرف نظر و فقط ارزش کالاهای واسطه‌ای را محاسبه کنیم. - زیرا این فعالیت‌ها به طور مستقیم توسط مصرف‌کنندگان خریداری نمی‌شوند.

۶ کدام گزینه تکمیل‌کننده جاهای خالی در عبارات زیر است؟

الف) نقش اصلی پول در مبادلات ..... است.  
قلم چی - ۱۳۹۷

ب) در صورتی که پول بتواند حفظ ارزش کند می‌تواند وسیله مناسبی برای ..... نیز باشد.

۱

الف) آسان‌سازی مبادله، ب) پرداخت‌های آینده

۲

الف) سنجش ارزش کالا، ب) پرداخت‌های آینده

۳

الف) سنجش ارزش کالا، ب) پرداخت در مبادلات

۴

الف) آسان‌سازی مبادله، ب) پرداخت در مبادلات

۷ کدام گزینه تکمیل‌کننده جاهای خالی در عبارات زیر است؟

الف) در عقد اسلامی ..... بانک محصولات تولیدی آینده‌نگارها را پیش‌خرید می‌کند.  
قلم چی - ۱۳۹۷

ب) در قرارداد خرید دین بانک‌های اسلامی می‌توانند اسناد و اوراق تجاری متعلق به واحدهای تولیدی، بازرگانی و خدماتی را .....

۱

الف) اجاره به شرط تملیک، ب) تنزیل کنند

۲

الف) معاملات سلف، ب) خریداری کنند

۳

الف) معاملات سلف، ب) تنزیل کنند

۴

الف) اجاره به شرط تملیک، ب) خریداری کنند

۸ کدام گزینه نادرست است؟

قلم چی - ۱۳۹۷

۱) بورس کالا معمولاً به نام کالایی که در آن مبادله می‌شود، نام‌گذاری می‌شود.

۲) بورس اوراق بهادار، بازار رسمی و دائمی است که در محلی معین تشکیل می‌شود و در آن اوراق بهادار معامله می‌گردد.

۳) در بورس کالا بیشتر کالاهای واسطه‌ای معامله می‌گردد.

۴) بورس یک کالا محل مبادلات فیزیکی آن کالا است.

۹ کدام گزینه نادرست است؟


قلم چی - ۱۳۹۷

۱) بی‌مبالاتی و یا سوء استفاده برخی صرافان از اعتماد مردم، در سپردن نشر پول به یک بانک مرکزی نقش داشت.

۲) سنجش ارزش کالاها توسط پول، کار خرید و فروش کالاهای مختلف و تبدیل قیمت‌ها را به یکدیگر آسان می‌کند.

۳) یکی از دلایل استفاده از پول فلزی این بود که در مبادلات با حجم زیاد وسیله پرداخت مناسبی بود.

۴) برای حل مشکلات پول فلزی، عده‌ای از بازرگانان در معاملات خود به جای پرداخت سکه‌های فلزی، رسیدی صادر می‌کردند که بیانگر بدهی آنان بود.





قلم چی - ۱۳۹۷

۱۰ کدام گزینه در خصوص بازار بورس و انواع آن نادرست است؟

- ۱ به طور کلی به مکانی که کار قیمت‌گذاری و خرید و فروش برخی از کالاها و اوراق بهادار در آن‌جا انجام می‌گیرد، «بورس» می‌گویند.
- ۲ بورس کالا محل مبادلات کاغذی آن کالا است و کالایی در آن مبادله نمی‌شود.
- ۳

در مباحث اقتصادی منظور از بورس اوراق بهادار، ارتباط مجموعه سرمایه‌گذاران و بنگاه‌های اقتصادی است و نه ضرورتاً، مکان خاصی که به اصطلاح «بورس اوراق بهادار» نامیده می‌شود.

۴ در بورس‌های کالا بیش‌تر کالاهای واسطه‌ای و مواد خام و اولیه و برخی مواد شیمیایی مورد معامله قرار می‌گیرد.

۱۱ صاحبان سهام به نسبت ..... مالک و در سود و زیان شرکت سهیم می‌شوند. اوراق مشارکت به چه منظوری در کشور منتشر می‌شود؟

قلم چی - ۱۳۹۷

- ۱ مشارکتی که در شرکت دارند - تأمین اعتبار پروژه‌های بزرگ دولتی و خصوصی
- ۲ سهامی که خریدند - تأمین اعتبار طرح‌های توسعه‌ای و عمرانی در کشور
- ۳ مشارکتی که در شرکت دارند - تأمین اعتبار طرح‌های توسعه‌ای و عمرانی در کشور
- ۴ سهامی که خریدند - تأمین اعتبار پروژه‌های بزرگ دولتی و خصوصی

قلم چی - ۱۳۹۷

۱۲ کدام یک از گزینه‌های زیر در رابطه با «فقر» در مباحث توسعه اقتصادی صحیح نمی‌باشد؟

- ۱ در هر سطحی از درآمد سرانه، هرچه توزیع درآمد در کشوری نسبت به کشور دیگر ناعادلانه‌تر باشد، نرخ فقر در آن کشور بیشتر است.
- ۲ افرادی که قادر به تأمین نیازهای ابتدایی زندگی نباشند، فقیر مطلق نامیده می‌شوند.
- ۳ فقر مطلق منعکس‌کننده تفاوت در نیازهاست.
- ۴ افرادی که درآمد آن‌ها از سطح حداقل معیشتی معین کم‌تر باشد، زیر خط فقر قرار دارند.

۱۳ باتوجه به جدول توزیع درآمد زیر: کدام کشور دارای نامناسب‌ترین وضعیت توزیع درآمد است؟ شاخص توزیع درآمد در کشوری که دارای مناسب‌ترین وضعیت توزیع درآمد است، کدام است؟

قلم چی - ۱۳۹۷

کشور	سهم دهک اول	سهم دهک دهم
A	۸	۲۴
B	۵	۳۰
C	۳	۲۱
D	۴	۲۰

- ۱ C-۵
- ۲ B-۵
- ۳ B-۳
- ۴ C-۳

قلم چی - ۱۳۹۷

۱۴ کدام گزینه در مورد نقش دولت در جامعه نادرست است؟

- ۱ با گذشت زمان و تکامل بشر به ویژه دستیابی به فناوری‌های نوین اجتماعی و کشف قوانین حاکم بر اجتماعات انسانی، محدوده اقتدار دولت نیز وسیع‌تر شد.
- ۲ در گذشته دولت‌ها حافظان نظم و امنیت بودند، اما امروزه تنها به فعالیت‌های اقتصادی اشتغال دارند.
- ۳ با گسترش حوزه اقتدار دولت‌ها تشکیل دولتی پیچیده‌تر شد و این نهاد در جوامع بشری نقش مهم‌تر و جدی‌تری را بر عهده گرفت.
- ۴ نقش اقتصادی دولت‌ها در زمان‌های گذشته در مقایسه با امروز بسیار کم‌رنگ بود و به موارد خاص و حالت‌های استثنایی محدود می‌شد.

قلم چی - ۱۳۹۷

۱۵ قسمت دوم کدام گزینه مبین وظیفه مشترک دولت‌ها در گذشته و حال است؟

- ۱ الف) ایجاد اشتغال کامل، ب) توزیع عادلانه درآمد و ثروت، ج) حفظ نظم و امنیت
- ۲ الف) حفظ نظم و امنیت، ب) ایجاد اشتغال کامل، ج) هدایت جامعه در مسیر رشد و توسعه پایدار اقتصادی
- ۳ الف) فقرزدایی، ب) حفظ نظم و امنیت، ج) مقابله با تورم
- ۴ الف) حفظ ثبات اقتصادی، ب) هدایت جامعه در مسیر رشد و توسعه پایدار اقتصادی، ج) فقرزدایی





- ۱۳۹۷ قلم چی - ۱۶ کدام مورد مربوط به فعالیت‌های دولت در عرصه اقتصاد، محور عرضه کالاها و خدمات نیست؟
- ۱ در برخی از زمینه‌ها بخش خصوصی حاضر به سرمایه‌گذاری نمی‌شود و در این حالت دولت ناچار به سرمایه‌گذاری در این موارد می‌شود.
  - ۲ در بعضی شرایط خالص دولت به ناچار برخی مؤسسات تولیدی و تجاری را تحت پوشش می‌گیرد.
  - ۳ دولت با تأسیس شرکت‌ها و مؤسسات مختلف که به نام شرکت‌های دولتی شناخته می‌شوند، به فعالیت اقدام می‌کند.
  - ۴ دولت با در نظر گرفتن تصویری از آینده اقتصاد می‌کوشد فعالیت‌های اقتصادی جامعه را به سمت و سوی مورد نظر خود هدایت کند.

- ۱۳۹۷ قلم چی - ۱۷ کدام مورد، از ویژگی‌های «فعالیت‌های دولت» در سال‌های اخیر نمی‌باشد؟
- ۱ سپردن ۲۵٪ از اقتصاد کشور به بخش تعاونی
  - ۲ گسترش محدوده «عمل دولت»
  - ۳ واگذاری بخش مهم از فعالیت‌های خود در چارچوب سیاست‌های اجرای اصل ۴۴ قانون اساسی به بخش‌های غیردولتی
  - ۴ حرکت در مسیر دستیابی به ترکیب بهینه از حضور دولت و مشارکت بخش غیردولتی در اقتصاد کشور

- ۱۳۹۷ قلم چی - ۱۸ کدام گزینه بیانگر پاسخ صحیح سؤالات زیر می‌باشد؟
- الف) دولت‌ها برای تحقق چه هدفی، درصدد فراهم کردن شرایط رونق اقتصادی هستند.
- ب) کدام توضیح در رابطه با بیکاری اصطکاک‌کی صحیح است؟
- ۱ الف) اشتغال کامل، ب) جابه‌جایی از کاری به کار دیگر
  - ۲ الف) ثبات قیمت‌ها، ب) همان بیکاری داوطلبانه است.
  - ۳ الف) اشتغال کامل، ب) افرادی که حاضر به کار نیستند.
  - ۴ الف) رشد و پیشرفت اقتصادی، ب) نوعی از بیکاری است که افراد درآمد کمی به دست می‌آورند.

- ۱۳۹۷ قلم چی - ۱۹ جمله زیر در رابطه با کدام شخصیت و در کدام دوره تاریخی است؟
- «و تأکید داشت برای جبران عقب‌ماندگی ممالک اسلامی باید علوم نوین و فنون جدید رواج یابد وی همچنین شرکت اسلامی را با شدت تمام تأیید می‌کرد.»
- ۱ آخوند خراسانی - صفویه      ۲ میرزای شیرازی - صفویه      ۳ آخوند خراسانی - قاجاریه      ۴ میرزای شیرازی - قاجاریه

- ۱۳۹۸ قلم چی - ۲۰ عبارت «من لا معاش له، لا معاد له» با مفهوم کدام گزینه در ارتباط است؟
- ۱ دین اسلام به عنوان دینی کامل در پی سعادت واقعی و کامل انسان‌ها است و دنیا و آخرت را همراه با هم مورد توجه قرار می‌دهد.
  - ۲ اسلام در دسترس نبودن معاش را خطری می‌داند که اعتقادات انسان را تهدید می‌کند.
  - ۳ فردی که برای ارتقای سطح زندگی خانواده یا هم‌نوعانش می‌کوشد، همانند کسی که در راه خدا جهاد می‌کند، شایسته تقدیر است.
  - ۴ قرآن تأکید می‌کند که رفع همه مشکلات انسان در گروی عمل به آموزه‌های الهی است.

- ۱۳۹۸ قلم چی - ۲۱ کدام گزینه مبین پاسخ صحیح و کامل پرسش‌های زیر است و جای خالی را به درستی تکمیل می‌کند؟
- الف) به چه دلیل ذخایر معدنی کره زمین با وجود کثرت و فراوانی، نامحدود نیستند؟
- ب) یکی از مهم‌ترین مسئله‌های زندگی و موضوع اصلی علم اقتصاد چیست؟
- ج) انسان به دنبال احساس نیاز تصمیم می‌گیرد که آن نیاز را رفع سازد و بعد از رفع آن، احساس ..... می‌کند.
- ۱ الف) ناشناخته بودن بسیاری از این ذخایر، ب) نیازهای نامحدود، ج) رضایت
  - ۲ الف) استفاده نادرست بشر از این منابع، ب) انتخاب، ج) بی‌نیازی
  - ۳ الف) محدود بودن دانش فنی بشر، ب) انتخاب، ج) رضایت
  - ۴ الف) قابلیت مصارف متعدد این منابع، ب) نیازهای نامحدود، ج) بی‌نیازی





قلم چی - ۱۳۹۸

۲۲ هریک از عبارات زیر به ترتیب بیان کننده کدام بازیگران و فعالان عرصه اقتصاد است؟

- با کمک آن‌ها روابط اقتصادی بین کشورها بیش تر رونق می گیرد و حقوق همه طرف‌های درگیر در تجارت جهانی حفظ می شود.
- این فعالان عرصه اقتصاد با هدف ایجاد نظم، انضباط و نظارت بر عملکرد اقتصاد یا تأمین برخی نیازهای عمومی، فعالیت می کنند.
- این فعالان عرصه اقتصاد، در تولید محصولات و یا مصرف آن‌ها و مبادله با یکدیگر نقش ایفا می کنند.

۱ بازیگران کلان - سازمان‌های اقتصادی بین‌المللی و جهانی - بازیگران خرد

۲ بازگران خرد - سازمان‌های اقتصادی بین‌المللی و جهانی - بازگیران کلان

۳ سازمان‌های اقتصادی بین‌المللی و جهانی - بازیگران خرد - بازیگران کلان

۴ سازمان‌های اقتصادی بین‌المللی و جهانی - بازیگران کلان - بازیگران خرد

قلم چی - ۱۳۹۸

۲۳ پاسخ صحیح پرسش‌های زیر به ترتیب در کدام گزینه آمده است؟

الف) کدام گزینه بیانگر مفهوم حیات است؟

ب) کدام مورد بیانگر مفهوم صنعت می باشد؟

ج) کدام مورد مثالی برای احیاء محسوب می شود؟

۱

الف) برداشت مستقیم محصول آماده طبیعت بدون انجام کار بر روی آن، ب) ترکیب و تبدیل مواد حیات شده و یا محصولات به دست آمده از احیای منابع طبیعی و ایجاد ارزش مصرفی یا مبادلاتی در آن‌ها، ج) زراعت

۲

الف) برداشت غیرمستقیم محصول آماده طبیعت و انجام کار بر روی آن، ب) ترکیب و تبدیل مواد حیات شده و یا محصولات به دست آمده از احیای منابع طبیعی و ایجاد ارزشی غیرمصرفی در آن‌ها، ج) پرورش ماهی

۳

الف) برداشت مستقیم محصول آماده طبیعت بدون انجام کار بر روی آن، ب) ترکیب و تبدیل مواد خدماتی و به دست آوردن محصولات جدید، ج) باغبانی

۴

الف) برداشت غیرمستقیم محصول آماده طبیعت و انجام کار بر روی آن، ب) ترکیب و تبدیل مواد خدماتی و به دست آوردن محصولات جدید، ج) صنایع غذایی

قلم چی - ۱۳۹۸

۲۴ کدام گزینه به ترتیب تکمیل کننده جاهای خالی در عبارات زیر است؟

الف) ..... باعث می شود که کمال جویی انسان به نوعی سیری ناپذیری تبدیل شود.

ب) ..... و ..... وضعیتی ایجاد می کند که اقتصاددان‌ها به آن «کمپابی» می گویند.

۱

الف) متوقف ماندن انسان در نیازهای مادی و حیوانی خود، ب) استفاده بی‌رویه از منابع و امکانات در قرن گذشته - محدود بودن منابع و امکانات در دسترس بشر

۲


الف) به خوبی طی نکردن مراتب نیازها در رفع نیازهای طبیعی، ب) محدود بودن منابع و امکانات در دسترس بشر - قابلیت مصارف متعدد منابع

۳

الف) متوقف ماندن انسان در نیازهای مادی و حیوانی خود، ب) محدودیت داشتن انسان در بهره‌برداری از منابع - محدود بودن منابع و امکانات در دسترس بشر

۴

الف) به خوبی طی نکردن مراتب نیازها در رفع نیازهای طبیعی، ب) استفاده بی‌رویه از منابع و امکانات در قرن گذشته - محدودیت داشتن انسان در بهره‌برداری از منابع





قلم چی - ۱۳۹۸

۲۵ به ترتیب هریک از موارد زیر به کدام نوع از بازار اشاره دارد؟

- شرکت پخش و پالایش فراورده های نفتی
- حضور و رفتار هریک از عرضه کنندگان و تقاضاکنندگان به نسبت کل بازار بسیار کوچک است.
- گاه به دلایل طبیعی، اقتصادی، قانونی و یا حتی غیرقانونی تعداد فروشنده یا خریدار به یک یا چند نفر محدود می شود.
- بازار محصولاتی چون ماکارونی
- فروشندگان آثار هنری در نمایشگاه ها و حراجی ها
- شرکت توانیر در کشور ما
- خریداران عمده کالا و خدمات (مثل خریدهای دولتی)

۱ بازار رقابتی - بازار انحصاری - بازار رقابتی - مناقصه - مزایده - بازار رقابتی - بازار رقابتی

۲ بازار انحصاری - بازار رقابتی - بازار انحصاری - بازار رقابتی - مزایده - بازار انحصاری - مناقصه

۳ بازار انحصاری - بازار رقابتی - مزایده - بازار انحصاری - مناقصه - بازار انحصاری - بازار رقابتی

۴ بازار رقابتی - بازار انحصاری - مناقصه - بازار رقابتی - مناقصه - بازار رقابتی - مزایده

قلم چی - ۱۳۹۸

۲۶ تفاوت میان «درآمد و ثروت یک گروه محدود» با «اکثریت چشم گیر مردم» در جوامع از چه طریقی کاهش می یابد؟

- ۱ افزایش حقوق و دستمزدها و درآمد سرانه و به تبع آن «درآمد ملی»
- ۲ با به کارگیری یک «نظام صحیح مالیاتی» و توزیع مجدد درآمد به نحوی قانونی
- ۳ از طریق تأسیس صندوق های «قرض الحسنه» و اعطای تسهیلات اعتباری به نیازمندان واقعی
- ۴ آموزش شغلی مستمر و افزایش انگیزش و ایجاد زمینه های مناسب به منظور بروز ابتکار و خلاقیت

۲۷ نام اسنادی که در فرایند تأمین منابع مالی به عنوان تضمین صادر می شود، چیست و به طور کلی به چه نوع اوراقی تقسیم می شوند؟

قلم چی - ۱۳۹۸

- ۱ اوراق بهادار - اسناد خزانه، اوراق سهام ممتاز
- ۲ اوراق مشارکت - اوراق بهادار، اوراق مشارکت
- ۳ اوراق بهادار - اوراق سهام، اوراق مشارکت
- ۴ حوالجات - اوراق قرضه، اوراق سهام عادی

قلم چی - ۱۳۹۸

۲۸ کدام گزینه در ارتباط با «مالیات» صحیح نیست؟


- ۱ تمامی وجوهی که دولت طبق قانون تحت عنوان مالیات دریافت می کند از اشخاص حقوقی است.
- ۲ مالیات از مهم ترین منابع درآمد دولت هاست و در بیش تر کشورهای جهان یکی از ابزارهای مؤثر کسب درآمد برای دولت است.
- ۳ دولت بهای برخی از کالاها و خدمات عمومی را مستقیماً از شهروندان دریافت نمی کند.
- ۴ مالیات یکی از ابزارهای مؤثر در رفع نابرابری های اقتصادی-اجتماعی است.

قلم چی - ۱۳۹۸

۲۹ به ترتیب کدام گزینه پاسخ صحیح پرسش های زیر است؟

الف) «افزایش بهره وری نیروی کار و به تبع آن بالا رفتن درآمد ملی» از نتایج کدام امر است؟  
ب) مهم ترین عامل تولید کدام است؟

- ۱ الف) سرمایه گذاری در زمینه آموزش و تأمین اقتصادی - اجتماعی نیروی انسانی، ب) انسان
- ۲ الف) به کارگیری یک نظام صحیح مالیاتی با نرخ ثابت، ب) بهره وری
- ۳ الف) عدم دخالت دولت در عرصه اقتصادی، ب) سرمایه
- ۴ الف) گسترش و حاکمیت اندیشه اقتصاد آزاد در جامعه، ب) منابع طبیعی





۱۳۹۸

- ۳۰ به ترتیب هر یک از موارد زیر به کدام اصل از قانون اساسی جمهوری اسلامی ایران اشاره دارد؟
- نظام اقتصادی جمهوری اسلامی ایران بر پایه سه بخش دولتی، تعاونی و خصوصی با برنامه ریزی منظم و صحیح استوار است.
  - انفال و ثروت های عمومی در اختیار حکومت اسلامی است تا بر طبق مصالح عامه نسبت به آن ها عمل نماید.
  - فعالیت های اقتصادی و غیر آن که با آلودگی محیط زیست یا تخریب غیر قابل جبران آن ملازمه پیدا کند، ممنوع است.
  - به مباحث مالی دولت شامل دریافت ها و درآمدهای دولت، بحث بودجه و نهادهای تصویب کننده و ناظر بر حسن اجرای آن تأکید دارد.
  - مالکیت شخصی که از راه مشروع باشد محترم است و ضوابط آن را قانون معین می کند.

۱ اصول ۵۱ تا ۵۵ - اصل ۴۴ - اصل ۴۸ - اصل ۵۰ - اصول ۴۶، ۴۷ و ۴۸ - اصل ۴۹

۲ اصل ۴۴ - اصل ۴۳ - اصل ۴۵ - اصل ۵۰ - اصل ۵۱ تا ۵۵ - اصل ۴۷

۳ اصول ۴۶، ۴۷ و ۴۹ - اصل ۴۳ - اصل ۵۱ تا ۵۵ - اصل ۴۷

۴ اصل ۴۴ - اصل ۵۱ تا ۵۵ - اصل ۴۸ - اصل ۴۵ - اصول ۴۶، ۴۷ و ۴۹ - اصل ۴۹

قلم چی - ۱۳۹۸

- ۳۱ به ترتیب کدام گزینه پاسخ مناسب سؤال های زیر می باشد؟
- الف) سرمایه گذاری برای «احداث کارخانه تراکتورسازی»، «ساخت شبکه های بزرگ آب رسانی» و «تربیت نیروی انسانی» به ترتیب جزء کدام یک از انواع هزینه های سرمایه ای دولت می باشند؟

ب) «مالیات بر اتومبیل، مالیات بر فروش اتومبیل و عوارض اتومبیل» به ترتیب جزء کدام یک از انواع مالیات ها می باشند؟

۱ الف) زیربنایی - مولد - اجتماعی، ب) مالیات بر درآمد - مالیات بر دارایی - حقوق و عوارض گمرکی

۲ الف) زیربنایی - زیربنایی - اجتماعی، ب) مالیات بر درآمد - مالیات بر نقل و انتقالات دارایی - حقوق و عوارض گمرکی

۳ الف) مولد - مولد - اجتماعی، ب) مالیات بر دارایی و ثروت - مالیات بر دارایی - عوارض شهرداری

۴ الف) مولد - زیربنایی - اجتماعی، ب) مالیات بر دارایی و ثروت - مالیات بر نقل و انتقالات دارایی - عوارض شهرداری

قلم چی - ۱۳۹۸

- ۳۲ عبارت کدام گزینه در ارتباط با صدمات جدی که بر ساختار اقتصاد ایران در دوره قاجار وارد شده است، نیست؟

۱ عهدنامه های ننگین و مبالغ جرمیه های گزاف آن ها

۲ افزایش بیش از حد مالیات

۳ اعطای امتیازها به شرکت ها و کشورهای استعماری

۴ تعدی حکومت بر موقوفات و مالکیت های خصوصی و واگذاری منابع نفتی و معدنی به بیگانگان

قلم چی - ۱۳۹۸

- ۳۳ عوامل کدام گزینه به تنوع منابع درآمدی ایران کمک می کند؟

۱ حرکت به سمت فروش نفت خام به جای فرآورده های نفتی - افزایش صادرات نفتی - تمرکز بر سرمایه گذاری خارجی

۲ تمرکز بر سرمایه گذاری خارجی - متکی بودن تنها بر صادرات یک محصول مهم - حرکت به سمت فروش نفت به جای فرآورده های نفتی

۳ اصلاح نظام مالیاتی - متکی بودن تنها بر صادرات یک محصول مهم - حرکت به سمت فروش نفت به جای فرآورده های نفتی

۴ اصلاح نظام مالیاتی - افزایش صادرات غیرنفتی - حرکت به سمت فروش فرآورده های نفتی به جای نفت خام

قلم چی - ۱۳۹۸

- ۳۴ کدام گزینه پیرامون سیاست های کاهش فقر کاملاً نادرست است؟

۱ برقراری یک سامانه و نظام مناسب و کارآمد مالیاتی از مهم ترین ابزارهای رویارویی با نابرابری توزیع درآمد است.

۲ با به کارگیری نظام صحیح مالیاتی، می توان تفاوت میان درآمد و ثروت یک گروه محدود پردرآمد و اکثریت کم درآمد جامعه را کاهش داد.

۳ عامل سرمایه به مثابه مهم ترین عامل تولید به آموزش و تأمین اجتماعی نیاز دارد.

۴ تلاش برای بهبود وضع نامطلوب زندگی، حرکت به سوی توسعه اقتصادی را هموار می کند.





۳۵ به ترتیب، عبارات کدام گزینه مبین پاسخ صحیح پرسش‌های زیر است و جاهای خالی را به درستی تکمیل می‌کند؟  
 قلم چی - ۱۳۹۸

الف) به ترتیب نزولی بودن منحنی تقاضا به چه معناست و در قیمت‌های بالاتر از قیمت تعادلی، چه وضعیتی در بازار به وجود می‌آید و تغییر قیمت‌ها در چه جهتی خواهد بود؟

ب) اگر در بازار خودروی کشوری، قیمت تعادلی ۳۰۰ واحد پولی و مقدار تعادلی ۴۰ دستگاه باشد و قیمت خودرو در بازار در حال افزایش باشد، مقدار عرضه و تقاضای بازار چه وضعیتی دارند و حداکثر دریافتی تولیدکنندگان در این بازار چند واحد پولی خواهد بود؟

پ) کدام گزینه در خصوص کشش قیمتی عرضه درست است؟

ت) در کشور ما دو شرکت خودروساز، تولیدکننده ..... خودرو می‌باشند و همواره کالاهای عمده خود را از قطعه‌سازان داخلی به صورت ..... خریداری می‌کنند.

۱

الف) نزولی بودن منحنی تقاضا به این معناست که با افزایش قیمت یک کالا، مقدار تقاضای آن نیز افزایش خواهد یافت و در مقابل با کاهش قیمت، مقدار تقاضای آن نیز کاهش می‌یابد. - کمبود تقاضا - افزایش، ب) میزان عرضه بیشتر از تقاضا است. - ۱۲,۰۰۰ واحد پولی، پ) هنگامی که حساسیت تولیدکننده نسبت به قیمت زیاد است، شیب منحنی عرضه کم است. ت) انحصاری قانونی در فروش - مناقصه

۲

الف) نزولی بودن منحنی تقاضا به این معناست که با افزایش قیمت یک کالا، مقدار تقاضای آن کاهش می‌یابد و در مقابل با کاهش قیمت، مقدار تقاضا افزایش می‌یابد. - مازاد عرضه - کاهش، ب) میزان تقاضا بیشتر از عرضه است. - ۱۲,۰۰۰ واحد پولی، پ) هنگامی که حساسیت تولیدکننده به قیمت کالا کم است، شیب منحنی عرضه زیاد است. ت) انحصاری قانونی در فروش - مناقصه

۳

الف) نزولی بودن منحنی تقاضا به این معناست که با افزایش قیمت یک کالا، مقدار تقاضای آن کاهش می‌یابد و در مقابل با کاهش قیمت، مقدار تقاضا افزایش می‌یابد. - مازاد عرضه - کاهش، ب) میزان عرضه بیشتر از تقاضا است. - ۷۰,۰۰۰ واحد پولی، پ) هنگامی که کشش قیمتی عرضه زیاد است، شیب منحنی عرضه هم زیاد است. ت) انحصار طبیعی در خرید و فروش - مزایده

۴

الف) نزولی بودن منحنی تقاضا به این معناست که با افزایش قیمت یک کالا، مقدار تقاضای آن نیز افزایش خواهد یافت و در مقابل با کاهش قیمت، مقدار تقاضای آن نیز کاهش می‌یابد. - کمبود عرضه - افزایش، ب) میزان تقاضا بیشتر از عرضه است. - ۷۰,۰۰۰ واحد پولی، پ) هنگامی که کشش قیمتی عرضه زیاد است، شیب منحنی عرضه هم زیاد است. ت) انحصار طبیعی در خرید و فروش - مزایده

۳۶ با توجه به جدول زیر با فرض این که هر سه کشور به یک اندازه از نیروی کار، سرمایه و دانش فنی برخوردارند و همه عوامل تولیدشان را با اشتغال کامل برای تولید برنج و جو به کار گرفته‌اند، به ترتیب:

قلم چی - ۱۳۹۸

هر کیلو جو (به دلار)	هر کیلو برنج (به دلار)	هزینه تولید کالا
		نام کشور
۵۰	۴۰	A
۴۰	۶۰	B
۳۰	۷۰	C

الف) کدام کشور در تولید برنج مزیت مطلق دارد؟

ب) کشور B در تولید کدام کالا باید متمرکز شود؟

ج) بدون در نظر گرفتن هزینه‌های حمل و نقل و با توجه به وضعیت کشور A کدام رابطه توجیه اقتصادی دارد؟

۱ الف) A، ب) جو، ج) کشور A برنج را در داخل تولید کند، اما جوی مورد نیاز خود را از کشور C وارد کند.

۲ الف) C، ب) جو، ج) کشور A برنج و جوی مورد نیاز خود را از کشور B وارد کند.

۳ الف) A، ب) برنج، ج) کشور A هر دو کالای برنج و جو را در داخل تولید کند.

۴ الف) C، ب) برنج، ج) کشور A جو را در داخل تولید کند، اما برنج مورد نیاز خود را از کشور C وارد کند.







سراسری - ۱۳۹۸

۳۷ کدام گزینه دربردارنده پاسخ درست و کامل پرسش‌های زیر است؟  
 الف) کدام سطح از سطوح چهارگانه آمارهای اقتصادی خرد محسوب می‌شود؟  
 ب) به کدام دلیل در حسابداری ملی ارزش کالاهای واسطه‌ای به صورت مستقل محاسبه نمی‌شود؟  
 ج) همه فعالیت‌های تولیدی در محاسبه تولید کل جامعه مورد سنجش قرار می‌گیرد، به جز:

- ۱ الف) روستایی، شهری و منطقه‌ای ب) ارزش آن‌ها در واقع همراه با کالاهای نهایی مورد سنجش و محاسبه قرار می‌گیرد. ج) فعالیت تولیدی زنان در مزارع و کشتزارها
- ۲ الف) شهری، منطقه‌ای و کلان ب) جزیی از کالاهای مصرفی هستند و ارزش آن‌ها در جریان تولید محاسبه می‌شود. ج) فعالیت تولیدی زنان در خانه و تربیت فرزندان
- ۳ الف) خانوار یا بنگاه‌های تولیدی و خدماتی ب) جزیی از کالاهای سرمایه‌ای هستند و ارزش آن‌ها در فرایند تولید منظور می‌شود. ج) کاشت میوه و سبزیجات گلخانه‌ای
- ۴ الف) خانوار یا شرکت‌ها و مؤسسات تولیدی ب) ارزش آن‌ها در درون کالاهای نهایی است و به صورت بخشی از کالاهای نهایی محسوب می‌شود. ج) کاشت سبزیجات در منزل برای مصرف خانگی

۳۸ جدول زیر گویای وضعیت توزیع درآمد کشور B در سال ۱۹۸۰ میلادی است. با توجه به دو فرمول: نسبت ۲۰ درصد بالا به ۲۰ درصد پایین و نسبت ۱۰ درصد بالا به ۴۰ درصد پایین، ارائه کدام شاخص:

قلم چی - ۱۳۹۹

۱	سهم دهک اول	۳ درصد
۲	سهم دهک دوم	۵ درصد
۳	سهم دهک سوم	۷ درصد
۴	سهم دهک چهارم	۹ درصد
۵	سهم دهک پنجم	۱۸ درصد
۶	سهم دهک ششم	۲۱ درصد

الف) توزیع درآمد در این کشور را مناسب‌تر نشان می‌دهد؟  
 ب) می‌توان نامناسب‌تر بودن توزیع درآمد در این کشور است؟  
 ج) شاخصی که برای مقایسه وضعیت توزیع درآمد مورد استفاده قرار می‌گیرد، چگونه محاسبه می‌شود؟

- ۱ الف) نسبت ۲۰ درصد بالا به ۲۰ درصد پایین ب) نسبت ۱۰ درصد بالا به ۴۰ درصد پایین ج) با محاسبه نسبت دهک اول به دهک اول
- ۲ الف) نسبت ۲۰ درصد بالا به ۲۰ درصد پایین ب) نسبت ۵۰ درصد پایین به ۵۰ درصد بالا ج) با محاسبه نسبت دهک اول به دهک ششم
- ۳ الف) نسبت ۱۰ درصد بالا به ۴۰ درصد پایین ب) نسبت ۵۰ درصد بالا به ۵۰ درصد پایین ج) با محاسبه نسبت دهک اول به دهک ششم
- ۴ الف) نسبت ۱۰ درصد بالا به ۴۰ درصد پایین ب) نسبت ۲۰ درصد بالا به ۲۰ درصد پایین ج) با محاسبه نسبت دهک اول به دهک اول

۳۹ کدام گزینه مشتمل بر پاسخ درست و کامل پرسش‌های زیر است؟

خارج از کشور - ۱۳۹۸

الف) فرمول کدام اصطلاح اقتصادی نادرست است؟  
 ب) از جمله فعالیت‌های بازار سرمایه که در اقتصاد جامعه آثار و نتایج بسیاری دارد، بررسی و شفاف‌سازی اطلاعات مالی شرکت‌ها و قیمت‌گذاری سهام و اوراق بهادار است. نتیجه این امر کدام است؟

- ۱ الف) کل محصول  $\times$  قیمت = درآمد ب) حجم سرمایه‌گذاری افزایش می‌یابد.
- ۲ الف) هزینه‌های مستقیم - درآمد = سود حسابداری ب) معاملات بازار سرمایه تنظیم می‌شود.
- ۳ الف) هزینه‌های مستقیم و غیرمستقیم - درآمد = سود اقتصادی (سود ویژه) ب) نرخ تورم تثبیت می‌شود.
- ۴ الف) درآمد تولیدی - هزینه‌های تولید = سود بنگاه اقتصادی ب) تا حدودی از نوسان شدید قیمت‌ها جلوگیری می‌شود.

۴۰ امروزه یکی از معیارهای بسیار رایج برای طبقه‌بندی کشورهای مختلف دنیا کدام است؟ و تولید ناخالص داخلی سرانه کشور سوئیس در سال ۲۰۱۵ چند دلار بوده است؟

قلم چی - ۱۳۹۸

- ۱ سطح توسعه‌یافتگی - بیش از ۸۰۶۷۵
- ۲ شکل نظام سیاسی - بیش از ۸۰۶۷۵
- ۳ سطح توسعه‌یافتگی - بیش از ۷۰۶۷۵
- ۴ شکل نظام سیاسی - بیش از ۷۰۶۷۵





قلم چی - ۱۳۹۹

۴۱ به ترتیب عبارات کدام گزینه جاهای خالی زیر را به درستی تکمیل می کند؟

(الف) تولیدکنندگان و مؤسسات اقتصادی بر اساس ..... به دو دسته عمده ..... و ..... تقسیم می شوند.  
(ب) ..... جایگاه و نقش هر یک از عوامل تولید را تعیین می کند.  
(ج) انواع سازمان های تولیدی به سازمان های ..... ، ..... ، ..... و ..... تقسیم می شود.

۱ (الف) انگیزه های خود - انتفاعی - غیرانتفاعی، (ب) سازمان تولید، (ج) تعاونی، خصوصی، سهامی خاص، سهامی عام

۲ (الف) میزان مشارکت دولت - دولتی - خصوصی، (ب) دولت، (ج) دولتی، خصوصی، عمرانی، مشارکتی

۳ (الف) انگیزه های خود - انتفاعی - غیرانتفاعی، (ب) دولت، (ج) تعاونی، خصوصی، سهامی خاص، سهامی عام

۴ (الف) میزان مشارکت دولت - دولتی - خصوصی (ب) سازمان تولید، (ج) دولتی، خصوصی، عمرانی، مشارکتی

قلم چی - ۱۳۹۹

۴۲ به ترتیب عبارات کدام گزینه بیانگر انواع کالاها یا خدمات زیر است؟

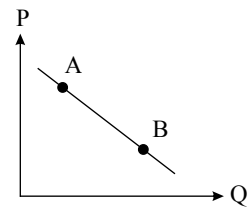
«توصیه های پزشک خانواده - مشاوره حقوقی - خودروی دست دوم خریداری شده توسط خانوار - تبلیغات برای بنگاه - سامانه های بزرگ رایانه ای مورد استفاده در بنگاه های تولیدی»

۱ خدمات - خدمات - خدمات - بادوام - خدمات - سرمایه ای

۲ خدمات - سرمایه ای - سرمایه ای - واسطه ای - خدمات - خدمات

قلم چی - ۱۳۹۹

۴۳ در نمودار روبه رو وضعیت  $B$  در مقایسه با نقطه  $A$  به چه صورت است؟



۱ قیمت بیشتر و مقدار کمتر

۲ قیمت و مقدار کمتر

۳ قیمت و مقدار بیشتر

۴ مقدار بیشتر و قیمت کمتر

قلم چی - ۱۳۹۹

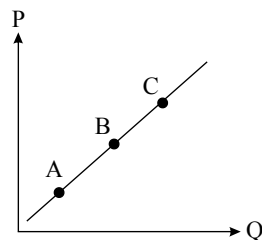
۴۴ با توجه به نمودار روبه رو به ترتیب:

(الف) این نمودار نشان دهنده کدام مفهوم اقتصادی در بازار است؟

(ب) وضع نقطه  $B$  در مقایسه با نقطه  $C$  چگونه است؟

(ج) علت حرکت از نقطه  $B$  به  $A$  کدام است؟

(د) علت حرکت از نقطه  $B$  به  $C$  کدام است؟



۱ (الف) تقاضا، (ب) قیمت بیشتر - مقدار کمتر، (ج) کاهش قیمت، (د) افزایش قیمت

۲ (الف) عرضه، (ب) قیمت کمتر - مقدار بیشتر، (ج) افزایش قیمت، (د) کاهش قیمت

۳ (الف) تقاضا، (ب) قیمت بیشتر - مقدار کمتر، (ج) افزایش قیمت، (د) کاهش قیمت

۴ (الف) عرضه، (ب) قیمت کمتر - مقدار کمتر، (ج) کاهش قیمت، (د) افزایش قیمت

قلم چی - ۱۳۹۹

۴۵ در کدام گزینه به ترتیب نوع بازار به درستی مشخص شده است؟

«بازار محصولاتی چون ماکارونی، بازار محصولاتی چون خودرو در کشور ما، شرکت پخش و پالایش فرآورده های نفتی، شرکت توانیر در کشور ما، فروشندگان آثار هنری چون فرش دست باف، خریدهای دولتی»

۱ انحصاری - رقابتی - انحصار در خرید - انحصار در فروش - مناقصه - رقابتی

۲ رقابتی - انحصار در خرید - انحصار در فروش - رقابتی - مناقصه - انحصار در فروش

۳ رقابتی - انحصار در فروش - انحصار در خرید و فروش - انحصار در فروش - مزایده - مناقصه

۴ رقابتی - انحصار در فروش - انحصار در خرید و فروش - انحصار در خرید - مناقصه - مزایده



۴۶ در یک جامعه فرضی چنانچه کشاورزان یک کیلوگرم پنبه تولیدی خود را به ارزش ۶۵۰۰ ریال به کارگاه‌های ریسندگی بفروشند، کارگاه‌های ریسندگی نیز این مقدار پنبه را به مقداری نخ تبدیل کرده و به ارزش ۷۵۰۰ ریال به کارگاه‌های پارچه‌بافی بفروشند، در کارگاه‌های پارچه‌بافی نخ به پارچه تبدیل شده و به مبلغ ۱۱۰۰۰ ریال به کارگاه‌های تولید پوشاک فروخته شود و در این کارگاه‌ها نیز پارچه به پوشاک تبدیل شده و به مبلغ ۱۹,۰۰۰ ریال به دست مصرف‌کنندگان برسد؛ با توجه به این داده‌ها به ترتیب:

الف) ارزش افزوده «مرحله دوم و چهارم» چیست؟  
ب) نام روش‌هایی که در آن «کل پول» که از طرف «بنگاه‌ها» به طرف خانوارها جریان می‌یابد و همچنین «کل پولی» که از طرف «خانوارها» به سمت «بنگاه‌ها» روانه می‌شود، به ترتیب کدام است؟

- ۱ الف (الف ۸۰۰۰ - ۱۰۰۰، ب) روش ارزش افزوده - روش درآمدی، ج) دو روش را به کار می‌گیرند و میانگین آن‌ها را منظور می‌کنند.
- ۲ الف (الف ۱۰۰۰ - ۸۰۰۰، ب) روش درآمدی - روش هزینه‌ای، ج) حداقل دو روش را به کار می‌گیرند و جواب‌ها را با هم مقایسه می‌کنند.
- ۳ الف (الف ۳۵۰۰ - ۶۵۰۰، ب) روش درآمدی - روش ارزش افزوده، ج) هر سه روش را به کار می‌گیرند و میانگین آن‌ها را منظور می‌دارند.
- ۴ الف (الف ۶۵۰۰ - ۳۵۰۰، ب) روش هزینه‌ای - روش درآمدی، ج) هر سه روش مورد استفاده قرار می‌گیرد، هر کدام بیش تر بود، آن منظور می‌شود.

۴۷ یک شاخص ترکیبی از چند شاخص برای شناخت و تشخیص «توسعه‌یافتگی» وجود دارد.

الف) نام آن چیست؟  
ب) این شاخص اعتبار کدام یک از «شاخص‌های تولید کل جامعه» را نادرست می‌نمایاند؟

- ۱ الف (الف شاخص رشد انسانی یا « $I \cdot H \cdot D$ »، ب) درآمد ملی
- ۲ الف (الف شاخص رشد انسانی یا « $H \cdot D \cdot I$ »، ب) درآمد سرانه
- ۳ الف (الف شاخص توسعه انسانی یا « $I \cdot H \cdot D$ »، ب) درآمد ملی
- ۴ الف (الف شاخص توسعه انسانی یا « $H \cdot D \cdot I$ »، ب) درآمد سرانه

۴۸ به ترتیب هر کدام از اشیاء زیر چه نوع کالایی هستند؟  
یخچال مورد استفاده در سوپر مارکت - پارچه مورد استفاده در خیاطی - نورافشان - اتومبیل خانوار

- ۱ سرمایه‌ای - واسطه‌ای - تجملی - بادوام
- ۲ بادوام - مصرفی - ضروری - سرمایه‌ای
- ۳ سرمایه‌ای - مصرفی - ضروری - سرمایه‌ای
- ۴ بادوام - واسطه‌ای - تجملی - بادوام

۴۹ کدام گزینه، عبارت‌های زیر را به درستی کامل می‌کند؟

الف) ایجاد چک و استقبال مردم از آن باعث شد که ..... در اقتصاد شکل بگیرد.  
ب) در دوره‌ای که در هر منطقه کالایی خاص پرطرفدار بود، در روسیه کالای ..... خواهان بیشتری داشت.  
پ) به ..... پول تحریری یا ثبتی گفته می‌شود.

- ۱ بیت کوین - کارت‌های اعتباری
- ۲ بیت کوین - صدف - چک
- ۳ شبه پول - پوست سمور - چک
- ۴ شبه پول - پوست سمور - کارت‌های اعتباری

۵۰ صرفاً به معنای افزایش تولید است؛ بنابراین مفهومی ..... است و در کشور ..... سطح پایین رشد هماهنگی دارد.

- ۱ رشد - کمی - موزامبیک
- ۲ رشد - کیفی - قطر
- ۳ توسعه - کیفی - موزامبیک
- ۴ رشد - کمی، کیفی - نروژ

۵۱ کدام گزینه در رابطه با بازیگران و فعالان عرصه‌ی اقتصاد نادرست است؟

- ۱ افراد، خانواده‌ها یا شرکت‌ها، انواع مؤسسات انتفاعی یا غیرانتفاعی و... «بازیگران خرد» اقتصاد هستند.
- ۲ به دولت که برای ایجاد نظم و انضباط و به دست آوردن سود و تأمین نیازهای شخصی فعالیت می‌کند، «بازیگر کلان» می‌گویند.
- ۳ در سطح جهان به نهادهایی نیاز است که با کمک آنها روابط اقتصادی بین کشورها بیشتر رونق بگیرد.
- ۴ برای اقتصاددانان مهم است که چه در عرصه‌ی داخلی و چه در عرصه‌ی خارجی، توانایی و قابلیت‌های بازیگران به خوبی رشد کند.





قلم چی - ۱۳۹۷

۵۲ به ترتیب هریک از جملات زیر بر کدام مفهوم دلالت دارد؟

(الف) این شکل از تولید، از ترکیب و تبدیل مواد حیازت شده و یا محصولات به دست آمده از احیای منابع طبیعی و ایجاد ارزش مصرفی یا مبادلاتی در آن‌ها به دست می‌آید.

(ب) این اقدام موجب مالکیت فرد می‌شود و بدون آن، اولین تولید انسان ممکن نبوده است.

(ج) به تولید رساندن منابع طبیعی به کمک کار و استفاده از ابزار، دلالت بر این مرحله از تولید دارد.

۱ (الف) حیازت، (ب) احیاء، (ج) صنعت

۳ (الف) صنعت، (ب) حیازت، (ج) حیازت

۲ (الف) صنعت، (ب) حیازت، (ج) احیاء

۴ (الف) حیازت، (ب) احیاء، (ج) احیاء

قلم چی - ۱۳۹۷

۵۳ کدام مورد درباره تاریخچه پول صحیح نیست؟

۱ اولین پول مورد استفاده مردم کالایی خاص و پرترفدار در هر منطقه بود؛ مثلاً در ایران، غلات به عنوان اولین پول مورد استفاده قرار می‌گرفت.

۲ انسان‌ها دریافته‌اند که مشکلات مبادله تهاتر را با کالایی بادوام و غیرفاسد شدنی، قابل تقسیم به تکه‌های کوچک و پرترفدار می‌توانند حل کنند.

۳ در گذشته مبادلات به صورت کالا با کالا انجام می‌گرفت و هر کس کالاهای اضافه خود را با کالاهایی مبادله می‌کرد که به آن نیاز داشت به این نوع مبادله «تهاتر» می‌گویند و امروزه نیز گاهی این مبادله در سطح روستایی و یا بین‌المللی دیده می‌شود.

۴ در مبادله تهاتر، پس‌انداز و حفظ ارزش و انتقال کالا به آینده مشکل‌زا نبود ولی تعیین و محاسبه قیمت‌ها و تبدیل آن‌ها به یکدیگر یکی از مشکلاتی بود که مردم با آن مواجه بودند.

قلم چی - ۱۳۹۷

۵۴ کدام گزینه در خصوص تورم نادرست است؟

۱ یکی از دلایل تورم، نابرابری عرضه و تقاضای کل در جامعه است.

۲ اگر افزایش پول در جامعه با افزایش تولید هماهنگ نباشد، می‌تواند سبب تورم شود.

۳ کاهش نرخ تورم به این معنی است که سطح عمومی قیمت‌ها کاهش یافته و به عبارتی دیگر اجناس ارزان‌تر شده‌اند.

۴ تورم از نظر علم اقتصاد، شتاب یا نرخ رشد افزایش سطح قیمت‌هاست.

۵۵ به ترتیب، هر یک از موارد زیر به کدام یک از هزینه‌های دولت مربوط است؟

«پرداخت‌های دولت برای حمایت از آسیب‌دیدگان ناشی از حوادث طبیعی، هزینه‌های حمل و نقل نهادهای دولتی، حقوق و مزایای قضایان، پرداخت به روستاییان تحت پوشش طرح شهید رجایی، احداث کارخانه‌های مواد غذایی»

قلم چی - ۱۳۹۷

۱ پرداخت‌های انتقالی - هزینه‌های کارکنان - هزینه‌های اداری - سرمایه‌گذاری‌های زیربنایی

۲ پرداخت‌های انتقالی - هزینه‌های اداری - هزینه‌های کارکنان - پرداخت‌های انتقالی - سرمایه‌گذاری‌های مولد

۳ هزینه‌های اداری - هزینه‌های کارکنان - پرداخت‌های انتقالی - سرمایه‌گذاری‌های مولد

۴ هزینه‌های اداری - هزینه‌های کارکنان - هزینه‌های اداری - هزینه‌های کارکنان - سرمایه‌گذاری‌های زیربنایی

۵۶ هر یک از عبارات زیر مربوط به کدام یک از دوره‌های تاریخی اقتصاد ایران است؟

(الف) در این دوره بخشی از درآمدهای نفتی کشور صرف ساخت و ساز شد و دولت به عنوان کارفرمای بزرگ در عرصه اقتصاد مطرح شد.

(ب) در این دوره تصویری از خطوط کلی اقتصاد مطلوب ایرانی - اسلامی در قانون اساسی درج شد.

(ج) در این دوره نظام نوینی در مالیات‌گیری و بودجه‌بندی کشور پدید آمد و برخی شاخص‌های اقتصادی، اجتماعی و انسانی بهبود یافت.

قلم چی - ۱۳۹۷

۱ (الف) اقتصاد ایران از ۱۳۰۰ تا ۱۳۵۷، (ب) اقتصاد ایران بعد از پیروزی انقلاب اسلامی، (ج) اقتصاد ایران از ۱۳۰۰ تا ۱۳۵۷

۲ (الف) اقتصاد ایران از ۱۳۰۰ تا ۱۳۵۷، (ب) اقتصاد ایران بعد از پیروزی انقلاب اسلامی، (ج) اقتصاد ایران بعد از پیروزی انقلاب اسلامی

۳ (الف) اقتصاد ایران بعد از پیروزی انقلاب اسلامی (ب) اقتصاد ایران از ۱۳۰۰ تا ۱۳۵۷، (ج) اقتصاد ایران بعد از پیروزی انقلاب اسلامی

۴ (الف) اقتصاد ایران بعد از پیروزی انقلاب اسلامی (ب) اقتصاد ایران از ۱۳۰۰ تا ۱۳۵۷، (ج) اقتصاد ایران از ۱۳۰۰ تا ۱۳۵۷



۵۷ مانع تراشی در برابر بانک‌ها و بیمه‌ها نوعی تحریم ..... است و امروزه با ..... روز به روز از تاثیر تحریم‌های تجاری کاسته شده است.  
قلم چی - ۱۳۹۷

- ۱- مالی - اعمال فشارهای بین‌المللی  
۲- مالی - جهانی شدن اقتصاد  
۳- تجاری - جهانی شدن اقتصاد  
۴- تجاری - اعمال فشارهای بین‌المللی

۵۸ پاسخ درست و کامل سؤالات زیر در کدام گزینه مطرح است؟

الف) در صورتی که در بازار قیمت کالایی در حال کاهش باشد، دلیل پیشروی قیمت به سمت قیمت تعادلی چیست؟  
ب) در رابطه با شرایط بازپرداخت تسهیلات اعتباری بانک‌ها به افراد و مؤسسات برای انجام دادن فعالیت‌ها یا تکمیل پروژه‌های اقتصادی خود، کدام مورد نادرست است؟

ج) متن پیشنهادی بودجه را که ..... تدوین و پس از تصویب ..... به ..... تقدیم می‌شود. چه می‌نامند؟  
د) مطلب «در ادوار گذشته، پیشرفت روزافزون جوامع انسانی، مشکلات جدیدی را در عرصه مبادله به همراه داشت و در گذر تحولات اقتصادی و ظهور معاملات بزرگ با مشکلاتی مواجه شد.» مربوط به چیست؟

۱- الف) فزونی عرضه بر تقاضا (ب) بارپرداخت بدهی در هر زمانی که بانک اراده کند. ج) سازمان مسئول امور بودجه - هیئت دولت - مجلس شورای اسلامی - لایحه بودجه د) استفاده از پول فلزی در مبادلات

۲- الف) فزونی تقاضا بر عرضه (ب) مطابقت فعالیت‌های وام‌گیرنده با شرایط بانک ج) دولت - مجمع تشخیص مصلحت نظام - شورای نگهبان قانون اساسی - قانون اساسی - قانون بودجه د) استفاده از کالاهای خاص و دارای مشتری زیاد در هر منطقه

۳- الف) کمبود عرضه (ب) بررسی درخواست متقاضی توسط بانک ج) سازمان برنامه و بودجه - مجلس شورای اسلامی - شورای نگهبان قانون اساسی - قانون بودجه د) استفاده از رسیدهای کاغذی صادره از سوی صرافان و تجار معتبر

۴- الف) مازاد عرضه (ب) اطمینان از توانایی فرد یا مؤسسه نسبت به بازپرداخت بدهی خود ج) قوه مجریه - هیئت دولت - قوه مقننه - لایحه بودجه د) مبادله کالا با کالا یا مبادله پایاپای

۵۹ هریک از عبارات زیر به ترتیب بیان‌کننده کدام بازیگران و فعالان عرصه اقتصاد است؟  
قلم چی - ۱۳۹۸  
- با کمک آن‌ها روابط اقتصادی بین کشورها بیشتر رونق می‌گیرد و حقوق همه طرف‌های درگیر در تجارت جهانی حفظ می‌شود.  
- این فعالان عرصه اقتصاد با هدف ایجاد نظم و انضباط و نظارت بر عملکرد اقتصاد یا تأمین برخی نیازهای عمومی فعالیت می‌کنند.  
- این فعالان عرصه اقتصاد، در تولید محصولات و یا مصرف آن‌ها و مبادله با یکدیگر نقش ایفا می‌کنند.

- ۱- بازیگران کلان - سازمان‌های اقتصادی بین‌المللی و جهانی - بازیگران خرد  
۲- بازیگران خرد - سازمان‌های اقتصادی بین‌المللی و جهانی - بازیگران کلان  
۳- سازمان‌های اقتصادی بین‌المللی و جهانی - بازیگران خرد - بازیگران کلان  
۴- سازمان‌های اقتصادی بین‌المللی و جهانی - بازیگران کلان - بازیگران خرد

۶۰ صحیح یا غلط بودن عبارت‌های زیر به ترتیب در کدام گزینه آمده است؟  
قلم چی - ۱۳۹۸  
الف) استفاده از منابع باید با حفظ و صیانت از آن‌ها و رعایت عدالت بین نسلی همراه باشد.  
ب) منابع و امکانات موجود در دست انسان نامحدود است و انسان در بهره‌برداری از آن‌ها محدودیت دارد.  
پ) اگر انسان در نیازهای مادی و حیوانی خود متوقف نشود، کمال جویی به نوعی سیری ناپذیری تبدیل می‌شود.  
ت) انسان به دلیل محدودیت‌هایش، نمی‌تواند همه آنچه را که می‌خواهد هم‌زمان و همیشه داشته باشد.

- ۱- ص - غ - ص - غ  
۲- غ - غ - غ - ص  
۳- ص - غ - غ - ص  
۴- غ - ص - غ - ص





قلم چی - ۱۳۹۸

۶۱ پاسخ پرسش‌های زیر به ترتیب در کدام گزینه آمده است؟

(الف) مؤسسات انتفاعی و خیریه‌ها جزء کدام دسته از بازیگران و فعالان عرصه اقتصاد هستند؟  
 (ب) کدام مورد از وظایف دولت به عنوان یکی از بازیگران عرصه اقتصاد نیست؟  
 (پ) «حفظ حقوق همه طرف‌های درگیر در تجارت جهانی» وظیفه کدام بازیگر و فعال عرصه اقتصاد است؟

- ۱ بازیگران کلان - ایجاد نظم و انضباط - کشورهای جهان
- ۲ بازیگران خرد - تولید محصولات یا مصرف آن‌ها و مبادله با یکدیگر - سازمان‌های اقتصادی بین‌المللی و جهانی
- ۳ بازیگران کلان - تأمین همه نیازهای عمومی - سازمان‌های اقتصادی بین‌المللی و جهانی
- ۴ بازیگران خرد - نظارت بر عملکرد اقتصاد - کشورهای جهان

قلم چی - ۱۳۹۸

۶۲ کدام گزینه در خصوص انواع متغیرها با قیمت جاری و ثابت درست است؟

- ۱ اگر دستمزد کارکنان دولت ۱۲٪ افزایش یابد و در همان زمان تورم ۷٪ باشد، قدرتمت خرید واقعی کارکنان دولت ۶٪ افزایش یافته است.
- ۲ اگر تورم جهانی ۲۰٪ باشد و صادرات اسمی ۱۲٪ افزایش یافته باشد در واقع صادرات واقعی ۱۰٪ افزایش یافته است.
- ۳ اگر سود اسمی سهام در بازار سرمایه ۱۰٪ باشد و نرخ تورم در همان زمان برابر با ۴٪ باشد، آن‌گاه سود واقعی سهام ۱۴٪ خواهد بود.
- ۴ اگر نرخ تورم ۱۵٪ باشد و سود اسمی که بانک به سپرده‌های مردم می‌پردازد ۲۰٪ باشد، آن‌گاه سود واقعی ۵٪ است.

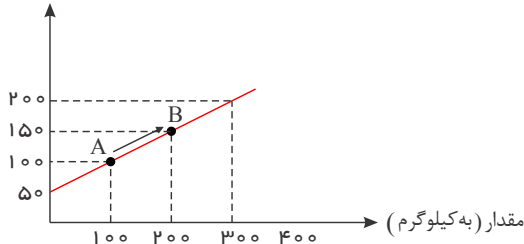
قلم چی - ۱۳۹۸

۶۳ پاسخ پرسش‌های زیر به ترتیب در کدام گزینه آمده است؟

قیمت (به هزار ریال)

(الف) منحنی زیر نشان‌دهنده کدام مفهوم در بازار است؟ (ب) در همین منحنی اگر از

نقطه A به نقطه B برسیم کدام مفهوم قابل درک می‌باشد؟



- ۱ (الف) عرضه، (ب) با افزایش قیمت، میزان عرضه نیز بیشتر می‌شود.
- ۲ (الف) تقاضا، (ب) با کاهش قیمت، میزان تقاضا نیز بیشتر می‌شود.
- ۳ (الف) عرضه، (ب) با افزایش قیمت، میزان تقاضا نیز بیشتر می‌شود.
- ۴ (الف) تقاضا، (ب) با افزایش قیمت، میزان عرضه نیز بیشتر می‌شود.

قلم چی - ۱۳۹۸

۶۴ کدام عبارت در مورد انواع بانک‌ها درست نمی‌باشد؟

- ۱ بانک ایران و اروپا از نمونه بانک‌های سرمایه‌گذاری است که به منظور سرمایه‌گذاری در زمینه تولید فعالیت می‌کند و همچنین می‌تواند شرکت‌ها و واحدهای تولیدی تأسیس کند.
- ۲ بانک‌ها عمدتاً یکسان‌اند و فعالیت‌های مشترکی را برعهده دارند و بانک مرکزی تمام فعالیت‌های پولی و بانکی آن‌ها را تحت کنترل و نظارت دارد.
- ۳ بانک‌های تخصصی مثل بانک توسعه صادرات فقط به فعالان عرصه خاصی از اقتصاد خدمات ارائه می‌کند نه به همه مردم.
- ۴ بانک توسعه‌ای، صندوقی عمدتاً دولتی برای توسعه مناطق محروم و تأمین مالی طرح‌های عمرانی توسعه‌ای است.



قلم چی ۱۳۹۸

۶۵ موارد کدام گزینه به ترتیب تکمیل کننده عبارت‌های زیر است؟

- (الف) منحنی ..... نشان دهنده چگونگی رفتار اقتصادی تولیدکنندگان است.  
 (ب) تصمیم تولیدکنندگان در مورد میزان تولید کالا از عواملی چون ..... تأثیر می‌پذیرد.  
 (ج) نزولی بودن منحنی تقاضا به این معناست که .....

۱

(الف) تقاضا، (ب) سطح قیمت آن کالا، هزینه‌های تولید و پیش‌بینی تولیدکنندگان در مورد رونق یا رکود بازار، (ج) با افزایش قیمت یک کالا، میزان تقاضا افزایش می‌یابد.

۲

(الف) عرضه، (ب) سطح قیمت آن کالا، هزینه‌های تولید و پیش‌بینی تولیدکنندگان در مورد رونق یا رکود بازار، (ج) با افزایش قیمت یک کالا، میزان تقاضا کاهش می‌یابد.

۳

(الف) تقاضا، (ب) قیمت کالا، درآمد، سلیقه خودشان، تبلیغات، (ج) با کاهش قیمت یک کالا، میزان تقاضا افزایش می‌یابد.

۴

(الف) عرضه، (ب) قیمت کالا، درآمد، سلیقه خودشان، تبلیغات، (ج) با کاهش قیمت یک کالا، میزان تقاضا کاهش می‌یابد.

۶۶

کدام گزینه مبین پاسخ صحیح و کامل پرسش‌های زیر است و جای خالی را به درستی تکمیل می‌کند؟

قلم چی - ۱۳۹۸

- (الف) در شرایطی که اقتصاد کشور دچار تورم شده است، دولت با چه روشی ثبات اقتصادی را در جامعه برقرار می‌کند؟  
 (ب) کدام‌یک از موارد بیان‌شده، جزء سیاست‌های مالی دولت به‌شمار نمی‌رود؟  
 (ج) ..... و ..... از جمله سیاست‌های توسعه‌ای دولت می‌باشند.  
 (د) بسته سیاست‌های مالی دولت از چه ابزاری تشکیل شده است؟

۱

(الف) افزایش مالیات، (ب) کاهش حجم پول در گردش، (ج) توجه به زیرساخت‌ها - سرمایه‌گذاری در مناطق محروم، (د) امنیت اقتصادی

۲

(الف) کاهش مخارج دولت، (ب) افزایش حجم پول در گردش، (ج) توجه به زیرساخت‌ها - سرمایه‌گذاری در مناطق محروم، (د) درآمدها و مخارج دولت

۳

(الف) کاهش مالیات، (ب) کاهش پایه‌های مالیاتی، (ج) کاهش واردات غیرضروری - بهبود محیط کسب‌وکار، (د) درآمدها و مخارج دولت

۴

(الف) سیاست بازار باز، (ب) افزایش در مخارج دولت، (ج) کاهش واردات غیرضروری - بهبود محیط کسب‌وکار، (د) برنامه‌ریزی دقیق

۶۷

عبارات کدام گزینه جاهای خالی زیر را به درستی تکمیل می‌کند؟

- (الف) یکی از معیارهای سنجش وضعیت توزیع درآمد ..... است و مهم‌ترین ابزار رویارویی با نابرابری توزیع درآمد ..... می‌باشد.  
 (ب) از جمله راهکارهای افزایش بهره‌وری نیروی کار و در پی آن، افزایش درآمد ملی ..... می‌باشد.  
 (ج) سطح حداقل معیشت (خط فقر) از یک کشور به کشور دیگر و از زمانی به زمان دیگر متفاوت است، این مفهوم ..... نامیده می‌شود و منعکس‌کننده ..... است.

قلم چی - ۱۳۹۸

۱

(الف) درآمد سرانه - اعمال سیاست‌هایی در جهت بهبود وضع نامطلوب زندگی، (ب) اصلاح ساختار توزیع درآمدها و عادلانه کردن آن، (ج) فقر مطلق - سطح حداقل معیشت

۲


(الف) درآمد سرانه - برقراری یک سامانه و نظام مناسب و کارآمد مالیاتی، (ب) سرمایه‌گذاری در زمینه آموزش و تأمین اقتصادی - اجتماعی انسان‌ها، (ج) فقر نسبی - تفاوت در نیازها

۳

(الف) شاخص دهک‌ها - اعمال سیاست‌هایی در جهت بهبود وضع نامطلوب زندگی، (ب) اصلاح ساختار توزیع درآمدها و عادلانه کردن آن، (ج) فقر مطلق - سطح حداقل معیشت

۴

(الف) شاخص دهک‌ها - برقراری یک سامانه و نظام مناسب و کارآمد مالیاتی، (ب) سرمایه‌گذاری در زمینه آموزش و تأمین اقتصادی - اجتماعی انسان‌ها، (ج) فقر نسبی - تفاوت در نیازها





قلم چی - ۱۳۹۸

۶۸ درستی و نادرستی عبارت‌های زیر به ترتیب در کدام گزینه آمده است؟

- (الف) بانک‌های سپه یا ملی بانک‌های تخصصی هستند که در ایران بیشتر نقش بانک تجاری را ایفا می‌کنند.  
 (ب) بانک‌های مشترکی که با کشورها تأسیس می‌شوند (مثل بانک ایران و اروپا)، بانک سرمایه‌گذاری به شمار می‌روند.  
 (ج) در کشور ما، پس از پیروزی انقلاب اسلامی، به جای اوراق مشارکت، از اوراق قرضه استفاده می‌شود.  
 (د) صاحبان سهام به نسبت سهامی که خریده‌اند، مالک و تنها در سود شرکت سهام می‌شوند.

۴ غ - ص - غ - ص

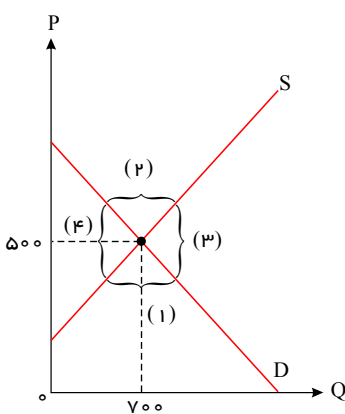
۳ غ - ص - ص - غ

۲ غ - ص - غ - غ

۱ ص - ص - غ - غ

قلم چی - ۱۳۹۸

۶۹ باتوجه به نمودار زیر به پرسش‌های زیر پاسخ دهید.



(الف) قیمت و مقدار تعادلی به ترتیب چه قدر است؟

(ب) در کدام قسمت با مازاد تقاضا روبه‌رو هستیم؟

(پ) در چه قیمت‌هایی بازار با مازاد عرضه مواجه است؟

(ت) در قسمت یک کدام مورد رخ نمی‌دهد؟


۱

(الف) ۵۰۰ و ۷۰۰ - (ب) قسمت ۲ - (پ) قیمت‌های بالاتر از ۵۰۰ - (ت) گروهی از مصرف‌کنندگان به خرید کالای مورد نیاز خود موفق نمی‌شوند.

۲ (الف) ۵۰۰ و ۷۰۰ - (ب) قسمت ۱ - (پ) قیمت‌های بالاتر از ۵۰۰ - (ت) گروهی از تولیدکنندگان موفق نمی‌شوند کالاهایشان را بفروشند.

۳ (الف) ۷۰۰ و ۵۰۰ - (ب) قسمت ۱ - (پ) قیمت‌های پایین‌تر از ۵۰۰ - (ت) تولیدکنندگان رغبت بیشتری به تولید نشان می‌دهند.

۴ (الف) ۷۰۰ و ۵۰۰ - (ب) قسمت ۲ - (پ) قیمت‌های پایین‌تر از ۵۰۰ - (ت) مصرف‌کنندگان مقدار خرید خود را افزایش می‌دهند.







۷۰ کدام گزینه مبین پاسخ صحیح پرسش‌های زیر است؟

قلم چی - ۱۳۹۸

الف) رفاه اجتماعی چگونه تحقق می‌یابد؟

ب) چگونه می‌توان تصویری از وسعت و اندازه فقر در هر کشور به دست آورد؟

ج) کدام عبارت در خصوص شاخص دهک‌ها نادرست است؟

د) چگونه تفاوت میان درآمد و ثروت یک گروه محدود و اکثریت چشمگیر مردم کاهش می‌یابد؟

ه) هرگونه سرمایه‌گذاری در زمینه آموزش و تأمین اقتصادی-اجتماعی انسان‌ها به ..... و در پی آن ..... منجر می‌شود.

و) چه عاملی می‌تواند انگیزه قدرتمند همکاری و مشارکت عموم افراد جامعه را در فرایند توسعه سالم اقتصادی ایجاد کند؟

۱

الف) با از بین رفتن فقر و کاهش نابرابری‌ها، ب) با در نظر گرفتن دو شاخص درآمد سرانه و میزان نابرابری در توزیع درآمد، ج) برای محاسبه این معیار، مردم کشور را به ده گروه جمعیتی تقسیم می‌کنند و در این طبقه بندی، سطح درآمد از بیش‌ترین به کم‌ترین مدنظر قرار می‌گیرد. د) تقویت روحیه امید و اطمینان نسبت به آینده در مردم، ه) انسجام و همکاری بیش‌تر - حرکت به سمت توسعه اقتصادی، و) افزایش مشارکت مؤثر در فعالیت‌های سیاسی و اجتماعی

۲

الف) با ارتقای توانمندی‌ها و مسئولیت‌پذیری افراد جامعه، ب) با در نظر گرفتن دو شاخص رشد اقتصادی و شاخص توسعه انسانی، ج) در طبقه‌بندی مردم برای محاسبه شاخص دهک‌ها، گروه اول که ۱۰ درصد اولیه جمعیت را تشکیل می‌دهند، بیش‌ترین درآمد ملی و ۱۰ درصد آخر کم‌ترین درصد درآمد ملی را دارند. د) تقویت روحیه امید و اطمینان نسبت به آینده در مردم، ه) انسجام و همکاری بیش‌تر - حرکت به سمت توسعه اقتصادی، و) افزایش مشارکت مؤثر در فعالیت‌های سیاسی و اجتماعی

۳

الف) با از بین رفتن فقر و کاهش نابرابری‌ها، ب) با در نظر گرفتن دو شاخص درآمد سرانه و میزان نابرابری در توزیع درآمد، ج) با محاسبه نسبت دهک دهم به دهک اول، شاخصی به دست می‌آید که برای مقایسه وضعیت توزیع درآمد بین کشورهای مختلف به کار می‌رود؛ هرچه این نسبت کم‌تر باشد، توزیع درآمد در آن جامعه نامناسب‌تر است. د) توزیع مجدد درآمد به گونه‌ای قانونی با به‌کارگیری نظام صحیح مالیاتی، ه) افزایش بهره‌وری نیروی کار - افزایش درآمد ملی، و) توزیع عادلانه درآمدها و کاهش فقر

۴

الف) با ارتقای توانمندی‌ها و مسئولیت‌پذیری افراد جامعه، ب) با در نظر گرفتن دو شاخص رشد اقتصادی و شاخص توسعه انسانی، ج) در جدول مربوط به وضعیت توزیع درآمد در هر کشور، سهم هر دهک باید از سهم دهک ماقبل خود بزرگ‌تر یا مساوی باشد. د) توزیع مجدد درآمد به گونه‌ای قانونی با به‌کارگیری نظام صحیح مالیاتی، ه) افزایش بهره‌وری نیروی کار-افزایش درآمد ملی، و) توزیع عادلانه درآمدها و کاهش فقر

۷۱ جدول زیر مبین «شاخص‌های توسعه» در سه کشور مختلف است. با توجه به اطلاعات ارائه شده:

قلم چی - ۱۳۹۸

الف) در کدام کشور، شاخص «رشد» با شاخص «توسعه» هماهنگ است و در کدام کشور این هماهنگی وجود ندارد؟

ب) نرخ مرگ و میر نوزادان در «چین»، امید به زندگی در «موزامبیک»، «تولید ناخالص داخلی» سرانه در «نروژ» و رتبه کشور چین در شاخص

توسعه انسانی در سال ۲۰۱۵، به ترتیب از راست به چپ کدام است؟

ردیف	کشورها شاخص‌ها	نرخ نرگ و میر نوزادان (در هر هزار تولد)	امید به زندگی (سال)	نرخ باسواد بزرگ سالان (به درصد)	تولید ناخالص داخلی سرانه
					(به دلار PPP ثابت سال ۲۰۱۱)
۱	چین	؟	۷۵	۹۵٫۱	۱۱۵۲۵
۲	موزامبیک	۶۱٫۵	؟	۵۰٫۶	۱۰۷۰
۳	نروژ	۲٫۳	۸۱٫۶	حدود ۱۰۰	؟

۲ الف) موزامبیک - چین، ب) ۱۰٫۹ - ۵۵٫۱ - ۶۲۴۴۸ - ۹۰

۱ الف) موزامبیک - ژاپن ب) ۲۰ - ۳۰٫۹ - ۳۱۴۹۰ - ۱۸۰

۴ الف) چین - ژاپن، ب) ۲۲ - ۳۰٫۹ - ۳۸۳۲۰ - ۹۰

۳ الف) چین - موزامبیک، ب) ۲۰ - ۴۰٫۹ - ۳۱۴۹۰ - ۶۹



۷۲ توزیع عادلانه درآمدها و کاهش فقر می تواند ..... ایجاد کند و ..... مستلزم توانمندسازی افراد و به ویژه مولد کردن آن هاست. قلم چی - ۱۳۹۸

۱ انگیزه قدرتمند همکاری و مشارکت عموم افراد جامعه را در فرآیند توسعه سالم اقتصادی - اصلاح ساختار توزیع درآمد و عادلانه تر کردن آن و مقابله با فقر

۲ انگیزه قدرتمند همکاری و مشارکت عموم افراد جامعه را در فرآیند توسعه سالم اقتصادی - اعمال سیاست هایی به منظور بهبود وضع نامطلوب زندگی

۳ افزایش بهره‌وری نیروی کار و در پی آن افزایش درآمد ملی را - اصلاح ساختار توزیع درآمد و عادلانه تر کردن آن و مقابله با فقر

۴ افزایش بهره‌وری نیروی کار و در پی آن افزایش درآمد ملی را - اعمال سیاست هایی به منظور بهبود وضع نامطلوب زندگی

۷۳ به ترتیب کدام گزینه دربردارنده پاسخ صحیح سؤالات زیر می باشد؟ الف) دولت عهده دار انجام کدام مراحل بودجه است؟

ب) به آن دسته از هزینه های دولتی که صرف احداث بنا یا خرید کالاهایی می شود که با بقای اصل آنها مورد استفاده قرار می گیرند، چه می گویند؟

۱ الف) تنظیم و پیشنهاد، تصویب، ب) هزینه های مولد

۲ الف) نظارت بر اجرا، تنظیم و پیشنهاد، ب) هزینه های زیربنایی

۳ الف) اجرا، تصویب، ب) هزینه های اجتماعی

۴ الف) تنظیم و پیشنهاد، اجرا، ب) هزینه های سرمایه ای

۷۴ چند مورد از عبارات زیر نادرست است؟ قلم چی - ۱۳۹۸

- کشور ما در گذشته به شدت به درآمدهای نفتی وابسته بود و کشوری تک محصولی به شمار می رفت.

- امروزه درآمدهای صادراتی کشور گوناگون تر شده و از وضعیت تک محصولی فاصله گرفته است.

- در خصوص فواید تجارت بین الملل برای تولیدکنندگان می توان گفت چون بازارهای داخلی محدود است، به همین دلیل تولیدکنندگان از طریق صادرات می توانند به بازارهای وسیع تری دسترسی پیدا کنند.

- در جهان امروز اساس زندگی عموم انسان ها در جامعه شهری از تک محصولی فاصله گرفته است.

۱ سه ۲ یک ۳ چهار ۴ دو

۷۵ کدام گزینه به ترتیب پاسخ صحیح پرسش های زیر است؟ قلم چی - ۱۳۹۸

الف) دولت با چه سیاست هایی می تواند فعالیت های بخش تولید و عرضه را بهبود بخشد؟

ب) دولت ها با اجرای سیاست های مناسب تجاری و ارزی، سعی در انجام چه کاری دارند؟


ج) هدف اصلی دولت از اعمال سیاست های تثبیت اقتصادی چیست؟

۱ بهبود محیط کسب و کار و به کارگیری فناوری های نوین - تجارت داخلی را سامان دهند. - تقاضای کل اقتصاد را در بلندمدت مدیریت و تنظیم کند.

۲ کاهش واردات غیرضروری و مصرف بی رویه کالاهای وارداتی - تجارت خارجی را سامان دهند. - تقاضای کل اقتصاد را در بلندمدت مدیریت و تنظیم کند.

۳ افزایش بهره‌وری و امنیت اقتصادی، بهبود محیط کسب و کار - تجارت خارجی را سامان دهند. - تقاضای کل اقتصاد را در کوتاه مدت مدیریت و تنظیم کند.

۴ با به کارگیری فناوری های نوین و کاهش واردات و صادرات - از وابستگی و شکنندگی اقتصادی در مقابل تکانه های داخلی و خارجی بکاهند. - تقاضای کل اقتصاد را در کوتاه مدت مدیریت و تنظیم کند.





قلم چی - ۱۳۹۸

۷۶ موارد زیر به ترتیب به کدام یک از هزینه های دولت اشاره دارد؟

الف) هزینه حمل و نقل در نهادها

ب) استقرار کارخانه مواد غذایی

ج) احداث خطوط راه آهن

د) عرضه قند و شکر به قیمت ارزان

۱ پرداخت های انتقالی - سرمایه گذاری زیربنایی - سرمایه گذاری زیربنایی - هزینه های اداری

۲ هزینه های اداری - سرمایه گذاری مولد - سرمایه گذاری زیربنایی - پرداخت های انتقالی

۳ هزینه کارکنان - سرمایه گذاری های اجتماعی - پرداخت های انتقالی - سرمایه گذاری زیربنایی

۴ هزینه های اداری - سرمایه گذاری مولد - سرمایه گذاری مولد - پرداخت های انتقالی

قلم چی - ۱۳۹۸

۷۷ کدام گزینه در خصوص چشم انداز اقتصاد نادرست است؟

۱ اقتصاد کشور باید پیوسته رشد و شکوفایی مستمر داشته باشد.

۲ در سند چشم انداز، ایران کشوری با جایگاه اول اقتصادی در سطح منطقه آسیای جنوب غربی، ترسیم شده است.

۳ در بیشتر کشورها هماهنگی بین نخبگان، مردم و فعالان اقتصادی را با تدوین سند چشم انداز به دست می آورند.

۴ در سند چشم انداز ۳۰ ساله جمهوری اسلامی ایران، وضعیت اقتصادی در افق سال ۱۴۰۴ ه.ش. توصیف و مشخص شده است.

خارج از کشور - ۱۳۹۸

۷۸ با توجه به مندرجات جدول زیر، با فرض اینکه عمر مفید ماشین آلات ۲۰ سال باشد، در این صورت:

الف) میزان هزینه استهلاک

ب) مقدار درآمد خالص سالیانه این بنگاه اقتصادی چقدر است؟

۱	خرید ماشین آلات	۱۶۰,۰۰۰,۰۰۰ ریال
۲	میزان درآمدزایی	۴۰,۰۰۰,۰۰۰ ریال

۲ الف) ۷,۰۰۰,۰۰۰ ریال ب) ۲۳,۰۰۰,۰۰۰ ریال

۴ الف) ۷,۰۰۰,۰۰۰ ریال ب) ۳۲,۰۰۰,۰۰۰ ریال

۱ الف) ۸,۰۰۰,۰۰۰ ریال ب) ۳۲,۰۰۰,۰۰۰ ریال

۳ الف) ۸,۰۰۰,۰۰۰ ریال ب) ۲۳,۰۰۰,۰۰۰ ریال

قلم چی - ۱۳۹۸

۷۹ کدام یک از عبارات زیر صحیح نیستند؟

الف) بازار محصولات مانند ماکارونی معمولاً انحصاری است.

ب) در کشور ما شرکت توانیر به دلیل طبیعی، انحصارگر در فروش کالای خود به شمار می رود.

پ) تعمیر لوازم خانگی توسط افراد خانواده در منزل، به دلیل از بازار عبور نکردن، در حسابداری ملی مورد محاسبه قرار نمی گیرد.

ت) معمولاً با در نظر گرفتن دو شاخص درآمد سرانه و میزان نابرابری در توزیع درآمد، می توان تصویری از وسعت و اندازه فقر در هر کشور به دست آورد.

ث) اصول ۵۰ تا ۵۵ قانون اساسی به مباحث مالی دولت شامل دریافت ها و درآمدهای دولت، بحث بودجه و نهادهای تصویب کننده و ناظر بر حسن اجرای آن تأکید دارد.

۴ «الف» و «ث»

۳ «پ» و «ب»

۲ «ب» و «ث»

۱ «الف» و «ت»



قلم چی - ۱۳۹۸

- ۸۰ کدام گزینه مبین پاسخ صحیح پرسش‌های زیر است؟  
 - قبل از شکل‌گیری خدمات نوین بانک نقدینگی کل مساوی چه چیزی بود؟  
 - بانک توسعه صادرات چه نوع بانکی محسوب می‌شود؟  
 - اوراقی که در فرآیند تأمین منابع مالی به‌عنوان تضمین صادر می‌شود، چه نام دارد؟  
 ۱ مجموع مسکوکات و اسکناس‌های در گردش و خارج از گردش - تخصصی - اوراق بهادار  
 ۲ مجموع مسکوکات و اسکناس‌های در گردش و خارج از گردش - تخصصی - اوراق خزانه  
 ۳ پول و شبه پول - سرمایه‌گذاری - اوراق خزانه  
 ۴ پول و شبه پول - سرمایه‌گذاری - اوراق بهادار

قلم چی - ۱۳۹۹

- ۸۱ به ترتیب موارد کدام گزینه تکمیل‌کننده جاهای خالی عبارات زیر است؟  
 الف) تصمیماتی که انسان در مورد مسائل اقتصادی می‌گیرد، عمدتاً در ..... ریشه دارد.  
 ب) هدف علم اقتصاد ..... است.  
 ج) دانشمندان علوم اقتصادی، موضوعات اقتصادی را ..... با ..... مورد مطالعه قرار می‌دهند.

- ۱ الف) منابع و امکانات محدود و در دسترس او، ب) مدیریت رفتارهای فردی و جمعی انسان‌ها و برآورده ساختن تمام نیازهای او، ج) برخلاف سایر علوم - روش‌های خاص خود  
 ۲ الف) نیازها و خواسته‌های نامحدود او، ب) راهنمایی انسان برای بهترین انتخاب و به‌کارگیری بهترین روش به منظور استفاده از منابع و امکانات خویش، ج) همانند سایر علوم - روش‌های علمی  
 ۳ الف) منابع و امکانات محدود و در دسترس او، ب) راهنمایی انسان برای بهترین انتخاب و به‌کارگیری بهترین روش به منظور استفاده از منابع و امکانات خویش، ج) برخلاف سایر علوم - روش‌های خاص خود  
 ۴ الف) نیازها و خواسته‌های نامحدود او، ب) مدیریت رفتارهای فردی و جمعی انسان‌ها و برآورده ساختن تمامی نیازهای او، ج) همانند سایر علوم - روش‌های علمی

قلم چی - ۱۳۹۹

- ۸۲ به ترتیب پاسخ هریک از سؤالات زیر در کدام گزینه به‌درستی ذکر شده است؟  
 الف) جایگاه و نقش هریک از عوامل تولید توسط چه چیزی تعیین می‌شود؟  
 ب) در اقتصاد اسلامی صاحب سرمایه مالی به چه صورت در تولید مشارکت دارد؟  
 ج) دو تولیدکننده‌ای که عوامل تولید یکسانی دارند، بر چه مبنایی یکی می‌تواند بهره‌وری بیشتری داشته باشد؟  
 د) میزان عایدی انتخاب دوم در چه نوع سودی محاسبه می‌شود؟  
 ۱ میزان مشارکت - قرض‌الحسنه - محصول بیشتر - سود اقتصادی  
 ۲ سازمان تولید - به‌عنوان صاحب کار - کاهش هزینه فرصت - سود اقتصادی  
 ۳ میزان مشارکت - به‌عنوان صاحب کار - کاهش هزینه فرصت - سود حسابداری  
 ۴ سازمان تولید - قرض‌الحسنه - محصول بیشتر - سود ویژه



قلم چی - ۱۳۹۹

۸۳ صحیح یا غلط بودن عبارتهای زیر در کدام گزینه به ترتیب آمده است؟

(الف) مواجهه تقاضاکننده و مصرف کننده «بازار» را شکل می دهد.

(ب) حالت مازاد عرضه در بالای نقطه تعادلی و کمبود عرضه در پایین نقطه تعادلی قرار دارد.

(پ) در مباحث اقتصادی وقتی از بازار کالای خاصی سخن می گوئیم، منظور مکان خاصی است که به اصطلاح «بازار» نامیده می شود.

(ت) در صورتی که در بازار قیمت در سطح قیمت تعادلی نباشد، حتی در صورت قیمت گذاری توسط دولت، همواره عواملی آن را به سمت قیمت تعادلی می کشانند.

۱ - غ - غ - غ - غ      ۲ - ص - ص - غ - غ      ۳ - غ - غ - ص - ص      ۴ - ص - غ - ص - غ

قلم چی - ۱۳۹۹

۸۴ به ترتیب عبارات کدام گزینه بیانگر پاسخ صحیح پرسش های زیر است؟

(الف) به ترتیب بانک توسعه صادرات و بانک ملی در ایران بانک های «.....» و «.....» هستند.

(ب) بانک هایی که براساس عقود اسلامی مانند مضاربه و جعاله به فعالیت های اقتصادی می پردازند، بانک های «.....» هم هستند.

(پ) اگر روی هر برگ سفته نوشته شده باشد: سقف مبلغ ۱۰۰ هزار تومان است، فردی که ۱۰ میلیون تومان از بانک وام گرفته است، چند برگ سفته را باید امضا کرده و به بانک بدهد؟

۱ - (الف) سرمایه گذاری - توسعه ای، (ب) سرمایه گذاری، (پ) ۱۰۰ برگ      ۲ - (الف) تخصصی - تجاری، (ب) توسعه ای، (پ) ۱۰ برگ  
۳ - (الف) توسعه ای - سرمایه گذاری، (ب) تخصصی، (پ) ۱۰ برگ      ۴ - (الف) تخصصی - تجاری، (ب) سرمایه گذاری، (پ) ۱۰۰ برگ

۸۵ در روش تأمین مالی از طریق صدور اوراق بهادار «.....» و از جمله پیامدهای مطلوب این روش «.....»؛ زیرا در این

حالت «.....» هم چنین در این روش، سرمایه شرکت های سهامی تأمین می شود که این کار مهم از طریق «.....» و نهاد آن یعنی «.....» انجام می شود.

قلم چی - ۱۳۹۹

۱

افراد و اشخاص حقوقی وام را به طور غیرمستقیم از بانک دریافت می کنند. - تأمین بدون واسطه سرمایه شرکت های سهامی از مردم است. - سرمایه های اندک مردم جمع می شوند و در قالب منابع قابل توجه، سرمایه های شرکت های سهامی را تأمین می کند. - بازار سرمایه - بورس

۲

افراد و اشخاص حقوقی وام را به طور مستقیم از بانک دریافت می کنند. - افزایش انگیزه مردم برای سرمایه گذاری است. - مردم در سرمایه و سود شرکت ها شریک می شوند. - بورس - بازار سرمایه

۳

مراکز تجاری و بازرگانی وام را به صورت مستقیم از مردم دریافت می کنند. - تأمین بدون واسطه سرمایه شرکت های سهامی از مردم است. - سرمایه های اندک مردم جمع می شوند و در قالب منابع قابل توجه، سرمایه های شرکت های سهامی را تأمین می کند. - بورس - بازار سرمایه

۴


مراکز تجاری و بازرگانی وام را به طور مستقیم از مردم دریافت می کنند. - افزایش انگیزه مردم برای سرمایه گذاری است. - مردم در سرمایه و سود شرکت ها شریک می شوند. - بازار سرمایه - بورس

۸۶ به ترتیب تهیه دستورالعمل اجرایی و مقررات ناظر بر انتشار اوراق مشارکت در ایران بر عهده کدام نهاد است و از نظر اقتصاددانان اوراق

قلم چی - ۱۳۹۹

بهادار شامل چه مواردی می شود؟

۱ - بانک مرکزی - اوراق سهام و اوراق مشارکت      ۲ - دولت - اوراق سهام و اوراق مشارکت  
۳ - دولت - حوالات و سفته و چک      ۴ - بانک مرکزی - همه اوراق مبادله شده در بورس کالا





قلم چی - ۱۳۹۹

۸۷ کدام گزینه صحیح است؟

۱ اسناد اعتباری دیداری اسنادی است که با رؤیت بانک و اطلاع قبلی قابل پرداخت است.

۲ چک طبق قانون، سند بهادار بدون تاریخ است ولی در کشور ما براساس عرف، از آن به جای سند اعتباری مدت‌دار استفاده می‌شود.

۳ بانک توسعه تعاون که از صندوق توسعه تعاون شکل گرفته بود، بانک توسعه‌ای است که واسطه و وکیل سپرده‌گذاران برای سرمایه‌گذاری و مشارکت در زمینه تولید نیز می‌باشد.

۴ افراد یا مؤسسات خصوصی با خرید اوراق مشارکت، ضمن دریافت سود علی‌الحساب در فواصل زمانی مشخص شده، اصل طلب خود را در پایان سال خرید اوراق دریافت می‌کنند.

قلم چی - ۱۳۹۹

۸۸ به ترتیب عبارات کدام گزینه مبین پاسخ صحیح پرسش‌های زیر می‌باشد و جاهای خالی را به درستی تکمیل می‌کند؟

الف) کدام عبارت بیان‌کننده مهم‌ترین مشکل استفاده از پول‌های فلزی می‌باشد؟

ب) به ترتیب پشتوانه پول فلزی در گذشته ..... و پول‌های رایج (پول فلزی، کاغذی، تحریری و الکترونیکی) در زمان حال ..... می‌باشند.

ج) در کدام گزینه یکی از مشکلات استفاده از پول کالایی، بیان نشده است؟

۱ الف) دشوار بودن حمل و نقل طلا و نقره، ب) پول‌های فلزی نزد صرافان - شمش‌های طلا در نزد بانک مرکزی، ج) هزینه بالا جهت نگهداری

۲ الف) دشوار بودن حمل و نقل طلا و نقره، ب) طلا و نقره موجود در خود پول - قدرت اقتصادی کشور، ج) فاسد شدن در صورت عدم استفاده

۳ الف) محدودیت میزان طلا و نقره در دسترس بشر، ب) طلا و نقره موجود در خود پول - قدرت اقتصادی کشور، ج) سوء استفاده از اعتماد مردم

۴ الف) محدودیت میزان طلا و نقره در دسترس بشر، ب) پول‌های فلزی نزد صرافان - شمش‌های طلا در نزد بانک مرکزی، ج) اشغال کردن فضای زیاد

قلم چی - ۱۳۹۹

۸۹ کدام گزینه به ترتیب پاسخ صحیح هریک از سؤالات زیر است؟

الف) فردی زمینی در اختیار دارد. او می‌تواند ۱۷۲ کیلو سیب و یا ۱۴۹ کیلو هلو در این زمین بکارد. سود حاصل از این محصولات به ترتیب به ازای هر کیلو ۱۴۷ و ۱۶۸ تومان است. فرد موردنظر باید در کدام زمینه سرمایه‌گذاری کند؟

ب) کدام مورد بیانگر اصطلاح «هزینه فرصت» است؟

۱ کاشت سیب - میزان عایدی انتخاب اول

۲ کاشت هلو - میزان عایدی انتخاب دوم

۹۰ میزان تولید کل جامعه‌ای در چهار سال نسبت پیاپی به ترتیب ۲۱۳، ۲۴۲، ۲۸۱ و ۳۱۷ هزارمیلیارد ریال است. با در نظر گرفتن

سال اول به‌عنوان سال پایه تولید این چهار سال به ترتیب ۲۱۳، ۲۳۱، ۲۶۸ و ۲۹۲ هزار میلیارد ریال تغییر یافت. با توجه به قلم چی - ۱۳۹۹ این ارقام به ترتیب:

الف) میزان تورم در سال سوم و چهارم نسبت به سال پایه به ترتیب چند هزار میلیارد ریال است؟

ب) افزایش مقدار تولید کلی ناشی از افزایش مقدار تولید در سال دوم و چهارم نسبت به سال پایه به ترتیب چند هزار میلیارد ریال است؟

۱ الف) ۱۳۰ - ۲۵۰ ب) ۱۱۰ - ۲۵۰

۲ الف) ۱۳۰ - ۲۵۰ ب) ۷۹۰ - ۱۸۰

۳ الف) ۱۳۰ - ۲۵۰ ب) ۷۹۰ - ۱۸۰

۹۱ فرد الف مبلغ ۱۰۰ میلیون تومان را برای سرمایه‌گذاری در نظر گرفته است، او پس از بررسی‌های متعدد به دو گزینه نهایی

سپرده‌گذاری در بانک با سود سالیانه ۱۸ درصد یا خرید یک مغازه و سپس اجاره آن با اجاره ماهیانه ۶۵ هزار تومان می‌رسد، با توجه به مفهوم هزینه فرصت در این مورد فرد کدام مورد را انتخاب خواهد کرد و هزینه فرصت این انتخاب کدام است؟ (بدون در نظر گرفتن تورم به این سؤال پاسخ دهید)

قلم چی - ۱۳۹۹

۱ خرید مغازه و اجاره آن - ۶۵ هزار تومان اجاره ماهیانه مغازه

۲ سپرده‌گذاری بانک - میزان سود ماهیانه سپرده

۳ خرید مغازه و اجاره آن - میزان سود ماهیانه سپرده

۴ سپرده‌گذاری در بانک - ۶۵ هزار تومان اجاره ماهیانه مغازه





۹۲ مندرجات جدول زیر، مربوط به اطلاعات استخراجی از «حساب‌های ملی» کشوری فرضی است. با توجه به داده‌های مذکور، سهم «تولید» خارجی‌ان مقیم کشور، چند هزار میلیارد ریال است؟ (ارقام به هزار میلیارد ریال است).

قلم چی - ۱۳۹۹

۴۷۰	تولید ناخالص داخلی	۱
۳۰	سهم تولید مردم کشور که در خارج اقامت دارند	۲
۴۸۵	تولید ناخالص ملی	۳

۲۰ (۴)

۱۵ (۳)

۱۰ (۲)

۵ (۱)

۹۳ جدول زیر مبالغ هزینه یک بنگاه تولیدی را نشان می‌دهد. با توجه به این اطلاعات و تولید ۷۰۰۰ دستگاه هر یک به ارزش ۱۰ هزار دلار در این بنگاه تولیدی به ترتیب:

قلم چی - ۱۳۹۹

الف) میزان سود اقتصادی و سود حسابداری این بنگاه به ترتیب کدام است؟  
ب) میزان سودی که در اظهارنامه مالیاتی درج می‌شود چقدر است؟

۵۴ میلیون دلار	مجموع هزینه‌های مستقیم و غیرمستقیم
۱۲ میلیون دلار	میزان هزینه فرصت بنگاه
۸ میلیون دلار	هزینه استهلاک سالانه این بنگاه

۲ الف) ۸ میلیون دلار - ۱۸ میلیون دلار ، ب) ۱۸ میلیون دلار

۱ الف) ۱۶ میلیون دلار - ۲۸ میلیون دلار ، ب) ۱۶ میلیون دلار

۴ الف) ۸ میلیون دلار - ۲۸ میلیون دلار ، ب) ۲۸ میلیون دلار

۳ الف) ۱۶ میلیون دلار - ۱۸ میلیون دلار ، ب) ۱۶ میلیون دلار

۹۴ میزان تولید یک کشوری در طی سه سال متوالی به ترتیب، سال اول ۳۴۰۰ ، سال دوم ۳۷۰۰ ، سال سوم ۴۱۵۰ هزار میلیارد ریال بوده است. با گزینش سال اول به عنوان «سال پایه» مقدار تولید کل این جامعه در سه سال مورد نظر برحسب قیمت‌های «سال پایه» به ترتیب به ۳۴۰۰ ، ۳۵۷۰ ، ۴۰۳۰ هزار میلیارد ریال تغییر یافته است. براساس این به ترتیب از راست به چپ:

قلم چی - ۱۳۹۹

الف) کدام اعداد مربوط به «پدیده تورم» در سال دوم و سال سوم نسبت به سال اول در این جامعه است؟

ب) افزایش مقدار تولید در «سال دوم و سال سوم» نسبت به سال اول چند هزار میلیارد ریال است؟

ج) افزایش قیمت‌ها در «سال دوم و سال سوم» نسبت به سال اول چند هزار میلیارد ریال است؟

۲ الف) ۱۲۰ ، ۱۳۰ (الف) - ۱۳۰ ، ۱۲۰ (ب) - ۱۷۰ ، ۶۳۰ (ج) - ۱۳۰ ، ۱۲۰

۱ الف) ۱۲۰ ، ۱۳۰ (الف) - ۱۲۰ ، ۱۳۰ (ب) - ۱۷۰ ، ۶۳۰ (ج) - ۱۳۰ ، ۱۲۰

۴ الف) ۱۲۰ ، ۱۳۰ (الف) - ۱۳۰ ، ۱۲۰ (ب) - ۱۷۰ ، ۶۳۰ (ج) - ۱۳۰ ، ۱۲۰

۳ الف) ۱۲۰ ، ۱۳۰ (الف) - ۱۲۰ ، ۱۳۰ (ب) - ۱۷۰ ، ۶۳۰ (ج) - ۱۳۰ ، ۱۲۰

قلم چی - ۱۳۹۹

۹۵ «رفاه اجتماعی» در چه صورتی تحقق می‌یابد؟

۱ مثبت بودن نرخ رشد اقتصادی و افزایش میل نهایی به پس‌انداز در گروه‌های بالای درآمدی

۲ کاهش فقر نسبی و افزایش فاصله دهک‌های درآمدی

۳ کاهش نابرابری‌های اجتماعی و افزایش بهره‌وری نیروی کار

۴ از بین رفتن فقر و کاهش نابرابری‌ها



۹۶ عبارات کدام گزینه کامل‌کنندهٔ موارد زیر است؟

الف) برای مقایسه وضعیت «توزیع درآمد» بین کشورها، نسبت دهک «.....» به «.....» محاسبه می‌شود، هر چه این نسبت «.....» باشد «توزیع درآمد» در آن جامعه «.....» است.

ب) در تشکیل شاخص دهک‌ها، گروه اول که ۱۰ درصد اولیهٔ جمعیت را تشکیل می‌دهند، ..... درصد درآمد ملی و ۱۰ درصد آخر ..... درصد درآمد ملی را دارند.

۱) الف) دهم - اول - بیش‌تر - نامناسب‌تر، ب) بیش‌ترین - کم‌ترین

۲) الف) اول - دهم - بیش‌تر - مناسب‌تر، ب) بیش‌ترین - کم‌ترین

قلم‌چی - ۱۳۹۹

۹۷ به ترتیب عبارات کدام گزینه مبین پاسخ صحیح پرسش‌های زیر است؟

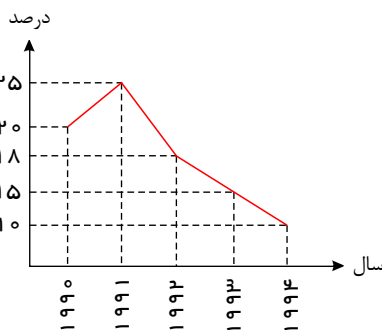
الف) در ادبیات اقتصادی، فقیر مطلق به چه کسی اطلاق می‌شود؟

ب) عبارات کدام گزینه در خصوص شاخص دهک‌ها نادرست است؟

ج) با توجه به نمودار زیر که نشان‌دهندهٔ وضعیت توزیع درآمد (سهم ده درصد ثروتمندترین افراد جامعه به هزینهٔ ده درصد فقیرترین افراد)

کشور فرضی A در سال‌های مختلف است، کدام تفسیر در خصوص وضعیت توزیع درآمد در سال ۱۹۹۱ میلادی در این کشور صحیح است؟

د) چه عواملی می‌تواند انگیزهٔ قدرتمند همکاری و مشارکت عموم افراد جامعه را در فرآیند توسعهٔ اقتصادی ایجاد کند؟



الف) فقیر مطلق کسی است که درآمد او از سطح حداقل معیشتی معین کمتر باشد. ب) برای محاسبهٔ این شاخص، مردم کشور را به ده گروه جمعیتی مساوی تقسیم می‌کنند که در این طبقه‌بندی سطح درآمد از بیشترین به کمترین مدنظر قرار می‌گیرد. ج) ۱۰ درصد ثروتمندان، ۵ برابر ۱۰ درصد فقرا درآمد داشته‌اند. د) برقراری یک سامانه و نظام مناسب و کارآمد مالیاتی

الف) فقیر مطلق کسی است که درآمد او از سطح حداقل معیشتی معین کمتر باشد. ب) هر چه نسبت سهم دهک دهم به دهک اول در کشوری بیشتر باشد، توزیع درآمد در آن جامعه نامناسب‌تر است. ج) ۱۰ درصد ثروتمندان، ۲۰ برابر ۱۰ درصد فقرا درآمد داشته‌اند. د) تامین حداقل رفاه اجتماعی و کاهش نابرابری‌ها

الف) فقیر مطلق کسی است که به نیازهای ابتدایی زندگی دسترسی نداشته باشد. ب) برای محاسبهٔ این شاخص، مردم کشور را به ده گروه جمعیتی مساوی تقسیم می‌کنند که ۱۰ درصد اولیهٔ جمعیت کمترین درآمد ملی و ۱۰ درصد آخر بیشترین درصد درآمد ملی را دارند. ج) ۱۰ درصد ثروتمندان، ۲۵ برابر ۱۰ درصد فقرا درآمد داشته‌اند. د) توانمندسازی افراد و جلوگیری از استخدام نیروی کار غیرماهر

الف) فقیر مطلق کسی است که به نیازهای ابتدایی زندگی دسترسی نداشته باشد. ب) در کشور فرضی A اگر سهم دهک اول در سال ۱۹۹۵ میلادی برابر با ۳ درصد و سهم دهک دهم برابر با ۲۷ درصد باشد، برای داشتن وضعیت مناسب در توزیع درآمدها، در سال بعد سهم دهک اول باید از ۳ درصد کم‌تر شود. ج) ۱۰ درصد ثروتمندان، ۲۵ برابر ۱۰ درصد فقرا درآمد داشته‌اند. د) توزیع عادلانهٔ درآمدها و کاهش فقر





قلم چی - ۱۳۹۹

۹۸ در ارتباط با تحریم اقتصادی کدام گزینه نادرست است؟

۱

کشورهای قدرتمند با اهداف سیاسی از جمله کسب منافع بیشتر، اهداف اقتصادی (براندازی یا اعمال فشار) و یا حتی به‌عنوان ابزار مکمل جنگ نظامی از تحریم اقتصادی استفاده می‌کنند.

۲

تحریم‌های اقتصادی به دو دسته تحریم تجاری (مانع‌تراشی در مقابل صادرات و واردات کالا، خدمات و عوامل تولید مثل سرمایه) و تحریم مالی (مانع‌تراشی در مقابل مبادلات مالی، بانک‌ها و بیمه‌ها) تقسیم می‌شوند.

۳

در گذشته تحریم‌های تجاری بیش از تحریم‌های مالی رایج بود؛ اما امروزه جهانی شدن اقتصاد موجب شده است تا روز به روز از میزان تأثیرگذاری تحریم‌های تجاری کاسته شود.

۴

تحریم موجب می‌شود که کشور تحریم‌شونده با اتکا به نیروهای داخلی به تولید دست بزند و مزیت‌های اقتصادی و رقابتی کسب کند. با اجرای صحیح این سیاست، اقتصاد درون‌زا تحقق می‌یابد.

۹۹ موارد کدام گزینه مبین پاسخ صحیح دو پرسش زیر است؟

قلم چی - ۱۳۹۹

الف) به‌ترتیب، «رفاه اجتماعی» درصدد برآوردن کدام یک از موارد زیر است و در چه صورتی تحقق می‌یابد؟

ب) عبارات کدام گزینه در خصوص فقر نادرست است؟

۱

الف) برخورداری مادی و معنوی از امکانات موجود و کاهش فقر مطلق - مثبت بودن نرخ رشد اقتصادی و افزایش میل نهایی به پس‌انداز در گروه‌های بالای درآمدی،  
ب) تهیدستی یا فقر مطلق به‌معنای نداشتن حداقل معیشت است.

۲

الف) برخورداری از سلامت در جسم و روح افراد جامعه و کاهش نابهنجاری‌های اجتماعی - از بین رفتن فقر و کاهش نابرابری‌ها، ب) هرچه سطح درآمد سرانه در کشوری پایین‌تر باشد، میزان فقر عمومی نسبت به کشوری با درآمد سرانه بالاتر، کم‌تر است.

۳

الف) افزایش پس‌انداز ملی و رشد بیش‌تر اقتصادی - کاهش فقر نسبی و افزایش فاصله دهک‌های درآمدی، ب) هرچه توزیع درآمد در کشوری نسبت به کشور دیگر ناعادلانه‌تر باشد، نرخ فقر در آن کشور کم‌تر است.

۴

الف) برخورداری از سلامت در جسم و روح افراد جامعه و کاهش نابهنجاری‌های اجتماعی - از بین رفتن فقر و کاهش نابرابری‌ها، ب) در هر جامعه، افرادی که درآمد آن‌ها از سطح حداقل معیشتی معین کم‌تر باشد، زیر «خط فقر» قرار دارند.





۱۰۰ به ترتیب عبارات کدام گزینه جاهای خالی زیر را به درستی تکمیل می کند و پاسخ درست پرسش های زیر است؟  
 قلم چی - ۱۳۹۹ الف) در دوران ..... بی کفایتی و عیاشی حکام به اوج رسید و ایران فرصت طلایی خود را برای جبران عقب ماندگی نسبت به اروپا از دست داد.

ب) در ..... حمله افغان و حتی کشور گشایی نادر و دست اندازی به اقتصاد هند اقتصاد ایران را تضعیف و از کانون تحولات دور کرد.

ج) در دوره پهلوی کدام اقدام آخرین لطمه را بر بدنه کشاورزی و اقتصاد روستایی ایران زد؟

د) عبارت کدام گزینه در ارتباط با دوره پهلوی نادرست است؟

۱

الف) سلسله زند، ب) دوره پایانی حکومت صفویه، ج) تعدی حکومت پهلوی بر موقوفات و مالکیت های خصوصی و عمومی، د) اقتصاد ایران به جای اتکا به قدرت های بزرگ بر پایه های بومی و درون زای داخلی و ملی خود متکی شد.

۲

الف) قاجار، ب) دوره پایانی حکومت صفویه، ج) اجرای برنامه موسوم به انقلاب سفید، د) در این دوران در نتیجه کاهش درآمدهای نفتی، قدرت اقتصادی دولت کاهش یافت.

۳

الف) قاجار، ب) نیمه اول حکومت صفویه، ج) واگذاری منابع نفتی و معدنی به بیگانگان، د) در این دوران دولت حضوری گسترده در عرصه اقتصاد کشور داشت و توانست سازمان و تشکیلات خود را نوسازی کند.

۴

الف) صفویه، ب) دوره قاجار، ج) اجرای طرح های عمرانی متعدد با هدف ایجاد توسعه نمایشی، د) در این دوران علاوه بر یکپارچگی سیاسی، اقتصاد یکپارچه و مستقلی شکل گرفت که با سایر لایه های دینی و اجتماعی و فرهنگی کشور هماهنگی تناسب داشت.

۱۰۱ با توجه به اطلاعات مندرج در جدول روبه رو، به ترتیب «از راست به چپ»:

قلم چی - ۱۳۹۹

الف) «تولید کل» به قیمت «جاری» در سال ۱۳۹۲

ب) تولید کل به قیمت «ثابت» در سال ۱۳۹۲ کدام است؟

کالا	سال ۱۳۹۰		سال ۱۳۹۲	
	مقدار	قیمت	مقدار	قیمت
A	۱۵۰	۳۰۰	۷۵	۴۰۰
B	۴۰۰	۶۰	۷۰۰	۱۲۰

۲ الف) ۱۱۴,۰۰۰ ب) ۶۴,۵۰۰

۱ الف) ۱۱۴,۰۰۰ ب) ۶۵,۴۰۰

۴ الف) ۱۴۱,۰۰۰ ب) ۶۵,۴۰۰

۳ الف) ۱۴۱,۰۰۰ ب) ۶۴,۵۰۰

قلم چی - ۱۳۹۷

۱۰۲ تمام عبارات کدام گزینه صحیح است؟

۱

اسلام فقط آخرت انسان را مورد توجه قرار می دهد. / قرآن تأکید می کند که رفع برخی مشکلات انسان در گروهی عمل به آموزه های الهی است. / جامعه ای اسلامی برای حفظ هویت و استقلال سیاسی و اقتصادی خود، باید به رشد و پیشرفت فرهنگی به مثابه یکی از مهمترین ابزارها توجه کند.

۲

قرآن تأکید می کند که رفع همه مشکلات انسان در گروهی عمل به آموزه های الهی است. / از ویژگی های مهم اسلام این است که عبادت را صرفاً به رابطه ی فرد با خدا محدود می کند. / علی رغم وضعیت اقتصادی نابسامان یک کشور، آن کشور به خوبی می تواند با اتکا به فرهنگ ملی خود، مسیر آینده ی خویش را تعیین کند.

۳

از ویژگی های مهم اسلام این است که به همه ی ارتباطات و پیوندهای افراد با یکدیگر رنگ عبادت می زند. اسلام دنیا و آخرت را همراه با هم مدنظر قرار می دهد. / کشوری که وضعیت اقتصادی آن نابسامان باشد، از نظر اجتماعی و سیاسی به بحران های گسترده دچار می شود.

۴

اسلام دنیا و آخرت را همراه با هم مدنظر قرار می دهد. / از نظر اسلام، اقتصاد در زندگی فرد اهمیت ویژه ای دارد. علی رغم وضعیت اقتصادی نابسامان یک کشور، آن کشور به خوبی می تواند با اتکا به فرهنگ ملی خود، مسیر آینده ی خویش را تعیین کند.



۱۰۳ پاسخ درست و کامل پرسش‌های زیر در کدام گزینه مطرح شده است؟

الف) تعریف « ..... » دقیقاً دربرگیرنده سه نکته مهم است که عبارت است از: «نامحدود بودن نیازها»، «کمیابی منابع» و «امکان مصارف متعدد منابع»

قلم چی - ۱۳۹۷

ب) نیازهای انسان محرک او « ..... »

ج) « ..... » راهنمایی انسان برای «بهترین انتخاب» و به‌کارگیری بهترین روش به‌منظور استفاده از منابع و امکانات خویش است.

د) تصمیماتی که انسان در مورد «مسائل اقتصادی» می‌گیرد عمدتاً ریشه در .....

ه) « ..... » همانند کسی که در راه خدا جهاد می‌کند، شایسته تقدیر است.

۱

الف) علم اقتصاد، ب) برای فعالیت و تلاش است. ج) هدف علم اقتصاد، د) نیازها و خواسته‌های نامحدود او دارد. ه) فردی که برای ارتقاء سطح زندگی خانواده‌اش می‌کوشد.

۲

الف) اندیشه اقتصادی، ب) برای فعالیت و تلاش است. ج) موضوع علم اقتصاد، د) نیازهای مادی و معنوی او دارد. ه) آن که عبادت و راز و نیازش با خدا وی را از دل بستن به دنیا و اسیر شدن به مادیات رهاییده است.

۳

الف) علم اقتصاد، ب) برای تحمل مشکلات و نارسایی‌های زندگی است. ج) تعریف علم اقتصاد، د) نیازهای مادی او دارد. ه) فردی که برای ارتقاء سطح زندگی خانواده‌اش می‌کوشد.

۴

الف) مکاتب اقتصادی، ب) برای برآورده شدن پاره‌ای از نیازها و احساس رضایت از زندگی است. ج) هدف علم اقتصاد، د) نیازها و خواسته‌های نامحدود او دارد. ه) آن که عبادت و راز و نیازش با خدا وی را از دل بستن به دنیا و اسیر شدن به مادیات رهاییده است.

قلم چی - ۱۳۹۷

۱۰۴ کدام گزینه در ارتباط با مازاد عرضه نادرست است؟

۱) در وضعیت مازاد عرضه، چون گروهی از تولیدکنندگان موفق نمی‌شوند کالایشان را بفروشند، حاضر خواهند بود آن را با قیمتی کم‌تر به فروش برسانند.


۲) در سطوح قیمت بالاتر از قیمت تعادلی به دلیل گران بودن کالا، تولیدکنندگان که به به‌دنبال کسب سود بیشترند به تولید بیش‌تر می‌پردازند.

۳

در حالت وجود مازاد عرضه، قیمت کاهش می‌یابد. این کاهش قیمت تا سطحی ادامه می‌یابد که در آن فاصله عرضه و تقاضا از بین برود و در بازار تعادل برقرار شود.

۴

در حالت مازاد عرضه چون گروهی از مصرف‌کنندگان به خرید کالای مورد نیاز خود موفق نخواهند شد، حاضرند مبلغ بیش‌تری بپردازند و این امر سبب افزایش قیمت کالا می‌شود.

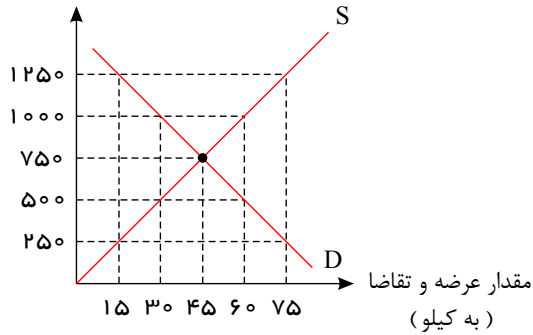




۱۰۵ با توجه به نمودار عرضه و تقاضای یک کالای خاص در بازار که در نمودار زیر نمایش داده شده است:

قلم چی - ۱۳۹۷

قیمت ( به ریال )



الف) منحنی تقاضا و عرضه به ترتیب کدام است و هر یک در کدام وضعیت هستند؟

ب) قیمت تعادلی چند ریال است و در این سطح قیمت، حداکثر چند کیلو کالا توسط تولیدکنندگان عرضه می‌شود؟

ج) در سطوح قیمت بالاتر از قیمت تعادلی، بازار با چه وضعیتی مواجه است و تغییر قیمت‌ها در چه جهتی خواهد بود؟

د) در سطح قیمت ۲۵۰ ریال بازار، در چه وضعیتی قرار دارد؟

۱ الف)  $S - D$  - صعودی - نزولی، ب)  $750 - 30$ ، ج) مازاد تقاضا - کاهش، د) کمبود عرضه‌ای معادل ۶۰ کیلو

۲ الف)  $D - S$  - نزولی - صعودی، ب)  $500 - 30$ ، ج) کمبود عرضه - افزایش، د) کمبود عرضه‌ای معادل ۱۵ کیلو

۳ الف)  $S - D$  - نزولی - صعودی، ب)  $750 - 45$ ، ج) مازاد عرضه - کاهش، د) کمبود عرضه‌ای معادل ۶۰ کیلو

۴ الف)  $S - D$  - نزولی - صعودی، ب)  $750 - 45$ ، ج) کمبود عرضه - کاهش، د) مازاد عرضه‌ای معادل ۶۰ کیلو

قلم چی - ۱۳۹۷

۱۰۶ چند مورد از عبارتهای زیر نادرست است؟

الف) در سطوح قیمت پایین‌تر از قیمت تعادلی در بازار با مازاد تقاضا مواجه می‌شویم.

ب) اگر در بازار قیمت کالایی در حال کاهش باشد می‌گوییم به دلیل کمبود عرضه، قیمت به سطح قیمت تعادلی پیش می‌رود.

ج) در کشور ما شرکت پخش و پالایش فرآورده‌های نفتی تنها فروشنده محصولات نفتی است اما تنها خریدار آن نیست.

د) عاملی که هماهنگی بین رفتار اقتصادی مصرف‌کنندگان و تولیدکنندگان را ایجاد و عرضه و تقاضا را مساوی هم می‌کند، قیمت کالاست.


ه) نزولی بودن منحنی تقاضا به این معناست که با افزایش قیمت یک کالا، مقدار تقاضای آن کاهش می‌یابد و در مقابل با کاهش قیمت، مقدار تقاضا افزایش می‌یابد.

۴ چهار

۳ سه

۲ دو

۱ یک





۱۰۷ جدول زیر، «تقاضا، عرضه و قیمت» مربوط به یک کالای خاص در یک جامعه‌ی فرضی است:

قلم چی - ۱۳۹۷

الف) کدام ردیف‌های جدول به ترتیب بیانگر «مازاد عرضه» و «کمبود عرضه» است؟

ب) در قیمت ۲۲۵۰ ریال حداکثر دریافتی عرضه‌کنندگان چند ریال است؟

ردیف	عرضه (به کیلو)	قیمت (به ریال)	تقاضا (به کیلو)
۱	۱۲۵	۱۰۰۰	۶۷۵
۲	۲۱۰	۱۲۵۰	۵۱۰
۳	۲۶۵	۱۵۰۰	۴۳۰
۴	۳۷۵	۱۷۵۰	۳۷۵
۵	۴۳۰	۲۰۰۰	۲۶۵
۶	۵۱۰	۲۲۵۰	۲۱۰
۷	۶۷۵	۲۵۰۰	۱۲۵

الف) ردیف ۲ و ردیف ۶، ب) ۱, ۱۴۷, ۵۰۰

الف) ردیف ۵ و ردیف ۱، ب) ۱, ۱۴۷, ۵۰۰

الف) ردیف ۷ و ردیف ۳، ب) ۴۷۲, ۵۰۰

الف) ردیف ۴ و ردیف ۱، ب) ۴۷۲, ۵۰۰

۱۰۸ در جامعه‌ای فرضی در مدت یک سال کالاها و خدمات زیر تولید شده است. چنانچه جمعیت این کشور ۸ میلیون نفر و هزینه‌ی

قلم چی - ۱۳۹۷

استهلاک  $\frac{1}{3}$  ارزش پوشاک باشد:

الف) تولید خالص داخلی چند میلیون ریال است؟

ب) تولید خالص داخلی سرانه در این کشور کدام است؟

۱	مواد غذایی	۴۰ میلیون ریال
۲	پوشاک	۲۰ میلیون ریال
۳	ماشین آلات	۲ میلیارد ریال
۴	لوازم التحریر	۱۰ میلیون ریال
۵	خدمات ارائه شده	$\frac{1}{5}$ ارزش مواد غذایی

الف) ۲۸۵، ب) ۲۰۶۸، الف) ۲۰۷۲، ب) ۲۵۸،۵ الف) ۲۰۶۸، ب) ۲۵۸،۵ الف) ۲۰۷۲، ب) ۲۵۸،۵ الف) ۲۰۷۲، ب) ۲۵۸،۵

۱۰۹ جدول زیر مبین ارقام مختلف درآمدی مربوط به یک سال اعضای یک جامعه فرضی بوده و جمعیت کل این جامعه ۱۰ میلیون نفر

قلم چی - ۱۳۹۷

می‌باشد، درآمد ملی و درآمد سرانه در این جامعه به ترتیب چند تومان است؟

۱	دستمزدها	۱۶۰,۰۰۰,۰۰۰ تومان
۲	قیمت خدمات سرمایه	۴۰۰,۰۰۰,۰۰۰ تومان
۳	درآمد صاحبان املاک	۲۰۰,۰۰۰,۰۰۰ تومان
۴	سود شرکتها و مؤسسات	۱۰۰,۰۰۰,۰۰۰ تومان
۵	درآمد صاحبان مشاغل آزاد	۴۰۰,۰۰۰,۰۰۰ تومان

الف) ۱۱۰ - ۱, ۱۱۰,۰۰۰,۰۰۰ الف) ۱۲۶ - ۱, ۲۶۰,۰۰۰,۰۰۰ الف) ۱۲۹ - ۱, ۲۹۰,۰۰۰,۰۰۰ الف) ۱۱۶ - ۱, ۳۶۰,۰۰۰,۰۰۰



۱۱۰ در صورتی که هزینه‌های مستقیم یک تولیدکننده در طول یکسال برابر با ۴۰,۰۰۰,۰۰۰ ریال و هزینه‌های غیرمستقیم آن برابر با ۱۸,۰۰۰,۰۰۰ ریال باشد و درآمدی بالغ بر ۸۰,۰۰۰,۰۰۰ ریال در طول یک سال کسب کرده باشد، به ترتیب: قلم چی - ۱۳۹۷

الف) سود حسابداری و سود اقتصادی این تولیدکننده چند میلیون ریال است؟  
 ب) کدام توضیح بیانگر هزینه‌های مستقیم تولید می‌باشد؟  
 ج) اقتصاددانان کدام هزینه‌ها را «هزینه‌های فرصت» می‌نامند؟

۱ الف) ۴۰-۲۲، ب) مبالغی که تولیدکنندگان برای تولید صرف می‌کنند. ج) هزینه‌های غیرمستقیم

۲ الف) ۴۲-۲۰، ب) مبالغی که تولیدکنندگان برای عرضه صرف می‌کنند. ج) هزینه‌های مستقیم

۳ الف) ۴۰-۲۲، ب) مبالغی که تولیدکنندگان برای جابه‌جایی مواد اولیه صرف می‌کنند. ج) هزینه‌های غیرمستقیم

۴ الف) ۴۲-۲۲، ب) مبالغی که تولیدکنندگان برای تولید صرف می‌کنند. ج) هزینه‌های غیرمستقیم

۱۱۱ میانگین قیمت کالاها و خدمات قرار داده شده در «سبد خانوار یک جامعه فرضی» در ابتدای سال ۲۰۰۳ میلادی مبلغ ۵۰,۰۰۰ دلار برآورده شده است. چنانچه به فرض، میانگین قیمت همین کالاها و خدمات در پایان سال ۲۰۰۳، مبلغ ۶۵,۰۰۰ دلار باشد. در این صورت «نرخ تورم» در سال ۲۰۰۳ میلادی چند درصد است؟ قلم چی - ۱۳۹۷

۳۰ ۴

۱۵ ۳

۲۰ ۲

۲۵ ۱

۱۱۲ کدام گزینه مبین پاسخ صحیح پرسش‌های زیر است؟ قلم چی - ۱۳۹۷

الف) چرا دولت‌ها، چاپ و انتشار اسکناس را برعهده گرفتند؟  
 ب) «بانک تخصصی» چه نوع بانکی است؟  
 ج) قدرت خرید پول در جامعه به چه موردی بستگی دارد و این رابطه چگونه است؟

۱ الف) بی‌مبالاتی و یا سوء استفاده برخی از صرافان و سخت بودن آشنایی و اعتبار سنجی انواع رسیده‌ها و صرافی‌ها توسط مردم، ب) بانکی است که به همه مردم خدمت ارائه نمی‌کند و فقط به فعالان عرصه خاصی از اقتصاد خدمت ارائه می‌کند، ج) سطح تولید در جامعه - رابطه مستقیم

۲ الف) نقل و انتقال اسکناس دشوار بود و بشر به دنبال آسانی بیشتر مبادلات بود، ب) نقش آسان‌سازی مبادلات و دادن وام‌های اعتباری را برعهده دارد، ج) سطح عمومی قیمت‌ها - معکوس

۳ الف) بی‌مبالاتی و یا سوء استفاده برخی از صرافان و سخت بودن آشنایی و اعتبار سنجی انواع رسیده‌ها و صرافی‌ها توسط مردم، ب) بانکی است که به همه مردم خدمت ارائه نمی‌کند و فقط به فعالان عرصه خاصی از اقتصاد خدمت ارائه می‌کند، ج) سطح عمومی قیمت‌ها - معکوس

۴ الف) نقل و انتقال اسکناس دشوار بود و بشر به دنبال آسانی بیشتر مبادلات بود، ب) نقش آسان‌سازی مبادلات و دادن وام‌های اعتباری را برعهده دارد، ج) سطح تولید در جامعه - رابطه مستقیم

۱۱۳ اگر در یک کشور فرضی، به ترتیب موجودی سپرده‌های دیداری و غیردیداری افراد نزد بانک‌ها معادل ۱۲۰ و ۲۸۰ هزار میلیارد ریال باشد و با فرض اینکه مجموع سپرده‌های مدت‌دار اشخاص معادل  $\frac{2}{5}$  مجموع سپرده‌های دیداری و غیردیداری آنان باشد، مجموع سپرده‌های پس‌انداز افراد چقدر است؟ قلم چی - ۱۳۹۷

۱۱۲ هزار میلیارد ریال ۴

۱۶۰ هزار میلیارد ریال ۳

۱۶۸ هزار میلیارد ریال ۲

۱۲۰ هزار میلیارد ریال ۱



۱۱۴) باتوجه به مطالب زیر، کدام گزینه مبین پاسخ صحیح پرسش‌های زیر است؟

در سال‌های گذشته کسی که یک میلیون تومان پول داشت، می‌توانست با آن یک دستگاه کاشانه بخرد یا با ۵۰,۰۰۰ تومان می‌شد یک دستگاه اتومبیل خرید، اما در حال حاضر با ده میلیون تومان حداکثر بتوان یک دستگاه اتومبیل دست دوم خرید.

قلم چی - ۱۳۹۷

الف) چه زمانی قدرت خرید پول دستخوش تغییر می‌شود؟

ب) چرا پول نتوانسته است قدرت خریدش را حفظ کند؟

ج) قدرت خرید پول در جامعه به چه موردی بستگی دارد و رابطه آن‌ها چگونه است؟

د) چرا تورم یکی از مشکلات اقتصادی است؟

۱

الف) زمانی که یک واحد پول نتواند در طول زمان ارزش خود را حفظ کند. ب) زیرا نتوانسته است ارزش خود را حفظ کند. ج) سطح عمومی قیمت‌ها معکوس، د) زیرا باعث کاهش رفاه خانواده‌ها و ضرر پس‌اندازکنندگان می‌شود و قدرت خرید آنان را می‌کاهد.

۲

الف) زمانی که ارزش یک واحد پول متناسب با رونق و شکوفایی اقتصادی افزایش نداشته است. ب) زیرا عرضه و تقاضای کل در جامعه با یکدیگر نابرابر هستند. ج) نقدینگی - مستقیم، د) زیرا باعث کاهش رفاه خانواده‌ها و ضرر پس‌اندازکنندگان می‌شود و قدرت خرید آنان را می‌کاهد.

۳

الف) زمانی که یک واحد پول نتواند در طول زمان ارزش خود را حفظ کند. ب) زیرا نتوانسته است ارزش خود را حفظ کند. ج) نقدینگی - مستقیم، د) زیرا سطح عمومی قیمت‌ها کاهش یافته و این باعث به وجود آمدن رکود در جامعه می‌شود.

۴

الف) زمانی که ارزش یک واحد پول متناسب با رونق و شکوفایی اقتصادی افزایش نداشته است. ب) زیرا عرضه و تقاضای کل در جامعه با یکدیگر نابرابر هستند. ج) سطح عمومی قیمت‌ها - معکوس، د) زیرا سطح عمومی قیمت‌ها کاهش یافته و این باعث به وجود آمدن رکود در جامعه می‌شود.

۱۱۵) کدام گزینه پاسخ صحیح پرسش‌های زیر را بیان می‌کند؟

الف) در کدام گزینه به ترتیب در کشور ذکر شده، «شاخص رشد»، «شاخص توسعه» هماهنگ نیست و در کدام کشور این هماهنگی وجود دارد؟ ب) باتوجه به جدول زیر: نرخ امید به زندگی در موزامبیک، تولید ناخالص داخلی سرانه در نروژ، نرخ باسواد بزرگسالان در قلم چی - ۱۳۹۷

موزامبیک به ترتیب از (راست به چپ) کدام است؟

ج) کدام گزینه به ترتیب پاسخ درست شماره ۱ و ۲ جدول زیر است؟

شاخص‌ها	نرخ مرگ و میر امید به زندگی نوزادان	نرخ با سواد بزرگسالان	تولید ناخالص داخلی سرانه (به دلار PPP ثابت سال ۲۰۱۱)
کشورها	در هر نوزاد	(به درصد)	
موزامبیک	۶۱٫۵	?	۱۰۷۰
نروژ	۲٫۳	حدود ۱۰۰	?
۴۳ کشور با توسعه انسانی ضعیف (۱)	-	(۲)	-

۱

الف) چین - موزامبیک، ب) سال - ۱۲۷۵۶۲ دلار - ۵۷٫۱ درصد - ج) ۸۹٫۴ نفر - ۵۰٫۶ درصد

۲

الف) موزامبیک - چین، ب) سال - ۱۲۷۵۶۲ دلار - ۵۷٫۱ درصد - ج) ۶۱٫۵ نفر - ۵۰٫۶ درصد

۳

الف) موزامبیک - چین، ب) سال - ۶۲۴۴۸ دلار - ۵۰٫۶ درصد - ج) ۶۱٫۵ نفر - ۵۷٫۱ درصد

۴

الف) چین - موزامبیک، ب) سال - ۶۲۴۴۸ دلار - ۵۰٫۶ درصد - ج) ۸۹٫۴ نفر - ۵۷٫۱ درصد



۱۱۶ عبارات زیر به ترتیب از نظر صحیح و غلط بودن در چه وضعیتی قرار دارند؟

قلم چی - ۱۳۹۷

(الف) در سال ۲۰۱۵ تولید ناخالص داخلی سرانه در کشور سوئیس بیش از ۷۰۶۷۵ دلار بوده است.

(ب) اقتصاددانان برای مقایسه بهتر کشورها و روند تغییرات آنها تنها به شاخص‌های توسعه توجه دارند.

(ج) الگوهای توسعه به طور معمول به تفاوت‌های بومی و محلی کشورها و همچنین به تاریخ، فرهنگ، باورها و ارزش‌های اجتماعی آنها توجه لازم را ندارند.

(د) مواردی چون دسترسی به ارتباطات و فناوری اطلاعات، مالکیت، وضعیت فساد و مبارزه با آن و ... در شاخص توسعه انسانی مورد توجه متخصصان قرار می‌گیرد.

(ه) تفاوت و شکاف عمیق بین کشورهای در حال توسعه و توسعه‌یافته به هیچ‌وجه به سطح درآمد سرانه محدود نمی‌شود و تقریباً در تمامی شاخص‌های توسعه (البته با درجات متفاوت) وجود دارد.

۱ - غ - غ - ص - غ - ص    ۲ - ص - غ - ص - ص    ۳ - غ - ص - ص - غ    ۴ - غ - ص - غ - غ - ص

۱۱۷ اعمال سیاست‌هایی به منظور بهبود وضع نامطلوب زندگی، روحیه امید و اطمینان نسبت به آینده را در مردم تقویت می‌کند و انسجام و

همکاری بیشتر در اجرای برنامه‌های ... پدید می‌آورد. هرگونه سرمایه‌گذاری در زمینه آموزش و تأمین اقتصادی - اجتماعی انسان به افزایش

بهره‌وری نیروی کار و در پی آن .... منجر می‌شود. کاهش فقر و ... می‌تواند انگیزه همکاری و مشارکت عموم افراد جامعه را در فرایند توسعه

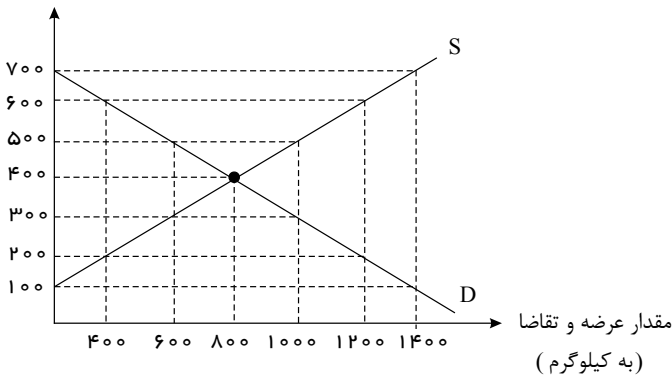
قلم چی - ۱۳۹۷

سالم اقتصادی ایجاد کند.

۱ - رشد و توسعه - افزایش منابع ملی - توانمندسازی افراد    ۲ - توسعه - افزایش درآمد ملی - توزیع عادلانه درآمدها

۳ - رشد و توسعه - افزایش منابع ملی - توزیع عادلانه درآمدها    ۴ - توسعه - افزایش درآمد ملی - توانمندسازی افراد

قیمت (به ریال)



۱۱۸ باتوجه به نمودار زیر: قلم چی - ۱۳۹۷

(الف) در قیمت ۵۰۰ ریال، بازار در چه وضعیتی قرار دارد؟

(ب) قیمت و مقدار تعادلی به ترتیب کدام است؟

و خریداران عمده کالا و خدمات برای به دست آوردن کالا و

خدمات مورد نیاز خود ..... برگزار می‌کنند.

۱ -

(الف) مازاد عرضه‌ای به میزان ۵۰۰ کیلوگرم، (ب) ۳۰۰ ریال، ۶۰۰ کیلوگرم - مناقصه

۲ - (الف) مازاد عرضه‌ای به میزان ۴۰۰ کیلوگرم، (ب) ۴۰۰ ریال، ۸۰۰ کیلوگرم - مناقصه

۳ - (الف) مازاد عرضه‌ای به میزان ۵۰۰ کیلوگرم، (ب) ۳۰۰ ریال، ۶۰۰ کیلوگرم - مزایده

۴ - (الف) مازاد عرضه‌ای به میزان ۴۰۰ کیلوگرم، (ب) ۴۰۰ ریال، ۸۰۰ کیلوگرم - مزایده





۱۱۹ در کشوری کالاهای زیر در مدت یک سال توسط افراد کشور که در داخل کشور ساکن هستند، تولید شده است. باتوجه به ارزش کالاهای مذکور و سایر داده‌ها به ترتیب:

الف) تولید خالص داخلی (ب) تولید ناخالص داخلی  
ج) تولید خالص ملی چند میلیارد دلار است؟

قلم چی - ۱۳۹۷

ارزش ماشین‌آلات	۹۶ میلیارد دلار
ارزش مواد غذایی	۶۰ میلیارد دلار
ارزش خدمات ارائه شده	$\frac{1}{4}$ ارزش ماشین‌آلات
ارزش تولید خارجی‌ان مقیم کشور	۲۰ میلیارد
ارزش تولید افراد کشور که در خارج ساکن هستند	۱۰ میلیارد دلار
هزینه استهلاك	$\frac{1}{3}$ ارزش مواد غذایی
ارزش کالاهای واسطه‌ای به کار رفته در تولید ماشین‌آلات	۲۵ میلیارد دلار

۱ الف) ۱۸۰ (ب) ۲۰۰ (ج) ۱۸۵

۲ الف) ۲۰۰ (ب) ۱۸۰ (ج) ۱۷۰

۳ الف) ۱۸۰ (ب) ۲۰۰ (ج) ۱۷۰

۴ الف) ۲۰۵ (ب) ۲۲۵ (ج) ۱۸۵

۱۲۰ جدول زیر نرخ‌های مالیاتی را برای طبقات مختلف درآمدی نشان می‌دهد. میزان مالیات ماهانه پرداختی و مانده خالص سالانه شخصی که

قلم چی - ۱۳۹۷

در ماه ۷۰,۰۰۰ ریال درآمد دارد، به ترتیب چند ریال است؟ (نرخ مالیاتی مورد محاسبه نرخ تصاعدی طبقه‌ای است.)

طبقات درآمد	نرخ مالیات
۷۱۴,۰۰۰ - ۱۰,۵۰۰	درآمدهای تا ۴۰۰۰۰ ریال
۶۲,۵۰۰ - ۷,۵۰۰	معاف از پرداخت مالیات
۷۰۰,۰۰۰ - ۱۰,۵۰۰	با نرخ ۱۰ درصد
۷۵۰,۰۰۰ - ۷,۵۰۰	با نرخ ۱۵ درصد
	با نرخ ۲۰ درصد

۱

۲

۳

۴

۱۲۱ باتوجه به منحنی‌های عرضه و تقاضای یک کالای خاص در بازار، کدام گزینه مبین پاسخ صحیح پرسش‌های زیر است؟

الف) عرضه‌کنندگان در قیمت ۴۰۰ ریال، چند کیلو کالا قلم چی - ۱۳۹۷

تولید می‌کنند و چه مازاد یا کمبودی در بازار وجود دارد و کدام عامل

باعث پیش‌روی بازار این کالا به سوی تعادل می‌شود؟

ب) به ترتیب مقدار «قیمت تعادلی»، «تقاضای تعادلی» و «عرضه

تعادلی» کدام است؟

ج) اگر کالای مورد نظر یک کالای ضروری باشد، آن‌گاه کشش قیمتی

تقاضا چگونه خواهد بود؟

۱

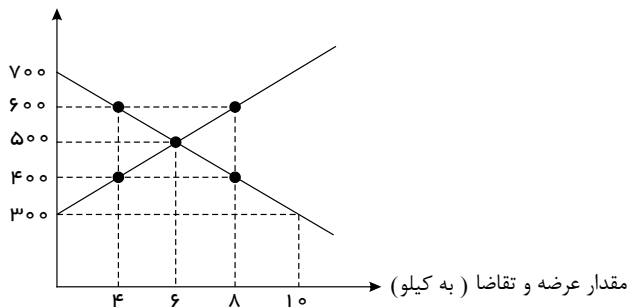
الف) ۸ کیلو - مازاد عرضه‌ای معادل ۴ کیلو - کاهش قیمت، (ب) ۵۰۰ ریال - ۶ کیلو - ۶ کیلو، (ج) زیاد

۲ الف) ۴ کیلو - کمبود عرضه‌ای معادل ۴ کیلو - افزایش قیمت، (ب) ۶۰۰ ریال - ۲ کیلو - ۸ کیلو، (ج) کم

۳ الف) ۴ کیلو - کمبود عرضه‌ای معادل ۴ کیلو - افزایش قیمت، (ب) ۵۰۰ ریال - ۶ کیلو - ۶ کیلو، (ج) کم

۴ الف) ۸ کیلو - مازاد عرضه‌ای معادل ۴ کیلو - کاهش قیمت، (ب) ۶۰۰ ریال - ۲ کیلو - ۸ کیلو، (ج) زیاد

قیمت (به ریال)





قلم چی - ۱۳۹۷

۱۲۲ به ترتیب هر کدام از عبارات زیر، به کدام اصل قانون اساسی اشاره دارد؟

- هر منطقه، فراخور نیازها و استعداد رشد خود، باید سرمایه و امکانات لازم را در دسترس داشته باشد.  
- مالکیت شخصی که از راه مشروع باشد محترم است.

- فعالیت‌های اقتصادی و غیر آن، که با آلودگی محیط زیست یا تخریب غیر قابل جبران آن ملازمه پیدا کند، ممنوع است.  
- هیچ کس نمی‌تواند به عنوان مالکیت نسبت به کسب و کار خود امکان کسب و کار را از دیگری سلب کند.

اصل ۴۵ - اصل ۴۶ - اصل ۴۷ - اصل ۴۹

اصل ۴۷ - اصل ۴۸ - اصل ۵۰ - اصل ۴۶

اصل ۴۸ - اصل ۴۷ - اصل ۵۰ - اصل ۴۶

اصل ۴۸ - اصل ۴۷ - اصل ۵۰ - اصل ۴۹

قلم چی - ۱۳۹۷

۱۲۳ چند مورد از عبارات زیر نادرست است؟

(الف) در اغلب کشورهای توسعه یافته، پیشرفت‌ها به بهای تخریب شدید محیط زیست بوده است.

(ب) پنج اصل ۵۱ تا ۵۵ قانون اساسی به مباحث مالی دولت شامل دریافت‌ها و درآمدهای دولت، بحث بودجه و نهادهای تصویب کننده و ناظر بر حسن اجرای آن تأکید دارد.

(ج) پس از جنگ هشت ساله با عراق سعی شد تا دولت به نقش و وظایف اصلی خود باز گردد و مشارکت بخش‌های خصوصی و مردمی را در اقتصاد کشور افزایش دهد.

(د) دولتی شدن بیش از حد اقتصاد ایران در اواخر دهه شصت و با دولتی شدن بازرگانی بین‌المللی شکل گرفت.

سه ۴

صفر ۳

دو ۲

یک ۱

قلم چی - ۱۳۹۷

۱۲۴ کدام گزینه در خصوص مباحث اقتصاد بین‌الملل نادرست است؟

۱

کالاها و خدماتی که تولید آن‌ها بدون توجه به میزان سود، هزینه و بازار و ... انجام می‌شود «محصولات راهبردی» نام دارند، مانند محصولات کشاورزی و صنایع دفاعی و نظامی

۲


در فضای رقابتی، فقط کسانی برنده‌اند که ضمن شناسایی و افزایش توانمندی‌های تولیدی خود (مزیت نسبی)، فرصت‌های بین‌المللی را نیز به خوبی بشناسند و با هوشمندی و کوشش فراوان و افزایش همکاری‌های دو جانبه بین‌المللی از آن‌ها بهره‌مند شوند.

۳

«احیای مزیت‌های بالقوه» (مانند محصولات کشاورزی جدید و پرمحصول یا صنایع جدید دریایی) و «خلق مزیت‌های اقتصادی جدید» به ویژه در عرصه خدمات، علم و فناوری و صنایع فرهنگی (تمام محصولات نرم) می‌تواند کشورها را از مسیر عقب‌ماندگی قبلی برهاند.

۴

مزیت داشتن یا نداشتن، مفهومی ایستا و دائمی است. به عبارت دیگر اگر کشوری به دلیل محدودیت‌های طبیعی، مزیت اقتصادی نداشته باشد به این معنی است که نمی‌تواند به مزیت دست یابد.





۱۲۵ جدول زیر بیانگر وضعیت توزیع درآمدها در کشور فرضی A در سال ۱۹۰۰ میلادی بر اساس شاخص دهک‌ها است. اگر تفاوت سهم دهک‌های پنجم و ششم ۲ درصد و تفاوت سهم دهک‌های دوم و هفتم ۹ درصد باشد، در این صورت:  
وضعیت توزیع درآمد در کشور A در سال ۱۹۰۰ میلادی

وضعیت توزیع درآمد در کشور A در سال ۱۹۰۰ میلادی	
سهم دهک اول	۲ درصد
سهم دهک دوم	۳ درصد
سهم دهک سوم	۷ درصد
سهم دهک چهارم	۷ درصد
سهم دهک پنجم	؟
سهم دهک ششم	۱۱ درصد
سهم دهک هفتم	؟
سهم دهک هشتم	۱۴ درصد
سهم دهک نهم	۱۷ درصد
سهم دهک دهم	؟
۱۰۰ درصد جمعیت کشور	۱۰۰ درصد درآمد ملی

الف) سهم دهک‌های پنجم، هفتم و دهم چند درصد است؟

ب) اگر مجموع جمعیت افراد دهک‌های سوم تا ششم ۲۸ میلیون نفر باشد، جمعیت کل کشور چند میلیون نفر است؟

ج) اگر درآمد ملی معادل ۴۲۰۰۰ میلیارد دلار باشد، به ترتیب سهم دهک‌های اول و هشتم چند میلیارد دلار است؟

- ۱ الف) ۸٪ - ۱۳٪ - ۲۰٪ (ب) ۱۱۲، ۵۸۸، ۴۴۰ (ج) ۸۸۸، ۴۴۰ (الف) ۸٪ - ۱۳٪ - ۲۰٪ (ب) ۱۱۲، ۵۸۸، ۴۴۰ (ج) ۸۸۸، ۴۴۰
- ۲ الف) ۸٪ - ۱۳٪ - ۲۰٪ (ب) ۱۱۲، ۵۸۸، ۴۴۰ (ج) ۸۸۸، ۴۴۰ (الف) ۸٪ - ۱۳٪ - ۲۰٪ (ب) ۱۱۲، ۵۸۸، ۴۴۰ (ج) ۸۸۸، ۴۴۰
- ۳ الف) ۹٪ - ۱۲٪ - ۱۸٪ (ب) ۱۱۲، ۵۸۸، ۴۴۰ (ج) ۸۸۸، ۴۴۰ (الف) ۹٪ - ۱۲٪ - ۱۸٪ (ب) ۱۱۲، ۵۸۸، ۴۴۰ (ج) ۸۸۸، ۴۴۰
- ۴ الف) ۹٪ - ۱۲٪ - ۱۸٪ (ب) ۱۱۲، ۵۸۸، ۴۴۰ (ج) ۸۸۸، ۴۴۰ (الف) ۹٪ - ۱۲٪ - ۱۸٪ (ب) ۱۱۲، ۵۸۸، ۴۴۰ (ج) ۸۸۸، ۴۴۰

۱۲۶ عبارات زیر به کدام اصل قانون اساسی جمهوری اسلامی ایران اشاره دارند؟

الف) نظام اقتصاد جمهوری اسلامی ایران بر پایه سه بخش دولتی، تعاونی و خصوصی با برنامه‌ریزی منظم و صحیح استوار است. قلم چی - ۱۳۹۷  
ب) تأکید بر افزایش تولیدات کشاورزی، دامی و صنعتی که نیازهای عمومی را تأمین کند و کشور را به مرحله خودکفایی برساند و از وابستگی برهاند.

ج) دولت موظف است ثروت‌های ناشی از ربا، غصب و سایر موارد غیرمشروع را گرفته و به صاحب حق رد کند و در صورت معلوم نبودن او به بیت‌المال بدهد.

د) در بهره‌برداری از منابع طبیعی و استفاده از درآمدهای ملی در سطح استان‌ها و توزیع فعالیت‌های اقتصادی میان استان‌ها و مناطق مختلف کشور، باید تبعیض در کار نباشد.

ه) در جمهوری اسلامی حفاظت محیط زیست که نسل امروز و نسل‌های بعد باید در آن حیات اجتماعی رو به رشدی داشته باشند، وظیفه عمومی تلقی می‌گردد.

و) انفال و ثروت‌های عمومی در اختیار حکومت اسلامی است تا بر طبق مصالح عامه نسبت به آن‌ها عمل نماید.

- ۱ ۴۸ - ۵۰ - ۴۹ - ۴۷ - ۴۴ - ۴۳ (الف) ۴۸ - ۵۰ - ۴۹ - ۴۷ - ۴۴ - ۴۳ (الف) ۴۸ - ۵۰ - ۴۹ - ۴۷ - ۴۴ - ۴۳
- ۲ ۴۵ - ۴۷ - ۴۸ - ۴۹ - ۴۴ - ۴۳ (الف) ۴۵ - ۴۷ - ۴۸ - ۴۹ - ۴۴ - ۴۳ (الف) ۴۵ - ۴۷ - ۴۸ - ۴۹ - ۴۴ - ۴۳
- ۳ ۴۵ - ۴۸ - ۴۹ - ۴۷ - ۴۴ - ۴۳ (الف) ۴۵ - ۴۸ - ۴۹ - ۴۷ - ۴۴ - ۴۳ (الف) ۴۵ - ۴۸ - ۴۹ - ۴۷ - ۴۴ - ۴۳
- ۴ ۴۸ - ۵۰ - ۴۹ - ۴۷ - ۴۴ - ۴۳ (الف) ۴۸ - ۵۰ - ۴۹ - ۴۷ - ۴۴ - ۴۳ (الف) ۴۸ - ۵۰ - ۴۹ - ۴۷ - ۴۴ - ۴۳



قلم چی - ۱۳۹۷

۱۲۷ در ارتباط با سال‌های اول بعد از پیروزی انقلاب کدام گزینه نادرست است؟

- ۱ به دنبال اعلام قانون ملی شدن بعضی از فعالیت‌های اقتصادی، ادارهٔ تعداد قابل توجهی از کارخانه‌ها مؤسسات تولیدی - تجاری به دولت سپرده شد.
- ۲ با آغاز جنگ تحمیلی علیه ایران وضعیتی پدید آمد که دولت به ناچار و ناخواسته در عرصهٔ اقتصادی کشور حضور یافت.
- ۳ دولت با هدف جلوگیری از کنترل بحران‌ها و نابسامانی‌های اقتصادی و اجتماعی به فعالیت در عرصهٔ اقتصاد پرداخت.
- ۴ نوسازی و توسعهٔ ایران در این زمان به صورتی ظاهری و سطحی و با صنایع مونتاژ انجام می‌شد.

۱۲۸ با توجه به جدول مالیاتی زیر به ترتیب میزان مالیات سالانه و ماندهٔ خالص ماهانهٔ فردی که در ماه ۳۰ میلیون ریال درآمد دارد کدام است؟ (نرخ مالیاتی مورد محاسبهٔ نرخ تصاعدی است.)

قلم چی - ۱۳۹۷

میزان درآمد	نرخ مالیاتی
درآمدهای تا ۱۰ میلیون ریال در ماه	معاف از پرداخت مالیات
درآمدهای تا ۲۰ میلیون ریال در ماه	با نرخ ۱۰ درصد
درآمدهای تا ۳۰ میلیون ریال در ماه	با نرخ ۱۵ درصد
درآمدهای تا و بیش‌تر از ۴۰ میلیون ریال در ماه	با نرخ ۲۰ درصد

- ۱ ۵۴۰۰۰۰۰۰ ریال - ۳۰۶۰۰۰۰۰۰ ریال
- ۲ ۴۵۰۰۰۰۰۰ ریال - ۳۰۶۰۰۰۰۰۰ ریال
- ۳ ۵۴۰۰۰۰۰۰ ریال - ۲۵۵۰۰۰۰۰۰ ریال
- ۴ ۴۵۰۰۰۰۰۰ ریال - ۲۵۵۰۰۰۰۰۰ ریال

۱۲۹ با توجه به اطلاعات جدول زیر:

قلم چی - ۱۳۹۸

تعداد محصول تولید شده و فروخته شده در طول یک سال	۲۰۰۰
ارزش هریک از محصولات فروخته شده	۱۰۰,۰۰۰ ریال
هزینهٔ خرید مواد اولیهٔ مورد نیاز سالانه	۲۰,۰۰۰ ریال
تعداد کارمندان استخدام شده	۴
حقوق متوسط ماهانهٔ هر فرد	۳۰,۰۰۰ ریال
ارزشمندی سالانهٔ ابزار تولید در صورت اجاره دادن	۳۲۰,۰۰۰ ریال
ارزشمندی سالانهٔ کارگاه تولید در صورت اجاره دادن	۲۰۰,۰۰۰ ریال

الف) به ترتیب سود حسابداری و سود ویژهٔ سالانهٔ تولیدکننده چند ریال است؟  
ب) در تکمیل فرم اظهارنامهٔ مالیاتی، این تولیدکننده کدام مبلغ را باید درج کند؟ (تولیدکننده خود صاحب ابزار تولید و کارگاه است.)

- ۱ الف) ۱۹۸,۴۵۰,۰۰۰ - ۱۹۸,۰۰۰,۰۰۰ (ب) ۱۹۸,۰۰۰,۰۰۰ ریال
- ۲ الف) ۱۹۸,۴۵۰,۰۰۰ - ۱۹۸,۴۵۰,۰۰۰ (ب) ۱۹۸,۴۵۰,۰۰۰ ریال
- ۳ الف) ۱۹۸,۵۴۰,۰۰۰ - ۱۹۸,۰۲۰,۰۰۰ (ب) ۱۹۸,۰۲۰,۰۰۰ ریال
- ۴ الف) ۱۹۸,۵۴۰,۰۰۰ - ۱۹۸,۰۲۰,۰۰۰ (ب) ۱۹۸,۵۴۰,۰۰۰ ریال

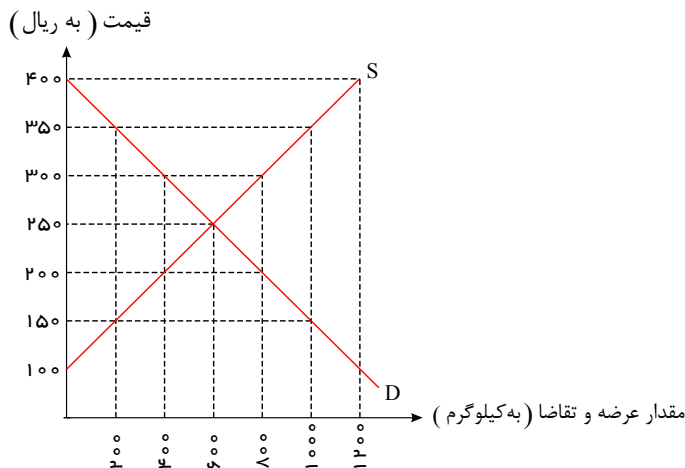
قلم چی - ۱۳۹۸

۱۳۰ کدام گزینه دربارهٔ وضعیت کمبود و مازاد عرضه در بازار نادرست است؟

- ۱ در حالت کمبود عرضه، قیمت زیاد می‌شود. این افزایش قیمت تا سطحی ادامه می‌یابد که در آن، فاصلهٔ عرضه و تقاضا از بین می‌رود.
- ۲ در وضعیت مازاد عرضه، چون گروهی از تولیدکنندگان موفق می‌شوند کالایشان را بفروشند بنابراین حاضر خواهند بود کالای بیشتری عرضه کنند.
- ۳ در حالت مازاد عرضه، قیمت کاهش می‌یابد. این کاهش قیمت تا سطحی ادامه پیدا می‌کند که در آن، فاصلهٔ عرضه و تقاضا از بین برود و در بازار تعادل برقرار شود.
- ۴ هرگاه در بازار، قیمت در سطح قیمت تعادلی نباشد، عواملی آن را به سمت قیمت تعادلی می‌کشاند، مشروط بر این که عوامل بیرونی مثل قیمت گذاری دولت مانع این تعدیل نشود.



۱۳۱ با توجه به نمودار عرضه و تقاضای زیر که بیانگر وضعیت بازار در یک کالای خاص است، پاسخ هریک از عبارات زیر به ترتیب در کدام گزینه آمده است؟  
قلم چی - ۱۳۹۸



الف) در قیمت ۳۵۰ ریال حداکثر درآمد تولیدکننده چند ریال خواهد بود؟

ب) در قیمت ۲۰۰ ریال با چه وضعیتی در بازار روبرو هستیم؟

ج) در کدام قیمت در بازار حداکثر دریافتی عرضه کنندگان با

حداکثر پرداختی تقاضاکنندگان یکسان است؟

د) افزایش قیمت در بازار نوعی از کالا در کدام حالت رخ می دهد؟

۲ - ۷۰,۰۰۰ - مازاد تقاضا - ۲۵۰ - مازاد عرضه

۱ - ۳۵۰,۰۰۰ - کمبود عرضه - ۶۰۰ - کمبود عرضه

۴ - ۳۵۰,۰۰۰ - مازاد تقاضا - ۶۰۰ - کمبود تقاضا

۳ - ۷۰,۰۰۰ - کمبود عرضه - ۲۵۰ - کمبود عرضه

۱۳۲ یک کارخانه تولید کاشی دستگاهی برای خط تولید خود به قیمت ۴۵ میلیارد ریال خریداری می کند با توجه به عمر مفید ۳۰ ساله این دستگاه:  
قلم چی - ۱۳۹۸

الف) هزینه استهلاک سالیانه این دستگاه چقدر است؟

ب) اگر در شش سال آخر عمر مفید این دستگاه قیمت آن ۱۸ درصد افزایش پیدا کند و این قیمت تا پایان عمر مفید آن ثابت بماند، هزینه استهلاک ۵ سال اخیر این دستگاه و قیمت جدید آن به ترتیب کدام است؟

۱ - الف) ۱,۵۰۰,۰۰۰,۰۰۰ (ب) ۸,۸۵۰,۰۰۰,۰۰۰ - ۵۳,۱۰۰,۰۰۰,۰۰۰

۲ - الف) ۱,۵۰۰,۰۰۰,۰۰۰ (ب) ۸,۷۵۰,۰۰۰,۰۰۰ - ۵۳,۱۰۰,۰۰۰,۰۰۰

۳ - الف) ۲,۵۰۰,۰۰۰,۰۰۰ (ب) ۸,۸۵۰,۰۰۰,۰۰۰ - ۵۵,۱۰۰,۰۰۰,۰۰۰

۴ - الف) ۲,۵۰۰,۰۰۰,۰۰۰ (ب) ۸,۷۵۰,۰۰۰,۰۰۰ - ۵۵,۱۰۰,۰۰۰,۰۰۰

۱۳۳ در جدول زیر سطح عمومی قیمت ها در ابتدا و انتهای یک سال مشخص برای سه کشور فرضی A، B و C آورده شده است. اگر نرخ تورم در هر سه کشور یکسان باشد:  
قلم چی - ۱۳۹۸

کشورها	سطح عمومی قیمت ها در ابتدای سال	سطح عمومی قیمت ها در انتهای سال
A	۵۰	۷۰
B	۸۰	?
C	?	۱۴۰

الف) سطح عمومی قیمت ها در انتهای سال برای کشور B کدام است؟

ب) سطح عمومی قیمت ها در ابتدای سال برای کشور C کدام است؟

ج) نرخ تورم در این کشور ها چند درصد است؟

۱ - الف) ۱۰۰ (ب) ۱۰۰ (ج) ۳۰ (الف) ۱۱۰ (ب) ۷۰ (ج) ۳۰

۳ - الف) ۱۱۲ (ب) ۱۰۰ (ج) ۴۰ (الف) ۱۱۲ (ب) ۷۰ (ج) ۴۰



قلم چی - ۱۳۹۸

۱۳۴۴ پاسخ صحیح پرسش‌های زیر به ترتیب در کدام گزینه آمده است؟  
 الف) کدام عملکرد و فعالیت در رابطه با بانک ملی صحیح است؟  
 ب) بانک توسعه صادرات کدام وظیفه را برعهده دارد؟  
 ج) کدام مورد از فعالیت‌های مختلف بانک‌ها محسوب می‌شود؟  
 د) کدام بانک می‌تواند شرکت‌ها و واحدهای تولیدی تأسیس کند؟

۱

الف) واسطه و وکیل سپرده‌گذاران برای سرمایه‌گذاری و مشارکت در زمینه تولید است. ب) این بانک فقط به فعالان عرصه خاصی از اقتصاد ارائه خدمات می‌کند. ج) انجام دادن وظیفه قیومت، د) بانک توسعه‌ای

۲

الف) بانک تجاری است که صرفاً نقش آسان‌سازی مبادلات را دارد. ب) این بانک فقط به فعالان عرصه خاصی از اقتصاد ارائه خدمات می‌کند، نه به همه مردم، ج) نگهداری سهام و اوراق بهادار و اشیای قیمتی مشتریان، د) بانک سرمایه‌گذاری

۳

الف) به فعالیت برای توسعه مناطق محروم و تأمین مالی طرح‌های عمرانی می‌پردازد. ب) نقش آسان‌سازی مبادلات را دارد. ج) خرید و فروش سهام در بورس اوراق بهادار، د) بانک توسعه صادرات

۴

الف) حاکم پولی و اعتباری کشور است. ب) به فعالان عرصه خاصی از اقتصاد ارائه خدمت می‌کند، نه به همه مردم، ج) خرید و فروش ارز، د) بانک مرکزی

قلم چی - ۱۳۹۸

۱۳۵ فعالیت‌های بازار سرمایه به ترتیب چگونه منجر به موارد زیر می‌شود؟

الف) کاهش نرخ تورم

ب) تنظیم معاملات بازار سرمایه

ج) جلوگیری از نوسان شدید قیمت‌ها

د) افزایش حجم سرمایه‌گذاری در جامعه

۱

الف) با تشویق مردم به پس‌انداز و به کارگیری پس‌اندازها در فعالیت‌های مفید اقتصادی، ب) از طریق جذب و به کار انداختن سرمایه‌های راکد، ج) با برقراری ارتباط بین عرضه‌کنندگان و تقاضاکنندگان سرمایه، د) با بررسی و شفاف‌سازی اطلاعات مالی شرکت‌ها و قیمت‌گذاری سهام و اوراق بهادار

۲

الف) از طریق جذب و به کار انداختن سرمایه‌های راکد، ب) با بررسی و شفاف‌سازی اطلاعات مالی شرکت‌ها و قیمت‌گذاری سهام و اوراق بهادار، ج) با برقراری ارتباط بین عرضه‌کنندگان و تقاضاکنندگان سرمایه، د) با تشویق مردم به پس‌انداز و به کارگیری پس‌اندازها در فعالیت‌های مفید اقتصادی

۳

الف) با تشویق مردم به پس‌انداز و به کارگیری پس‌اندازها در فعالیت‌های مفید اقتصادی، ب) با برقراری ارتباط بین عرضه‌کنندگان و تقاضاکنندگان سرمایه، ج) با بررسی و شفاف‌سازی اطلاعات مالی شرکت‌ها و قیمت‌گذاری سهام و اوراق بهادار، د) از طریق جذب و به کار انداختن سرمایه‌های راکد

۴

الف) از طریق جذب و به کار انداختن سرمایه‌های راکد، ب) با بررسی و شفاف‌سازی اطلاعات مالی شرکت‌ها و قیمت‌گذاری سهام و اوراق بهادار، ج) با تشویق مردم به پس‌انداز و به کارگیری پس‌اندازها در فعالیت‌های مفید اقتصادی، د) با برقراری ارتباط بین عرضه‌کنندگان و تقاضاکنندگان سرمایه

قلم چی - ۱۳۹۸

۱۳۶ هر یک از فعالیت‌های زیر، از سوی بازار سرمایه به ترتیب چه آثار و نتایجی در اقتصاد جامعه به دنبال دارد؟

الف) تشویق کردن مردم به پس‌انداز و به کارگیری پس‌اندازها در فعالیت‌های مفید اقتصادی

ب) برقراری ارتباط بین عرضه‌کنندگان و تقاضاکنندگان سرمایه

ج) بررسی و شفاف‌سازی اطلاعات مالی شرکت‌ها و قیمت‌گذاری سهام و اوراق بهادار

الف) تا حدودی از نوسان شدید قیمت‌ها جلوگیری می‌کند. ب) حجم سرمایه‌گذاری در جامعه را افزایش می‌دهد. ج) در کاهش نرخ تورم مؤثر است.

الف) در کاهش نرخ تورم مؤثر است. ب) معاملات بازار سرمایه را تنظیم می‌کند. ج) تا حدودی از نوسان شدید قیمت‌ها جلوگیری می‌کند.

الف) در کاهش نرخ تورم مؤثر است. ب) حجم سرمایه‌گذاری در جامعه را افزایش می‌دهد. ج) تا حدودی از نوسان شدید قیمت‌ها جلوگیری می‌کند.

الف) تا حدودی از نوسان شدید قیمت‌ها جلوگیری می‌کند. ب) معاملات بازار سرمایه را تنظیم می‌کند. ج) حجم سرمایه‌گذاری در جامعه را افزایش می‌دهد.



قلم چی - ۱۳۹۸

۱۳۷ کدام گزینه به ترتیب تکمیل کننده جاهای خالی عبارات زیر است؟

- الف) بورس با ..... معاملات بازار سرمایه را تنظیم می کند.  
 ب) بورس از طریق جذب و به کار انداختن سرمایه های راکد، .....  
 پ) اولین کاری که در بورس برای سرمایه گذاری باید انجام داد، ..... است.  
 ت) افراد باید ..... خود را به بورس بیاورند و به بورس نگاه ..... نکنند.  
 ث) بورس با ..... تا حدودی از نوسان شدید قیمت ها جلوگیری می کند.

۱

الف) بررسی و شفاف سازی اطلاعات مالی شرکت ها، ب) در کاهش نرخ تورم مؤثر است. پ) تقاضای برگه درخواست خرید، ت) همه سرمایه ها - بلندمدت، ث) با تشویق مردم به پس انداز و به کارگیری پس اندازها در فعالیت های مفید اقتصادی

۲

الف) ایجاد ارتباط بین عرضه کنندگان و تقاضاکنندگان سرمایه، ب) حجم سرمایه گذاری را در جامعه افزایش می دهد. پ) گرفتن شناسه معاملاتی، ت) سرمایه های مازاد - کوتاه مدت، ث) با بررسی و شفاف سازی اطلاعات مالی شرکت ها و قیمت گذاری سهام و اوراق بهادار

۳

الف) بررسی و شفاف سازی اطلاعات مالی شرکت ها، ب) حجم سرمایه گذاری را در جامعه افزایش می دهد. پ) تقاضای برگه درخواست خرید، ت) سرمایه های مازاد - بلندمدت، ث) با بررسی و شفاف سازی اطلاعات مالی شرکت ها و قیمت گذاری سهام و اوراق بهادار

۴

الف) ایجاد ارتباط بین عرضه کنندگان و تقاضاکنندگان سرمایه، ب) در کاهش نرخ تورم مؤثر است. پ) گرفتن شناسه معاملاتی، ت) همه سرمایه های - کوتاه مدت، ث) با تشویق مردم به پس انداز و به کارگیری پس اندازها در فعالیت های مفید اقتصادی

قلم چی - ۱۳۹۸

۱۳۸ پاسخ درست پرسش های زیر به ترتیب در کدام گزینه آمده است؟

- الف) کدام یک از اسناد اعتباری همانند پول نقد در معاملات مختلف مورد استفاده قرار می گیرد؟  
 ب) اسناد اعتباری بلندمدت توسط کدام سازمان ها یا نهادها منتشر می شود؟  
 پ) کدام عامل سبب شد که شبه پول در اقتصاد شکل بگیرد؟  
 ت) مهم ترین مشکل پول فلزی چه بود؟

ث) به ترتیب در گذشته در روسیه و هندوستان کدام کالاها خواهان بیش تری داشت و به عنوان اولین پول مورد استفاده قرار گرفتند؟

۱

الف) چک، ب) مؤسسات خصوصی - بانک مرکزی، پ) افزایش حجم و سرعت مبادلات پولی، ت) اشغال فضای زیاد، ث) صدف - پوست سمور

۲


الف) سفته، ب) بانک مرکزی - دولت، پ) ایجاد چک و استقبال مردم از آن، ت) اشغال فضای زیاد، ث) صدف - پوست سمور

۳

الف) پول تحریری، ب) دولت - مؤسسات خصوصی، پ) ایجاد چک و استقبال مردم از آن، ت) محدود بودن میزان طلا و نقره در دسترس بشر، ث) پوست سمور - صدف

۴

الف) اوراق مشارکت، ب) مؤسسات دولتی - مؤسسات خصوصی، پ) افزایش حجم و سرعت مبادلات پولی، ت) محدود بودن میزان طلا و نقره در دسترس بشر، ث) پوست سمور - صدف





قلم چی - ۱۳۹۸

۱۳۹ کدام عبارت‌ها به ترتیب درست هستند؟

الف) انحصارگر «قیمت گذار است»، و خریداران در بازار انحصاری قیمت پذیرند.  
 ب) شرکت پخش و پالایش فرآورده‌های نفتی در کشور ما انحصارگر در خرید و فروش محصولات نفتی است.  
 ج) فروشندگان آثار هنری در نمایشگاه‌ها و حراجی‌ها، مناقصه و خریداران عمده کالا و خدمات (مثل خریدهای دولتی) مزایده برگزار می‌کنند.  
 د) کالاهای مصرفی در طول زمان بادوام است و خدمات آن‌ها در جریان تولید مورد استفاده قرار می‌گیرد و تولیدکننده با آن‌ها ارزش افزوده ایجاد می‌کند.  
 ه) انسان نسبت به سایر عوامل تولید از اهمیت خاصی برخوردار است و به‌عنوان برترین عامل تولید به‌شمار می‌رود؛ زیرا وظیفه ترکیب سایر عوامل تولید را نیز برعهده دارد.

۴ الف، ب، د

۳ الف، ب، ه

۲ ب، ج، ه

۱ الف، د، ه

قلم چی - ۱۳۹۸

۱۴۰ در کدام گزینه موارد اول و دوم درست ولی مورد سوم نادرست است؟

۱ سطح پایین توسعه در کشور موزامبیک با سطح پایین رشد در این کشور هماهنگی دارد. - نرخ مرگ‌ومیر نوزادان در کشور موزامبیک ۶۱٫۵ در هر هزار تولد است. - حدود  $\frac{1}{5}$  جمعیت ۷٫۵ میلیارد نفری کره زمین در کشورهای توسعه یافته زندگی می‌کنند.

۲

متوسط نرخ باسوادی بزرگسالان در ۴۳ کشور با توسعه انسانی ضعیف ۵۷٫۱ درصد است. - درآمد سرانه سالانه در بیش از ۵۰ کشور در حال توسعه فقیر از ۴۰۰۰۰ دلار بیش تر است. -  $\frac{4}{5}$  جمعیت ۷٫۵ میلیارد نفری کره زمین در کشورهای در حال توسعه و توسعه نیافته زندگی می‌کنند.

۳

امروزه یکی از معیارهای رایج برای طبقه بندی کشورهای مختلف دنیا، طبقه بندی براساس سطح توسعه یافتگی است. - در کشور قطر با جمعیتی حدود ۹۱۰ هزار نفر، تولید ناخالص داخلی سرانه سالانه به قیمت‌های سال ۲۰۱۱ حدود ۱۲۷۵۶۲ دلار PPP است. - تولید ناخالص داخلی سرانه به دلار PPP ثابت سال ۲۰۱۱ در کشور نروژ ۵۹۴۴۸ است.

۴

امید به زندگی در کشور موزامبیک ۷۵ سال است. - نرخ باسوادی بزرگسالان در کشور ایران ۸۴٫۳ درصد است. متوسط نرخ مرگ‌ومیر نوزادان در ۴۹ کشور با توسعه انسانی زیاد، ۶ در هر هزار تولد است.

۱۴۱ اگر سالانه در یک بنگاه تولیدی ۸۰۰ قطعه دستگاه تهویه هوا تولید شده باشد و ۱۲ پرسنل مشغول به کار باشند و همچنین ماشین آلات

بنگاه برای خود صاحب بنگاه باشد، به ترتیب میزان سود سالانه حسابداری و سود ویژه آن با توجه به موارد ذیل چند تومان خواهد قلم چی - ۱۳۹۸ بود؟

۱- اجاره ماهانه بنگاه ۴۰۰,۰۰۰ تومان

۲- حقوق ماهانه هر پرسنل ۳۵۰,۰۰۰ تومان

۳- هزینه استهلاک  $\frac{2}{3}$  اجاره سالانه بنگاه

۴- قیمت فروش هر قطعه ۴,۰۰۰,۰۰۰ تومان

۵- ارزش مندی سالانه ماشین آلات بنگاه در صورت اجاره داده شدن ۴,۵۰۰,۰۰۰ تومان

۲ ۳,۱۴۱,۶۰۰,۰۰۰ - ۳,۱۳۷,۱۰۰,۰۰۰

۱ ۳,۱۴۱,۶۰۰,۰۰۰ - ۳,۱۷۳,۱۰۰,۰۰۰

۴ ۳,۱۷۳,۱۰۰,۰۰۰ - ۳,۱۴۱,۶۰۰,۰۰۰

۳ ۳,۱۳۷,۱۰۰,۰۰۰ - ۳,۱۴۱,۶۰۰,۰۰۰





۱۴۲- فردی زمینی در اختیار دارد و نمی‌داند در این زمین به کاشت چه محصولی مبادرت کند. وی فهرستی از محصولات و منافع حاصل از فروش هر کدام فراهم کرده است. با توجه به جدول زیر:

قلم چی - ۱۳۹۸

نام محصول	مقدار محصول (به کیلو)	منافع حاصل از فروش هر کیلو محصول (به تومان)
۱ چغندر	۱۰۰	۱۰۰۰
۲ سیب زمینی	۱۲۰	۱۳۰۰
۳ پیاز	۸۰	۲۰۰۰
۴ کلم	۹۵	۱۷۵۰
۵ کاهو	۱۱۵	۲۱۰۰

الف) انتخاب وی کدام محصول خواهد بود؟  
ب) هزینه فرصت انتخاب او کدام است؟

- ۱ الف) کاهو (ب) ۱۶۶, ۲۵۰ تومان منفعت حاصل از کشت کلم  
۲ الف) کلم (ب) ۱۶۶, ۲۵۰ تومان منفعت حاصل از کشت کاهو  
۳ الف) کاهو (ب) ۱۶۶, ۲۵۰ تومان منفعت حاصل از کشت سیب زمینی  
۴ الف) کلم (ب) ۱۶۰, ۰۰۰ تومان منفعت حاصل از کشت سیب زمینی

۱۴۳- کدام گزینه مبین پاسخ صحیح پرسش‌های زیر است؟

قلم چی - ۱۳۹۸

الف) فعالیت‌های بازار سرمایه چگونه در کاهش نرخ تورم مؤثر است؟  
ب) اولین کاری که برای سرمایه‌گذاری در بورس باید انجام داد، چیست؟  
ج) بازار سرمایه با برقراری ارتباط بین عرضه‌کنندگان و تقاضاکنندگان سرمایه، چه اثری بر روی اقتصاد جامعه می‌گذارد؟


- ۱ الف) با بررسی و شفاف‌سازی اطلاعات مالی شرکت‌ها و قیمت‌گذاری سهام و اوراق بهادار، (ب) تقاضای برگه درخواست سهام، (ج) معاملات بازار سرمایه را تنظیم می‌کند.  
۲ الف) با بررسی و شفاف‌سازی اطلاعات مالی شرکت‌ها و قیمت‌گذاری سهام و اوراق بهادار، (ب) تقاضای برگه درخواست سهام، (ج) حجم سرمایه‌گذاری را در جامعه افزایش می‌دهد.  
۳ الف) با تشویق مردم به پس‌انداز و به‌کارگیری پس‌اندازها در فعالیت‌های مفید اقتصادی، (ب) گرفتن شناسه معاملاتی، (ج) معاملات بازار سرمایه را تنظیم می‌کند.  
۴ الف) با تشویق مردم به پس‌انداز و به‌کارگیری پس‌اندازها در فعالیت‌های مفید اقتصادی، (ب) گرفتن شناسه معاملاتی، (ج) حجم سرمایه‌گذاری را در جامعه افزایش می‌دهد.

۱۴۴- صحیح یا غلط بودن عبارت‌های زیر در کدام گزینه به ترتیب آمده است؟

قلم چی - ۱۳۹۸

الف) فقر یا تهیدستی مطلق به معنای نداشتن حداقل معیشت است.  
ب) رفاه اجتماعی با کاهش نابهنجاری‌های اجتماعی و ارتقای توانمندی‌ها تحقق می‌یابد.  
پ) سطح حداقل معیشت از یک کشور به کشور دیگر یا از یک زمان به زمان دیگر متفاوت است و این امر منعکس‌کننده تفاوت در موقعیت اجتماعی افراد کشورها است.  
ت) فقیر در ادبیات اقتصادی وضعی بدتر از مسکین دارد.  
ث) معمولاً با در نظر گرفتن دو شاخص درآمد سرانه و میزان نابرابری در توزیع درآمد، می‌توان تصویری از وسعت و اندازه فقر در هر کشور به دست آورد.

- ۱ ص - غ - ص - غ  
۲ ص - غ - ص - غ  
۳ غ - ص - غ - ص  
۴ ص - غ - غ - ص





قلم چی - ۱۳۹۸

۱۴۵ کدام گزینه صحیح نیست؟

- ۱ اقتصاددانان در موقعیت‌های مختلف در تقسیم بهینه نقش‌ها، وظایف و تقسیم کار ملی بین دولت و دیگر بخش‌ها تلاش می‌کنند.
- ۲ مجلس شورای اسلامی برای ریل‌گذاری فعالیت‌های اقتصادی، طرح‌های قانونی را به دولت ارائه می‌کند.
- ۳ زمان و شرایط معیارهای مؤثر در خصوص دخالت دولت در اقتصاد هستند؛ برای مثال در زمان جنگ یا حالت رکود، دولت‌ها معمولاً نقش پررنگ‌تری را ایفا می‌کنند.
- ۴ توجه به زیرساخت‌ها و سرمایه‌گذاری در مناطق محروم کشور از جمله سیاست‌های توسعه‌ای دولت به شمار می‌رود.

۱۴۶ عبارات کدام گزینه مبین پاسخ صحیح پرسش‌های زیر است و جاهای خالی زیر را به درستی تکمیل می‌کند؟

قلم چی - ۱۳۹۸

الف) دوران سازندگی اقتصادی پس از پیروزی انقلاب اسلامی در چه زمانی شکل گرفت و چه نتایجی به بار آورد؟  
 ب) در سند چشم‌انداز ۲۰ ساله جمهوری اسلامی ایران، وضعیت اقتصادی کشور در افق سال ..... و ..... اشاره کرد.  
 پ) به ترتیب کدام گزینه از ویژگی‌های اقتصادی کشور در دهه چهارم و سوم انقلاب اسلامی است؟

۱

الف) دهه سوم انقلاب - جذب سرمایه‌گذاری‌های خارجی و افزایش کارایی در چارچوب سیاست‌های اجرایی اصل ۴۴ قانون اساسی، ب) ۱۴۰۴ ه. ش - رسیدن به جایگاه اول اقتصادی در سطح منطقه آسیای جنوب غربی، رسیدن به اشتغال کامل، پ) ایجاد زیرساخت‌های اقتصادی لازم مثل نیروگاه برق - کاهش بروکراسی اداری و رفع نابرابری‌ها

۲

الف) دهه دوم و سوم انقلاب - بهبود تولید ناخالص ملی و درآمد سرانه، ب) ۱۴۰۰ ه. ش - کاهش فاصله دهک‌های بالا و پایین جامعه، رسیدن به جایگاه اول اقتصادی خاورمیانه، پ) واگذاری کارخانه‌ها و شرکت‌های دولتی به بخش خصوصی - ورود به رقابت‌های علمی و فناوری در سطح جهان

۳

الف) دهه سوم انقلاب - جذب سرمایه‌گذاری‌های خارجی و افزایش کارایی در چارچوب سیاست‌های اجرایی اصل ۴۴ قانون اساسی، ب) ۱۴۰۰ ه. ش - کاهش تورم و افزایش اشتغال، رسیدن به جایگاه اول اقتصادی خاورمیانه، پ) ورود به رقابت‌های علمی و فناوری در سطح جهان - ورود به رقابت‌های اقتصادی در سطح منطقه

۴

الف) دهه دوم و سوم انقلاب - بهبود تولید ناخالص ملی و درآمد سرانه، ب) ۱۴۰۴ ه. ش - رسیدن به جایگاه اول اقتصادی در سطح منطقه آسیای جنوب غربی، رسیدن به اشتغال کامل، پ) ورود به رقابت‌های اقتصادی منطقه‌ای - واگذاری کارخانه‌ها و شرکت‌های دولتی به بخش خصوصی

۱۴۷ در کشور فرضی A، اگر سهم دهک اول از درآمد ملی در سال‌های ۲۰۰۱ تا ۲۰۰۳ به ترتیب ۲، ۳ و ۲ درصد و سهم قلم چی - ۱۳۹۸

دهک دهم ۲۶، ۲۷ و ۲۸ درصد باشد:

الف) وضعیت توزیع درآمد در این کشور در کدام سال نامناسب‌تر است؟

ب) با فرض جمعیت ثابت و ۵ میلیون نفره کشور در این سه سال و درآمد ملی ۲۰۰ میلیون دلار در سال ۲۰۰۳، میزان درآمد هریک از افراد دهک اول در سال ۲۰۰۳ چقدر بوده است؟

- ۱ الف) ۲۰۰۱، ۶ دلار      ۲ الف) ۲۰۰۱، ۸ دلار      ۳ الف) ۲۰۰۳، ۸ دلار      ۴ الف) ۲۰۰۳، ۶ دلار

۱۴۸ کدام یک از موارد زیر جزو فعالیت‌های دولت در عرصه اقتصاد در محور عرضه کالاها و خدمات محسوب نمی‌شود؟ قلم چی - ۱۳۹۸

الف) تصفیه و توزیع فرآورده‌های نفتی

ب) صنعت تولید فولاد

ج) ریل‌گذاری فعالیت‌های اقتصادی توسط دولت

د) عهده‌دار شدن بهره‌برداری از همه منابع و معادن

- ۱ الف، ب      ۲ ج، د      ۳ الف، ج      ۴ ب، د



۱۴۹ با توجه به جدول زیر، میزان مالیات ماهانه و ماندهٔ خالص سالانهٔ فردی که در ماه ۲۰ میلیون ریال درآمد دارد، به ترتیب قلم چی-۱۳۹۸ چقدر است؟

درآمد	نرخ مالیاتی
درآمدهای تا ۵ میلیون ریال در ماه	معاف از پرداخت مالیات
درآمدهای تا ۸ میلیون ریال در ماه	با نرخ ۱۰ درصد
درآمدهای تا ۱۰ میلیون ریال در ماه	با نرخ ۱۲ درصد
درآمدهای تا ۱۵ میلیون ریال در ماه	با نرخ ۱۵ درصد
درآمدهای بیش تر از ۱۵ میلیون ریال در ماه	با نرخ ۲۰ درصد

۲ ۶ میلیون ریال - ۱۹۲ میلیون ریال

۱ ۴ میلیون ریال - ۱۸۲ میلیون ریال

۴ ۴ میلیون ریال - ۱۹۲ میلیون ریال

۳ ۶ میلیون ریال - ۱۸۲ میلیون ریال

۱۵۰ وضعیت توزیع درآمد در کشور فرضی  $A$  در یک سال معین، در جدول زیر آورده شده است. اگر تفاوت سهم دهم و ششم ۲ درصد، تفاوت سهم دهم و هفتم ۹ درصد باشد، و هم چنین جمعیت کشور ۵۰ میلیون نفر و درآمد ملی آن ۶۲۵ میلیارد دلار باشد، در این صورت: (به ترتیب از راست به چپ):

وضعیت توزیع درآمد در کشور $A$	
سهم دهم اول	۲ درصد
سهم دهم دوم	۳ درصد
سهم دهم سوم	۷ درصد
سهم دهم چهارم	۷ درصد
سهم دهم پنجم	؟
سهم دهم ششم	۱۱
سهم دهم هفتم	؟
سهم دهم هشتم	۱۴
سهم دهم نهم	۱۷
سهم دهم دهم	؟
۱۰۰٪ جمعیت کشور	۱۰۰٪ درآمد ملی

الف) سهم دهم های پنجم، هفتم و دهم، چند درصد است؟

ب) اگر فرض کنیم، نسبت سهم دهم به دهم اول در کشور  $B$  برابر

با «۷» باشد، وضعیت توزیع درآمد در کدام کشور عادلانه تر است؟

ج) جمعیت دهم ششم چند میلیون نفر است؟


د) سهم دهم هفتم از درآمد ملی چند میلیارد دلار است؟

۲ الف) ۹، ۱۲، ۱۸، ب)  $A$ ، ج) ۵، ۷۵

۱ الف) ۷، ۱۳، ۱۹، ب)  $A$ ، ج) ۷، ۶۵

۴ الف) ۹، ۱۲، ۱۸، ب)  $B$ ، ج) ۵، ۷۵

۳ الف) ۷، ۱۳، ۱۹، ب)  $B$ ، ج) ۷، ۶۵





۱۵۱ عبارات کدام گزینه مبین پاسخ درست پرسش‌های زیر است؟

قلم چی - ۱۳۹۸

(الف) در مواقع تحریم چگونه اقتصاد درون‌زا تحقق می‌یابد؟

(ب) عبارت «صادرات محصولات با ارزش افزوده بالا به کشورهای متعدد در سراسر جهان، با اولویت کشورهای همسایه و شرکای تجاری به مقاوم سازی اقتصاد کشور می‌انجامد.» به کدام یک از مؤلفه‌های اقتصاد مقاومتی اشاره دارد؟

(ج) عبارت کدام گزینه از عوامل دولتی شدن بیش از حد اقتصاد ایران در پایان حکومت پهلوی است؟

(د) به ترتیب عبارات کدام گزینه در ارتباط با اصول ۴۳ و ۴۶ قانون اساسی است؟

(ه) به ترتیب «شکل‌گیری اقتصادی یکپارچه و مستقل» و «جدا شدن اقتصاد ایران از ابعاد هویتی، فرهنگی، اجتماعی، تاریخی و دینی خود» از ویژگی‌های کدام دوره از اقتصاد ایران است؟

(و) «پیدایش صنعت بخار، حمل‌ونقل ریلی و هوانوردی» در ارتباط با کدام یک از عواملی است که مانع رشد و توسعه تجارت بین‌الملل به شکل امروزی می‌شد؟

۱

(الف) قطع وابستگی به قدرت‌های بزرگ و دوری از وضعیت تک‌محصولی، (ب) درون‌زایی، (ج) افزایش درآمدهای نفتی، (د) نظام اقتصاد جمهوری اسلامی ایران بر پایه سه بخش دولتی، تعاونی و خصوصی با برنامه‌ریزی منظم و صحیح استوار است. - هرکس مالک حاصل کسب و کار مشروع خویش است. (ه) دوره پایانی حکومت صفویه - دوره قاجار، (و) هزینه‌های تجارت

۲


(الف) اقدام به تولید، با اتکا به نیروهای داخلی و کسب مزیت‌های اقتصادی و رقابتی به‌طور صحیح، (ب) برون‌گرایی و گسترش ارتباطات، (ج) افزایش درآمدهای نفتی، (د) جلوگیری از سلطه اقتصادی بیگانه بر اقتصاد کشور - هرکس مالک حاصل کسب‌وکار مشروع خویش است. (ه) نیمه اول حکومت صفویه - دوره پهلوی، (و) هزینه‌های تجارت

۳

(الف) اقدام به تولید، با اتکا به نیروهای داخلی و کسب مزیت‌های اقتصادی و رقابتی به‌طور صحیح، (ب) درون‌زایی، (ج) اعلام قانون ملی شدن بعضی از فعالیت‌های اقتصادی، (د) رسیدن به مرحله خودکفایی و رهایی از وابستگی - مالکیت شخصی که از راه مشروع باشد محترم است، (ه) نیمه اول حکومت صفویه - دوره پهلوی، (و) موانع قانونی، نامنی و ضعف دولت‌ها

۴

(الف) قطع وابستگی به قدرت‌های بزرگ و دوری از وضعیت تک‌محصولی، (ب) برون‌گرایی و گسترش ارتباطات، (ج) اعلام قانون ملی شدن بعضی از فعالیت‌های اقتصادی، (د) رسیدن به مرحله خودکفایی و رهایی از وابستگی - مالکیت شخصی که از راه مشروع باشد محترم است، (ه) دوره پایانی حکومت صفویه - دوره قاجار، (و) موانع قانونی، نامنی و ضعف دولت‌ها





۱۵۲ وضعیت توزیع درآمد در کشور فرضی  $A$  در یک سال معین، در جدول زیر آورده شده است. اگر تفاوت سهم دهک پنجم و ششم ۲ درصد، تفاوت سهم دهک دوم و هفتم ۹ درصد باشد، و هم‌چنین جمعیت کشور ۵۰ میلیون نفر و درآمد ملی آن ۶۲۵ میلیارد دلار باشد، در این صورت تک (به ترتیب از راست به چپ):

الف) سهم دهک‌های پنجم، هفتم و دهم، چند درصد است؟

ب) اگر فرض کنیم نسبت سهم دهک دوم به دهک اول در کشور  $B$  برابر با «۷» باشد، وضعیت توزیع درآمد در کدام کشور عادلانه‌تر است؟  
ج) جمعیت دهک ششم چند میلیون نفر است؟

د) سهم دهک هفتم از درآمد ملی چند میلیارد دلار است؟

وضعیت توزیع درآمد در کشور $A$	
سهم دهک اول	۲ درصد
سهم دهک دوم	۳ درصد
سهم دهک سوم	۷ درصد
سهم دهک چهارم	۷ درصد
سهم دهک پنجم	؟
سهم دهک ششم	۱۱
سهم دهک هفتم	؟
سهم دهک هشتم	۱۴
سهم دهک نهم	۱۷
سهم دهک دهم	؟
۱۰۰٪ جمعیت کشور	۱۰۰٪ درآمد ملی

۱ الف) (الف ۷، ۱۲، ۱۷ ب)  $A$  (ج ۵، ۷ د) ۶۵

۲ الف) (الف ۹، ۱۲، ۱۸ ب)  $A$  (ج ۵، ۷ د) ۷۵

۳ الف) (الف ۷، ۱۱، ۱۷ ب)  $B$  (ج ۵، ۷ د) ۶۵

۴ الف) (الف ۹، ۱۲، ۱۸ ب)  $B$  (ج ۵، ۷ د) ۷۵

قلم چی - ۱۳۹۸

۱۵۳ کدام گزینه نادرست است؟

۱ اقتصاددانان در موقعیت‌های مختلف در تقسیم بهینه نقش‌ها، وظایف و تقسیم کار ملی بین دولت و دیگر بخش‌ها تلاش می‌کنند.

۲ دولت‌ها برای مدیریت کلان اقتصاد کشور و اجرای وظایف خود بسته به سیاست‌های مالی، را اجرا می‌کنند که از دو ابزار درآمدها و مخارج دولت تشکیل شده است.

۳ در حالت رکود اقتصادی، بانک مرکزی با سیاست پولی انقباضی می‌تواند برای کوتاه‌مدت مشکل اقتصاد کشور را حل کند.

۴ دولت با سیاست‌هایی نظیر افزایش بهره‌وری و امنیت اقتصادی، بهبود محیط کسب و کار و برنامه‌ریزی در جهت به‌کارگیری فناوری‌های نوین، فعالیت‌های بخش تولید و عرضه را بهبود می‌بخشد.



۱۵۴ چند مورد از عبارات زیر صحیح است؟

الف) از عوامل اصلی تعیین کننده مخارج دولت، میزان درآمد آن است.  
ب) آنچه ماهیت درآمد و عایدی دارد، در چارچوب قوانین و مقررات، توسط دستگاه‌های مشخص، دریافت و به حساب‌های تعیین شده نزد خزانه داری کل واریز می‌شود.

ج) در طبقه بندی مالیات‌ها، مالیات بر ارزش افزوده نوعی مالیات مستقیم بر مصرف کالاها و خدمات است.  
د) در نرخ ثابت مالیاتی، میزان مالیات پرداختی افراد متناسب با تغییر در درآمد یا دارایی آن‌ها کم و زیاد نمی‌شود.  
ه) بودجه برنامه کوتاه مدت یک ساله است که در آن منابع درآمدی و مخارج برنامه‌ای پیش بینی شده است.

۱ (۱) ۲ (۲) ۳ (۳) ۴ (۴)

۱۵۵ به ترتیب هریک از رویدادهای «شکل‌گیری تغییر و تحول سریع در اروپا - اعطای امتیاز به کشورهای استعماری و عهدنامه‌های ننگین -

شکل‌گیری نظام نوینی در مالیات‌گیری» مربوط به کدام دوره از تقسیم‌بندی اقتصادی ایران است؟

قلم‌چی - ۱۳۹۸

۱ (۱) سال‌های قبل از ۱۳۰۰ - سال‌های قبل از ۱۳۰۰ - ۱۳۰۰ تا ۱۳۵۷

۲ (۲) سال‌های قبل از ۱۳۰۰ - سال‌های قبل از ۱۳۰۰ - ۱۳۰۰ تا ۱۳۵۷

۳ (۳) ۱۳۰۰ تا ۱۳۵۷ - سال‌های قبل از ۱۳۰۰ - سال‌های قبل از ۱۳۰۰

۴ (۴) پس از پیروزی انقلاب - ۱۳۰۰ تا ۱۳۵۷ - ۱۳۰۰ تا ۱۳۵۷

۱۵۶ هریک از عبارات زیر به کدام اصل قانون اساسی اشاره دارد؟

قلم‌چی - ۱۳۹۸

۱ - هرکس مالک حاصل کسب و کار مشروع خویش است.

۲ - دولت موظف است ثروت‌های ناشی از ربا، سرقت و قمار را به صاحب حق رد کند و در صورت معلوم نبودن او به بیت‌المال بدهد.

۳ - هر منطقه به فراخور نیازها و استعداد رشد خود، باید سرمایه و امکانات لازم را در دسترس داشته باشد.

۱ (۱) اصل ۴۶ - اصل ۴۶ - اصل ۴۸

۲ (۲) اصل ۴۶ - اصل ۴۶ - اصل ۴۸

۳ (۳) اصل ۴۷ - اصل ۴۸ - اصل ۴۹

۴ (۴) اصل ۴۷ - اصل ۴۹ - اصل ۴۶

۱۵۷ هریک از عبارات زیر به کدام دوره از تقسیم‌بندی تاریخی اقتصاد ایران مربوط می‌شود؟

قلم‌چی - ۱۳۹۸

۱ - در این دوران، دولت حضوری گسترده در عرصه اقتصاد کشور داشت و توانست سازمان و تشکیلات خود را نوسازی کند.

۲ - توصیه‌های علما به پادشاهان برای توجه به صنایع و پیشرفت‌های علمی جدید بیانیه‌های حمایت از تولید ملی، متأسفانه در اقتصاد ایران اثربخش نبود.

۳ - در این دوره، دولت با هدف ایجاد توسعه نمایشی به اجرای طرح‌های عمرانی متعدد در کشور پرداخت.

۱ (۱) از ۱۳۰۰ تا ۱۳۵۷ - سال‌های قبل از ۱۳۰۰ - سال‌های قبل از ۱۳۰۰

۲ (۲) از ۱۳۰۰ تا ۱۳۵۷ - سال‌های قبل از ۱۳۰۰ - سال‌های قبل از ۱۳۰۰

۳ (۳) از ۱۳۰۰ تا ۱۳۵۷ - سال‌های قبل از ۱۳۰۰ - سال‌های قبل از ۱۳۰۰

۴ (۴) از ۱۳۰۰ تا ۱۳۵۷ - سال‌های قبل از ۱۳۰۰ - سال‌های قبل از ۱۳۰۰

۱۵۸ مبادلات اتحادیه اروپا یک بازرگانی ..... است که با انتخاب پول واحد، بازرگانی کل اروپا را به صورت بازرگانی .....

در آورده‌اند. اتحادیه ملل جنوب شرق آسیا معروف به آسه آن با ده عضو پس از آمریکا ..... منطقه قدرتمند تجاری در جهان به شمار می‌رود. صندوق بین‌المللی پول (.....) از مهم‌ترین سازمان‌های تأثیرگذار بر اقتصاد کشورها و اقتصاد جهانی به شمار می‌رود. قلم‌چی - ۱۳۹۸

۱ (۱) بین‌المللی - برون مرزی - و ژاپن، سومین - WTO

۲ (۲) منطقه‌ای - داخلی - و ژاپن، سومین - IMF

۳ (۳) منطقه‌ای - داخلی - و ژاپن، سومین - IMF

۴ (۴) بین‌المللی - برون مرزی - و ژاپن و اتحادیه اروپا، چهارمین - WTO



۱۵۹ کدام یک از عبارات زیر صحیح بیان شده‌اند؟

- الف) دولتی شدن بیش از حد اقتصاد ایران در پایان حکومت پهلوی و با افزایش درآمدهای نفتی شکل می‌گیرد. قلم چی - ۱۳۹۸
- ب) در سال‌های اول بعد از پیروزی انقلاب، نقش دولت و حضور آن در اقتصاد کاهش یافت.
- ج) پس از شروع جنگ، دولت ناخواسته در عرصه اقتصادی کشور حضور یافت و با هدف جلوگیری از نابسامانی‌های اقتصادی و اجتماعی به فعالیت در این عرصه پرداخت.
- د) فصل پنجم قانون اساسی جمهوری اسلامی ایران که شامل اصول چهل و دوم تا پنجاه و پنجم می‌شود، با عنوان اقتصاد و امور مالی به مسائل اقتصادی کشور پرداخته است.

۴ ج، د

۳ الف، ج

۲ الف، د

۱ ب، ج

۱۶۰ در کدام گزینه هر دو قسمت به اوصاف و ویژگی‌های دهه سوم انقلاب اسلامی اشاره دارد؟ قلم چی - ۱۳۹۸

۱ میزان تولید ناخالص ملی و درآمد سرانه کشور بهبود یافت. - برای آغاز جهش اقتصادی و پر کردن عقب‌ماندگی‌ها، نیازمند زیرساخت‌های اقتصادی لازم بودیم.

۲ قرار گرفتن اقتصاد ایران در بین کشورهای در حال پیشرفت و ورود به رقابت‌های اقتصادی منطقه‌ای و علم و فناوری - افزایش تولید و درآمد سرانه کشور بعد از جنگ

۳ کاهش برخی فعالیت‌های غیرضروری دولت در اقتصاد و دادن آزادی عمل بیشتر به بخش خصوصی - کاهش بروکراسی اداری و رفع نابرابری‌ها، هنوز نیازمند کار و تلاش بیشتر بود.

۴ این دهه با عنوان دهه عدالت و پیشرفت آغاز شد. - تلاش برای جذب سرمایه‌گذاری خارجی و افزایش کارایی و بهره‌وری در عرصه اقتصاد همچنان ادامه یافت.

۱۶۱ به ترتیب با توجه به مؤلفه‌های اقتصاد مقاومتی، کدام گزینه مبین پاسخ صحیح پرسش‌های زیر است؟ قلم چی - ۱۳۹۸

الف) پیامد وابستگی عوامل اصلی پیشرفت اقتصادی کشور به بیرون چیست؟

ب) فراگیر شدن دانش در تمام سطوح تولیدی و به‌کارگیری آن چه چیزی را به ارمغان می‌آورد؟

ج) فایده تنوع منابع درآمدی کشور کدام است؟

۱ الف) دور شدن از وضعیت استقلال اقتصادی و عدم امکان توسعه پایدار، ب) کاهش هزینه‌ها و افزایش درآمدهای ملی، ج) افزایش درآمد ملی و به تبع آن بهبود سطح زندگی مردم

۲ الف) دور شدن از وضعیت استقلال اقتصادی و عدم امکان توسعه پایدار، ب) بهبود سطح کمی و کیفی تولیدات و افزایش رفاه در جامعه، ج) مقاومت و تضمین بیشتر پیشرفت کشور

۳ الف) محدود ساختن عوامل اصلی پیشرفت کشور توسط دشمن در مواقع بحرانی، ب) بهبود سطح کمی و کیفی تولیدات و افزایش رفاه در جامعه، ج) افزایش درآمد ملی و به تبع آن بهبود سطح زندگی مردم

۴ الف) محدود ساختن عوامل اصلی پیشرفت کشور توسط دشمن در مواقع بحرانی، ب) کاهش هزینه‌ها و افزایش درآمدهای ملی، ج) مقاومت و تضمین بیشتر پیشرفت کشور





۱۶۲ یک شرکت پیمانکار ساختمانی دستگاه بالابری به ارزش ۱۰۰ میلیون تومان خریداری کرده است. اگر عمر مفید این دستگاه ۲۵ سال باشد، هزینه استهلاک سالانه آن کدام است؟ این شرکت همچنین یک دستگاه بتون ریز به عمر مفید ۲۵ سال و قیمت اولیه ۷۵۰ میلیون تومان خریداری کرده است. برای جلوگیری از کاهش قدرت تولید، این شرکت، سالانه چند میلیون ریال سرمایه گذاری جدید در رابطه با دستگاه بتون ریز باید انجام دهد و اگر این دستگاه در چهار سال آخر عمر مفیدش ۱۵٪ کاهش قیمت داشته باشد، هزینه استهلاک چهار سال آخر آن چقدر خواهد بود؟

قلم چی - ۱۳۹۸

- ۱) ۵٪ ارزش دستگاه بالابر - ۳۰ - ۱۲۰ میلیون تومان
- ۲) ۴٪ ارزش دستگاه بالابر - ۱۰۲ - ۲۵ میلیون تومان
- ۳) ۴٪ ارزش دستگاه بالابر - ۱۰۲ - ۳۰ میلیون تومان
- ۴) ۵٪ ارزش دستگاه بالابر - ۱۲۰ - ۲۵ میلیون تومان

۱۶۳ قیمت یک تراکتور ۳۶۵۰ میلیون تومان و عمر مفید آن ۲۵ سال است؛ در این صورت:  
الف) هزینه استهلاک سالیانه این تراکتور چند میلیون تومان است؟  
ب) اگر در ۴ سال آخر عمر مفید این تراکتور، ۱۲ درصد قیمت آن افزایش یابد، هزینه استهلاک چهار سال آخر چند تومان است؟  
پ) قیمت جدید این کالای سرمایه ای چند میلیون تومان است؟

قلم چی - ۱۳۹۸

- ۱) الف (الف ۱۴۶، ب) ۴۰۸۸ (پ) ۵۶۴، ۰۸۰، ۰۰۰ (الف ۱۴۶، ب) ۴۸۰۸ (پ) ۶۵۴، ۰۸۰، ۰۰۰
- ۲) الف (الف ۱۴۶، ب) ۴۰۸۸ (پ) ۵۶۴، ۰۸۰، ۰۰۰ (الف ۱۴۶، ب) ۴۸۰۸ (پ) ۶۵۴، ۰۸۰، ۰۰۰
- ۳) الف (الف ۱۴۶، ب) ۴۸۰۸ (پ) ۵۶۴، ۰۸۰، ۰۰۰ (الف ۱۴۶، ب) ۴۰۸۸ (پ) ۶۵۴، ۰۸۰، ۰۰۰
- ۴) الف (الف ۱۴۶، ب) ۴۰۸۸ (پ) ۵۶۴، ۰۸۰، ۰۰۰ (الف ۱۴۶، ب) ۴۸۰۸ (پ) ۶۵۴، ۰۸۰، ۰۰۰

۱۶۴ مندرجات جدول زیر مربوط به اطلاعات استخراجی از حساب های ملی کشوری فرضی است. با توجه به داده های مذکور، سهم تولید خارجی از کشور کدام است؟

خارج از کشور - ۱۳۹۸

۱	تولید ناخالص ملی	۶۵۵ هزار میلیارد ریال
۲	سهم تولید مردم کشور که در خارج اقامت دارند	۴۵ هزار میلیارد ریال
۳	تولید ناخالص داخلی	۶۵۰ هزار میلیارد ریال


- ۱) ۳۰
- ۲) ۳۵
- ۳) ۴۰
- ۴) ۴۵

۱۶۵ با توجه به مندرجات جدول زیر، چنانچه ارزش مجموع اقلام مواد غذایی، پوشاک و ماشین آلات ۱۴۵ میلیارد ریال باشد. در این صورت:  
الف) تولید خالص داخلی سرانه  
ب) تولید خالص ملی  
ج) تولید ناخالص داخلی در این جامعه کدام است؟

خارج از کشور - ۱۳۹۸

A	ارزش تولید مردم کشور که در خارج اقامت دارند	$\frac{1}{3}$ ارزش تولید خارجیان مقیم کشور
B	ارزش خدمات ارائه شده	۴۴ میلیارد ریال
C	ارزش تولید خارجیان مقیم کشور	۳۳ میلیارد ریال
D	جمعیت کل کشور	۲۵ میلیون نفر
E	هزینه استهلاک	$\frac{1}{4}$ ارزش خدمات ارائه شده

- ۱) الف (الف ۷,۳۳ (ب) ۲۰۰ (ج) ۲۱۱ (الف ۷,۳۳ (ب) ۲۰۰ (ج) ۲۲۲ (الف ۸,۴۴ (ب) ۱۸۹ (ج) ۲۱۱ (الف ۸,۴۴ (ب) ۱۸۹ (ج) ۲۲۲
- ۲) الف (الف ۷,۳۳ (ب) ۲۰۰ (ج) ۲۱۱ (الف ۷,۳۳ (ب) ۲۰۰ (ج) ۲۲۲ (الف ۸,۴۴ (ب) ۱۸۹ (ج) ۲۱۱ (الف ۸,۴۴ (ب) ۱۸۹ (ج) ۲۲۲
- ۳) الف (الف ۷,۳۳ (ب) ۲۰۰ (ج) ۲۱۱ (الف ۷,۳۳ (ب) ۲۰۰ (ج) ۲۲۲ (الف ۸,۴۴ (ب) ۱۸۹ (ج) ۲۱۱ (الف ۸,۴۴ (ب) ۱۸۹ (ج) ۲۲۲
- ۴) الف (الف ۷,۳۳ (ب) ۲۰۰ (ج) ۲۱۱ (الف ۷,۳۳ (ب) ۲۰۰ (ج) ۲۲۲ (الف ۸,۴۴ (ب) ۱۸۹ (ج) ۲۱۱ (الف ۸,۴۴ (ب) ۱۸۹ (ج) ۲۲۲







قلم چی - ۱۳۹۸

۱۶۶ جدول زیر نشانگر اقلام و خدمات تولیدی کشور فرضی B در طول یکسال است:

اگر ارزش تولید ماشین آلات، مواد غذایی، لوازم التحریر و کالاهای واسطه‌ای در این کشور به ترتیب ۳۵، ۲۶، ۱۷ و ۱۰٫۵ میلیارد دلار باشد و با توجه به جدول زیر:

تولید خارجیان مقیم کشور	۱۷٫۵ میلیارد ریال
هزینه استهلاك	۲۰٪ تولید ناخالص ملی
تولید اتباع کشور که در خارج اقامت دارند	۲۰٫۵ میلیارد ریال
ارزش ارائه خدمات	۵۰ درصد ارزش مواد غذایی
جمعیت کشور	۵ میلیون نفر

الف) تولید خالص ملی  
ب) تولید ناخالص داخلی سرانه  
ج) هزینه استهلاك  
در این کشور به ترتیب کدام است؟

- ۱ الف) ۸۹٫۲ میلیارد ریال، ب) ۲۱،۷۰۰ دلار ج) ۲۲٫۳ میلیارد دلار ۲ الف) ۹۰٫۲ میلیارد ریال، ب) ۲۲،۷۰۰ دلار ج) ۲۱٫۷ میلیارد دلار  
۳ الف) ۹۰٫۲ میلیارد ریال، ب) ۲۱،۷۰۰ دلار ج) ۲۱٫۷ میلیارد دلار ۴ الف) ۸۹٫۲ میلیارد ریال، ب) ۲۲،۷۰۰ دلار ج) ۲۲٫۳ میلیارد دلار

قلم چی - ۱۳۹۸

۱۶۷ یک کارخانه تولید لبنیات یک دستگاه تولیدی با قیمت ۶۵۰ میلیارد ریال و با عمر مفید ۲۶ سال خریداری می‌کند.

الف) هزینه استهلاك این دستگاه چقدر است؟

ب) اگر در سه سال آخر عمر این دستگاه ۲۰ درصد از قیمت آن کاسته شود، هزینه استهلاك سال آخر عمر این دستگاه کدام است؟

- ۱ الف) ۳۰ میلیارد ریال، ب) ۲۰ میلیارد ریال ۲ الف) ۲۵ میلیارد ریال، ب) ۲۰ میلیارد ریال  
۳ الف) ۲۵ میلیارد ریال، ب) ۲۲ میلیارد ریال ۴ الف) ۳۰ میلیارد ریال، ب) ۲۲ میلیارد ریال

قلم چی - ۱۳۹۸

۱۶۸ کدام گزینه نادرست است؟

۱ در دوران صفویه، بی‌کفایتی و عیاشی حکام به اوج رسید و ایران فرصت طلایی خود را برای جبران عقب‌ماندگی نسبت به اروپا از دست داد.

۲ در نیمه اول حکومت صفویه، علاوه بر یکپارچگی سیاسی، اقتصاد یکپارچه و مستقلى شکل گرفت که با سایر لایه‌های دینی و اجتماعی و فرهنگی کشور هماهنگی داشت.

۳ زمانی که جوامع اروپایی با پشت سر گذاشتن مراحل اولیه انقلاب صنعتی در مسیر توسعه و پیشرفت‌های سریع قدم برمی‌داشتند، ایران به دلیل وضعیت خاص اجتماعی - سیاسی خود در مسیر نامناسب قرار گرفت و مدت‌ها از توسعه و تحول بازماند.

۴ در دوره پایانی حکومت صفویه، حمله افغان‌ها و حتی کشورگشایی نادر و دست‌اندازی به اقتصاد هند، اقتصاد ایران را تضعیف و از کانون تحولات دور کرد.

قلم چی - ۱۳۹۸

۱۶۹ صحیح یا غلط بودن هر یک از موارد زیر به ترتیب در کدام گزینه به درستی مشخص شده است؟

الف) رشد اقتصادی بیش از اینکه به رشد سرمایه انسانی وابسته باشد، بهتر است به رشد سرمایه فیزیکی و ارتقای قدرت تولید عموم مردم استوار گردد تا پیشرفت اقتصادی مطمئن تری را در پی داشته باشد.

ب) در اقتصاد بین‌الملل نمی‌توان وضعیتی را تصور کرد که هیچ تنشی برای کشور ایجاد نشود.

پ) هر چه منابع درآمدی کشور گوناگون‌تر باشد، مقاومت و در پی آن پیشرفت کشور کمتر می‌شود.

ت) افزایش صادرات نفتی و حرکت به سمت فروش فرآورده‌های نفتی به جای نفت خام، به تنوع منابع درآمدی کشور کمک می‌کند.

- ۱ غ - غ - ص - غ - ص ۲ ص - غ - ص - غ - ص ۳ ص - غ - غ - ص - غ ۴ غ - ص - غ - ص - غ



قلم چی - ۱۳۹۹

۱۷۰ درستی یا نادرستی عبارتهای زیر به ترتیب در کدام گزینه آمده است؟

(الف) هدف علم اقتصاد، مطالعه و بررسی رابطه بین منابع و عوامل تولید کمیاب (که موارد استفاده مختلف دارند) و نیازهای نامحدود بشر است.  
(ب) همه تصمیماتی که انسان در مورد مسائل اقتصادی می‌گیرد، ریشه در منابع و امکانات کمیاب دارد و باید از طریق به‌کارگیری روش‌های علمی عملی شوند.

(ج) علم اقتصاد دربارهٔ رفع محدودیت منافع و برطرف ساختن تمامی نیازها و خواسته‌های بشر مطالعه می‌کند.  
(د) از آنجا که تغییر در اطلاعات، انگیزه‌ها، توانایی‌ها و ... در انتخاب‌های انسان تأثیر دارد، علم اقتصاد خود را به مطالعه این موارد نیز موظف می‌داند.

۱ - غ - غ - غ - ص      ۲ - ص - ص - غ - غ      ۳ - ص - غ - ص - ص      ۴ - غ - ص - ص - ص

۱۷۱ کشاورزی در زمین زراعی که در اختیار دارد، می‌تواند سیب‌زمینی، هویج و یا گوجه‌فرنگی بکارد. اگر منفعت حاصل از فروش هر کیلو

سیب‌زمینی، هویج و گوجه‌فرنگی به ترتیب برابر با ۱۲۰، ۱۲۰ و ۱۵۰ ریال باشد، همچنین اگر این کشاورز زمین خود را به کشت سیب‌زمینی اختصاص دهد، در پایان سال می‌تواند ۷۰ کیلو سیب‌زمینی برداشت کرده و به فروش برساند. اگر به کشت هویج اختصاص دهد، در پایان سال می‌تواند ۵۰ کیلو و اگر به کشت گوجه‌فرنگی اختصاص دهد، در پایان سال می‌تواند ۶۵ کیلو برداشت و به فروش برساند. در این صورت:

قلم چی - ۱۳۹۹

(الف) این کشاورز در زمین زراعی خود کدام محصول را خواهد کاشت؟

(ب) هزینه فرصت این انتخاب برای کشاورز کدام خواهد بود؟

۱ - (الف) هویج، (ب) ۱۰,۵۰۰ ریال درآمدی که از طریق کشت و فروش هویج می‌تواند کسب کند.

۲ - (الف) گوجه‌فرنگی، (ب) ۸,۴۰۰ ریال منفعت حاصل از کشت و فروش سیب‌زمینی که از آن صرف‌نظر کرده است.

۳ - (الف) گوجه‌فرنگی، (ب) ۹,۷۵۰ ریال درآمدی که از طریق کشت و فروش گوجه‌فرنگی می‌تواند کسب کند.

۴ - (الف) هویج، (ب) ۹,۷۵۰ ریال منفعت حاصل از کشت و فروش گوجه‌فرنگی که از آن صرف‌نظر کرده است.

قلم چی - ۱۳۹۹

۱۷۲ صحیح یا غلط بودن عبارتهای زیر را کدام گزینه به ترتیب بیان می‌کند؟


(الف) دین اسلام به عنوان دینی کامل در پی سعادت واقعی و کامل انسان‌هاست و آخرت را بیش‌تر مورد توجه قرار می‌دهد.  
(ب) از ویژگی‌های مهم دین اسلام این است که عبادت را صرفاً به رابطه فرد با خدا محدود نمی‌کند و به همه ارتباطات و پیوندهای افراد با یکدیگر از جمله روابط اقتصادی رنگ عبادت می‌زند.

(پ) اسلام در دسترس نبودن معاش را خطری می‌داند که اعتقادات انسان را تهدید می‌کند.

(ت) قرآن تأکید می‌کند که رفع برخی مشکلات انسان در گروی عمل به آموزه‌های الهی است.

(ث) کشوری که وضعیت اقتصادی آن نابسامان باشد و نتواند پایه‌پای بقیه کشورهای دنیا در مسیر پیشرفتی همه‌جانبه حرکت کند، از نظر اجتماعی و سیاسی به بحران‌های گسترده دچار می‌شود.

۱ - غ - غ - ص - ص      ۲ - ص - غ - غ - ص      ۳ - غ - ص - ص - ص      ۴ - ص - ص - ص - غ



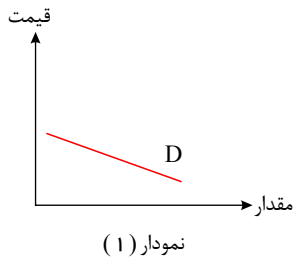
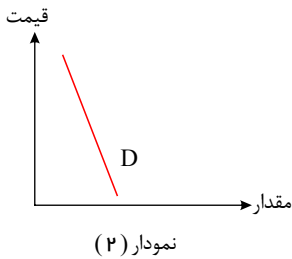


قلم چی - ۱۳۹۹

۱۷۳ به ترتیب عبارات کدام گزینه بیانگر پاسخ صحیح پرسش‌های زیر است؟

الف) کدام یک از نمودارهای زیر (به ترتیب از راست به چپ) مربوط به نمودار تقاضای دارو و کدام مربوط به تقاضای فرش‌های گران قیمت در یک دوره معین است؟

ب) یک بنگاه خودروساز با دیدن تمایل مردم به خرید خودروهای شاسی بلند، تصمیم گرفته است تا با داشتن ماشین‌آلات قابل انعطاف و مدیریت و برنامه‌ریزی خوبی که وجود دارد، نوع تولیدش را تغییر داده و عوامل خود را بیشتر به تولید خودروهای شاسی بلند اختصاص دهد. در این صورت، شیب منحنی عرضه این تولیدکننده چگونه است و میزان حساسیت عرضه‌کننده به قیمت خودروهای شاسی بلند چگونه است؟



- ۱ الف) نمودار شماره (۱) - نمودار شماره (۲) ، ب) شیب کم - حساسیت زیاد
- ۲ الف) نمودار شماره (۲) - نمودار شماره (۱) ، ب) شیب زیاد - حساسیت زیاد
- ۳ الف) نمودار شماره (۲) - نمودار شماره (۱) ، ب) شیب کم - حساسیت زیاد
- ۴ الف) نمودار شماره (۱) - نمودار شماره (۲) ، ب) شیب زیاد - حساسیت کم

۱۷۴ با توجه به جدول و نمودار زیر که مربوط به عرضه و تقاضای یک کالای خاص است، به ترتیب عبارات کدام گزینه بیانگر پاسخ صحیح

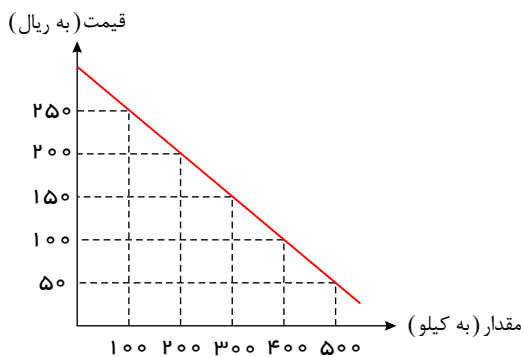
قلم چی - ۱۳۹۹

پرسش‌های زیر است؟

الف) در سطح قیمت ۲۰۰ ریال، حداکثر درآمد تولیدکنندگان چند ریال می‌باشد؟


ب) قیمت تعادلی و درآمد تولیدکنندگان در حالت تعادل، به ترتیب چند ریال است؟

ج) اگر قیمت کالا ۱۸۰ ریال باشد، چه تغییری در بازار باید رخ بدهد تا تعادل در بازار برقرار شود؟



مقدار (به کیلو)	قیمت (به ریال)
۱۰۰	۵۰
۲۰۰	۱۰۰
۳۰۰	۱۵۰
۴۰۰	۲۰۰
۵۰۰	۲۵۰

- ۱ الف) ۴۰,۰۰۰ (ب) ۱۵۰ - ۲۲,۵۰۰ (ج) مصرف‌کنندگان از مصرف خود بکاهند.
- ۲ الف) ۱۶۰,۰۰۰ (ب) ۱۵۰ - ۴۵,۰۰۰ (ج) تولیدکنندگان میزان تولید خود را افزایش دهند.
- ۳ الف) ۱۶۰,۰۰۰ (ب) ۲۵۰ - ۱۲۵,۰۰۰ (ج) مصرف‌کنندگان از مصرف خود بکاهند.
- ۴ الف) ۴۰,۰۰۰ (ب) ۱۵۰ - ۴۵,۰۰۰ (ج) تولیدکنندگان کالای خود را با قیمتی پایین‌تر به فروش برسانند.





قلم چی - ۱۳۹۹

۱۷۵ به ترتیب مصداق هر یک از جملات زیر در کدام گزینه به درستی ذکر شده است؟  
 الف) کالای بادوامی که در فرایند تولید از سوی نیروی انسانی به کار گرفته می‌شود.  
 ب) میزان حساسیت و واکنش مصرف‌کنندگان نسبت به تغییر قیمت این نوع کالا بالا است.  
 ج) این نوع کالا هرچند خروجی یک کارخانه یا بنگاه تولیدی است، اما هنوز در فرآیند تولید و تکمیل است و به‌عنوان ورودی یک بنگاه تولیدی دیگر به کار برده می‌شود.

۱ اجاق گاز استفاده‌شده در رستوران - فرش ابریشم - لپ‌تاپ - اتومبیل

۲ تراکتور - لوستر - اتومبیل - ورقه فولادی مورد استفاده در کارخانه ماشین‌سازی

۳ یخچال در مغازه بستنی فروشی - نورافشان - میز تحریر - گوجه‌فرنگی مصرفی یک خانواده

۴ لوستر - دارو - یخچال - پارچه به کار رفته در دوخت یک پیراهن

قلم چی - ۱۳۹۹

۱۷۶ چند مورد از عبارتهای زیر نادرست است؟

الف) دین اسلام عبادت را صرفاً به رابطه فرد با خدا محدود نمی‌کند، اما به همه ارتباطات و پیوندهای افراد با یکدیگر هم رنگ عبادت نمی‌زند.  
 ب) به خروجی‌های مختلفی که طی انجام فعالیت‌های تولیدی تولیدکنندگان به وجود می‌آیند، «نهادهای تولید» گفته می‌شود و بدیهی است که تولیدکنندگان کالاهای مختلف به نهادهای متفاوتی نیاز دارند.  
 پ) رشد و پیشرفت اقتصادی به‌مثابه یکی از مهم‌ترین ابزارها برای حفظ هویت و استقلال سیاسی و فرهنگی جامعه اسلامی است.  
 ت) علاوه بر انگیزه‌های شخصی و خانوادگی، انگیزه‌های انسانی و ملی نیز در تداوم و توسعه تولید دخیل هستند.  
 ج) در جامعه اسلامی رفع مشکلات معنوی در گروهی عمل به آموزه‌های الهی است و برای حل مشکلات مادی و رسیدن به اهداف، صرف عقلائیت اقتصادی کفایت می‌کند.

۴ پنج

۳ چهار

۲ سه

۱ دو

قلم چی - ۱۳۹۹

۱۷۷ پاسخ پرسش‌های زیر در کدام گزینه به ترتیب به درستی آمده است؟

الف) «تولیدکننده‌ای می‌خواهد با افزایش قیمت کالا در بازار، میزان تولید خود را افزایش دهد، اما به دلیل فرسوده بودن تجهیزات قادر به این کار نمی‌شود.» در رابطه با این تولیدکننده کدام مورد صحیح است؟  
 ب) در صورتی که گروهی از مصرف‌کنندگان موفق به خرید کالای مورد نیاز خود نشوند، در بازار چه حالتی وجود دارد؟

۲ منحنی عرضه‌اش با شیب بیش‌تر است. - کمبود عرضه

۱ کشش قیمتی عرضه‌اش پایین است. - مازاد عرضه

۴ کشش قیمتی عرضه‌اش بالا است. - کمبود تقاضا

۳ شیب منحنی عرضه‌اش کم است. - مازاد تقاضا

قلم چی - ۱۳۹۹


۱۷۸ با توجه به مبحث «هزینه فرصت» کدام فرد انتخاب درستی نداشته است؟

۱ کشاورزی در کاشت محصول سالیانه خود مردد است. او می‌تواند ۴۳۵ کیلو گندم با قیمت فروش هر کیلو ۲۰۰۰ تومان را انتخاب کند، یا می‌تواند ۲۵۰ کیلو گوجه‌فرنگی با قیمت فروش هر کیلو ۳۰۰۰ تومان را انتخاب کند. این کشاورز کاشت گندم را انتخاب می‌کند.

۲ فردی با ۵,۰۰۰,۰۰۰ تومان پس انداز خود می‌تواند یا در بانک با سود سالانه ۲۰ درصد سرمایه‌گذاری کند، یا ۵۰ برگه اوراق مشارکت هر یک با سود سالانه ۳۵,۰۰۰ تومان خریداری کند. این فرد اوراق مشارکت را خریداری می‌کند.

۳ دانشجویی می‌تواند برای کسب درآمد در یک شرکت حمل بار مشغول به کار شود و درآمدی در حدود ساعتی ۱۰ هزار تومان کسب کند، یا می‌تواند در یک شرکت تاکسی‌رانی مشغول به کار شود و ماهیانه ۱ میلیون تومان درآمد کسب کند. این دانشجو کار در شرکت تاکسی‌رانی را انتخاب می‌کند. (دانشجو می‌تواند ماهیانه حداکثر ۷۵ ساعت در شرکت حمل بار کار کند.)

۴ فرد روستایی بین اجاره دادن زمین کشاورزی خود به فرد دیگری به مبلغ ۹۷۰ هزار تومان در ماه یا کار کردن خود بر روی زمین با درآمد سالانه ۱۵ میلیون تومان، اجاره دادن زمین کشاورزی را انتخاب می‌کند.





قلم چی - ۱۳۹۹

۱۷۹ به ترتیب کدام گزینه پاسخ صحیح سؤالات زیر می باشد؟  
 الف) موضوع اصلی علم اقتصاد چیست؟  
 ب) کدام گزینه تعریف علم اقتصاد نیست؟  
 ج) دانشمندان، علوم اقتصادی را با چه روشی مورد مطالعه قرار می دهند؟

- ۱ الف) مسئله انتخاب، ب) راهنمایی انسان جهت به کارگیری بهترین روش جهت استفاده از منابع و امکانات، ج) روش های علمی  
 ۲ الف) مسئله مادیات، ب) راهنمایی انسان جهت به کارگیری بهترین روش جهت استفاده از منابع و امکانات، ج) روش های خاص علوم انسانی  
 ۳ الف) مسئله انتخاب، ب) ارائه بهترین انتخاب با توجه به نیازهای نامحدود بشر و محدودیت منابع، ج) روش های علمی  
 ۴ الف) مسئله مادیات، ب) مطالعه انتخاب های بشر به صورت رابطه بین منابع و عوامل تولید کمیاب و نیازهای نامحدود، ج) روش های خاص علوم انسانی


۱۸۰ جدول زیر دربردارنده ارقام مختلف درآمدی است که در طول یک سال نصیب یک جامعه فرضی شده است. با توجه به مندرجات این جدول به ترتیب:

قلم چی - ۱۳۹۹

الف) کدام ردیف جدول، قیمت خدمات سرمایه و کدام ردیف، اجاره بها یا وجوه مربوط به اجاره است؟  
 ب) درآمد ملی این جامعه چند میلیارد دلار است؟  
 ج) درآمد سرانه در این جامعه کدام است؟  
 (توجه: درآمد کارمندان و کارگران موضوع ردیف های ۱ و ۵ به تفکیک محاسبه شده است.)

ردیف	ارقام درآمدی	ارزش
۱	درآمد حقوق بگیران	۹۰۰ میلیارد دلار
۲	درآمد صاحبان مشاغل آزاد	۱۸۰۰ میلیارد دلار
۳	درآمد صاحبان سرمایه	$\frac{۲}{۳}$ درآمد صاحبان مشاغل آزاد
۴	سود شرکت ها و مؤسسات	$\frac{۳}{۲}$ درآمد حقوق بگیران
۵	دستمزدها	$\frac{۳}{۵}$ درآمد حقوق بگیران
۶	درآمد صاحبان املاک و مستغلات	۴۰ درصد مجموع درآمدهای ردیف ۱ و ۲
۷	جمعیت کل کشور	۸۰ میلیون نفر

- ۱ الف) ۳ - ۰۶ (ب) ۰۶۸۷۰ (ج) ۸۸, ۵۷۵ دلار  
 ۲ الف) ۳ - ۰۶ (ب) ۰۶۸۷۰ (ج) ۸۵, ۸۷۵ دلار  
 ۳ الف) ۳ - ۰۶ (ب) ۰۸۶۷۰ (ج) ۸۸, ۵۷۵ دلار  
 ۴ الف) ۳ - ۰۶ (ب) ۰۸۶۷۰ (ج) ۸۸, ۸۷۵ دلار





۱۸۱) آمار و اطلاعات زیر از حساب‌های ملی یک کشور فرضی استخراج شده است. چنانچه مجموع ارزش اقلام مورد غذایی، پوشاک و ماشین‌آلات ۱۳۵ میلیارد ریال باشد، در این صورت به ترتیب:

الف) تولید خالص داخلی سرانه  
ب) تولید خالص ملی  
ج) تولید ناخالص داخلی در این جامعه کدام است؟

خالص درآمد عوامل تولید خارج از کشور	$\frac{3}{5}$ تولید خارجیان مقیم کشور
ارزش خدمات ارائه شده	۵۰ میلیارد ریال
تولید خارجیان مقیم کشور	۳۵ میلیارد ریال
جمعیت کل کشور	۲۰ میلیون نفر
هزینه استهلاك	$\frac{1}{5}$ تولید ناخالص داخلی

- ۱) الف) ۸,۸۰۰ ریال، ب) ۱۳۲ میلیارد ریال، ج) ۳۲۰ میلیارد ریال (الف) ۲) الف) ۶,۵۰۰ ریال، ب) ۱۳۲ میلیارد ریال، ج) ۲۲۰ میلیارد ریال
- ۳) الف) ۸,۸۰۰ ریال، ب) ۱۶۲ میلیارد ریال، ج) ۲۲۰ میلیارد ریال (الف) ۴) الف) ۶,۵۰۰ ریال، ب) ۱۶۲ میلیارد ریال، ج) ۳۲۰ میلیارد ریال

۱۸۲) کدام گزینه به ترتیب مبین پاسخ صحیح هریک از سؤالات زیر است؟


الف) مندرجات جدول زیر مربوط به اطلاعات استخراجی از حساب‌های ملی کشور ایران در سال ۱۳۹۸ است. با توجه به داده‌های مذکور، سهم تولید خارجیان مقیم کشور چند هزار میلیارد ریال است؟

۱	تولید ناخالص ملی	۲۴۵ هزار میلیارد ریال
۲	سهم تولید مردم کشور که در خارج اقامت دارند	۱۴ هزار میلیارد ریال
۳	تولید خالص داخلی	۲۴۰ هزار میلیارد ریال
۴	تفاوت تولید ناخالص داخلی و خالص داخلی	۱۴ هزار میلیارد ریال

ب) در صورتی که تورم جهانی ۲۰ درصد باشد و صادرات اسمی جامعه‌ای ۱۰ درصد افزایش یافته باشد، در رابطه با صادرات واقعی این جامعه کدام مورد درست است؟

پ) در صورتی که دستمزد کارکنان دولت ۲۵ درصد افزایش یابد و در همان زمان تورم نیز ۲۵ درصد باشد و بانک‌ها به سپرده‌های مردم ۳۰ درصد سود اسمی بپردازند، چند درصد سود واقعی داشته‌ایم؟

- ۱) الف) ۲۳ - ب) ۱۰ درصد کاهش یافته است - پ) ۵ درصد (الف) ۲) الف) ۲۴ - ب) ۱۰ درصد کاهش یافته است - پ) ۵ درصد
- ۳) الف) ۲۳ - ب) ۱۰ درصد افزایش یافته است - پ) ۴ درصد (الف) ۴) الف) ۲۴ - ب) ۱۰ درصد افزایش یافته است - پ) ۴ درصد





۱۸۳ با توجه به اطلاعات ارائه شده در جدول زیر، عملکرد اقتصادی سالیانه یک بنگاه اقتصادی با ۱۸ نفر کارمند و تولید سالیانه ۷۵۰ دستگاه هریک به ارزش ۴۶۰,۰۰۰ ریال کدام است؟  
قلم چی - ۱۳۹۹

۱	اجاره ماهیانه کارگاه تولیدی	۵,۳۰۰,۰۰۰ ریال
۲	حقوق متوسط ماهیانه هر کارمند	۲۳۰,۰۰۰ ریال
۳	خرید مواد اولیه مورد نیاز سالیانه	۱۷,۸۰۰,۰۰۰ ریال
۴	هزینه استهلاك سالیانه	$\frac{1}{6}$ اجاره سالیانه بنگاه

- ۱ - ۳۰۲,۳۲۰,۰۰۰ ضرر یا زیان  
۲ - ۲۰۳,۳۲۰,۰۰۰ سود حسابداری  
۳ - ۲۰۳,۳۲۰,۰۰۰ ضرر یا زیان  
۴ - ۳۰۲,۳۲۰,۰۰۰ سود حسابداری

۱۸۴ به ترتیب هریک از موارد زیر نتیجه کدام یک از فعالیت‌های بازار سرمایه در اقتصاد جامعه است؟  
قلم چی - ۱۳۹۹

- جلوگیری از نوسان شدید قیمت‌ها  
- مؤثر بودن در کاهش نرخ تورم  
- افزایش حجم سرمایه گذاری‌ها در جامعه

- ۱ - تشویق مردم به پس‌انداز و به کارگیری پس‌اندازها در فعالیت‌های مهم اقتصادی - بررسی و شفاف‌سازی اطلاعات مالی شرکت‌ها و قیمت‌گذاری سهام و اوراق بهادار - برقراری ارتباط بین عرضه‌کنندگان و تقاضاکنندگان سرمایه
- ۲ - بررسی و شفاف‌سازی اطلاعات مالی شرکت‌ها و قیمت‌گذاری سهام و اوراق بهادار - تشویق مردم به پس‌انداز و به کارگیری پس‌اندازها در فعالیت‌های مفید اقتصادی - جذب و به کار انداختن سرمایه‌های راکد
- ۳ - بررسی و شفاف‌سازی اطلاعات مالی شرکت‌ها و قیمت‌گذاری سهام و اوراق بهادار - جذب و به کار انداختن سرمایه‌های راکد - تشویق مردم به پس‌انداز و به کارگیری پس‌اندازها در فعالیت‌های مفید اقتصادی
- ۴ - تشویق مردم به پس‌انداز و به کارگیری پس‌اندازها در فعالیت‌های مهم اقتصادی - برقراری ارتباط بین عرضه‌کنندگان و تقاضاکنندگان سرمایه - جذب و به کار انداختن سرمایه‌های راکد

۱۸۵ چند مورد از موارد زیر درست است؟  
قلم چی - ۱۳۹۹

الف) بانک ملی صرفاً نقش آسان‌سازی مبادلات را دارد.

- ب) هر بانکی که سپرده‌های بیشتری از مردم داشته باشد، بدهکارتر و در نتیجه قوی‌تر است.
- پ) بانک تخصصی به همه مردم در عرصه اقتصاد خدمات ارائه می‌کند.
- ت) بانک‌های مسکن یا کشاورزی بانک‌های تجاری می‌باشند که در ایران بیشتر نقش بانک سرمایه‌گذاری را ایفا می‌کنند.
- ث) بانک‌های مشترکی که با کشورها تأسیس می‌شوند، بانک سرمایه‌گذاری به‌شمار می‌روند.

- ۱ - چهار  
۲ - سه  
۳ - دو  
۴ - پنج



۱۸۶ با توجه به اطلاعات مندرج در جدول زیر:

قلم چی - ۱۳۹۹

۱	ارزش پولی موجودی حساب‌های قرض‌الحسنه	۱۵۲۰ واحد پولی
۲	ارزش پولی مجموع مسکوکات در دست مردم	۲۵۰۰ واحد پولی
۳	ارزش پولی مجموع اسکناس‌ها	$\frac{۳}{۲}$ ارزش پولی مسکوکات
۴	ارزش پولی سپرده‌های دیداری	۲۳۰ واحد پولی
۵	ارزش پولی موجودی سپرده‌های مدت‌دار	۳۲۰ واحد پولی
۶	ارزش پولی مجموع سپرده‌های دیداری و غیردیداری	۷۵۰ واحد پولی

- الف) ارزش اسکناس‌های موجود در دست مردم چند واحد پولی است؟  
 ب) میزان حجم شبه پول این جامعه، چند واحد پولی است؟  
 ج) حجم کل پول موجود یا کل نقدینگی جامعه، چند واحد پولی است؟  
 د) ارزش موجودی سپرده‌های پس‌انداز، چند واحد پولی است؟  
 هـ) بدهی بانک به مشتریان چند واحد پولی است؟

- ۱) الف) ۲۶۶۰ (ب) ۳۵۰۰ (ج) ۱۲۳۰ (د) ۲۰۰ (ه) ۶۲۰  
 ۲) الف) ۲۶۶۰ (ب) ۳۵۰۰ (ج) ۸۵۲۰ (د) ۲۵۰ (ه) ۷۵۰  
 ۳) الف) ۳۷۵۰ (ب) ۲۰۴۰ (ج) ۱۲۳۰ (د) ۲۵۰ (ه) ۶۲۰  
 ۴) الف) ۳۷۵۰ (ب) ۲۰۴۰ (ج) ۸۵۲۰ (د) ۲۰۰ (ه) ۷۵۰

قلم چی - ۱۳۹۹

۱۸۷ به ترتیب کدام گزینه مبین پاسخ صحیح پرسش‌های زیر است؟


- الف) رفاه اجتماعی در یک جامعه چگونه تحقق می‌یابد؟  
 ب) فقر یا تهیدستی مطلق به چه معناست؟  
 ج) چگونه می‌توان تصویری از وسعت و اندازه فقر در هر کشور به دست آورد؟  
 د) در هر جامعه، کدام دست از افراد زیر خط فقر قرار دارند؟  
 هـ) کدام نتیجه‌گیری در رابطه با عبارت «سطح حداقل معیشت از یک کشور به کشور دیگر یا از یک زمان به زمان دیگر متفاوت است»، صحیح است؟  
 و) در ادبیات اقتصادی، مسکین چه تعریفی دارد؟

- ۱) الف) از بین رفتن فقر و کاهش نابرابری‌ها، ب) به معنای دسترسی نداشتن به نیازهای ابتدایی زندگی، ج) با در نظر گرفتن دو شاخص توسعه انسانی و شاخص دهک‌ها، د) افرادی که درآمد آن‌ها برابر با سطح حداقل معیشتی معین باشد. هـ) این عبارت بیانگر متفاوت بودن تعریف فقر در هر کشور است. و) مسکین کسی است که به امکانات معیشتی دسترسی ندارد.

- ۲) الف) کاهش نابرابری اجتماعی و افزایش بهره‌وری نیروی کار، ب) به معنای عدم توانایی در استفاده از امکانات معیشتی، ج) با در نظر گرفتن دو شاخص توسعه انسانی و شاخص دهک‌ها، د) افرادی که درآمد آن‌ها برابر با سطح حداقل معیشتی معین باشد. هـ) این عبارت منعکس‌کننده تفاوت در نیازها است. و) مسکین کسی است که درآمد او از سطح حداقل معیشتی معین کمتر است.

- ۳) الف) از بین رفتن فقر و کاهش نابرابری‌ها، ب) به معنای نداشتن حداقل معیشت، ج) با در نظر گرفتن دو شاخص درآمد سرانه و میزان نابرابری در توزیع درآمد، د) افرادی که درآمد آن‌ها از سطح حداقل معیشتی معین کمتر باشد. هـ) این عبارت منعکس‌کننده تفاوت در نیازها است. و) مسکین کسی است که حتی در صورت دسترسی به امکانات معیشتی، توانایی استفاده از آن‌ها را هم ندارد.

- ۴) الف) کاهش نابرابری‌های اجتماعی و افزایش بهره‌وری نیروی کار، ب) به معنای دسترسی نداشتن به نیازهای ابتدایی زندگی، ج) با در نظر گرفتن دو شاخص درآمد سرانه و میزان نابرابری در توزیع درآمد، د) افرادی که درآمد آن‌ها از سطح حداقل معیشتی معین کمتر باشد. هـ) این عبارت بیانگر متفاوت بودن تعریف فقر در هر کشور است. و) مسکین کسی است که درآمد او از سطح حداقل معیشتی معین کمتر است.



آزمون جامع اقتصاد (دهم انسانی)







قلم چی - ۱۳۹۹

۱۸۸ به ترتیب عبارات کدام گزینه بیانگر پاسخ درست پرسش‌های زیر است؟

الف) در گذشته کشاورزان بنا بر سنت، در زمین همان محصولی را می‌کاشتند که پدرانشان می‌کاشتند؛ امروزه معیار و ملاک انتخاب کشاورزان در استفاده از منابع و امکانات چیست؟

پ) تولیدکنندگان چه نوع کالاهایی نمی‌توانند، قیمت کالای خود را به راحتی افزایش دهند؟

پ) «گلخانه‌ای در خارج از شهر، قارچ پرورش می‌دهد و سپس قارچ کشت شده را به تولیدکننده دیگری می‌فروشد تا آن را تبدیل به کنسرو قارچ کند و در نهایت، توسط یک شرکت پخش محصولات غذایی در فروشگاه‌های شهر توزیع شود.» به ترتیب هریک از مراحل تولید مثال ذکر شده، چه نامیده می‌شود؟

ت) اگر هزینه فرصت یک تولیدکننده ۱۵,۰۰۰,۰۰۰ تومان و سود اقتصادی او ۷۵ میلیون تومان باشد، سود حسابداری این تولیدکننده چه میزان است؟

ث) در کدام مورد ذکر شده در گزینه‌ها، سازمان تولید، «مشارکتی» است؟

۱ الف) کسب بیشترین میزان تولید و فراهم‌آوری سطح بالاتری از رفاه، ب) تجملی، پ) احیا - صنعت - خدمات، ت) ۹۰ میلیون تومان، ث) سهامی - تعاونی

۲

الف) به‌کارگیری منابع و امکانات موجود در حد رفع نیازهای خود و تأمین رفاه عمومی، ب) تجملی، پ) حیا - احیا - صنعت، ت) ۶۰ میلیون تومان، ث) شرکت‌های شخصی

۳ الف) کسب بیشترین میزان تولید و فراهم‌آوری سطح بالاتری از رفاه، ب) ضروری، پ) حیا - احیا - خدمات، ت) ۹۰ میلیون تومان، ث) سهامی - تعاونی

۴


الف) به‌کارگیری منابع و امکانات موجود در حد رفع نیازهای خود و تأمین رفاه عمومی، ب) تجملی، پ) احیا - صنعت - خدمات، ت) ۶۰ میلیون تومان، ث) شرکت‌های شخصی

۱۸۹ فردی مدیریت یک بنگاه تولیدی را برعهده دارد اگر او در پایان سال ۱۰۵ میلیون تومان درآمد کسب کرده باشد، با توجه به اطلاعات

جدول زیر به ترتیب سود حسابداری و سود ویژه سالیانه این فرد چند هزار تومان است؟ (فرد، خود صاحب کارگاه و ماشین‌آلات قلم چی - ۱۳۹۹ تولیدی است.)

تعداد کارگران استخدام شده	۵ نفر
هزینه سالیانه خرید مواد اولیه	۸۰۰ هزار تومان
هزینه استهلاک ماهیانه ماشین‌آلات تولیدی	۱۴۰ هزار تومان
حقوق ماهیانه هر کارگر	$\frac{5}{4}$ هزینه سالیانه خرید مواد اولیه
مالیات سالیانه	۱۵ درصد درآمد سالیانه
هزینه اجاره ماهیانه ماشین‌آلات تولیدی در صورت اجاره دادن	۱۱۰ هزار تومان
هزینه اجاره ماهیانه کارگاه در صورت اجاره دادن	۶۵۰ هزار تومان

۱ ۱۷,۶۵۰ - ۲۶,۷۷۰    ۲ ۲۶,۷۷۰ - ۱۷,۶۵۰    ۳ ۵۱,۶۷۰ - ۶۲,۷۷۰    ۴ ۶۲,۷۷۰ - ۵۱,۶۷۰





۱۹۰ با توجه به اطلاعات ارائه شده در جدول زیر، عملکرد اقتصادی یک بنگاه اقتصادی با ۶ نفر کارمند و تولید سالیانه ۱۸ دستگاه هریک به ارزش ۲۵ میلیون تومان، کدام است؟

قلم چی - ۱۳۹۹

۱	حقوق متوسط ماهیانه فرد	۲ میلیون ریال
۲	اجاره ماهیانه	۳٫۵ میلیون ریال
۳	هزینه استهلاک سالیانه	۳۵ درصد اجاره سالیانه
۴	هزینه خرید مواد اولیه مورد نیاز سالیانه	$\frac{۲}{۳}$ حقوق سالیانه کارمندان

۱ ۲۹۶ میلیون تومان سود

۲ ۲۹۶ میلیون تومان ضرر یا زیان

۳ ۱۵۳٫۳ میلیون تومان سود

۴ ۱۵۳٫۳ میلیون تومان ضرر یا زیان

قلم چی - ۱۳۹۹

۱۹۱ به ترتیب عبارات کدام گزینه، بیانگر پاسخ صحیح دو پرسش زیر است؟

الف) به ترتیب هریک از عبارات ذکر شده به کدام یک از وظایف پول اشاره دارد؟

«هریک از کشورها دارای واحد ارزش خاص خود هستند. - رد و بدل کردن حواله‌های بانکی از همین نوع است. - علاوه بر هزینه‌های روزمره، برخی هزینه‌های غیرقابل پیش‌بینی نیز هست که در موقعیت‌های خاص پیش می‌آید. - افراد در مبادلات خود، پول را می‌پذیرند، زیرا می‌دانند که دیگران نیز هنگام فروش کالا یا خدمات خود، آن را خواهند پذیرفت.»

ب) تعریف کدام عقد اسلامی نادرست است؟

۱

الف) وسیله پرداخت در مبادلات - وسیله سنجش ارزش - وسیله پرداخت‌های آینده - وسیله پس‌انداز و حفظ ارزش، ب) خرید دین: طبق این قرارداد، بانک‌ها می‌توانند اسناد و اوراق تجاری متعلق به واحدهای تولیدی، بازرگانی و خدماتی را تنزیل کنند.

۲


الف) وسیله پرداخت در مبادلات - وسیله سنجش ارزش - وسیله پرداخت‌های آینده - وسیله پس‌انداز و حفظ ارزش، ب) جعاله: طبق این قرارداد، کافرما تعهد می‌کند در برابر عمل مشخص کارگزار یا عامل، اجرت معینی به او بپردازد.

۳

الف) وسیله سنجش ارزش - وسیله پرداخت‌های آینده - وسیله پس‌انداز و حفظ ارزش - وسیله پرداخت در مبادلات، ب) فروش اقساطی: بانک‌ها بنا به تقاضای کتبی مشتریان خود، ماشین‌آلات و تأسیساتی را که عمر مفید آن‌ها بیش از یک سال است، خریداری می‌کنند و به صورت قسطی به مشتریان می‌فروشند.

۴

الف) وسیله سنجش ارزش - وسیله پرداخت‌های آینده - وسیله پس‌انداز و حفظ ارزش - وسیله پرداخت در مبادلات، ب) مشارکت مدنی: قراردادی است که طی آن بانک، قسمتی از سرمایه شرکت‌های سهامی جدید را تأمین و یا قسمتی از سهام شرکت‌های سهامی موجود را خریداری می‌کند و از این طریق در سود آن‌ها شریک می‌شود.





۱۹۲ جدول زیر مبین «شاخص‌های توسعه» در سه کشور مختلف است. با توجه به اطلاعات ارائه شده:

قلم چی - ۱۳۹۹

شاخص‌ها	نرخ مرگ‌ومیر نوزادان (در هر هزار تولد)	امید به زندگی (سال)	نرخ باسوادی بزرگسالان (به درصد)	تولید ناخالص داخلی سرانه (به دلار PPP ثابت سال ۲۰۱۱)
کشورها				
چین	۱۰٫۹	؟	۹۵٫۱	۱۱٫۵۲۵
نروژ	؟	۸۱٫۶	حدود ۱۰۰	۶۲٫۴۴۸
موزامبیک	۶۱٫۵	۵۵٫۱	؟	؟

الف) به ترتیب امید به زندگی در چین، نرخ مرگ‌ومیر نوزادان در نروژ، نرخ باسوادی بزرگسالان و تولید ناخالص داخلی سرانه در موزامبیک کدام است؟

ب) در کدام کشور شاخص «رشد» با شاخص «توسعه» هماهنگ است و در کدام کشور این هماهنگی وجود ندارد؟

- ۱ (الف) ۸۴٫۳، ۲٫۳، ۵۰٫۶، ۱۵۰۹۰، ب) چین - موزامبیک
- ۲ (الف) ۷۵، ۲٫۳، ۵۰٫۶، ۱۰۷۰، ب) موزامبیک - چین
- ۳ (الف) ۸۴٫۳، ۱۴٫۴، ۷۵٫۴، ۱۰۷۰، ب) موزامبیک - نروژ
- ۴ (الف) ۷۵، ۱۴٫۴، ۷۵٫۴، ۱۵۰۹۰، ب) نروژ - موزامبیک

قلم چی - ۱۳۹۹

۱۹۳ کدام گزینه به ترتیب تکمیل‌کننده هریک از موارد الف، ب، ج و د است؟

نوع بازار	تعداد فروشندگان و خریداران	ویژگی	مثال
رقابتی	بسیار زیاد	الف	ماکارونی
ب	به یک یا چند نفر محدود می‌شود.	تولیدکننده در قیمت‌گذاری مؤثر است.	د
مزایده	بستگی به شرایط و نوع کالا دارد.	ج	فروشندگان آثار هنری در نمایشگاه‌ها

- ۱ (الف) هیچ‌یک از طرفین قیمت‌گذار نیستند، ب) انحصاری در فروش، ج) مخصوص خریداران عمده است، د) لوازم خانگی مثل تلویزیون
- ۲ (الف) عرضه‌کنندگان عمده تأثیر زیادی بر قیمت‌ها دارند، ب) مناقصه، ج) مخصوص خریداران عمده است، د) شرکت‌های خودرویی در کشور ایران
- ۳ (الف) حضور و رفتار هر یک از عرضه‌کنندگان و تقاضاکنندگان به نسبت کل بازار بسیار کوچک است، ب) انحصاری در فروش، ج) در قالب حراجی‌ها دیده می‌شود، د) شرکت توانیر در کشور ایران
- ۴ (الف) هیچ‌یک از طرفین به تنهایی قیمت‌گذار نیستند، ب) انحصاری در خرید، ج) در قالب حراجی‌ها دیده می‌شود، د) خریدهای دولتی



۱۹۴ چند مورد از عبارات زیر در خصوص انواع درآمدهای دولت و انواع مالیات‌ها نادرست است؟  
 قلم چی - ۱۳۹۹

الف) تمامی درآمدهای حاصل از فروش کالا و خدمات شرکت‌های دولتی مانند بانک‌ها، بیمه‌های دولتی و سازمان‌های توسعه‌ای به حساب‌های معرفی شده از سوی خزانه‌داری کل کشور واریز می‌شود.  
 ب) برخی سرمایه‌گذاری‌های اجتماعی و زیربنایی دولت با هدف سودآوری است که در این صورت، یکی از منابع تأمین درآمد دولت به‌شمار می‌روند.  
 ج) بهترین راه استقراض به‌عنوان یکی از منابع درآمدی دولت، استقراض از بانک مرکزی است.  
 د) «مالیات بر درآمد اصناف - عوارض نوسازی - مالیات بر نقل و انتقالات دارایی - مالیات بر انواع دارایی - مالیات بر کالاهای صادر یا وارد شده» به ترتیب از انواع مالیات مستقیم، غیرمستقیم، مستقیم، غیرمستقیم و مستقیم است.  
 ه) مالیات بر ارزش افزوده، نوعی مالیات بر فروش چندمرحله‌ای است که کالاها و خدمات واسطه‌ای را از پرداخت مالیات معاف می‌کند.  
 و) در مالیات مستقیم امکان انتقال بار مالیاتی به دیگران کمتر و در مالیات غیرمستقیم بسیار زیاد است.

۴ (۴)

۳ (۳)

۲ (۲)

۱ (۱)

۱۹۵ با توجه به جدول مالیاتی زیر، اگر درآمد ماهیانه فردی ۶۹۰۰ ریال باشد، به ترتیب:  
 قلم چی - ۱۳۹۹

الف) مالیات سالیانه پرداختی او براساس نرخ ثابت، چند ریال است؟  
 ب) مانده خالص ماهیانه فرد براساس نرخ تصاعدی چند ریال است؟


حدود درآمدی	نرخ A	نرخ B
درآمدهای تا ۴۰۰۰ ریال در ماه	با نرخ ۵ درصد	با نرخ ۸ درصد
درآمدهای تا ۶۰۰۰ ریال در ماه	با نرخ ۷ درصد	با نرخ ۸ درصد
درآمدهای تا ۸۰۰۰ ریال در ماه	با نرخ ۱۰ درصد	با نرخ ۸ درصد
درآمدهای تا ۱۰,۰۰۰ ریال در ماه	با نرخ ۱۳ درصد	با نرخ ۸ درصد
درآمدهای تا ۱۲,۰۰۰ ریال در ماه	با نرخ ۱۵ درصد	با نرخ ۸ درصد

۶۹۰ (الف) ۶۶۲۴، ب) ۶۶۲۴ (۴)

۶۲۱۰ (الف) ۶۶۲۴، ب) ۶۲۱۰ (۳)

۶۶۲۴ (الف) ۶۲۱۰، ب) ۶۶۲۴ (۲)

۶۳۴۸ (الف) ۸۲۸۰، ب) ۶۳۴۸ (۱)





۱۹۶ در یک کشور فرضی آفریقایی، دولت پس از الف: «تصویب قانون برنامه ۵ ساله» برای کشور در ایجاد و نوسازی زیرساخت‌ها، اقدام به ب: «راه‌سازی» و پ: «راه‌اندازی صنعت فولادسازی و دیگر صنایع مادر» کرد و سپس برای تشویق تولیدکنندگان داخلی، اقدام به گذاشتن ت: «مالیات بر واردات کالاهای مشابه نمود». همچنین برای تولیدکنندگانی که حاضر به سرمایه‌گذاری و ایجاد کارخانه خود در مناطق محروم شدند، ث: «پاداش و معافیت مالیاتی ۵ ساله» قرارداد. - هریک از موارد الف تا ث به ترتیب، مربوط به کدام محور دخالت دولت در عرصه قلم چی- ۱۳۹۹ اقتصاد است؟

ج) جایزه نوبل اقتصاد ۲۰۱۹ به سه نفر از اقتصاددانان برای روش‌های تجربی آنان در کاهش فقر جهانی داده شده زیرا از دیدگاه اقتصاددانان .....

۱

الف) وضع مقررات، سیاست‌گذاری و حکمرانی در اقتصاد، ب) عرضه کالاها و خدمات، پ) وضع مقررات، سیاست‌گذاری و حکمرانی در اقتصاد، ت) عرضه کالاها و خدمات، ث) عرضه کالاها و خدمات، ج) فقر گسترده می‌تواند مانعی بر سر راه پیشرفت همه جانبه کشور باشد.

۲

الف) وضع مقررات، سیاست‌گذاری و حکمرانی در اقتصاد، ب) عرضه کالاها و خدمات، پ) عرضه کالاها و خدمات، ت) وضع مقررات، سیاست‌گذاری و حکمرانی در اقتصاد، ث) وضع مقررات، سیاست‌گذاری و حکمرانی در اقتصاد، ج) رفع فقر، راهی برای گسترش و افزایش سرعت روند توسعه‌یافتگی است.

۳

الف) عرضه کالاها و خدمات، ب) عرضه کالاها و خدمات، پ) عرضه کالاها و خدمات، ت) وضع مقررات، سیاست‌گذاری و حکمرانی در اقتصاد، ث) وضع مقررات، سیاست‌گذاری و حکمرانی در اقتصاد، ج) مبارزه با فقر، سبب بهبود توزیع درآمد، رشد اقتصادی و ثبات قیمت‌ها می‌شود.

۴

الف) وضع مقررات، سیاست‌گذاری و حکمرانی در اقتصاد، ب) عرضه کالاها و خدمات، پ) وضع مقررات، سیاست‌گذاری و حکمرانی در اقتصاد، ت) عرضه کالاها و خدمات، ث) وضع مقررات، سیاست‌گذاری و حکمرانی در اقتصاد، ج) فقر گسترده می‌تواند مانعی بر سر راه پیشرفت کشور باشد.

۱۹۷ به ترتیب عبارات کدام گزینه بیانگر پاسخ صحیح پرسش‌های زیر است؟ قلم چی- ۱۳۹۹

الف) کشور ترکیه با وجودی که فاقد منابع نفت و گاز است، ولی از موقعیت جغرافیایی خود که در نزدیکی ۷۲٪ از منابع بزرگ نفت و گاز جهان قرار دارد، استفاده کرده و با ایجاد سه خط لوله، این موقعیت ویژه خود را به فرصتی برای تأمین و رد و بدل کردن انرژی به اروپا تبدیل کرده است. استفاده ترکیه از این فرصت، بیانگر چیست؟

ب) این سیاست دولت چین که به تولیدکنندگان «یارانه آب و برق» می‌دهد در جهت رسیدن به کدام هدف است؟  
پ) منظور اقتصاددانان از «محصولات راهبری» چیست؟

۱

الف) خلق ارزش افزوده حتی در محصولی غیرمزیتی، ب) تشویق صادرکنندگان داخلی و جذب سرمایه‌گذاران خارجی، پ) کالاها و خدماتی که تولید آن‌ها بدون توجه به منافع سیاسی و غیراقتصادی است.

۲


الف) خلق مزیت‌های جدید اقتصادی، ب) حمایت از تولیدکنندگان داخلی و کاهش وابستگی به کالاهای وارداتی، پ) کالاها و خدماتی که تولید آن‌ها بدون توجه به منافع سیاسی و غیراقتصادی است.

۳

الف) خلق مزیت‌های جدید اقتصادی، ب) تشویق صادرکنندگان داخلی و جذب سرمایه‌گذاران خارجی، پ) کالاها و خدماتی که تولید آن‌ها بدون توجه به میزان سود، هزینه و بازار انجام می‌شود.

۴

الف) خلق ارزش افزوده حتی در محصولی غیرمزیتی، ب) حمایت از تولیدکنندگان داخلی و کاهش وابستگی به کالاهای وارداتی، پ) کالاها و خدماتی که تولید آن‌ها بدون توجه به میزان سود، هزینه و بازار انجام می‌شود.





۱۹۸. زمانی که اقتصاد کشور دچار رکود می‌شود:

قلم چی - ۱۳۹۹

الف) بانک مرکزی چگونه مشکل را در کوتاه‌مدت حل می‌نماید؟

ب) برای حل اساسی مشکل در بلندمدت باید چه سیاست‌هایی را در پیش گرفت؟

ج) دولت در این شرایط چگونه می‌تواند رونق را به بازار برگرداند؟

۱

الف) سیاست پولی انقباضی (مانند فروش اوراق مشارکت)، ب) سیاست‌های جانب تقاضا (مثل بهبود درآمد تولیدکنندگان و بهبود فضای بازار)، ج) تحریک تقاضای عمومی از طریق کاهش در مخارج جاری یا عمرانی دولت و افزایش در نرخ‌ها یا پایه‌های مالیاتی (سیاست مالی انبساطی)

۲

الف) سیاست پولی انبساطی (مانند خرید اوراق مشارکت)، ب) سیاست‌های جانب تقاضا (مثل بهبود بهره‌وری، افزایش سرمایه‌گذاری و بهبود فضای کسب و کار)، ج) تحریک تقاضای عمومی از طریق افزایش در مخارج جاری یا عمرانی دولت و کاهش در نرخ‌ها یا پایه‌های مالیاتی (سیاست مالی انقباضی)

۳

الف) سیاست پولی انبساطی (مانند خرید اوراق مشارکت)، ب) سیاست‌های جانب عرضه (مثل بهبود بهره‌وری، افزایش سرمایه‌گذاری و بهبود فضای کسب و کار)، ج) تحریک تقاضای عمومی از طریق افزایش در مخارج جاری یا عمرانی دولت و کاهش در نرخ‌ها یا پایه‌های مالیاتی (سیاست مالی انبساطی)

۴

الف) سیاست پولی انقباضی عمومی از طریق افزایش در مخارج جاری یا عمرانی دولت و کاهش در نرخ‌ها یا پایه‌های مالیاتی (سیاست مالی انقباضی)

قلم چی - ۱۳۹۹

۱۹۹. چند مورد از عبارات زیر نادرست است؟

الف) برخی از اقتصاددانان موافق دولتی شدن اقتصادند و به حضور بخش‌های غیردولتی در اقتصاد خوشبین نیستند.

ب) اصل حضور دولت در اقتصاد مورد اختلاف بسیاری از اقتصاددانان است.

ج) در سال‌های اخیر در کشور ما توجه جدی سیاست‌گذاران به ضرورت اقتصاد مردمی و نقش‌آفرینی و مشارکت بیشتر بخش‌های خصوصی و تعاونی و عمومی و افزایش توان و اقتدار آن‌ها جلب شده است.

د) در زمان جنگ یا حالت رکود، دولت‌ها معمولاً نقش پررنگ‌تری را در اقتصاد کشور ایفا می‌کنند.

ه) در کشور ما دولت ملزم شده است تا با سپردن ۲۵ درصد از اقتصاد کشور به بخش تعاونی، حضور مستقیم خود را در مدیریت و مالکیت اقتصاد کاهش دهد.

۱

چهار

۲

سه

۳

دو

۴

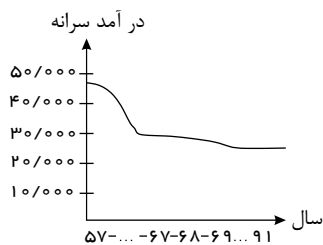
یک



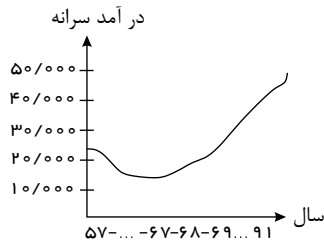


۲۰۰ عبارات کدام گزینه بیانگر پرسش‌های زیر است؟

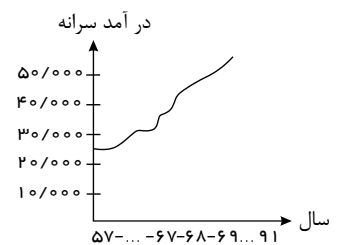
الف) دوران سازندگی چه نتایجی داشت؟ ب) کدام یک از نمودارهای زیر، روند درآمد سرانه ایرانیان را پس از جنگ نشان می‌دهد؟ - قلم چی - ۱۳۹۹



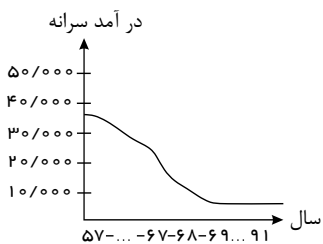
(منحنی شماره ۴)



(منحنی شماره ۳)



(منحنی شماره ۲)




(منحنی شماره ۱)

۱) الف) به ثمر رسیدن طرح‌های اقتصادی و مولد - بهبود تولید ناخالص ملی و درآمد سرانه، ب) منحنی شماره ۲

۲) الف) آغاز جهش اقتصادی - ایجاد زیرساخت‌های اقتصادی چون نیروگاه برق و صنایع پایه - منحنی شماره ۳

۳) به ثمر رسیدن طرح‌های اقتصادی و مولد - بهبود تولید ناخالص ملی و درآمد سرانه، ب) منحنی شماره ۱

۴) الف) آغاز جهش اقتصادی - ایجاد زیرساخت‌های اقتصادی چون نیروگاه برق و صنایع پایه، ب) منحنی شماره ۱ و ۴



## پاسخنامه تشریحی

۱ گزینه ۳ یکی از اهداف دولت در عرصه اقتصاد، ایجاد اشتغال کامل و مبارزه با بیکاری است. برای تحقق این هدف، دولت ها می کوشند شرایط رونق اقتصادی را فراهم آورند. در چنین شرایطی، فعالیت های تولیدی گسترش می یابند و تمایل تولیدکنندگان به استخدام نیروی کار جدید بیشتر می شود. این به معنای ایجاد فرصت های شغلی جدید و رسیدن به اشتغال کامل است.

۲ گزینه ۳ بررسی گزینه ها:

۱) هزینه های پرسنلی - هزینه های اداری - پرداخت های انتقالی - هزینه های اداری

۲) هزینه های اداری - هزینه های اداری - هزینه های اداری - هزینه های پرسنلی

۳) هزینه های پرسنلی - هزینه های اداری - هزینه های اداری - پرداخت های انتقالی

۴) پرداخت های انتقالی - پرداخت های انتقالی - پرداخت های انتقالی - هزینه های اداری

۳ گزینه ۲ آنچه انسان در مقابل پول خریداری می کند و به وسیله آن نیازها یا خواسته هایش را برطرف می سازد، تنها به کالاها محدود نمی شود و خدمات را نیز دربرمی گیرد. توضیحات بیان شده در صورت سؤال به ترتیب به کالاهای بی دوام، کالاهای واسطه ای، کالاهای سرمایه ای و کالاهای تجملی اشاره دارد.

۵ گزینه ۲ از آنجا که ارزش کالاهای واسطه ای در درون کالاهای نهایی است، در محاسبه تولید کل جامعه باید از محاسبه ارزش کالاهای واسطه ای صرف نظر و فقط کالاهای نهایی را محاسبه کنیم. فعالیت های غیر قانونی نظیر قاچاق و مانند آن جزء تولید کشور محاسبه نمی شود؛ زیرا از یک سو از این فعالیت ها اطلاع دقیقی در دست نیست و از سوی دیگر، محاسبه آن ها نوعی مشروعیت دادن به آن ها تلقی می شود.

۶ گزینه ۱ الف) نقش اصلی پول در مبادلات، آسان سازی مبادله است.

ب) در صورتی که پول بتواند حفظ ارزش کند، می تواند وسیله مناسبی برای پرداخت های آینده نیز باشد.

۷ گزینه ۳ الف) در معادلات سلف، بانک محصولات تولیدی آینده بنگاه ها را پیش خرید می کند.

ب) در قرارداد خرید دین بانک ها می توانند اسناد و اوراق تجاری متعلق به واحدهای تولیدی، بازرگانی و خدماتی را تنزیل کنند.

۸ گزینه ۴ بورس یک کالا محل مبادلات کاغذی آن کالا است و کالایی در آن مبادله نمی شود.

۹ گزینه ۳

پول فلزی در مبادلات با حجم زیاد، وسیله پرداخت مناسبی نبود و همین موضوع یکی از علل کنار گذاشتن این نوع پول از مبادلات بود.

۱۰ گزینه ۳ به بازار رسمی و دائمی که در محلی معین تشکیل می شود و در آن اوراق بهادار مورد معامله قرار می گیرد، «بورس اوراق بهادار» گفته می شود.

۱۱ گزینه ۲ صاحبان سهام به نسبت سهمی که خریدانند، مالک و در سود و زیان شرکت سهیم می شوند.

- دولت، شهرداری ها و شرکت های دولتی و خصوصی به منظور تأمین اعتبار طرح های توسعه ای و عمرانی در کشور، اوراق مشارکت منتشر می کنند.

۱۲ گزینه ۳ فقر یا تهیدستی مطلق به معنای نداشتن حداقل معیشت است. فقیر مطلق کسی است که به نیازهای ابتدایی زندگی مانند آب سالم، تغذیه، خدمات بهداشتی، آموزش، پوشاک و سرپناه دسترسی نداشته باشد. در هر جامعه، افرادی که درآمد آن ها از سطح حداقل معیشتی معین کم تر باشد، زیر خط فقر قرار دارند. سطح حداقل معیشت (خط فقر) از یک کشور به کشور دیگر یا از یک زمان به زمان دیگر متفاوت است و این امر منعکس کننده تفاوت در نیازها است. افرادی که در زمانی یا در کشوری، فقیر به شمار می روند، چه بسا در زمانی دیگر یا کشوری دیگر، فقیر محسوب نشوند. این مفهوم، «فقر نسبی» نامیده می شود. در هر سطحی از درآمد سرانه، هر چه توزیع درآمد در کشوری نسبت به کشور دیگر ناعادلانه تر باشد، نرخ فقر در آن کشور بیش تر است.

۱۳ گزینه ۴ برای مقایسه وضعیت توزیع درآمد بین کشورهای مختلف، نسبت سهم دهک دهم به دهک اول را محاسبه می کنیم. هر چه این نسبت بیش تر باشد، وضعیت توزیع درآمد در آن جامعه نامناسب تر است.

$$A \text{ شاخص وضعیت توزیع درآمد در کشور } = \frac{24}{8} = 3$$

$$B \text{ شاخص وضعیت توزیع درآمد در کشور } = \frac{30}{5} = 6$$

$$C \text{ شاخص وضعیت توزیع درآمد در کشور } = \frac{21}{3} = 7$$

$$D \text{ شاخص وضعیت توزیع درآمد در کشور } = \frac{20}{4} = 5$$

توزیع درآمد در کشور C در مقایسه با سایر کشورها نامناسب تر است و شاخص توزیع درآمد در کشور A که وضعیت توزیع درآمد آن از سایر کشورها مناسب تر است، ۳ است.

۱۴ گزینه ۲ در گذشته دولت ها بیشتر حافظان نظم و امنیت و مدافع ملت ها در مقابل دشمنان داخلی و خارجی بودند. امروزه دولت ها علاوه بر حفظ نظم و امنیت در عرصه اقتصاد فعالیت بسیار گسترده ای دارند.

۱۵ گزینه ۳ نقش اقتصادی دولت ها در زمان های گذشته در مقایسه با امروز بسیار کم رنگ بود و به موارد خاص و حالت های استثنایی محدود می شد. به این ترتیب، دولت ها بیشتر حافظان نظم و امنیت و مدافع ملت ها در مقابل دشمنان داخلی و خارجی بودند و برای تأمین هزینه های مربوط به این فعالیت ها به جمع آوری مالیات اقدام می کردند؛ اما امروزه دولت ها در عرصه اقتصاد فعالیت بسیار گسترده ای دارند و حضورشان را در اقتصاد جامعه نمی توان نادیده گرفت. آن ها علاوه بر حفظ نظم و امنیت، وظایفی نظیر هدایت جامعه در مسیر رشد و توسعه پایدار اقتصادی، ایجاد اشتغال، فقرزدایی، کاهش نابرابری و توزیع عادلانه درآمد و ثروت، مقابله با تورم، حفظ ثبات اقتصادی و نظایر آن را نیز بر عهده گرفته اند.

۱۶ گزینه ۴ به طور کلی، دولت با در نظر گرفتن تصویری از آینده اقتصاد و مشخص کردن اهداف آن، می کوشد فعالیت های اقتصادی جامعه را به سمت و سوی مورد نظر خود هدایت کند. این مسئله مربوط به فعالیت های دولت در عرصه اقتصاد، محور وضع مقررات، سیاست گذاری و حکمرانی می باشد.



۱۷ گزینه ۲ در سال‌های اخیر در کشور ما توجه جدی سیاست‌گذاران به ضرورت اقتصاد مردمی و نقش‌آفرینی و مشارکت بیش‌تر بخش‌های خصوصی و تعاونی و عمومی و افزایش توان و اقتدار آن‌ها جلب شده است. دولت ملزم شده است که با واگذاری بخش مهم از فعالیت‌های خود در عرصه اقتصاد به بخش‌های غیر دولتی، که در چارچوب سیاست‌های اجرای اصل ۴۴ قانون اساسی مطرح شده است و همین‌طور سپردن ۲۵٪ از اقتصاد کشور به بخش تعاونی، حضور مستقیم خود را در مدیریت و مالکیت اقتصاد کاهش دهد و موجبات تقویت اقتصاد مردمی را فراهم سازد؛ این به معنای حرکت در مسیر دستیابی به ترکیب بهینه از حضور دولت و مشارکت بخش غیردولتی در اقتصاد کشور است.

۱۸ گزینه ۱ الف) دولت‌ها برای تحقق هدف اشتغال کامل می‌کوشند زمینه رونق اقتصادی را فراهم آورند.

ب) بیکاری اصطلاحی نوعی از بیکاری است که در آن افراد در حال جابه‌جایی از کاری به کار دیگر هستند.

۱۹ گزینه ۳ این جمله از مرحوم آخوند خراسانی (ره) می‌باشد و مربوط به دوره قاجاریه است.

۲۰ گزینه ۲ سایر گزینه‌ها درست هستند ولی در ارتباط با عبارت داده شده نیستند.

۲۱ گزینه ۳ الف) محدودیت ذخایر معدنی با وجود فراوانی دو علت دارد: ۱) ناشناخته بودن بسیاری از آن‌ها ۲) محدود بودن دانش فنی، بنابراین گزینه ۲ و ۴ نادرست هستند.

ب) انتخاب بهینه از منابع و امکانات، برای رسیدن به منافع بیشتر، انسان را با مهم‌ترین مسئله زندگی یعنی "انتخاب" روبه‌رو می‌کند. بنابراین گزینه ۳ صحیح است.

ج) انسان پس از رفع نیاز احساس رضایت می‌کند.

۲۲ گزینه ۴ بازیگران کلان شامل (سازمان‌های اقتصادی بین‌المللی و جهانی و دولت‌ها) می‌باشد و بازیگران خرد شامل (افراد، خانواده‌ها، شرکت‌ها و مؤسسات انتفاعی و ...)

هدف سازمان‌های اقتصادی بین‌المللی و جهانی رونق روابط اقتصادی بین کشورها و حفظ حقوق همه طرف‌های درگیر در تجارت جهانی است.

بازیگران کلان عرصه اقتصاد با هدف ایجاد نظم، انضباط و نظارت بر عملکرد اقتصاد یا تأمین برخی نیازهای عمومی فعالیت می‌کنند.

بازیگران خرد در تولید محصولات و یا مصرف آن‌ها و مبادله با یکدیگر نقش ایفا می‌کنند.

۲۳ گزینه ۱ الف) حیزات برداشت مستقیم محصول آماده طبیعت است.

ب) صنعت، ترکیب و تبدیل مواد حیزات شده و یا محصولات به دست آمده از احیا و ایجاد ارزش مصرفی یا مبادلاتی در آن‌ها به دست می‌آید. مثل صنایع غذایی

ج) زراعت، باغبانی و پرورش ماهی مثال برای احیا هستند.

۲۴ گزینه ۳ الف) متوقف ماندن انسان در نیازهای مادی و حیوانی، کمال‌جویی را به نوعی سبیری‌ناپذیری تبدیل می‌کند.

ب) محدود بودن منابع و امکانات + محدودیت داشتن انسان در بهره‌برداری از منابع «کمیایی» نام دارد.

۲۵ گزینه ۲ - شرکت پخش و پالایش فراورده‌های نفتی: بازار انحصاری

- حضور و رفتار هریک از عرضه‌کنندگان و تقاضاکنندگان به نسبت کل بازار بسیار کوچک است: بازار رقابتی

- گاه به دلایل طبیعی، اقتصادی، قانونی و یا حتی غیرقانونی تعداد فروشنده یا خریدار به یک یا چند نفر محدود می‌شود: بازار انحصاری

- بازار محصولاتی چون ماکارونی: بازار رقابتی

- فروشندگان آثار هنری در نمایشگاه‌ها و حراجی‌ها: مزایده

- شرکت توانیر در کشور ما: بازار انحصاری

- خریداران عمده کالا و خدمات (مثل خریدهای دولتی): مناقصه

۲۶ گزینه ۲ اگر با به‌کارگیری یک «نظام صحیح مالیاتی»، توزیع مجدد درآمد به‌نحوی قانونی صورت گیرد، تفاوت میان درآمد و ثروت یک گروه محدود و اکثریت چشم‌گیر مردم کاهش می‌یابد.

۲۷ گزینه ۳ منظور از اوراق بهادار، اسنادی است که در فرایند تأمین منابع مالی به‌عنوان تضمین صادر می‌شود و این اوراق به دو دسته کلی تقسیم می‌شوند:

۱- اوراق سهام، ۲- اوراق مشارکت

۲۸ گزینه ۱ به دو دلیل دولت از مردم مالیات می‌گیرد. اول این‌که دولت بهای برخی از کالاها و خدمات عمومی را مستقیماً از شهروندان دریافت نمی‌کند. دوم، رفع نابرابری بین

افراد پردرآمد و کم‌درآمد را وظیفه خود می‌داند. تمام وجوهی که دولت طبق قانون بابت تأمین این دو هدف از اشخاص حقیقی و حقوقی دریافت می‌کند، مالیات نام دارد.

۲۹ گزینه ۱ انسان به مثابه مهم‌ترین عامل تولید، به آموزش و تأمین اقتصادی و اجتماعی نیاز دارد و هرگونه سرمایه‌گذاری در این زمینه‌ها به افزایش بهره‌وری نیروی کار و در

پی آن بالا رفتن درآمد ملی منجر می‌شود.

۳۰ گزینه ۲ به ترتیب هر یک از موارد ذکر شده در صورت سؤال به اصل ۴۴ - اصل ۴۳ - اصل ۴۵ - اصل ۵۰ - اصول ۵۱ تا ۵۵ - اصل ۴۷ قانون اساسی اشاره دارند.

۳۱ گزینه ۴ الف) سرمایه‌گذاری برای احداث کارخانه تراکتورسازی - مولد / ساخت شبکه‌های بزرگ آب‌رسانی - زیربنایی / تربیت نیروی انسانی - اجتماعی

ب) مالیات بر اتومبیل - مالیات بر دارایی و ثروت / مالیات بر فروش اتومبیل - مالیات بر نقل و انتقالات دارایی / عوارض اتومبیل - عوارض شهرداری

۳۲ گزینه ۴ در دوران حکومت قاجار، از دست دادن بخش‌های مهمی از سرزمین و منابع ایران، هزینه‌های شکست در جنگ، عهدنامه‌های ننگین و مبالغ جرمی‌های گزاف آن‌ها،

بی‌توجهی به سرمایه‌های انسانی و اجتماعی، سیاست‌های رکودی و انقباضی (افزایش بیش از حد مالیات)، نبودن برنامه‌ریزی و قانونگذاری اقتصادی، اعطای امتیازها به شرکت‌ها و کشورهای

استعماری، تأسیس بانک‌های روسی و انگلیسی و سیل ورود کالاهای خارجی، صدمات جدی بر ساختار اقتصاد ایران وارد کرد.

عبارت گزینه ۴، از عواملی است که در دوران پهلوی بر بیماری اقتصاد ایران افزود.

۳۳ گزینه ۴ تأکید بر اصلاح نظام مالیاتی، افزایش صادرات غیرنفتی و حرکت به سمت فروش فراورده‌های نفتی به جای نفت خام به تنوع منابع درآمدی کشور کمک می‌کند.

۳۴ گزینه ۳ تشریح موارد نادرست:

انسان به مثابه مهم‌ترین عامل تولید به آموزش و تأمین اقتصادی-اجتماعی نیاز دارد.

۳۵ گزینه ۲ الف) نزولی بودن منحنی تقاضا به این معناست که با افزایش قیمت یک کالا، مقدار تقاضای آن کاهش می‌یابد و در مقابل با کاهش قیمت، مقدار تقاضا افزایش می‌یابد.

وقتی که در بازار قیمت از سطح قیمت تعادلی بالاتر برود، «مازاد عرضه (کمبود تقاضا)» به وجود می‌آید و چون گروهی از تولیدکنندگان موفق نمی‌شوند کالایشان را بفروشند، حاضر خواهند

بود آن را با قیمتی پایین‌تر به فروش برسانند؛ در نتیجه قیمت پایین می‌آید. این کاهش قیمت تا برقراری تعادل در بازار ادامه می‌یابد.

ب) در بازار هنگامی «کمبود عرضه» اتفاق می‌افتد که قیمت از سطح قیمت تعادلی پایین‌تر باشد. در نتیجه، گروهی از مصرف‌کنندگان موفق به خرید کالای مورد نیاز خود نخواهند شد (میزان

تقاضا بیشتر از عرضه است). این گروه، برای خرید کالا حاضرند مبلغ بالاتری بپردازند و این امر سبب افزایش قیمت کالا می شود. بالا رفتن قیمت باعث می شود تا از یک سو، تولیدکنندگان رغبت بیشتری به تولید نشان دهند و از سوی دیگر، مصرف کنندگان از مصرف خود بکاهند. پس در حالت کمبود، قیمت بالا می رود و فاصله بین عرضه و تقاضا کاهش می یابد. این افزایش قیمت تا سطحی ادامه می یابد که در آن، فاصله بین عرضه و تقاضا از بین برود و تعادل در بازار برقرار شود. این سطح قیمت، همان قیمت تعادلی است. تنها در سطح قیمت تعادلی، درآمد تولیدکنندگان حداکثر خواهد بود و تولیدکننده بیشترین دریاقتی را خواهد داشت.

ریال  $40 \times 300 = 12,000$

پ) شیب منحنی عرضه نشان دهنده درجه حساسیت تولیدکننده نسبت به قیمت است. اگر تولیدکننده ای به دلیل مدیریت ضعیف یا فرسوده بودن تجهیزات نتواند با افزایش قیمت، تولید خود را افزایش دهد، منحنی عرضه اش با شیب بیشتر است و اصطلاحاً می گوئیم که کشش قیمتی عرضه ضعیف است.

ت) در کشور ما شرکت های خودرویی به دلایل قانونی انحصارگر در فروش کالای خود به شمار می روند. خریداران عمده کالاها و خدمات «منافسه» برگزار می کنند.

۳۶ گزینه ۱ الف) براساس اصل مزیت مطلق هر کشور باید کالایی را تولید کند که هزینه تولید آن در مقایسه با سایر کشورها کمتر باشد، در نتیجه کشور A در تولد برنج و کشور C در تولید جو مزیت مطلق دارند.

ب) هر چند کشور B در تولید هیچ یک از دو کالا نسبت به کشورهای A و C مزیت مطلق ندارد، اما در کشور خود در تولید جو نسبت به برنج مزیت نسبی دارد. (هر کیلو جو را ارزان تر از برنج تولید می کند)؛ بنابراین باید در تولید جو متمرکز شود و برنج مورد نیاز خود را از کشور A وارد کند.

ج) با توجه به وضعیت کشور A و بدون در نظر گرفتن هزینه های حمل و نقل، این کشور می تواند برنج را در داخل تولید کند و جوی مورد نیاز خود را از کشور C وارد کند.

۳۷ گزینه ۴ الف) آمارهای اقتصادی در سطوح چهارگانه زیر ارائه می شود.

- ۱ - خرد (سطح خانوار با شرکتها و مؤسسات تولیدی)
- ۲ - شهری
- ۳ - منطقه ای
- ۴ - کلان (ملی و بین المللی)

د) «ب» و «ج» از شروط محاسبه تولیدات در تولید کل:

۱ - از بازار عبور کند؛ یعنی تولیدکننده آنها را در مقابل دریافت پول به مصرف کننده تحویل دهد. پس اگر فردی به کاشت سبزیجات در منزل برای مصرف خانگی بپردازد، در تولید کل محاسبه نمی شود.

۲ - فعالیت هایی که به تولید کالا یا خدمات «نهایی» منتهی شود، از آنجا که ارزش کالاهای واسطه ای در درون کالاهای نهایی است، در محاسبه تولید کل از محاسبه آن صرف نظر می شود.

۳۸ گزینه ۴

$$\left. \begin{aligned} \frac{20\% \text{ بالا}}{20\% \text{ پایین}} &= \frac{21 + 18}{3 + 5} = \frac{39}{8} = 4.8 \\ \frac{10\% \text{ بالا}}{40\% \text{ پایین}} &= \frac{21}{3 + 5 + 7 + 9} = \frac{21}{24} = 0.875 \end{aligned} \right\} \text{ الف و ب}$$

هر چه بیشتر، نامناسبتر؛ پس  $\frac{10\%}{40\%}$  مناسبتر و  $\frac{20\%}{20\%}$  نامناسبتر است

ج) فرمول شاخص توزیع نابرابری  $\frac{\text{شاخص دهک بالا } 10\%}{\text{شاخص دهک اول } 10\%} = \frac{\text{دهک دهم}}{\text{دهک اول}}$

۳۹ گزینه ۴

هزینه ها - درآمد = سودبنگاه

هزینه های مستقیم - درآمد = سود حسابداری

هزینه های مستقیم و غیرمستقیم - درآمد = سود و زیان اقتصادی

قیمت آنها  $\times$  کل محصولات = درآمد

ب) از تأثیرات بورس بر جامعه است.

۴۰ گزینه ۱ - امروزه یکی از معیارهای بسیار رایج برای طبقه بندی کشورهای مختلف دنیا، طبقه بندی براساس سطح توسعه یافتگی است.

- تولید ناخالص داخلی سرانه سوئیس در سال ۲۰۱۵  $\approx$  بیش از ۸۰۶۷۵ دلار.

۴۱ گزینه ۱ الف) تولیدکنندگان و مؤسسات اقتصادی بر اساس انگیزه های خود، به دو دسته عمده انتفاعی و غیرانتفاعی تقسیم می شوند.

ب) سازمان تولید جایگاه و نقش هر یک از عوامل تولید را تعیین می کند.

ج) انواع سازمان های تولیدی به سازمان های تعاونی، خصوصی، سهامی خاص و سهامی عام تقسیم می شوند.

۴۲ گزینه ۱ توصیه های پزشک خانواده، مشاوره حقوقی، تبلیغات برای بنگاه: خدمات (خدمت مستقیم برای مصرف کننده نهایی است).

خودروی دست دوم خریداری شده توسط خانوار: کالای بادوام

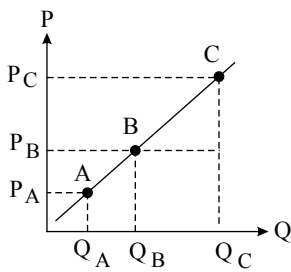
سامانه های بزرگ رایانه ای مورد استفاده در بنگاه تولیدی: کالاهای سرمایه ای

۴۳ گزینه ۴ منحنی تقاضا از چپ به راست نزولی است و رابطه آن با قیمت کالا معکوس است. بنابراین در نقطه B مقدار تقاضا بیشتر، اما قیمت کمتر است.

۴۴ گزینه ۴ الف) با توجه به اینکه نمودار صعودی است، نشان دهنده مفهوم عرضه در بازار است.

ب) در نقطه B نسبت به نقطه C قیمت و مقدار کمتر است.

(ج) علت حرکت از نقطه  $B$  به  $A$  کاهش قیمت کالا در بازار است.  
(د) علت حرکت از نقطه  $B$  به  $C$  افزایش قیمت کالا در بازار است.



$$P_C > P_B > P_A$$

$$Q_C > Q_B > Q_A$$

- ۴۵ گزینه ۳ بازار کالایی چون ماکارونی: رقابتی / بازار خودرو در کشور ما: انحصار در فروش / شرکت پخش و پالایش فرآورده‌های نفتی: از یک سو تنها خریدار و از یک سو تنها فروشنده (انحصار در خرید و فروش) / شرکت توانیر در کشور ما: انحصار در فروش / فروشندگان آثار هنری: مزایده / خریدهای دولتی: مناقصه
- ۴۶ گزینه ۲ الف)

ارزش محصول در مرحله قبل - ارزش محصول در آن مرحله = ارزش افزوده محصول در هر مرحله

ریال  $1000 = 6500 - 7500$  = ارزش افزوده مرحله دوم

ارزش محصول در مرحله سوم - ارزش محصول در مرحله چهارم = ارزش افزوده مرحله چهارم

ریال  $8000 = 19000 - 11000$  = ارزش افزوده مرحله چهارم

(ب) در «روش درآمدی» و «روش هزینه‌ای» کل پولی که از طرف خانوارها به سمت بنگاه‌ها جریان می‌یابد محاسبه می‌شود.

(ج) اقتصاددانان برای جلوگیری از اشتباه، حداقل دو روش را برای محاسبه به کار می‌گیرند و جواب‌ها را مقایسه می‌کنند.

- ۴۷ گزینه ۴ برای تعیین شاخص توسعه استفاده از شاخص درآمد سرانه، به تنهایی نادرست است. زیرا توسعه علاوه بر افزایش تولید کمی، تغییرات کیفی را نیز در نظر می‌گیرد. در کنار درآمد سرانه از معیارهای تکمیلی دیگری نیز استفاده می‌شود؛ مانند: شاخص توسعه انسانی (HDI).

۴۸ گزینه ۱ یخچال مورد استفاده در سوپرمارکت: کالای سرمایه‌ای

پارچه مورد استفاده در خیاطی: کالای واسطه‌ای

نورافشان: کالای تجمیلی

اتومبیل خانوار: کالای بادوام

۴۹ گزینه ۳ الف) شبه پول

ب) پوست سمور

پ) چک

۵۰ گزینه ۱ «رشد» صرفاً به معنای افزایش تولید است؛ بنابراین مفهومی کمی دارد و در کشور موزامبیک سطح پایین توسعه با سطح پایین رشد هماهنگی دارد.

۵۱ گزینه ۲ به دولت که برای ایجاد نظم و انضباط و نظارت بر عملکرد اقتصاد یا تأمین برخی نیازهای عمومی فعالیت می‌کند، «بازیگر کلان» می‌گویند.

۵۲ گزینه ۲ الف) نوع دوم از تولید که «صنعت» نام دارد از ترکیب و تبدیل مواد حیازت شده و یا محصولات به دست آمده از احیای منابع طبیعی و ایجاد ارزش مصرفی یا مبادلاتی در آن‌ها به دست می‌آید.

(ب) «حیازت»، موجب مالکیت فرد می‌شود و بدون آن، اولین تولید انسان ممکن نبوده است.

(ج) در نوع اول تولید، انسان با در اختیار داشتن منابع و محصولات طبیعی، و همچنین با کار خود و استفاده از ابزار، منابع طبیعی را به تولید می‌رساند که به آن «احیاء» می‌گویند.

۵۳ گزینه ۴ در تئاتر، تعیین و محاسبه قیمت‌ها و تبدیل آن‌ها به یکدیگر مشکل‌زا بود. همچنین پس‌انداز و حفظ ارزش و انتقال آن به آینده نیز، مردم را با مشکلاتی مواجه می‌کرد.

۵۴ گزینه ۳ گاهی افراد با شنیدن کاهش نرخ تورم به اشتباه انتظار دارند که سطح عمومی قیمت‌ها کاهش یافته و به عبارتی دیگر اجناس ارزان‌تر شده باشد در حالی که کاهش تورم به معنای کاهش شتاب افزایش قیمت‌ها است و قیمت‌ها همچنان با شتابی کم‌تر از قبل، افزایش خواهد یافت.

۵۵ گزینه ۲ هزینه‌های دولت به دو دسته عمده تقسیم می‌شود:

الف) هزینه‌های جاری (عادی) که این هزینه‌ها را می‌توان به شرح زیر طبقه‌بندی کرد.

۱- هزینه‌های کارکنان، مانند: حقوق و مزایای نظامیان، معلمان، قضایان و...

۲- هزینه‌های اداری، مانند: هزینه‌های حمل و نقل، اجاره، آب و برق و...

۳- پرداخت‌های انتقالی، مانند: پرداخت‌های دولت برای حمایت از تولیدکننده، نخبگان یا آسیب‌دیدگان ناشی از حوادث طبیعی، پرداخت به روستاییان تحت پوشش طرح شهید رجایی و...

(ب) هزینه‌های سرمایه‌ای یا عمرانی که این هزینه‌ها را نیز می‌توان به شرح زیر طبقه‌بندی کرد:

۱- سرمایه‌گذاری‌های مولد، مانند: ایجاد و استقرار کارخانه‌های نساجی، خودروسازی، تراکتورسازی و مواد غذایی

۲- سرمایه‌گذاری‌های زیربنایی، مانند: ساخت و احداث جاده‌ها، خطوط راه‌آهن و...

۳- سرمایه‌گذاری‌های اجتماعی، مانند: سرمایه‌گذاری در آموزش و پرورش، آموزش عالی، امور فرهنگی و هنر

۵۶ گزینه ۱ الف) مربوط به اقتصاد ایران از ۱۳۰۰ تا ۱۳۵۷ است.

(ب) مربوط به اقتصاد ایران بعد از پیروزی انقلاب اسلامی است.

(ج) مربوط به اقتصاد ایران از ۱۳۰۰ تا ۱۳۵۷ است.

د) پیشرفت روزافزون جوامع انسانی، مشکلات جدیدی را در عرصه مبادله به همراه داشت. پول فلزی که پیش از این در معاملات کوچک بسیار کارساز بود، در گذر تحولات اقتصادی و ظهور معاملات بزرگ با مشکلاتی روبه‌رو شد.

۵۹ گزینه ۴ - با کمک آن‌ها روابط اقتصادی بین کشورها بیشتر رونق می‌گیرد و حقوق همه طرف‌های درگیر در تجارت جهانی حفظ می‌شود ← سازمان‌های اقتصادی بین‌المللی و جهانی

- این فعالان عرصه اقتصاد با هدف ایجاد نظم و انضباط و نظارت بر عملکرد اقتصاد یا تأمین برخی نیازهای عمومی فعالیت می‌کنند. ← بازیگران کلان

- این فعالان عرصه اقتصاد، در تولید محصولات و یا مصرف آن‌ها و مبادله با یکدیگر نقش ایفا می‌کنند. ← بازیگران خرد

۶۰ گزینه ۳ الف) درست

ب) نادرست - منابع و امکانات محدودند.

پ) نادرست - اگر انسان در نیازهای مادی و حیوانی خود متوقف شود، کمال‌جویی به نوعی سیری‌ناپذیری تبدیل می‌شود.

ت) درست

۶۱ گزینه ۲ الف) مؤسسات انتفاعی و خیریه‌ها بازیگر خرد محسوب می‌شوند.

ب) وظایف دولت: ۱- ایجاد نظم و انضباط ۲- نظارت بر عملکرد اقتصاد ۳- تأمین برخی نیازهای عمومی

ج) این وظایف مربوط به سازمان‌های اقتصادی بین‌المللی و جهانی می‌شود.

۶۲ گزینه ۴ ۱) اگر دستمزد ۱۲٪ افزایش یابد و در همان زمان تورم ۷٪ باشد، قدرت خرید واقعی ۵٪ افزایش یافته است.

۲) اگر تورم جهانی ۲۰٪ باشد و صادرات اسمی ۱۲٪ افزایش یافته است، صادرات به میزان ۸٪ کاهش یافته است.

۳) اگر سود اسمی سهام ۱۰٪ و نرخ تورم ۴٪ باشد، آن‌گاه سود واقعی ۶٪ است.

۴) درست است.  $10\% - 4\% = 6\%$

۶۳ گزینه ۱ الف) نمودار صعودی است و لذا منحنی عرضه را نشان می‌دهد.

ب) اگر از نقطه A به نقطه B برسیم این مفهوم قابل درک است که با افزایش قیمت میزان عرضه کالا نیز افزایش می‌یابد.

۶۴ گزینه ۲ بانک‌ها، صرفاً در واژه بانک مشترک‌اند، ولی به نوعی هریک مؤسسه پولی و اعتباری متمایزی هستند که نباید آن‌ها را یکسان پنداشت.

بانک‌ها فقط با مجوز بانک مرکزی تأسیس می‌شوند و تمام فعالیت‌های پولی و بانکی آن‌ها باید تحت کنترل و نظارت شدید باشد.

۶۵ گزینه ۲ الف) منحنی «عرضه» نشان‌دهنده چگونگی رفتار اقتصادی تولیدکنندگان است. ب) تصمیم تولیدکنندگان در مورد تولید کالا از عواملی چون سطح قیمت آن کالا، هزینه‌های تولید (قسمت‌های عوامل تولید) و پیش‌بینی تولیدکنندگان در مورد رونق یا رکود بازار تأثیر می‌پذیرد.

ج) نزولی بودن منحنی تقاضا به این معنا است که با افزایش قیمت یک کالا، میزان تقاضای آن کاهش می‌یابد (یا برعکس).

۶۶ گزینه ۲ الف) سیاست مالی انقباضی (کاهش مخارج دولت و افزایش مالیات) در مواقع تورم با کاهش تقاضای کل در اقتصاد، موجب ثبات اقتصادی می‌شود.

ب) کاهش و افزایش حجم پول در گردش از سیاست‌های پولی دولت می‌باشند.

ج) توجه به زیرساخت‌ها و سرمایه‌گذاری در مناطق محروم کشور از جمله سیاست‌های توسعه‌ای به‌شمار می‌روند.

د) دولت‌ها برای مدیریت کلان اقتصاد کشور و اجرای وظایف خود، بسته به سیاست‌های مالی اجرا می‌کنند که از دو ابزار درآمدها و مخارج دولت تشکیل شده است.

۶۷ گزینه ۴ الف) یکی از معیارهای سنجش وضعیت توزیع درآمد، شاخص دهک‌هاست. از مهم‌ترین ابزارهای رویارویی با نابرابری توزیع درآمد برقراری یک سامانه و نظام مناسب و کارآمد مالیاتی است.

ب) انسان به‌مثابه مهم‌ترین عامل تولید به آموزش و تأمین اقتصادی - اجتماعی نیاز دارد و هرگونه سرمایه‌گذاری در این زمینه‌ها به افزایش بهره‌وری نیروی کار و در پی آن، افزایش درآمد ملی منجر می‌شود.

ج) سطح حداقل معیشت (خط فقر) از یک کشور به کشور دیگر یا از یک زمان به زمان دیگر متفاوت است و این امر منعکس‌کننده تفاوت در نیازها است. افرادی که در زمانی یا کشوری فقیر

به‌شمار نمی‌روند، چه بسا در زمانی دیگر و یا در کشوری دیگر فقیر باشند. این مفهوم «فقر نسبی» نامیده می‌شود.

۶۸ گزینه ۲ الف) تشریح عبارت‌های نادرست:

الف) بانک‌های مسکن یا کشاورزی بانک‌های تخصصی هستند که در ایران بیشتر نقش بانک تجاری را ایفا می‌کنند.

ج) در کشور ما، پس از پیروزی انقلاب اسلامی، به جای اوراق قرضه، از اوراق مشارکت استفاده می‌شود.

د) صاحبان سهام به نسبت سهامی که خریده‌اند، مالک، و در سود و زیان شرکت سهیم می‌شوند.

۶۹ گزینه ۲ الف) قیمت تعادلی، ۵۰۰ و مقدار تعادلی ۷۰۰ است.

ب) در قسمت (۱) بازار با مازاد تقاضا یا کمبود عرضه روبه‌روست.

پ) در قیمت‌های بالاتر از قیمت تعادلی (۵۰۰) بازار با مازاد عرضه مواجه است.

ت) در حالت کمبود عرضه، گروهی از مصرف‌کنندگان به خرید کالای مورد نیاز خود موفق نخواهند شد. این گروه برای خرید کالا حاضرند مبلغ بیش‌تری بپردازند و این امر سبب افزایش قیمت کالا می‌شود. با افزایش قیمت، از یک سو تولیدکنندگان به تولید رغبت بیش‌تری نشان می‌دهند و از سوی دیگر مصرف‌کنندگان از مصرف خود می‌کاهند.

۷۰ گزینه ۳ الف) رفاه اجتماعی با از بین رفتن فقر و کاهش نابرابری‌ها تحقق می‌یابد.

ب) معمولاً با در نظر گرفتن دو شاخص درآمد سرانه و میزان نابرابری در توزیع درآمد، می‌توان تصویری از وسعت و اندازه فقر در هر کشور به‌دست آورد.

ج) یکی از معیارهای سنجش وضعیت توزیع درآمد، شاخص «دهک‌هاست» برای محاسبه این معیار، مردم کشور را به ده گروه جمعیتی مساوی تقسیم می‌کنند. در طبقه‌بندی این ده گروه،

سطح درآمد از کم‌ترین به بیش‌ترین مدنظر قرار می‌گیرد. به عبارت دیگر، گروه اول که ۱۰ درصد اولیه جمعیت را تشکیل می‌دهند، کم‌ترین درصد درآمد ملی و ۱۰ درصد آخر بیش‌ترین

درصد درآمد ملی را دارند. با محاسبه نسبت دهک دهک به دهک اول در کشورهای مختلف، شاخصی به‌دست می‌آید که برای مقایسه وضعیت توزیع درآمد بین آن‌ها به‌کار می‌رود. هرچه این

نسبت بیش‌تر باشد، توزیع درآمد در آن جامعه نامناسب‌تر است.

د) اگر با به‌کارگیری نظام صحیح مالیاتی، توزیع مجدد درآمد به‌گونه‌ای قانونی صورت پذیرد، تفاوت میان درآمد و ثروت گروه محدود و اکثریت چشمگیر مردم کاهش می‌یابد.

ه) انسان (به‌مثابه مهم‌ترین عامل تولید) به آموزش و تأمین اقتصادی-اجتماعی نیاز دارد و هرگونه سرمایه‌گذاری در این زمینه‌ها به افزایش بهره‌وری نیروی کار و در پی آن افزایش درآمد ملی منجر می‌شود.

و) توزیع عادلانه درآمد و کاهش فقر می‌تواند انگیزه قدرتمند همکاری و مشارکت عموم افراد جامعه را در فرآیند توسعه سالم اقتصادی ایجاد کند.

۷۱) گزینه ۲ الف) معمولاً شاخص رشد با شاخص توسعه هماهنگ است؛ به‌طور مثال، سطح پایین توسعه در موزامبیک با سطح پایین رشد در این کشور و با سطح بالای توسعه در نروژ با سطح بالای رشد در این کشور هماهنگی دارد. البته دو گروه از کشورها استثنا محسوب می‌شوند: ۱- تعداد معدودی از کشورها که با داشتن یک ماده گران‌بها مانند نفت امکان دسترسی به درآمد سرانه بالا را دارند. ۲- تعدادی از کشورهای در حال توسعه مانند چین که با اجرای برنامه‌های بلندمدت، شاخص‌های توسعه خود را بهبود بخشیده‌اند؛ با وجود این که درآمد سرانه پایین دارند.

ب) نرخ مرگ‌ومیر نوزادان در چین ۱۰/۹ در هر هزار تولد، امید به زندگی در موزامبیک ۵۵/۱ سال، تولید ناخالص داخلی سرانه در نروژ ۶۲۴۴۸ دلار و رتبه کشور چین در شاخص توسعه انسانی ۹۰ است.

۷۲) گزینه ۱ - توزیع عادلانه درآمد و کاهش فقر می‌تواند انگیزه قدرتمند همکاری و مشارکت عموم افراد جامعه را در فرآیند توسعه سالم اقتصادی ایجاد کند.

- اصلاح ساختار توزیع درآمد و عادلانه‌تر کردن آن و مقابله با فقر مستلزم توانمندسازی افراد و به‌ویژه مولد کردن آن‌ها است.

۷۳) گزینه ۴ الف) در جمهوری اسلامی ایران مراحل تنظیم و پیشنهاد و اجرای بودجه برعهده دولت است.

ب) به آن دسته از هزینه‌های دولتی که صرف احداث بنا یا خرید کالاهایی می‌شود که با بقای اصل آن‌ها مورد استفاده قرار می‌گیرند، هزینه‌های سرمایه‌ای دولت می‌گویند.

۷۴) گزینه ۲ تشریح عبارات نادرست:

زندگی عموم انسان‌ها در جامعه شهری بر تک‌محصولی مبتنی است و بنابراین هر فردی با تخصص خود به یک شغل و حرفه مشغول است.

۷۵) گزینه ۴ الف) افزایش بهره‌وری و امنیت اقتصادی، بهبود محیط کسب و کار، برنامه‌ریزی در جهت به‌کارگیری فناوری‌های نوین

ب) وابستگی و شکنندگی اقتصادی در مقابل تکان‌های داخلی و خارجی را بکاهد، واردات غیرضروری و مصرف بی‌رویه کالاهای وارداتی را کاهش دهد و صادرات را تشویق کند. بدین ترتیب دولت تجارت خارجی را سامان می‌دهد.

ج) دولت با اعمال سیاست‌های تثبیت اقتصادی، تقاضای کل اقتصاد را در کوتاه مدت مدیریت و تنظیم می‌کند.

۷۶) گزینه ۲ الف) هزینه‌های اداری

ب) سرمایه‌گذاری‌های زیربنایی

د) پرداخت‌های انتقالی

۷۷) گزینه ۴ در سند چشم‌انداز ۲۰ ساله جمهوری اسلامی ایران، وضعیت اقتصادی در افق سال ۱۴۰۴ ه.ش. توصیف و مشخص شده است.

۷۸) گزینه ۱

$$\text{میلیون ریال } ۸ = \frac{۱۶۰}{۲۰} = \frac{\text{قیمت (ارزش) کالا}}{\text{عمر مفید}} = \text{هزینه استهلاک}$$

$$\text{میلیون ریال } ۳۲ = ۸ - ۴۰ = \text{درآمد خالص}$$

۷۹) گزینه ۴ بررسی عبارات نادرست:

الف) بازار محصولاتی مانند ماکارونی معمولاً رقابتی است.

ث) اصول ۵۱ تا ۵۵ قانون اساسی به مباحث مالی دولت شامل دریافت‌ها و درآمدهای دولت، بحث بودجه و نهادهای تصویب‌کننده و ناظر بر حسن اجرای آن تأکید دارد.

۸۰) گزینه ۱ - قبل از شکل‌گیری خدمات نوین بانک، نقدینگی کل مساوی با مجموع مسکوکات و اسکناس‌های در گردش و خارج از گردش بود.

- بانک توسعه صادرات یک بانک تخصصی محسوب می‌شود.

- منظور از اوراق بهادار اسنادی است که در فرآیند تأمین منابع مالی به عنوان تضمین صادر می‌شود.

۸۱) گزینه ۲ الف) تصمیماتی که انسان در مورد مسائل اقتصادی می‌گیرد، عمدتاً در نیازها و خواسته‌های نامحدود او ریشه دارد و باید از طریق به‌کارگیری منابع و امکانات محدود و در دسترس، عملی شوند.

ب) هدف علم اقتصاد، راهنمایی انسان برای بهترین انتخاب و به‌کارگیری بهترین روش به‌منظور استفاده از منابع و امکانات خویش است.

ج) دانشمندان علوم اقتصادی، موضوعات اقتصادی را همانند سایر علوم با روش‌های علمی مورد مطالعه قرار می‌دهند.

۸۲) گزینه ۴ الف) سازمان تولید، جایگاه و نقش هریک از عوامل تولید را تعیین می‌کند.

ب) صاحب سرمایه مالی یا به صورت قرض‌الحسنه در تولید مشارکت می‌کند، یا به‌عنوان صاحب‌کار در سود و زیان شریک می‌شود.

ج) دو تولیدکننده‌ای که عوامل تولید یکسانی دارند، آن‌ها که محصول بیشتری داشته باشد، بهره‌وری بیشتری داشته است.

د) به میزان عایدی انتخاب دوم، «هزینه فرصت» می‌گویند که در سود اقتصادی (سود ویژه) محاسبه می‌شود.

۸۳) گزینه ۱ تشریح عبارات نادرست:

الف) مواجهه تقاضاکننده و عرضه‌کننده، «بازار» را شکل می‌دهد.

پ) در مباحث اقتصادی وقتی از بازار کالای خاصی سخن می‌گوییم، منظور ارتباط خریداران و فروشندگان آن کالا است و نه ضرورتاً مکان خاصی که به اصطلاح «بازار» نامیده شود.

ت) هرگاه در بازار قیمت در سطح قیمت تعادلی نباشد، عواملی آن را به سمت قیمت تعادلی می‌کشاند؛ مشروط بر این‌که عوامل بیرونی مثل قیمت‌گذاری دولت مانع این تعدیل نشود.

۸۴) گزینه ۴ الف) به ترتیب بانک توسعه صادرات یک بانک تخصصی و بانک ملی نیز یک بانک تجاری می‌باشد.

ب) با تصویب قانون بانکداری بدون ربا و اجازه به بانک‌ها که براساس عقود اسلامی (مثل مضاربه و جعاله) به فعالیت‌های واقعی اقتصادی هم بپردازند، اغلب بانک‌ها در ایران هم‌زمان بانک سرمایه‌گذاری هم هستند.

ب)

$$۱۰۰ = \frac{۱۰۰۰۰۰۰}{۱۰۰۰۰} = \text{برگ سفته باید تحویل بانک بدهد } ۱۰۰$$

۸۵ گزینه ۴ در روش تأمین مالی از طریق صدور اوراق بهادار، مراکز تجاری و بازرگانی به جای اینکه از بانک وام بگیرند، وام را به طور مستقیم از مردم دریافت می‌کنند. از جمله پیامدهای مطلوب این روش، افزایش انگیزه مردم برای سرمایه‌گذاری است. زیرا در این حالت، مردم در سرمایه و سود شرکت‌ها شریک می‌شوند. با استفاده از این روش سرمایه‌های اندک مردم جمع‌آوری می‌شود و در قالب مبالغ قابل توجه، سرمایه شرکت‌های سهامی را تأمین می‌کند. این کار مهم از طریق بازار سرمایه و نهاد آن یعنی بورس انجام می‌شود.

۸۶ گزینه ۱ تهیه دستورالعمل اجرایی و مقررات ناظر بر انتشار اوراق مشارکت در ایران بر عهده بانک مرکزی است. از نظر اقتصاددانان اوراق بهادار صرفاً شامل اوراق سهام و اوراق مشارکت می‌شود.

۸۷ گزینه ۲ تشریح گزینه‌های نادرست:

گزینه ۱: اسناد دیداری بدون اطلاع قبلی قابل پرداخت است.

گزینه ۳: بانک توسعه تعاون، بانک توسعه‌ای است که فعالیت‌های تجاری هم می‌کند.

گزینه ۴: اصل طلب خود را در زمان سررسید دریافت می‌کنند.

۸۸ گزینه ۳ الف) با وجود تأثیرات زیاد پول فلزی بر جامعه بشری، در این زمینه باز هم مشکلاتی وجود داشت که مهم‌ترین آن‌ها محدود بودن میزان طلا و نقره در دسترس بشر بود.

ب) زمانی که پول فلزی رایج بود، پشتوانه پول همان طلا و نقره موجود در خود پول بود اما امروزه این پول‌ها پشتوانه‌ای جز قدرت اقتصادی کشور ندارد.

ج) مشکلات استفاده از پول کالایی:

- فاسد و غیرقابل استفاده شدن کالاها در صورتی که مدت زیادی بدون مصرف می‌مانند.

- اشغال فضای زیاد به دلیل حجم زیاد

- افزایش هزینه‌های نگهداری (جهت تأمین جا برای محافظت از این کالاها)

۸۹ گزینه ۳

$$\text{تومان } 252,840 = 1470 \times 172 = \text{سود حاصل از کاشت الف}$$

$$\text{تومان } 250,320 = 149 \times 1680 = \text{سود حاصل از کاشت هلو}$$

بنابراین فرد باید کاشت سیب را برای سرمایه‌گذاری انتخاب کند، چون سود بیشتری دارد.

ب) به میزان عایدی انتخاب دوم، هزینه فرصت، می‌گویند.

۹۰ گزینه ۳

میزان تولید در آن سال به قیمت ثابت - میزان تولید در آن سال به قیمت جاری = افزایش قیمت (تورم) در سال مورد نظر الف

$$\text{هزار میلیارد ریال } 130 = 2680 - 2810 = \text{افزایش قیمت در سال سوم}$$

$$\text{هزار میلیارد ریال } 250 = 2920 - 3170 = \text{افزایش قیمت در سال چهارم}$$

میزان تولید در سال پایه - میزان تولید در آن سال به قیمت ثابت = افزایش تولید کل ناشی از افزایش مقدار تولید در سال مورد نظر ب)

$$\text{هزار میلیارد ریال } 180 = 2130 - 2310 = \text{افزایش تولید کل ناشی از افزایش مقدار تولید در سال دوم}$$

$$\text{هزار میلیارد ریال } 790 = 2130 - 2920 = \text{افزایش تولید کل ناشی از افزایش مقدار تولید در سال چهارم}$$

۹۱ گزینه ۲ انسان‌ها همیشه بهترین گزینه خود را از نظر منافع انتخاب می‌کنند و با این انتخاب گزینه بعدی خود را از دست می‌دهند در این مثال سود ماهانه سپرده، ۱٫۵

$$\text{میلیون تومان خواهد بود } (1,5 = 12 \div 18 = \frac{18}{100} \times 100 = 18) \text{ در نتیجه فرد الف در بانک سپرده‌گذاری خواهد کرد و در نتیجه منافع مورد انتظار از دومین انتخاب خود یعنی خرید}$$

مغازه و سپس اجاره آن را از دست داده است.

مقدار منافع از دست داده گزینه دوم (۶۵۰ هزار تومان اجاره ماهانه مغازه) هزینه فرصت انتخاب گزینه اول (سپرده‌گذاری در بانک) است.

۹۲ گزینه ۳

سهام تولید مردم کشور که در خارج اقامت دارند + تولید خارجیان مقیم کشور - تولید ناخالص داخلی = تولید ناخالص ملی

$$\text{هزار میلیارد ریال } 15 = x \Rightarrow x = 500 - 485 = 15$$

قیمت  $\times$  کل محصول = درآمد

$$\text{میلیون دلار } 70 = 70,000,000 = 7000 \times 10,000 = \text{سود اقتصادی (سود ویژه)}$$

هزینه‌های مستقیم و غیرمستقیم - درآمد = (سود اقتصادی) سود ویژه

میلیون دلار  $16 = 70 - 54 =$  (سود اقتصادی) سود ویژه

میلیون دلار  $12 =$  هزینه فرصت = هزینه‌های غیرمستقیم

میلیون دلار  $42 = 54 - 12 =$  هزینه‌های مستقیم

هزینه‌های مستقیم - درآمد = سود حسابداری

میلیون دلار  $28 = 70 - 42 =$  سود حسابداری

(ب) در تکمیل فرم اظهارنامه مالیاتی، تولیدکنندگان سود ویژه خود را درج می‌کنند.

۹۴ گزینه ۳ الف و ج

میزان تولید کل در همان سال به قیمت پایه - میزان تولید کل در همان سال به قیمت جاری = (میزان افزایش تولید کل ناشی از افزایش قیمت کالا و خدمات در یک سال مشخص (یا میزان تورم

هزار میلیارد ریال  $130 = 3570 - 3700 =$  میزان تورم (افزایش قیمت‌ها) در سال دوم

هزار میلیارد ریال  $120 = 4030 - 4150 =$  میزان تورم (افزایش قیمت‌ها) در سال سوم

(ب)

میزان تولید کل در سال پایه - میزان تولید کل در همان سال به قیمت پایه = میزان افزایش تولید کل ناشی از افزایش تولید کالاها و خدمات در یک سال مشخص

هزار میلیارد ریال  $170 = 3400 - 3570 =$  افزایش مقدار تولید در سال دوم

هزار میلیارد ریال  $630 = 3400 - 4030 =$  افزایش مقدار تولید در سال سوم

۹۵ گزینه ۴ رفاه اجتماعی با از بین رفتن فقر و کاهش نابرابری‌ها تحقق می‌یابد.

۹۶ گزینه ۳ الف) با محاسبه نسبت دهک دهم به دهک اول در کشورهای مختلف، شاخصی به دست می‌آید که برای مقایسه وضعیت توزیع درآمد بین آن‌ها به کار می‌رود. هر چه این نسبت بیش‌تر باشد توزیع درآمد در آن جامعه نامناسب‌تر است.

(ب) در تشکیل شاخص دهک‌ها، گروه اول که ۱۰ درصد اولیه جمعیت را تشکیل می‌دهند، «کم‌ترین» درصد درآمد ملی و ۱۰ درصد آخر، «بیش‌ترین» درصد درآمد ملی را دارند.

۹۷ گزینه ۴ الف) فقیر مطلق کسی است که به نیازهای ابتدایی زندگی مانند آب سالم، تغذیه، خدمات بهداشتی، آموزش، پوشاک و سرپناه دسترسی نداشته باشد.

(ب) بررسی قسمت «ب» در گزینه‌ها:

گزینه «۱»: نادرست است. برای محاسبه شاخص دهک‌ها، مردم کشور را به ده گروه جمعیتی مساوی تقسیم می‌کنند. در طبقه‌بندی این ده گروه، سطح درآمد از کمترین به بیشترین مقدار مدنظر قرار می‌گیرد.

گزینه «۲»: درست است.

گزینه «۳»: درست است.

گزینه «۴»: نادرست است. با محاسبه نسبت دهک دهم به دهک اول در کشورهای مختلف، شاخصی به دست می‌آید که برای مقایسه وضعیت توزیع درآمد بین آن‌ها به کار می‌رود. هر چه این نسبت بیش‌تر باشد، توزیع درآمد در آن جامعه نامناسب‌تر است. با توجه به عبارت صورت سؤال، برای به دست آوردن وضعیت توزیع مناسب‌تر در سال بعد باید سهم دهک اول بیش‌تر از سال گذشته (عددی بزرگ‌تر از ۳) باشد تا شاخص دهک عددی کوچک‌تر از سال قبل شود.

(ج) با توجه به نمودار صورت سؤال، در سال ۱۹۹۱ میلادی، ۱۰ درصد ثروتمندان، ۲۵ برابر ۱۰ درصد فقرا درآمد داشته‌اند.

(د) توزیع عادلانه درآمد و کاهش فقر می‌تواند انگیزه قدرتمند همکاری و مشارکت عموم افراد جامعه را در فرآیند توسعه سالم اقتصادی ایجاد کند.

۹۸ گزینه ۱ کشورهای قدرتمند با اهداف اقتصادی (کسب منافع بیش‌تر)، سیاسی (براندازی یا اعمال فشار) و یا حتی به‌عنوان ابزار مکمل جنگ نظامی از تحریم اقتصادی استفاده می‌کنند.

۹۹ گزینه ۲ الف) رفاه اجتماعی اصطلاحی است که در پی تأمین حداقل نیازهای اساسی آحاد جمعیت کشور، برخورداری از سلامت در جسم و روح افراد جامعه، کاهش نابهنجاری‌های اجتماعی، ارتقای توانمندی‌ها، مسئولیت‌پذیری افراد جامعه در برابر یکدیگر، رضایتمندی و شادکامی افراد است. رفاه اجتماعی یا از بین رفتن فقر و کاهش نابرابری‌ها تحقق می‌یابد.

(ب) هرچه سطح درآمد سرانه در کشوری پایین‌تر باشد، میزان فقر عمومی نسبت به کشوری با درآمد سرانه بالاتر، بیش‌تر است.

۱۰۰ گزینه ۲ الف) در دوران قاجار بی‌کفایتی و عیاشی حکام به اوج رسید و ایران فرصت طلایی خود را برای جبران عقب‌ماندگی نسبت به اروپا از دست داد.

(ب) در دوره پایانی حکومت صفویه، حمله افغان و حتی کشورگشایی نادر و دست‌اندازی به هند اقتصاد ایران را تضعیف و از کانون تحولات دور کرد.

(ج) تعدی حکومت پهلوی بر موقوفات و مالکیت‌های خصوصی و عمومی، واگذاری منابع نفتی و معدنی به بیگانگان، اجرای برنامه موسوم به انقلاب سفید که آخرین لطمه را بر بدنه کشاورزی و اقتصاد روستایی ایران زد، بر بیماری اقتصاد ایران افزود.

(د) گزینه «۱»: در این دوران اقتصاد ایران به جای اتکا بر پایه‌های بومی و درونزای داخلی و ملی خود به قدرت‌های بزرگ متکی شد.

گزینه «۲»: در دوره پهلوی در نتیجه افزایش درآمد‌های نفتی، قدرت اقتصادی دولت افزایش یافت.

گزینه ۴: در نیمه اول حکومت صفویه علاوه بر یکپارچگی سیاسی، اقتصاد یکپارچه و مستقلی شکل گرفت که با سایر لایه‌های دینی و اجتماعی و فرهنگی کشور هماهنگی تناسب داشت.

گزینه ۲ ۱۰۱

$$(400 \times 75) + (120 \times 700) = 114,000$$

$$(300 \times 75) + (60 \times 700) = 64,500$$

گزینه ۳ ۱۰۲ تشریح گزینه‌های دیگر:

گزینه ۱) غلط - غلط - غلط: جامعه‌ی اسلامی برای حفظ هویت و استقلال سیاسی و فرهنگی خود، باید به رشد و پیشرفت اقتصادی به مثابه یکی از مهمترین ابزارها توجه کند.  
گزینه ۲) صحیح - غلط: از ویژگی‌های مهم اسلام این است که عبادت را صرفاً به رابطه‌ی فرد با خدا محدود نمی‌کند. - غلط: کشوری که وضعیت اقتصادی آن نابسامان باشد، نمی‌تواند با اتکا به فرهنگ ملی خود، مسیر آینده‌ی خویش را تعیین کند و به شدت تحت تأثیر اقتصادهای مهاجم قرار می‌گیرد.

گزینه ۴) صحیح - صحیح - غلط

گزینه ۱ الف) (تعریف «علم اقتصاد» دقیقاً دربر گیرنده‌ی سه نکته مهم است که عبارت است از: «نامحدود بودن نیازها»، «کمیابی منابع» و «امکان مصارف متعدد منابع»

ب) نیازهای انسان محرک او «برای فعالیت و تلاش است».

ج) «هدف علم اقتصاد» راهنمایی انسان برای «بهترین انتخاب» و به‌کارگیری بهترین روش به‌منظور استفاده از منابع و امکانات خویش است.

د) تصمیماتی که انسان در مورد «مسائل اقتصادی» می‌گیرد عمدتاً ریشه در نیازها و خواسته‌های نامحدود او دارد.

ه) «فردی که برای ارتقاء سطح زندگی خانواده یا هم‌نوعانش می‌کوشد» همانند کسی که در راه خدا جهاد می‌کند، شایسته تقدیر است.

گزینه ۴ ۱۰۴ در سطوح قیمت بالاتر از قیمت تعادلی در بازار با مازاد عرضه روبه‌رو می‌شویم؛ زیرا به دلیل گران بودن کالا، تولیدکنندگان که به دنبال کسب سود بیش‌ترند به تولید

بیش‌تر می‌پردازند؛ در حالی که مصرف‌کنندگان به خرید و مصرف این کالای گران به آن مقدار تمایل نشان نمی‌دهند.

در وضعیت مازاد عرضه، چون گروهی از تولیدکنندگان موفق نمی‌شوند کالایشان را بفروشند، حاضر خواهند بود آن را با قیمتی کمتر به فروش برسانند؛ در نتیجه، قیمت کم می‌شود. با

کم‌شدن قیمت از یک‌سو مصرف‌کنندگان، مقدار خرید را افزایش می‌دهند و از سوی دیگر، تولیدکنندگان از مقدار تولید می‌کاهند؛ پس در حالت وجود مازاد عرضه، قیمت کاهش می‌یابد. این

کاهش قیمت تا سطحی ادامه می‌یابد که در آن، فاصله عرضه و تقاضا از بین برود و در بازار تعادل برقرار شود.

گزینه ۳ ۱۰۵ الف) نمودار  $D$  نشانگر نمودار تقاضا است که نزولی می‌باشد و نمودار  $S$  نشانگر نمودار عرضه است که صعودی می‌باشد.

ب) محل برخورد نمودارهای عرضه و تقاضا، نقطه‌ی تعادلی بازار است. قیمت متناظر با آن قیمت تعادلی (۷۵۰ ریال) و مقدار متناظر با آن، مقدار تعادلی (۴۵ کیلو) نام دارد.

ج) در سطوح قیمت بالاتر از قیمت تعادلی در بازار با مازاد عرضه رو به رو می‌شویم در این وضعیت چون گروهی از تولیدکنندگان موفق نمی‌شوند کالایشان را بفروشند، حاضر خواهند بود آن

را با قیمتی کمتر به فروش برسانند؛ در نتیجه قیمت کم می‌شود.

د) در سطوح قیمت پایین‌تر از قیمت تعادلی در بازار با مازاد تقاضا یا کمبود عرضه مواجه می‌شویم. در قیمت ۲۵۰ ریال در بازار کمبود عرضه‌ای معادل  $(60 - 15 = 45)$  کیلو خواهیم

داشت.

گزینه ۲ ۱۰۶ الف) صحیح

ب) اگر در بازار قیمت کالایی در حال کاهش باشد، به دلیل مازاد عرضه قیمت به سمت قیمت تعادلی پیش می‌رود.

ج) شرکت پخش و پالایش فرآورده‌های نفتی از یک سو تنها خریدار و از سوی دیگر تنها فروشنده محصولات نفتی است.

د) صحیح

ه) صحیح

گزینه ۴ ۱۰۷ الف) سطح قیمت ۱۷۵۰ ریال (ردیف ۴ جدول) را که به ازای آن مقدار عرضه و تقاضا با هم برابر می‌شوند «قیمت تعادلی» می‌گویند و میزان ۳۷۵ کیلو را «مقدار

تعادلی» می‌نامند. در سطوح قیمت بالاتر از قیمت تعادلی (ردیف‌های ۵، ۶، ۷ جدول) در بازار با «مازاد عرضه» رو به رو می‌شویم و در سطوح قیمت پایین‌تر از قیمت تعادلی (ردیف‌های ۱، ۲ و

۳ جدول) در بازار با «کمبود عرضه» مواجه می‌شویم.

ب) مقدار تقاضا  $\times$  قیمت = حداکثر دریافتی عرضه‌کنندگان در قیمت ۲۲۵۰ ریال

$$= 2250 \times 210 = 472,500 \text{ ریال}$$

گزینه ۳ ۱۰۸

$$\text{میلیون ریال} = 8 = \frac{1}{5} \times 40 = \text{ارزش خدمات ارائه شده}$$

$$\text{میلیون ریال} = 2,078 = 40 + 20 + 2,000 + 10 + 8 = \text{ارزش تولید ناخالص داخلی}$$

$$\text{میلیون ریال} = 10 = \frac{1}{2} \times 20 = \text{هزینه استهلاك}$$

الف)

$$\text{میلیون ریال} = 2,068 = 2,078 - 10 = \text{ارزش تولید خالص داخلی}$$

ب)

$$\text{ریال} = 258,5 = \frac{2,068,000,000}{8,000,000} = \left( \frac{\text{تولید خالص داخلی}}{\text{جمعیت کشور}} \right) = \text{تولید خالص داخلی سرانه}$$

گزینه ۲ ۱۰۹

$$\text{میلیون ریال} = 1260 = 160 + 400 + 200 + 100 + 400 = \text{درآمد ملی}$$



$$\text{تومان} = \frac{\text{درآمد ملی}}{\text{جمعیت کشور}} = \frac{1,260,000,000}{10,000,000} = 126$$

گزینه ۱

میلیون ریال سود حسابداری = سود حسابداری - هزینه‌های مستقیم - درآمد =  $80 - 40 = 40$

هزینه‌های مستقیم و غیرمستقیم - درآمد = سود اقتصادی

میلیون ریال سود اقتصادی =  $80 - (18 + 40) = 22$

(ب) مبالغی را که تولیدکنندگان برای تولید صرف می‌کنند، «هزینه‌های مستقیم تولید» می‌نامند.  
(ج) اقتصاددانان هزینه‌های غیرمستقیم را «هزینه فرصت» می‌نامند.

گزینه ۴

$$\text{درصد تورم} = \frac{\text{سطح قیمت‌های قبلی} - \text{سطح قیمت‌های جدید}}{\text{سطح قیمت‌های قبلی}} \times 100$$

$$\text{درصد تورم} = \frac{65,000 - 50,000}{50,000} \times 100 = \frac{15,000}{50,000} \times 100 = 30$$

در سال ۲۰۰۳ میلادی در این جامعه، ۳۰ درصد تورم داشته‌ایم.

گزینه ۳ (الف) بی‌مبالاتی یا سوءاستفاده برخی از صرافان از اعتماد مردم و یا تعداد زیاد انواع رسیدها و صرافی‌ها، که آشنایی و اعتبارسنجی آن‌ها را برای مردم سخت کرده بود، موجب شد تا دولت‌ها برای جلوگیری از بروز این‌گونه مشکلات به ناچار چاپ و انتشار اسکناس را برعهده گیرند.

(ب) بانک تخصصی بانکی است که فقط به فعالان عرصه خاصی از اقتصاد ارائه خدمات می‌کند نه به همه مردم.

(ج) قدرت خرید پول به سطح عمومی قیمت‌ها در جامعه بستگی دارد، هر چه سطح عمومی قیمت‌ها افزایش یابد، قدرت خرید پول کاهش می‌یابد و برعکس.

گزینه ۱

سپرده پس‌انداز + سپرده مدت‌دار = سپرده غیردیداری

هزار میلیارد ریال  $400 = 280 + 120 =$  مجموع سپرده‌های دیداری و غیردیداری

$$\text{هزار میلیارد ریال} = 160 = \frac{800}{5} = \frac{2}{5} \times 400 =$$
 مجموع سپرده‌های مدت‌دار

مجموع سپرده‌های مدت‌دار - مجموع سپرده‌های غیردیداری = مجموع سپرده‌های پس‌انداز

هزار میلیارد ریال  $120 = 280 - 160 =$  مجموع سپرده‌های پس‌انداز

گزینه ۱ (الف) وقتی یک واحد پول نتواند در طول زمان ارزش خود را حفظ کند، می‌گوییم که قدرت خرید پول آن دستخوش تغییر است.

(ب) پول نتوانسته است ارزش خود را حفظ کند و به همین دلیل می‌گوییم قدرت خریدش را از دست داده است.

(ج) قدرت خرید پول به سطح عمومی قیمت‌ها در جامعه بستگی دارد. هر چه سطح عمومی قیمت‌ها افزایش یابد، قدرت خرید پول کاهش می‌یابد و برعکس.

(د) تورم یکی از مشکلات اقتصادی است؛ چرا که باعث کاهش رفاه خانواده‌ها و ضرر پس‌اندازکنندگان می‌شود و قدرت خرید آنان را می‌کاهد.

گزینه ۴ (الف) چین با وجود آمدن درآمد سرانه نه چندان زیاد از نظر بسیاری از شاخص‌های توسعه وضعیت نسبتاً مطلوبی دارد ولی در کشور موزامبیک سطح پایین توسعه با سطح پایین رشد هماهنگی دارد.

(ب) نرخ امید به زندگی در موزامبیک (سال): ۵۵٫۱ . تولید ناخالص داخلی سرانه در نروژ (به دلار PPP ثابت سال ۲۰۱۱): ۶۲۴۴۸ - نرخ باسوادی بزرگسالان در موزامبیک (به درصد): ۵۰٫۶٪

(ج) متوسط نرخ مرگ و میر نوزادان (در هر ۱۰۰۰ نفر) در ۴۳ کشور با توسعه انسانی ضعیف: ۸۹٫۴٪

متوسط درصد نرخ باسوادی بزرگسالان (به درصد) در ۴۳ کشور با توسعه انسانی ضعیف: ۵۷٫۱٪

گزینه ۱ (الف) در سال ۲۰۱۵ تولید ناخالص داخلی سرانه در کشور سوئیس حدود ۸۰۶۷۵ دلار بوده است.

(ب) اقتصاددانان برای مقایسه بهتر کشورها و روند تغییرات آن‌ها علاوه بر شاخص‌های توسعه به شاخص‌های دیگر نیز توجه دارند.

(ج) صحیح است.

(د) مواردی چون دسترسی به ارتباطات و فناوری اطلاعات، مالکیت و ... در شاخص توسعه انسانی مورد توجه نیست.

(ه) صحیح است.

گزینه ۲ (الف) اعمال سیاست‌هایی به منظور بهبود وضع نامطلوب زندگی، روحیه امید و اطمینان نسبت به آینده را در مردم تقویت می‌کند و انسجام و همکاری بیش‌تری در اجرای برنامه‌های توسعه پدید می‌آورد.

- سرمایه‌گذاری در زمینه آموزش و تأمین اقتصادی - اجتماعی انسان به افزایش بهره‌وری و افزایش درآمد ملی منجر می‌شود.

- توزیع عادلانه درآمد و کاهش فقر می‌تواند انگیزه قدرتمند همکاری و مشارکت عموم افراد جامعه را در فرآیند توسعه سالم اقتصادی ایجاد کند.

گزینه ۲ (الف) در قیمت ۵۰۰ ریال، مقدار عرضه و تقاضا در بازار به ترتیب ۱۰۰۰ و ۶۰۰ کیلوگرم است پس در بازار با مازاد عرضه‌ای به میزان ۴۰۰ کیلوگرم مواجهیم.

(ب) باتوجه به نمودار، در نقطه تعادلی (محل تلاقی نمودارهای عرضه و تقاضا) قیمت تعادلی برابر با ۴۰۰ ریال و مقدار تعادلی برابر با ۸۰۰ کیلوگرم است.

خریداران عمده کالا و خدمات برای به دست آوردن کالا و خدمات مورد نیاز خود «مناقصه» برگزار می‌کنند.

گزینه ۳ ۱۱۹ تولید ناخالص داخلی، ارزش پولی تمام کالاها و خدمات نهایی است که در طول یک سال، داخل محدوده مرزهای جغرافیایی کشور تولید می‌شود.

$$\text{میلیارد دلار } 24 = \frac{1}{4} \times 96 = \text{ارزش ماشین آلات} \times \frac{1}{4} = \text{ارزش خدمات ارائه شده}$$

$$\text{میلیارد دلار } 200 = 96 + 60 + 24 + 20 = \text{تولید ناخالص داخلی}$$

$$\text{میلیارد دلار } 20 = \frac{1}{3} \times 60 = \text{ارزش مواد غذایی} \times \frac{1}{3} = \text{هزینه استهلاك}$$

$$\text{هزینه استهلاك} - \text{تولید ناخالص داخلی} = \text{تولید خالص داخلی}$$

$$\text{میلیارد } 180 = 200 - 20 = \text{تولید خالص داخلی}$$

$$\text{تولید خالص ملی} =$$

$$\text{ارزش تولید افراد کشور که در خارج ساکن هستند} + \text{ارزش تولید خارجیان مقیم کشور} - \text{تولید خالص داخلی}$$

$$\text{میلیارد دلار } 170 = 180 - 20 + 10 = \text{تولید خالص ملی}$$

توضیح نکات درسی:

از آنجایی که ارزش کالاهای واسطه‌ای در درون کالاهای نهایی است در محاسبه تولید کل جامعه باید از محاسبه ارزش کالاهای واسطه‌ای صرف‌نظر و فقط کالاهای نهایی را محاسبه کنیم.

گزینه ۴ ۱۲۰ در این روش محاسباتی مالیات، بخش اول را با نرخ خودش و مازاد را با نرخ دیگری محاسبه می‌کنند. یعنی ۶۰,۰۰۰ ریال با نرخ ۱۰ درصد و ۱۰,۰۰۰ ریال

مازاد با نرخ ۱۵ درصد حساب می‌شود.

$$\text{ریال } 6,000 = 60,000 \times \frac{10}{100}$$

$$\text{ریال } 1,500 = 10,000 \times \frac{15}{100}$$

$$\text{ریال } 7,500 = 6,000 + 1,500 = \text{مالیات ماهانه پرداختی فرد}$$

$$\text{مالیات ماهانه فرد} - \text{درآمد ماهانه فرد} = \text{مانده خالص ماهانه فرد}$$

$$\text{ریال } 62,500 = 70,000 - 7,500 = \text{مانده خالص ماهانه فرد}$$

$$\text{ریال } 750,000 = 62,500 \times 12 = \text{مانده خالص سالانه فرد}$$

گزینه ۳ ۱۲۱ الف) عرضه‌کنندگان در قیمت ۴۰۰ ریال، ۴ کیلو کالا عرضه خواهند کرد. در حالی که به دلیل ارزان بودن کالا، تقاضا برای آن زیاد است (۸ کیلو)، در نتیجه در بازار

با کمبود عرضه یا مازاد تقاضایی معادل ۴ کیلو (۸ - ۴ = ۴) مواجه خواهیم شد. در این حالت چون گروهی از مصرف‌کنندگان به خرید کالای مورد نیاز خود موفق نشده‌اند، حاضرند برای خرید کالا مبلغ بیشتری بپردازند و این امر سبب افزایش قیمت کالا می‌شود. این افزایش قیمت تا سطحی ادامه می‌یابد که در آن، فاصله عرضه و تقاضا از بین برود و تعادل در بازار برقرار شود.

ب) محل برخورد نمودارهای عرضه و تقاضا، نقطه تعادلی بازار است. سطح قیمت متناظر با آن را قیمت تعادلی (۵۰۰ ریال) و مقدار متناظر با آن را (۶ کیلو) مقدار تعادلی تقاضا و عرضه می‌نامیم.

ج) اگر شیب منحنی تقاضا زیاد باشد یعنی عکس‌العمل مصرف‌کننده در برابر قیمت کم است که اصطلاحاً می‌گوییم کشش قیمتی تقاضا کم است که به آن، کالای ضروری می‌گوییم.

گزینه ۴ ۱۲۲ اصل «چهل و ششم» قانون اساسی بیان می‌کند: «هر کسی مالک حاصل کسب و کار مشروع خویش است و هیچ کس نمی‌تواند به عنوان مالکیت، نسبت به کسب و کار

خود امکان کسب و کار را از دیگری سلب کند». اصل «چهل و هفتم» بیان می‌دارد: «مالکیت شخصی که از راه مشروع باشد محترم است. ضوابط آن را قانون معین می‌کند، مطابق اصل «چهل و هشتم»: «در بهره‌برداری از منابع طبیعی و استفاده از درآمدهای ملی در سطح استان‌ها و توزیع فعالیت‌های اقتصادی میان استان‌ها و مناطق مختلف کشور باید تبعیض در کار نباشد به طوری که هر منطقه فراخورد نیازها و استعداد رشد خود، سرمایه و امکانات لازم را در دسترس داشته باشد.» و در اصل «پنجاهم» فعالیت‌های اقتصادی و غیر آن، که با آلودگی محیط زیست یا تخریب

غیر قابل جبران آن ملازمه پیدا کند. ممنوع است.»

گزینه ۱ ۱۲۳ الف) صحیح است.

ب) صحیح است.

ج) صحیح است.

د) نادرست است، دولتی شدن بیش از حد اقتصاد ایران در پایان حکومت پهلوی و با افزایش درآمدهای نفتی شکل گرفت.

گزینه ۴ ۱۲۴ مزیت داشتن با نداشتن مفهومی ایستا و دائمی نیست، به عبارت دیگر اگر کشوری به دلیل محدودیت‌های طبیعی، مزیت اقتصادی نداشته باشد به این معنی نیست

که نمی‌تواند به مزیت دست یابد.

گزینه ۴ ۱۲۵

$$2\% = \text{سهم دهک پنجم} - \text{سهم دهک ششم}$$

$$9\% - \text{سهم دهک پنجم} = 2\% \Rightarrow \text{سهم دهک پنجم} = 11\%$$

$$9\% = \text{سهم دهک دوم} - \text{سهم دهک هفتم}$$

$$12\% = \text{سهم دهک هفتم} \Rightarrow 9\% = 3\% - \text{سهم دهک هفتم}$$

$$\text{مجموع سهم تمامی دهک‌ها به جز سهم دهک دهم} = 100\% - \text{سهم دهک دهم}$$

$$17\% + 14\% + 12\% + 11\% + 9\% + 7\% + 7\% + 3\% + 2\% = 100\% - \text{سهم دهک دهم}$$

$$18\% = 100\% - 82\% = \text{سهم دهک دهم}$$

(ب) در این طبقه‌بندی، مردم کشور را به ده گروه جمعیتی مساوی تقسیم کرده‌اند. در نتیجه خواهیم داشت:

$$x = \text{جمعیت افراد در هر طبقه}$$

$$\text{میلیون نفر } 7 = x \Rightarrow 28 = 4x = \text{جمعیت افراد دهک‌های سوم تا ششم}$$

$$\text{میلیون نفر } 70 = 10 \times 7 = 10x = \text{جمعیت کل کشور}$$

(ج) دهک اول ۲ درصد از درآمد ملی برخوردار است. یعنی:

$$42000 \times \frac{2}{100} = 840 \text{ میلیارد دلار}$$

دهک هشتم ۱۴ درصد از درآمد ملی برخوردار است، یعنی:

$$42000 \times \frac{14}{100} = 5880 \text{ میلیارد دلار}$$

هر یک از عبارات صورت سؤال به ترتیب به اصل ۴۴، ۴۳، ۴۹، ۴۸، ۵۰ و ۴۵ قانون اساسی جمهوری اسلامی ایران اشاره دارند.

گزینه ۳ **۱۲۶** عبارت گزینه ۴، مربوط به اقتصاد ایران در دوران پهلوی (سال ۱۳۰۰ تا ۱۳۵۷) می‌باشد.

گزینه ۳ **۱۲۷**

گزینه ۳ **۱۲۸**

$$\text{ریال } 45000000 = \frac{15}{100} \times 300000000 = \text{میزان مالیات ماهانه این فرد}$$

$$\text{ریال } 54000000 = 12 \times 4500000 = \text{میزان مالیات سالانه این فرد}$$

$$\text{ریال } 25500000 = 30000000 - 4500000 = \text{میزان مانده خالص ماهانه این فرد}$$

گزینه ۳ **۱۲۹**

(الف)

$$2000 \times 100,000 = 200,000,000 = \text{درآمد}$$

$$\left. \begin{array}{l} \text{هزینه مستقیم} \\ \left\{ \begin{array}{l} \text{مواد اولیه} = 20,000 \\ \text{حقوق کارمندان} \rightarrow 4 \times 30,000 \times 12 = 1,440,000 \end{array} \right\} \rightarrow 1,460,000 + 20,000 = 1,480,000 \end{array} \right\}$$

$$200,000,000 - 1,480,000 = 198,520,000 = \text{سود حسابداری}$$

گزینه ۱ و ۲ نادرست می‌شود - گزینه ۳ و ۴ قسمت دوم آن‌ها یکسان است.

(ب)

چون در تکمیل فرم اظهارنامه مالیاتی، سودی ویژه نوشته می‌شود پس مقدار آن ۱۹۸,۰۲۰,۰۰۰ است که در قسمت الف آمده است.

نکته: می‌توان از سود حسابداری، هزینه غیرمستقیم را کم کرد تا سود ویژه به دست آید.  $[198,520,000 - 20,000 = 198,500,000]$

گزینه ۲ **۱۳۰** تشریح عبارت نادرست: در وضعیت مزاد عرضه، چون گروهی از تولیدکنندگان موفق نمی‌شوند کالایشان را بفروشند، حاضر خواهند بود آن را با قیمت کمتر به فروش برسانند؛ در نتیجه، قیمت کم می‌شود.

گزینه ۳ **۱۳۱** (الف) در قیمت ۳۵۰ ریال تولیدکننده حاضر است ۱,۰۰۰ کیلو از کالا را تولید کند ولی به دلیل گران بودن کالا، مصرف‌کنندگان تنها ۲۰۰ کیلو تقاضا دارند. لذا حداکثر درآمد تولیدکنندگان برابر خواهد بود با:

$$350 \times 200 = 70,000 \text{ ریال}$$

(ب) در قیمت ۲۰۰ ریال که پایین‌تر از نقطه تعادلی است با مزاد تقاضا یا کمبود عرضه مواجه هستیم.

(ج) در قیمت ۲۵۰ ریال که قیمت تعادلی است حداکثر دریافتی عرضه‌کنندگان با حداکثر پرداختی مصرف‌کنندگان یکسان می‌باشد.

(د) در حالت کمبود عرضه (مازاد تقاضا) قیمت افزایش می‌یابد تا سطحی که در آن فاصله عرضه و تقاضا از بین برود.

گزینه ۱ **۱۳۲**

$$\text{الف) } \frac{\text{قیمت دستگاه}}{\text{عمر مفید دستگاه}} = \frac{45,000,000,000}{30} = 1,500,000,000 = \text{هزینه استهلاک}$$

(ب)

$$\text{هزینه استهلاک سالانه جدید} = \frac{53,100,000,000}{30} = 1,770,000,000$$

$$\text{هزینه استهلاک ۵ سال آخر} = 1,770,000,000 \times 5 = 8,850,000,000$$

$$\text{قیمت جدید دستگاه} = 45,000,000,000 \times 1,18 = 53,100,000,000$$

گزینه ۳ **۱۳۳**

ابتدا نرخ تورم را در کشور A بدست می‌آوریم:

$$\text{نرخ تورم} = \frac{\text{سطح قیمت های قبلی} - \text{سطح قیمت های جدید}}{\text{سطح قیمت های قبلی}} \times 100$$

$$40 = \frac{70-50}{50} \times 100 = \text{نرخ تورم}$$

الف) برای کشور B داریم:

$$\frac{x - 80}{80} \times 100 = 40 \rightarrow \frac{x - 80}{4} \times 5 = 40$$

$$\Rightarrow (x - 80) \times 5 = 160$$

$$\Rightarrow 5x - 400 = 160$$

$$\Rightarrow 5x = 560 \Rightarrow x = 112$$

(ب) برای کشور C داریم:

$$\frac{140 - x}{x} \times 100 = 40 \rightarrow \frac{140 - x}{x} \times 5 = 2$$

$$\Rightarrow (140 - x) \times 5 = 2x$$

$$\Rightarrow 700 - 5x = 2x$$

$$\Rightarrow 700 = 7x \Rightarrow x = 100$$

(ج) نرخ تورم در هر سه کشور ۴۰ درصد است.

۱۳۴ گزینه ۲ الف) بانک تجاری صرفاً نقش آسان سازی مبادلات را دارد. (مانند بانک ملی).

(ب) بانک تخصصی فقط به فعالان عرصه خاصی از اقتصاد ارائه خدمات می کند، نه به همه مردم (مانند بانک توسعه صادرات).

(ج) خرید و فروش ارز و نقل و انتقال وجوه در داخل کشور، دریافت مطالبات اسنادی و سود سهام مشتریان و واریز به حساب آن ها، پرداخت بدهی مشتریان در صورت درخواست آن ها، قبول امانات و نگهداری سهام و اوراق بهادار و اشیای قیمتی مشتریان و انجام وظیفه قیومت، وصایت و وکالت برای مشتریان طبق مقررات مربوط از فعالیت های مهم بانک است.

۱۳۵ گزینه ۳ د) بانک سرمایه گذاری می تواند شرکت ها و واحدهای تولیدی تأسیس کند.

(الف) با تشویق مردم به پس انداز و به کارگیری پس اندازها در فعالیت های مفید اقتصادی در کاهش نرخ تورم مؤثر است.

(ب) بین عرضه کنندگان و تقاضاکنندگان سرمایه ارتباط برقرار، و معاملات بازار سرمایه را تنظیم می کند.

(ج) با بررسی و شفاف سازی اطلاعات مالی شرکت ها و قیمت گذاری سهام و اوراق بهادار تا حدودی از نوسان شدید قیمت ها جلوگیری می کند.

(د) از طریق جذب و به کار انداختن سرمایه های راکد، حجم سرمایه گذاری را در جامعه افزایش می دهد.

۱۳۶ گزینه ۲ الف) بازار سرمایه با تشویق مردم به پس انداز و به کارگیری پس اندازها در فعالیت های مفید اقتصادی، در کاهش نرخ تورم مؤثر است.

(ب) ارتباط برقرار بین عرضه کنندگان و تقاضاکنندگان سرمایه، معاملات بازار سرمایه را تنظیم می کند.

(ج) بررسی و شفاف سازی اطلاعات مالی شرکت ها و قیمت گذاری سهام و اوراق بهادار تا حدودی از نوسان شدید قیمت ها جلوگیری می کند.

(د) بورس از طریق جذب و به کار انداختن سرمایه های راکد، حجم سرمایه گذاری را در جامعه افزایش می دهد.

۱۳۷ گزینه ۲ الف) بورس با برقراری ارتباط بین تقاضاکنندگان و عرضه کنندگان سرمایه، معاملات بازار سرمایه را تنظیم می کند.

(ب) بورس از طریق جذب و به کار انداختن سرمایه های راکد، حجم سرمایه گذاری را در جامعه افزایش می دهد.

(پ) اولین کاری که برای سرمایه گذاری در بورس باید انجام داد، «گرفتن شناسه معاملاتی» است.

(ت) افراد باید فقط سرمایه های مازاد خود را به بورس بیاورند و به بورس نگاه کوتاه مدت نکنند.

(ث) بورس با بررسی و شفاف سازی اطلاعات مالی شرکت ها و قیمت گذاری سهام و اوراق بهادار تا حدودی از نوسان شدید قیمت ها جلوگیری می کند.

۱۳۸ گزینه ۳ الف) «چک»، یا «پول تحریری»، همانند پول نقد در معاملات مختلف مورد استفاده قرار می گیرد.

(ب) اسناد اعتباری بلندمدت توسط دولت یا مؤسسات خصوصی منتشر می شود.

(پ) ایجاد چک و استقبال مردم از آن باعث شد که شبه پول در اقتصاد شکل بگیرد.

(ت) مهم ترین مشکل پول فلزی، محدود بودن میزان طلا و نقره در دسترس بشر بود.

(ث) در گذشته در روسیه پوست سمور و در هندوستان صدف خواهان بیش تری داشت.

۱۳۹ گزینه ۳ تشریح عبارات نادرست:

(ج) فروشندگان آثار هنری در نمایشگاه ها و حراجی ها، مزایده و خریداران عمده کالا و خدمات (مثل خریدهای دولتی) مناقصه برگزار می کنند.

(د) کالاهای سرمایه ای در طول زمان بادوام است و خدمات آن ها در جریان تولید مورد استفاده قرار می گیرد و تولیدکننده با آن ها ارزش افزوده ایجاد می کند.

۱۴۰ گزینه ۳ بررسی گزینه ها:

گزینه ۱: درست - درست - درست

گزینه ۲: درست - غلط (درآمد سرانه سالانه در بیش از ۵۰ کشور در حال توسعه فقیر از ۱۶۰۰ دلار کم تر است). - درست

گزینه ۳: درست - درست - غلط (تولید ناخالص داخلی سرانه به دلار PPP ثابت سال ۲۰۱۱ در کشور نروژ ۶۲۴۴۸ است).

گزینه ۴: غلط (امید به زندگی در کشور موزامبیک ۵۵٫۱ سال است). - درست - درست

۱۴۱ گزینه ۳

قیمت فروش هر قطعه  $\times$  تعداد قطعه  $\Rightarrow$  درآمد سالانه بنگاه

تومان  $800 \times 4,000,000 = 3,200,000,000$   $\Rightarrow$  درآمد سالانه بنگاه

تومان  $400,000 \times 12 = 4,800,000$   $\Rightarrow$  اجاره سالانه بنگاه

تومان  $350,000 \times 12 \times 12 = 50,400,000$   $\Rightarrow$  حقوق سالانه ۱۲ پرسنل

تومان  $\frac{2}{3} \times 4,800,000 = 3,200,000$   $=$  هزینه استهلاک

هزینه های مستقیم - درآمد = سود حسابداری

هزینه استهلاك + حقوق سالانه پرسنل + اجاره سالانه بنگاه = هزینه های مستقیم

$$\text{تومان} = 58,400,000 + 3,200,000 + 50,400,000 + 4,800,000 = \text{هزینه های مستقیم}$$

$$\text{تومان} = 3,200,000,000 - 58,400,000 = 3,141,600,000 = \text{سود حسابداری}$$

هزینه های مستقیم و غیرمستقیم - درآمد = سود ویژه (اقتصادی)

$$\text{سود ویژه} = 3,200,000,000 - (58,400,000 + 4,500,000)$$

$$\text{تومان} = 3,200,000,000 - 62,900,000 = 3,137,100,000 = \text{سود ویژه}$$

گزینه ۱ الف) ابتدا منافع حاصل از هر یک از محصولات را حساب می کنیم:

$$\text{تومان} = 100 \times 1000 = 100,000 = \text{چغندر}$$

$$\text{تومان} = 120 \times 1300 = 156,000 = \text{سیب زمینی}$$

$$\text{تومان} = 80 \times 2000 = 160,000 = \text{پیاز}$$

$$\text{تومان} = 115 \times 2100 = 241,500 = \text{کاهو}$$

$$\text{تومان} = 95 \times 1750 = 166,250 = \text{کلم}$$

باتوجه به منابع حاصل از محصولات، انتخاب وی کشت کاهو خواهد بود.

ب) هزینه فرصت از دست رفته او ۱۶۶,۲۵۰ تومان منفعت حاصل از کشت کلم است.

گزینه ۳ الف) بازار سرمایه با تشویق مردم به پس انداز و به کارگیری پس اندازها در فعالیتهای مفید اقتصادی، در کاهش نرخ تورم مؤثر است.

ب) اولین کاری که برای سرمایه گذاری در بورس باید انجام داد، گرفتن «شناسه معاملاتی» با مراجعه به یکی از کارگزاریها است.

ج) بورس با برقراری ارتباط بین عرضه کنندگان و تقاضاکنندگان سرمایه، معاملات بازار سرمایه را تنظیم می کند.

گزینه ۴ تشریح عبارت های غلط:

ب) رفاه اجتماعی با از بین رفتن فقر و کاهش نابرابریها تحقق می یابد.

پ) سطح حداقل معیشت از یک کشور به کشور دیگر یا از یک زمان به زمان دیگر متفاوت است و این امر منعکس کننده تفاوت در نیازها است.

ت) مسکین در ادبیات اقتصادی وضعی بدتر از فقیر دارد.

گزینه ۲ تشریح عبارت نادرست:

دولت برای ریل گذاری فعالیتهای اقتصادی، لوایح قانونی را به مجلس شورای اسلامی ارائه می دهد.

گزینه ۴ الف) دوران سازندگی اقتصادی در دهه دوم عمر انقلاب اسلامی شکل گرفت و این روند در دهه سوم انقلاب نیز ادامه داشت، ضمن اینکه به ثمر رسیدن بسیاری از طرح های اقتصادی و مولد، تولید ناخالص ملی و درآمد سرانه کشور را بهبود بخشید.

ب) در سند چشم انداز ۲۰ ساله جمهوری اسلامی ایران وضعیت اقتصادی در افق سال ۱۴۰۴ ه. ش توصیف و مشخص شده است. از اهداف این سند عبارت است از جایگاه اول اقتصادی در سطح منطقه آسیای جنوب غربی، ارتقای نسبی سطح درآمد سرانه، رسیدن به اشتغال کامل و ...

پ) با قرار گرفتن اقتصاد ایران در بین کشورهای در حال پیشرفت و ورود به رقابت های اقتصادی منطقه ای و علم و فناوری، دهه چهارم انقلاب با عنوان دهه عدالت و پیشرفت و با مجموعه ای از خط مشی های راهبردی مثل جهاد اقتصادی، اقتصاد مقاومتی، اقتصاد دانش بنیان و اقتصاد مردمی آغاز شد.

در دهه سوم انقلاب، دولت با بازنگری نقش خود در عرصه اقتصاد، کاهش برخی فعالیت های غیر ضروری خود در اقتصاد و دادن آزادی عمل بیشتر به بخش خصوصی، تلاش هایی را آغاز کرد.

از آن زمان تاکنون، سیاست کلی دولت تشویق مردم به فعالیت هرچه بیشتر در عرصه اقتصاد و واگذاری کارخانه ها و شرکت های دولتی به بخش خصوصی بود.

گزینه ۳

$$\text{الف) } 14 = \frac{28}{2} = 2003, \quad 9 = \frac{27}{3} = 2002, \quad 13 = \frac{26}{2} = \text{به ترتیب شاخص توزیع درآمد در این سه سال}$$

وضعیت توزیع درآمد در سال ۲۰۰۳ نامناسب تر است.

$$\text{ب) } 500,000 = \frac{5,000,000}{10} = \text{جمعیت هر دهک درآمدی}$$

$$\text{میلیون دلار} = 4 = 200 \times \frac{2}{100} = \text{سهام دهک اول از درآمد ملی در سال ۲۰۰۳}$$

$$\text{دلار} = 8 = \frac{4,000,000}{500,000} = \text{سهام هر نفر از افراد موجود در دهک اول از درآمد ملی}$$

گزینه ۲ - ریل گذاری فعالیتهای اقتصادی توسط دولت، در بخش وضع مقررات، سیاست گذاری و حکمرانی در اقتصاد قرار می گیرد.

- دولت ممکن است بهره برداری از برخی معادن را عهده دار شود، نه همه آنها را.

گزینه ۴

$$\text{میلیون ریال} = 4 = 20 \times \frac{20}{100} = \text{مالیات ماهانه فرد}$$

میلیون ریال  $48 = 12 \times 4 =$  مالیات سالانه فرد

میلیون ریال  $240 = 12 \times 20 =$  درآمد سالانه فرد

میلیون ریال  $192 = 240 - 48 =$  مانده خالص سالانه فرد

گزینه ۴ ۱۵۰

(الف) درصد ۹ = سهم دهک پنجم  $\Rightarrow 2 =$  سهم دهک پنجم - ۱۱  $\Rightarrow 2 =$  سهم دهک پنجم - سهم دهک ششم

درصد ۱۲ = سهم دهک هفتم  $\Rightarrow 9 = 3 -$  سهم دهک هفتم  $\Rightarrow 9 =$  سهم دهک دوم - سهم دهک هفتم

درصد ۱۸  $= 100 - (2 + 3 + 7 + 7 + 9 + 11 + 12 + 14 + 17) =$  مجموع کل سهم دهک‌ها به جز سهم دهک دهم - ۱۰۰ = سهم دهک دهم

(ب)  $\frac{\text{سهم دهک دهم}}{\text{سهم دهک اول}} = \frac{18}{2} = 9 =$  شاخص دهک‌ها در کشور A

وضعیت توزیع درآمد در کشوری عادلانه تر است که شاخص دهک‌های کوچک تر باشد. پس توزیع درآمد در کشور B با شاخص دهک‌های ۷، نسبت به کشور A با شاخص دهک‌های ۹ عادلانه تر است.

(ج) برای شکل گیری شاخص دهک‌ها، مردم کشور را به ده گروه جمعیتی مساوی تقسیم می‌کنند. در نتیجه، جمعیت گروه‌ها با یکدیگر برابر خواهد بود:

میلیون نفر  $5 = \frac{50}{10} =$  جمعیت هر گروه

(د) میلیارد دلار  $75 = 625 \times \frac{12}{100} =$  سهم دهک هفتم از درآمد ملی

گزینه ۲ ۱۵۱ (الف) تحریم موجب می‌شود که کشور تحریم‌شونده با اتکا به نیروهای داخلی به تولید دست بزند و مزیت‌های اقتصادی و رقابتی کسب کند. با اجرای صحیح این سیاست، اقتصاد درون‌زا تحقق می‌یابد.

(ب) برون‌گرایی و گسترش ارتباطات: رشد اقتصادی کشور وقتی تضمین می‌شود که آنچه در درون کشور تولید می‌شود، در سطح گسترده توسط کشورهای مختلف مورد استفاده قرار گیرد. از این رو صادرات محصولات با ارزش افزوده بالا به کشورهای متعدد در سراسر جهان، با اولویت کشورهای همسایه و شرکای تجاری، به مقاوم‌سازی اقتصاد کشور می‌انجامد. (ج) دولتی شدن بیش از حد اقتصاد ایران در پایان حکومت پهلوی و با افزایش درآمدهای نفتی شکل گرفت.

(د) قسمت اول مورد «د»، در گزینه‌های «۲»، «۳» و «۴» مربوط به اصل ۴۳ و قسمت اول مورد «د»، در گزینه «۱» مربوط به اصل ۴۴ قانون اساسی است.

مطابق اصل چهل و ششم، هر کس مالک حاصل کسب و کار مشروع خویش است و هیچ‌کس نمی‌تواند به عنوان مالکیت نسبت به کسب و کار خود امکان کسب و کار را از دیگری سلب کند، (ه) به ترتیب ویژگی‌های مطرح‌شده مربوط به نیمه اول حکومت صفویه و دوره پهلوی است.

(و) موارد مطرح‌شده از عواملی است که موجب شد هزینه‌های تجارت نه تنها در داخل مرزها، بلکه در خارج از آن نیز کاهش یابد.

گزینه ۴ ۱۵۲

(الف)

درصد ۹ = سهم دهک پنجم  $\Rightarrow 2 =$  سهم دهک پنجم - ۱۱  $\Rightarrow 2 =$  سهم دهک پنجم - سهم دهک ششم

درصد ۱۲ = سهم دهک هفتم  $\Rightarrow 9 = 3 -$  سهم دهک هفتم  $\Rightarrow 9 =$  سهم دهک دوم - سهم دهک هفتم

مجموع کل سهم دهک‌ها به جز سهم دهک دهم - ۱۰۰ = سهم دهک دهم

درصد ۱۸  $= 100 - (2 + 3 + 7 + 7 + 9 + 11 + 12 + 14 + 17) =$

(ب)

$\frac{\text{سهم دهک دهم}}{\text{سهم دهک اول}} = \frac{18}{2} = 9 =$  شاخص دهک‌ها در کشور A

وضعیت توزیع درآمد در کشوری عادلانه تر است که شاخص دهک‌های کوچک تر باشد. پس توزیع درآمد در کشور B با شاخص دهک‌های ۷، نسبت به کشور A با شاخص دهک‌های ۹ عادلانه تر است.

(ج) برای شکل گیری شاخص دهک‌ها، مردم کشور را به ده گروه جمعیتی مساوی تقسیم می‌کنند. در نتیجه جمعیت گروه‌ها با یکدیگر برابر خواهد بود:

میلیون نفر  $5 = \frac{50}{10} =$  جمعیت هر گروه

(د)

میلیارد دلار  $75 = 625 \times \frac{12}{100} =$  سهم دهک هفتم از درآمد ملی

گزینه ۳ ۱۵۳ در حالت رکود اقتصادی، بانک مرکزی با سیاست پولی انبساطی می‌تواند برای کوتاه‌مدت، مشکل را حل کند.

گزینه ۳ ۱۵۴ (ج) در طبقه بندی مالیات‌ها، مالیات بر ارزش افزوده، نوعی مالیات غیرمستقیم بر مصرف کالاها و خدمات است.

(د) در نرخ ثابت مالیاتی، میزان مالیات پرداختی افراد متناسب با تغییر در درآمد یا دارایی آن‌ها کم و زیاد می‌شود.

گزینه ۱ ۱۵۵ - تغییر و تحول سریع در اروپا و شکل گیری قدرت‌های بزرگ در قاره اروپا: اقتصاد ایران در سال‌های قبل از ۱۳۰۰ هـ ش

- اعطای امتیاز به کشورهای استعماری، عهدنامه‌های ننگین: اقتصاد ایران در سال‌های قبل از ۱۳۰۰ هـ ش - شکل‌گیری نظام نوینی در مالیات‌گیری و بودجه‌بندی کشور: اقتصاد ایران از ۱۳۰۰ تا ۱۳۵۷.

گزینه ۲ **۱۵۶** هریک از عبارات مذکور در صورت سؤال به ترتیب به اصول ۴۶، ۴۹ و ۴۸ قانون اساسی مربوط می‌شود.

گزینه ۳ **۱۵۷** هریک از عبارات مذکور به ترتیب مربوط به ویژگی‌های اقتصاد ایران از ۱۳۰۰ تا ۱۳۵۷، سال‌های قبل از ۱۳۰۰ هـ ش و از ۱۳۰۰ تا ۱۳۵۷ است.

گزینه ۲ **۱۵۸** مبادلات اتحادیه اروپا یک بازرگانی منطقه‌ای است که با انتخاب پول واحد، بازرگانی کل اروپا را به صورت بازرگانی داخلی درآورده‌اند. اتحادیه ملل جنوب شرق

آسیا معروف به آسه‌آن با ده عضو پس از آمریکا، ژاپن و اتحادیه اروپا، چهارمین منطقه قدرتمند تجاری در جهان به شمار می‌رود. صندوق بین‌المللی پول (IMF) از مهم‌ترین سازمان‌های تأثیرگذار بر اقتصاد کشورها و اقتصاد جهانی به شمار می‌رود.

گزینه ۳ **۱۵۹** تشریح عبارات نادرست:

(ب) در سال‌های اول بعد از پیروزی انقلاب، نقش دولت و حضور آن در اقتصاد افزایش یافت.

(د) فصل چهارم قانون اساسی جمهوری اسلامی ایران که شامل اصول چهل و سوم تا پنجاه و پنجم می‌شود، با عنوان اقتصاد و امور مالی به مسائل اقتصادی کشور پرداخته است.

گزینه ۳ **۱۶۰** تشریح موارد نادرست:

بخش دوم گزینه ۱، به دهه دوم انقلاب اسلامی و بخش اول گزینه‌های ۲ و ۴، به دهه چهارم انقلاب اسلامی اشاره دارند.

گزینه ۴ **۱۶۱** الف) اگر عوامل اصلی پیشرفت اقتصادی کشور به بیرون وابسته باشد، در وضعیت بحرانی مثل تحریم دشمن عوامل اصلی پیشرفت کشور را محدود می‌سازد و کشور با مشکلات بسیاری روبه‌رو می‌گردد.

(ب) فراگیر شدن دانش در تمام سطوح تولیدی و به‌کارگیری آن توسط تمامی تولیدکنندگان، کاهش هزینه‌ها و افزایش درآمدهای ملی را به ارمغان می‌آورد.

(ج) هرچه منابع درآمدی کشور گوناگون‌تر باشد، مقاومت و در پی آن پیشرفت کشور بیشتر تضمین می‌شود.

گزینه ۳ **۱۶۲**

$$\text{میلیون تومان } ۴ = \frac{۱۰۰}{۲۵} = \frac{\text{قیمت کالای سرمایه‌ای}}{\text{عمر مفید آن}} = \text{هزینه استهلاک سالانه دستگاه بالا بر}$$

به عبارت دیگر سالانه می‌باید معادل ۴٪ ارزش کالای سرمایه‌ای (دستگاه بالا بر) را به عنوان استهلاک در نظر بگیریم.

$$\text{میلیون تومان } ۳۰ = \frac{۷۵۰}{۲۵} = \text{هزینه استهلاک سالانه دستگاه بتون ریز (میزان سرمایه‌گذاری جدید)}$$

$$\text{تومان } ۱۱۲,۵۰۰,۰۰۰ = ۷۵۰,۰۰۰,۰۰۰ \times \frac{۱۵}{۱۰۰} = \text{میزان کاهش قیمت دستگاه بتون ریز}$$

$$\text{تومان } ۶۳۷,۵۰۰,۰۰۰ = ۷۵۰,۰۰۰,۰۰۰ - ۱۱۲,۵۰۰,۰۰۰ = \text{قیمت جدید دستگاه بتون ریز}$$

$$\text{تومان } ۲۵,۵۰۰,۰۰۰ = \frac{۶۳۷,۵۰۰,۰۰۰}{۲۵} = \text{هزینه استهلاک سالانه جدید دستگاه بتون ریز}$$

$$\text{میلیون تومان } ۱۰۲ = ۱۰۲,۰۰۰,۰۰۰ = ۲۵,۵۰۰,۰۰۰ \times ۴ = \text{هزینه استهلاک چهار سال آخر عمر مفید دستگاه بتون ریز}$$

گزینه ۴ **۱۶۳**

$$\text{میلیون تومان } ۱۴۶ = \frac{۳۶۵۰}{۲۵} = \frac{\text{بهای کالای سرمایه‌ای}}{\text{عمر مفید کالا}} = \text{هزینه استهلاک سالانه کالا}$$

$$\text{میلیون تومان } ۴۳۸ = ۳۶۵۰ \times \frac{۱۲}{۱۰۰} = \text{میزان افزایش بهای کالا}$$

$$\text{میلیون تومان } ۴۰۸۸ = ۳۶۵۰ + ۴۳۸ = \text{بهای جدید کالا}$$

$$\text{میلیون تومان } ۱۶۳,۲۵ = \frac{۴۰۸۸}{۲۵} = \text{هزینه استهلاک تراکتور با احتساب قیمت جدید}$$

$$\text{تومان } ۶۵۴,۰۸۰,۰۰۰ = ۶۵۴,۰۸ \times ۴ = ۱۶۳,۵۲ \times ۴ = \text{هزینه استهلاک ۴ سال آخر عمر مفید تراکتور (با احتساب قیمت جدید)}$$

گزینه ۳ **۱۶۴** برای تبدیل  $GNP$  و  $GDP$  از رابطه روبرو داریم:

$$GNP = \text{مردم خارج‌نشین} + \text{خارجی‌های مقیم کشور} - GDP$$

$$۶۵۰ - x + ۴۵ = ۶۵۵ \rightarrow x = ۴۰$$

گزینه ۴ **۱۶۵**

$$\text{(ج) ناخالص داخلی } ۲۲۲ = ۱۴۵ + ۳۳ + ۴۴$$

$$\text{(ب) خالص ملی } ۱۸۹ = (۱۴۵ + ۴۴ + \frac{۱}{۳} \times ۳۳) - (\frac{۱}{۴} \times ۴۴)$$

$$۲۲۲ - \frac{1}{۴} \times ۴۴ = ۲۱۱$$

خالص داخلی

$$۲۱۱ \div ۲۵ = ۸,۴۴ \text{ (الف)}$$

۲۱۱ خالص داخلی سرانه

$$\text{هزینه استهلاک} - \text{تولید ناخالص ملی} = \text{تولید خالص ملی}$$

$$\text{میلیارد دلار} = ۱۱۱,۵ = ۲۰,۵ + \left(\frac{1}{۲} \times ۲۶\right) + ۱۷ + ۲۶ + ۳۵ = \text{تولید ناخالص ملی}$$

نکته: ارزش کالاهای واسطه‌ای در تولید کل محاسبه نمی‌شود.

$$\text{میلیارد دلار} = ۲۲,۳ = ۱۱۱,۵ \times \frac{1}{۵} = \text{تولید ناخالص ملی} \times \frac{1}{۵} = \text{هزینه استهلاک}$$

$$\text{میلیارد ریال} = ۸۹,۲ = ۱۱۱,۵ - ۲۲,۳ = \text{تولید خالص ملی}$$

$$\text{تولید اتباع کشور که در خارج اقامت دارند} - \text{تولید خارجیان مقیم کشور} + \text{تولید ناخالص ملی} = \text{تولید ناخالص داخلی}$$

$$\text{میلیارد دلار} = ۱۰۸,۵ = ۱۷,۵ + ۲۰,۵ + ۱۱۱,۵ =$$

$$\text{دلار} = ۲۱,۷۰۰ = \frac{۱۰۸,۵۰۰,۰۰۰,۰۰۰}{۵,۰۰۰,۰۰۰} = \frac{\text{تولید ناخالص داخلی}}{\text{جمعیت کل}}$$

تولید ناخالص داخلی سرانه

$$\text{میلیارد ریال} = ۲۵ = \frac{۶۵۰}{۲۶} = \frac{\text{قیمت کالا}}{\text{عمر مفید}} = \text{هزینه استهلاک}$$

$$\text{میلیارد ریال} = ۵۲۰ = ۶۵۰ \times \frac{۸۰}{۱۰۰} = \text{قیمت جدید دستگاه}$$

$$\text{میلیارد ریال} = ۲۰ = \frac{۵۲۰}{۲۶} = \text{هزینه استهلاک جدید}$$

$$\text{میلیارد ریال} = ۲۰ = \text{هزینه استهلاک سال آخر}$$

گزینه ۱ در دوران قاجاریه، بی‌کفایتی و عیاشی حکام به اوج رسید و ایران فرصت طلایی خود را برای جبران عقب‌ماندگی نسبت به اروپا از دست داد.

گزینه ۴ بررسی عبارات نادرست:

الف) رشد اقتصادی بیش از اینکه به رشد سرمایه‌فیزیکی وابسته باشد، بهتر است به رشد سرمایه‌انسانی و ارتقای قدرت تولیدی عموم مردم استوار گردد.

ب) هرچه منابع درآمدی کشور گوناگون‌تر باشد، مقاومت و در پی آن پیشرفت کشور بیشتر تضمین می‌شود.

ت) افزایش صادرات غیرنفتی و حرکت به سمت فروش فرآورده‌های نفتی به جای نفت خام، به تنوع منابع درآمدی کشور کمک می‌کند.

گزینه ۱ بررسی عبارتهای نادرست:

الف) هدف علم اقتصاد، راهنمایی انسان برای بهترین انتخاب و به‌کارگیری بهترین روش به منظور استفاده از منابع و امکانات خویش است.

ب) تصمیماتی که انسان در مورد مسائل اقتصادی می‌گیرد، عمدتاً در نیازها و خواسته‌های نامحدود او ریشه دارد و باید از طریق به‌کارگیری منابع و امکانات محدود و در دسترس، عملی شوند.

ج) علم اقتصاد دربارهٔ چگونگی انتخاب و تصمیم‌گیری انسان در زندگی اقتصادی خویش مطالعه می‌کند.

گزینه ۴ الف) ابتدا باید منفعت حاصل از کشت و فروش هر یک از محصولات در پایان سال را محاسبه کنیم:

منفعت حاصل از کشت و فروش هویج	ریال $۲۱۰ \times ۵۰ = ۱۰,۵۰۰$
منفعت حاصل از کشت و فروش گوجه فرنگی	ریال $۱۵۰ \times ۶۵ = ۹,۷۵۰$
منفعت حاصل از کشت و فروش سیب زمینی	ریال $۱۲۰ \times ۷۰ = ۸,۴۰۰$

بنابراین چون منافع حاصل از کشت و فروش هویج بیشتر از سایر محصولات است، کشاورز باید زمین زراعی خود را به کشت هویج اختصاص دهد.

ب) مقدار منافع از دست داده گزینه دوم (یعنی  $۹,۷۵۰$  ریال منفعت حاصل از کشت و فروش گوجه فرنگی است) هزینه فرصت انتخاب گزینه اول (هویج) است.

گزینه ۳ تشریح عبارتهای غلط:

الف) دین اسلام، دنیا و آخرت را با هم مورد توجه قرار می‌دهد.

ت) قرآن تأکید می‌کند که رفع همه مشکلات انسان در گروهی عمل به آموزه‌های الهی است.

گزینه ۳ الف) دارو کالایی ضروری است و نمودار شماره (۲) با شیب زیاد و حساسیت کم، نمودار تقاضای آن است. نمودار شماره (۱) مربوط به تقاضای فرش‌های

گران‌قیمت است که کالایی لوکس و با شیب نمودار کم است.

ب) عرضه‌کننده‌ای که بتواند با مدیریت خوب و تولید قابل انعطاف و ماشین‌آلات مستهلک نشده خود، شکل تولیدش را عوض کند و به جای کالای ارزان به تولید کالای گران‌تر پردازد، شیب

منحنی عرضه‌اش کم و واکنش با حساسیت عرضه‌کننده به تغییرات قیمت زیاد است.

گزینه ۴ مقادیر جدول، مقادیر عرضه را نشان می‌دهد، چرا که با افزایش قیمت، مقادیر نیز در حال افزایش می‌باشد. مقادیر نمودار نشان‌دهندهٔ مقادیر تقاضا است؛ چرا که



نزولی است و نشان دهنده رابطه معکوس مقادیر تقاضا و قیمت است.

الف) در سطح قیمت ۲۰۰ ریال، ۴۰۰ کیلو کالا عرضه می‌شود، ولی تنها ۲۰۰ کیلو تقاضا می‌شود؛ در نتیجه داریم:

$$\text{ریال } ۲۰۰ \times ۲۰۰ = ۴۰,۰۰۰ = \text{حداکثر درآمد تولیدکنندگان در سطح قیمت } ۲۰۰ \text{ ریال}$$

(ب)

ریال ۱۵۰ = قیمت تعادلی

کیلو ۳۰۰ = مقدار تعادلی

$$\text{ریال } ۱۵۰ \times ۳۰۰ = ۴۵,۰۰۰ = \text{درآمد تولیدکنندگان در حالت تعادل}$$

ج) وقتی در بازار قیمت از سطح قیمت تعادلی بالاتر برود، مازاد عرضه به وجود می‌آید؛ بدین ترتیب چون گروهی از تولیدکنندگان موفق نمی‌شوند کالایشان را بفروشند، حاضر خواهند بود آن را با قیمتی پایین‌تر به فروش برسانند. در نتیجه قیمت پایین می‌آید.

۱۷۵ گزینه ۲ الف) به کالای بادوامی که در فرایند تولید از سوی نیروی انسانی به کار گرفته می‌شود، کالای سرمایه‌ای می‌گویند؛ مانند تراکتور، اجاق گاز استفاده شده در رستوران، یخچال در مغازه بستنی فروشی.

ب) اگر فرد با کوچک‌ترین تغییر در قیمت، مصرف کالایی را تغییر دهد، اصطلاحاً آن کالا، کالای تجملی است؛ مثل لوستر (نورافشان) و فرش ابریشم.

ج) برخی کالاها خودشان مصرف نمی‌شوند؛ بلکه در طول زمان خدمات آن‌ها مورد مصرف قرار می‌گیرد؛ مثل اتومبیل، یخچال، لپ‌تاپ و میز تحریر.

د) هرگاه تولیدکنندگان دیگری برای ادامه فرایند تولید و تبدیل کالاهایی به کالاهای مختلف دیگر آن‌ها را خریداری کنند و مورد استفاده قرار دهند، آن‌ها را کالای واسطه‌ای می‌نامیم. یعنی هر چند خروجی یک کارخانه یا بنگاه تولیدی است، اما هنوز در فرآیند تولید و تکمیل است و در بنگاه تولیدی دیگری به عنوان ورودی به کار برده می‌شود؛ مانند ورقه فولادی مورد استفاده در کارخانه اتومبیل سازی و پارچه به کار رفته در دوخت یک پیراهن.

۱۷۶ گزینه ۳ تشریح گزینه‌های نادرست:

الف) دین اسلام به همه ارتباطات و پیوندهای افراد با یکدیگر (از جمله روابط اقتصادی) رنگ عبادت می‌زند.

ب) تولیدکنندگان برای انجام فعالیت‌های تولیدی خویش به ورودی‌های مختلفی نظیر نیروی کار، مواد اولیه، تجهیزات و سایر ملزومات نیازمندند که به آن‌ها «نهادهای تولید» می‌گویند.

ت) گاهی از متخصصان به عنوان سرمایه انسانی یاد می‌شود و «اخلاق و وفای به عهد» جزء سرمایه‌های اجتماعی است.

ج) قرآن تأکید می‌کند که رفع همه مشکلات مادی و معنوی انسان در گروهی عمل به آموزه‌های الهی است و صرف عقلانیت اقتصادی کفایت نمی‌کند.

۱۷۷ گزینه ۲ الف) منحنی عرضه‌اش با شیب بیش‌تر است، اصطلاحاً می‌گوئیم کشش قیمتی عرضه پایین است.

ب) در حالت کمبود عرضه (مازاد تقاضا) گروهی از مصرف‌کنندگان موفق به خرید کالای موردنظر خود نمی‌شوند.

۱۷۸ گزینه ۴

$$\text{تومان } ۱۱,۶۴۰,۰۰۰ = ۹۷۰,۰۰۰ \times ۱۲ = \text{سود ناشی از اجاره زمین کشاورزی در سال}$$

$$\text{تومان } ۱۵,۰۰۰,۰۰۰ = \text{سود ناشی از کارکردن فرد بر روی زمین خود در سال}$$

در نتیجه با توجه به سود به دست آمده، انتخاب بهتر این بود که فرد بر روی زمین کشاورزی‌اش کار کند.

تشریح سایر گزینه‌ها:

گزینه ۱:

$$\text{تومان } ۸۷۰,۰۰۰ = ۴۳۵ \times ۲۰۰۰ = \text{سود ناشی از کاشت گندم}$$

$$\text{تومان } ۷۵۰,۰۰۰ = ۲۵۰ \times ۳۰۰۰ = \text{سود ناشی از کاشت گوجه‌فرنگی}$$

در نتیجه با توجه به سود به دست آمده باید کاشت گندم را انتخاب کند.

گزینه ۲:

$$\text{تومان } ۱,۰۰۰,۰۰۰ = ۵,۰۰۰,۰۰۰ \times \frac{۲۰}{۱۰۰} = \text{سود سالانه حاصل از سرمایه‌گذاری در بانک}$$

$$\text{تومان } ۱,۷۵۰,۰۰۰ = ۵۰ \times ۳۵,۰۰۰ = \text{سود سالانه حاصل از خرید اوراق مشارکت}$$

در نتیجه با توجه به سود به دست آمده، باید خرید اوراق مشارکت را انتخاب کنید.

گزینه ۳:

$$\text{تومان } ۷۵۰,۰۰۰ = ۷۵ \times ۱۰,۰۰۰ = \text{درآمد ماهانه به دست آمده از شرکت حمل بار در ماه}$$

$$\text{تومان } ۱,۰۰۰,۰۰۰ = \text{درآمد ماهانه به دست آمده از شرکت تاکسی‌رانی}$$

در نتیجه با توجه به درآمد به دست آمده، کار در شرکت تاکسی‌رانی بهتر است.

۱۷۹ گزینه ۱ الف) موضوع اصلی علم اقتصاد مسئله انتخاب است.

ب) موارد ب در گزینه‌های «۱» و «۲» به هدف علم اقتصاد اشاره دارد.

ج) دانشمندان علوم اقتصادی، موضوعات اقتصادی را با روش‌های علمی مورد مطالعه قرار می‌دهند.

۱۸۰ گزینه ۲ الف) ردیف ۳ مربوط به قیمت خدمات سرمایه (درآمد صاحبان سرمایه) و ردیف ۶ (درآمد صاحبان املاک و مستغلات) مربوط به وجوه اجاره است.

ب) درآمد ملی دربرگیرنده مجموع درآمدهایی است که در طول سال نصیب ملت می‌شود. این درآمدها عبارت است از: درآمد حقوق‌بگیران (دستمزدها)، درآمد صاحبان سرمایه (قیمت خدمات سرمایه)، درآمد صاحبان املاک و مستغلات (اجاره)، درآمد صاحبان مشاغل آزاد و سودی که نصیب شرکت‌ها و مؤسسات می‌شود.

$$\text{میلیارد دلار } ۱۲۰۰ = \frac{۲}{۳} \times ۱۸۰۰ = \text{درآمد صاحبان مشاغل آزاد} = \frac{۲}{۳} = \text{درآمد صاحبان سرمایه}$$

$$\text{میلیارد دلار } 1350 = \frac{3}{2} \times 900 = \frac{3}{2} (\text{درآمد حقوق بگیران}) = \frac{3}{2} \text{ سود شرکت‌ها و مؤسسات}$$

$$\text{میلیارد دلار } 540 = \frac{3}{5} \times 900 = \frac{3}{5} (\text{درآمد حقوق بگیران}) = \frac{3}{5} \text{ دستمزدها}$$

$$\text{میلیارد دلار } 1080 = \frac{40}{100} (900 + 1800) = \frac{40}{100} (\text{مجموع ردیف‌های ۱ و ۲}) = \frac{40}{100} \text{ درآمد صاحبان املاک و مستغلات}$$

$$\text{میلیارد دلار } 6870 = 900 + 1800 + 1200 + 1350 + 540 + 1080 = \text{درآمد ملی}$$

$$\frac{6,870,000 \text{ میلیارد}}{80 \text{ میلیون}} = \frac{6,870,000}{80} = 85,875 \text{ دلار}$$

(ج)

گزینه ۳ **۱۸۱**  
الف و ج

ارزش خدمات ارائه شده + تولید خارجیان مقیم کشور + مجموع اقلام مواد غذایی، پوشاک و ماشین‌آلات = تولید ناخالص داخلی

$$\text{میلیارد ریال } 220 = 50 + 35 + 135 = \text{تولید ناخالص داخلی}$$

هزینه استهلاك - تولید ناخالص داخلی = تولید خالص داخلی

$$\text{میلیارد ریال } 176 = 220 - \left(\frac{1}{5} \times 220\right) = 220 - 44 = \text{تولید خالص داخلی}$$

(ب)

$$\text{ریال } 8,800 = \frac{176,000 \text{ تولید خالص داخلی}}{20 \text{ جمعیت کل کشور}} = \text{تولید خالص داخلی سرانه}$$

خالص درآمد عوامل تولید کشور از خارج + تولید خارجیان مقیم کشور - تولید خالص داخلی = تولید خالص ملی

$$\text{میلیارد ریال } 162 = 176 - 35 + 21 = \text{تولید خالص ملی}$$

گزینه ۱ **۱۸۲**

تولید مردم کشور که در خارج اقامت دارند + تولید مردم کشور که در داخل اقامت دارند = تولید ناخالص ملی (الف)

$$\text{هزار میلیارد ریال } 231 = 245 - 14 = \text{تولید مردم کشور که در داخل اقامت دارند}$$

هزینه استهلاك - تولید ناخالص داخلی = تولید خالص داخلی

$$\text{هزار میلیارد ریال } 254 = 240 + 14 = \text{تولید ناخالص داخلی}$$

تولید خارجیان مقیم کشور + تولید مردم کشور که در داخل اقامت دارند = تولید ناخالص داخلی

$$\text{هزار میلیارد ریال } 23 = 254 - 231 = \text{تولید خارجیان مقیم کشور}$$

(ب) اگر تورم جهانی ۲۰ درصد بوده و صادرات اسمی جامعه‌ای ۱۰ درصد افزایش یافته باشد، در واقع صادرات واقعی ۱۰ درصد کاهش یافته است.

(پ) اگر دستمزد کارکنان دولت ۲۵ درصد افزایش یابد و در همان زمان تورم ۲۵ درصد باشد، در واقع خرید واقعی آنان تغییری نکرده است. اگر در همان حالت بانک‌ها به سپرده‌های مردم ۳۰ سود اسمی بپردازند، در واقع پس از کسر تورم ۵ سود واقعی خواهیم داشت.

گزینه ۲ **۱۸۳**

$$\text{ریال } 345,000,000 = 750 \times 460,000 = \text{درآمد سالیانه بنگاه}$$

$$\text{ریال } 63,600,000 = 12 \times 5,300,000 = \text{اجاره سالیانه بنگاه}$$

$$\text{ریال } 49,680,000 = 12 \times 18 \times 230,000 = \text{حقوق سالیانه تمام کارگران}$$

$$\text{ریال } 10,600,000 = \frac{1}{6} \times 63,600,000 = \text{هزینه استهلاك سالیانه بنگاه}$$

$$\text{ریال } 141,680,000 = 63,600,000 + 49,680,000 + 17,800,000 + 10,600,000 = \text{هزینه‌های مستقیم سالیانه بنگاه}$$

$$\text{ریال } 203,320,000 = 345,000,000 - 141,680,000 = \text{سود یا منفعت حسابداری سالیانه بنگاه}$$

گزینه ۳ **۱۸۴** تأثیر بورس بر اقتصاد جامعه:

۱- با بررسی و شفاف‌سازی اطلاعات مالی شرکت‌ها و قیمت‌گذاری سهام و اوراق بهادار تا حدودی از نوسان شدید قیمت‌ها جلوگیری می‌کند.

- ۲- با تشویق مردم به پس انداز و به کارگیری پس اندازها در فعالیتهای مفید اقتصادی در کاهش نرخ تورم مؤثر است.  
 ۳- از طریق جذب و به کار انداختن سرمایه های راکد، حجم سرمایه گذاری را در جامعه افزایش می دهد.  
 ۴- از طریق برقراری ارتباط بین عرضه کنندگان و تقاضاکنندگان سرمایه، معاملات بازار سرمایه را تنظیم می کند.  
 ۵- سرمایه های لازم برای اجرای پروژه های بزرگ دولتی و خصوصی را فراهم می آورد.

۱۸۵ گزینه ۲ تشریح مورد نادرست:

(پ) بانک تخصصی فقط به فعالان عرصه خاصی از اقتصاد ارائه خدمات می کند.

(ت) بانک های مسکن یا کشاورزی بانک های تخصصی هستند که در ایران بیش تر نقش بانک تجاری را ایفا می کنند.

۱۸۶ گزینه ۴ الف) حجم اسکناس های موجود در دست مردم:

$$\text{واحد پولی } ۳,۷۵۰ = \frac{۳}{۲} \times ۲۵۰۰ = \text{ارزش پولی اسکناس های موجود در دست مردم}$$

(ب) حجم شبه پول موجود در جامعه:

حجم شبه پول = حساب های قرض الحسنه + سپرده های غیردیداری

$$۷۵۰ = \text{ارزش پولی سپرده غیردیداری} + ۲۳۰ \Rightarrow ۷۵۰ = \text{ارزش پولی سپرده غیردیداری} + \text{ارزش پولی سپرده دیداری}$$

$$\text{واحد پولی } ۵۲۰ = ۷۵۰ - ۲۳۰ = \text{ارزش پولی سپرده غیردیداری}$$

$$\text{واحد پولی } ۲۰۴۰ = ۱۵۲۰ + ۵۲۰ = \text{ارزش پولی موجودی حساب های قرض الحسنه} + \text{ارزش سپرده غیردیداری} = \text{شبه پول}$$

(ج) نقدینگی (حجم کل پول موجود در جامعه):

ارزش پولی مسکوکات + ارزش پولی موجودی حساب های قرض الحسنه = نقدینگی

ارزش پولی سپرده های غیردیداری + ارزش پولی سپرده های دیداری + ارزش پولی اسکناس ها +

$$\text{واحد پولی } ۸۵۲۰ = ۷۵۰ + ۳,۷۵۰ + ۲,۵۰۰ + ۱,۵۲۰ = \text{نقدینگی}$$

(د) ارزش موجودی سپرده های پس انداز:

ارزش پولی سپرده پس انداز + ارزش پولی سپرده مدت دار = ارزش پولی سپرده های غیردیداری

$$\text{واحد پولی } ۲۰۰ = ۵۲۰ - ۳۲۰ = \text{ارزش پولی سپرده پس انداز} \Rightarrow \text{ارزش پولی سپرده پس انداز} + ۳۲۰ = ۵۲۰$$

(ه) مجموع سپرده های دیداری و غیردیداری (یعنی ۷۵۰ واحد پولی) همان بدهی بانک به مشتریانش است.

۱۸۷ گزینه ۳ الف) رفاه اجتماعی با از بین رفتن فقر و کاهش نابرابری ها تحقق می یابد.

(ب) فقر یا تهیدستی مطلق به معنای نداشتن حداقل معیشت است.

(ج) معمولاً با در نظر گرفتن دو شاخص درآمد سرانه و میزان نابرابری ها در توزیع درآمد، می توان تصویری از وسعت و اندازه فقر در هر کشور به دست آورد.

(د) در هر جامعه افرادی که درآمد آن ها از سطح حداقل معیشتی معین کمتر باشد، زیر خط فقر قرار دارند.

(ه) این امر که سطح حداقل معیشت از یک کشور به کشور دیگر یا از یک زمان به زمان دیگر متفاوت است، منعکس کننده تفاوت در نیازها است.

(و) مسکین کسی است که حتی در صورت دسترسی به امکانات معیشتی، توانایی استفاده از آن ها را هم ندارد.

۱۸۸ گزینه ۱ الف) به یقین، ملاک بهترین استفاده از منابع و امکانات این است که با استفاده از این منابع بتوان بیشترین میزان منافع (مانند تولید) را به دست آورد و سطح بالاتری

از رفاه را برای انسان فراهم کرد.

(ب) تولیدکنندگان کالاهای تجملی نمی توانند به راحتی قیمت کالاهای خود را افزایش دهند، زیرا مصرف کنندگان با کوچک ترین تغییر در قیمت، مصرف کالاهای تجملی را تغییر می دهند.

(پ) پرورش قارچ در گلخانه: احیا

تولید کنسرو قارچ: صنعت

پخش در فروشگاه ها: خدمات.

(ت)

سود اقتصادی + هزینه فرصت = سود حسابداری

$$\text{میلیون تومان } ۹۰ = \text{تومان } ۹۰,۰۰۰,۰۰۰ = ۷۵,۰۰۰,۰۰۰ + ۱۵,۰۰۰,۰۰۰ = \text{سود حسابداری}$$

(ث) گاهی سازمان تولید، مشارکتی است و همه عوامل تولید، صاحب محصول هستند. در این صورت همه با هم در فرآیند تولید مشارکت می کنند و محصول یا ارزش محصول به طور مساوی و

یا با نسبتی تقسیم می شود که به توافق رسیده اند؛ مثل سازمان ها و شرکت های تعاونی و سهامی

۱۸۹ گزینه ۱

$$\text{هزار تومان } ۱۰۰۰ = \frac{۵}{۴} \times ۸۰۰ = \text{حقوق ماهیانه هر کارگر}$$

$$\text{هزار تومان } ۶۰,۰۰۰ = ۱۰۰۰ \times ۵ \times ۱۲ = \text{حقوق سالیانه تمامی کارگران}$$

$$\text{هزار تومانی} = \frac{15}{100} \times 105,000,000 = 15,750,000 = 15,750 \text{ تومان}$$

$$\text{هزار تومانی} = 140 \times 12 = 1680 \text{ تومان}$$

$$\text{هزار تومانی} = 60,000 + 800 + 1680 + 15,750 = 78,230$$

$$\text{هزار تومانی} = 105,000,000 - 78,230 = 105,000 \text{ تومان}$$

$$\text{هزار تومانی} = 105,000 - 78,230 = 26,770$$

$$\text{هزار تومانی} = 12 \times (110 + 650) = 9120$$

$$\text{هزار تومانی} = 105,000 - (78,230 + 9120) = 105,000 - 87,350 = 17,650$$

گزینه ۳ ۱۹۰

$$\text{میلیون تومانی} = 18 \times 25 = 450$$

$$\text{میلیون تومانی} = 2 \times 6 \times 12 = 144$$

$$\text{میلیون تومانی} = 3,5 \times 12 = 42$$

$$\text{میلیون تومانی} = \frac{35}{100} \times 42 = 14,7$$

$$\text{میلیون تومانی} = \frac{2}{3} \times 144 = 96$$

$$\text{میلیون تومانی} = 144 + 42 + 14,7 + 96 = 296,7$$

$$\text{هزینه سالیانه} = \text{درآمد سالیانه} - \text{سود سالیانه}$$

$$\text{میلیون تومانی} = 450 - 296,7 = 153,3 \Rightarrow$$

گزینه ۴ الف وظایف پول: ۱۹۱

- ۱- وسیله پرداخت در مبادلات: افراد در مبادلات خود، پول را می‌پذیرند؛ زیرا می‌دانند که دیگران نیز هنگام فروش کالاها یا خدمات خود، آن را خواهند پذیرفت.
  - ۲- وسیله سنجش ارزش: با پول می‌توان ارزش کالاها را مشخص کرد و سپس ارزش نسبی آن‌ها را با هم سنجید. هریک از کشورها، دارای واحد ارزش خاص خود هستند.
  - ۳- وسیله پس‌انداز و حفظ ارزش: علاوه بر هزینه‌های روزمره، برخی هزینه‌های غیرقابل پیش‌بینی نیز هست که در موقعیت‌های خاص پیش می‌آید.
  - ۴- وسیله پرداخت‌های آینده: بیشتر معاملات تجاری در مقابل پرداخت‌های آینده صورت می‌گیرد. خرید اقساطی و رد و بدل کردن حواله‌های بانکی از همین نوع است.
- ب) مشارکت مدنی: قراردادی بازرگانی است که به موجب آن دو یا چند شخص حقیقی یا حقوقی (از جمله بانک) سرمایه نقدی یا جنسی خود را به شکل مشاع و به منظور ایجاد سود در هم می‌آمیزند.

مشارکت حقوقی: قراردادی است که طی آن بانک قسمتی از سرمایه شرکت‌های سهامی جدید را تأمین و یا قسمتی از سهام شرکت‌های سهامی موجود را خریداری می‌کند و از این طریق در سود آن‌ها شریک می‌شود.

گزینه ۲ الف) امید به زندگی در چین ۷۵ سال، نرخ مرگ‌ومیر نوزادان در نروژ ۲٫۳ (در هر هزار تولد) و به ترتیب نرخ باسوادی بزرگسالان و تولید ناخالص داخلی سرانه در کشور موزامبیک هم ۵۰٫۶ درصد و ۱۰۷۰ دلار است.

ب) سطح پایین توسعه با سطح پایین رشد در کشور موزامبیک هماهنگی دارد، هم‌چنین سطح بالای توسعه و سطح بالای رشد در کشور نروژ نیز با یکدیگر هماهنگی دارد. تعدادی از کشورهای در حال توسعه با پیش‌بینی و اجرای برنامه‌های بلندمدت توانسته‌اند در شاخص‌های توسعه خود بهبود نسبی ایجاد کنند. چین از جمله این کشورها است که با وجود درآمد سرانه نه چندان زیاد، از نظر بسیاری از شاخص‌های توسعه وضعیت نسبتاً مطلوبی دارد.

گزینه ۳ الف) حضور و رفتار هریک از عرضه‌کنندگان و تقاضاکنندگان به نسبت کل بازار بسیار کوچک است و در عمل هیچ یک از طرفین به تنهایی در شکل‌گیری قیمت تأثیرگذار، به عبارت دیگر «قیمت‌گذار» نیستند.

ب) گاه به دلیل طبیعی، اقتصادی، قانونی و یا حتی غیرقانونی، تعداد فروشنده و یا خریدار به یک یا چند نفر محدود می‌شود، این وضعیت را انحصار می‌گوییم و در صورتی که وجود تولیدکننده یا فروشنده در قیمت‌گذاری پررنگ‌تر باشد انحصار در فروش می‌شود مانند شرکت توانیر و شرکت‌های خودرویی در کشور ما

(ج) در قالب حراجی دیده می‌شود، مانند فروشندگان آثار هنری در نمایشگاه که در قالب حراجی‌ها است.

(د) شرکت توانیر و شرکت‌های خودرویی در کشور ما

۱۹۴ گزینه ۴ بررسی عبارات صورت سؤال:

(الف) نادرست است. تمامی درآمدهای حاصل از فروش کالا و خدمات شرکت‌های دولتی به استثنای بانک‌ها، بیمه‌های دولتی و برخی سازمان‌های توسعه‌ای به حساب‌های معرفی شده از سوی خزانه‌داری کل کشور واریز می‌شود.

(ب) نادرست است. برخی سرمایه‌گذاری‌های تولیدی داخلی یا خارجی دولت با هدف سودآوری است که در این صورت یکی از منابع تأمین درآمد دولت به‌شمار می‌رود.

(ج) نادرست است. بهترین راه استقراض، قرض گرفتن از مردم از طریق فروش اوراق مشارکت است.

(د) نادرست است.

مالیات بر درآمد اصناف: مالیات مستقیم

عوارض نوسازی: مالیات غیرمستقیم

مالیات بر نقل و انتقالات دارایی: مالیات غیرمستقیم

مالیات بر انواع دارایی: مالیات مستقیم

مالیات بر کالاهای صادر یا وارد شده: مالیات غیرمستقیم

(ه) درست است.

(و) درست است.

۱۹۵ گزینه ۳ (الف) نرخ ثابت مالیات = محاسبه مالیات براساس نرخ B

$$\text{ریال } ۵۵۲ = ۶۹۰۰ \times \frac{۸}{۱۰۰} = \text{مالیات ماهیانه فرد}$$

$$\text{ریال } ۶۶۲۴ = ۵۵۲ \times ۱۲ = \text{مالیات سالیانه فرد}$$

(ب) نرخ تصاعدی = محاسبه مالیات براساس نرخ A

$$\text{ریال } ۶۹۰ = ۶۹۰۰ \times \frac{۱۰}{۱۰۰} = \text{مالیات ماهیانه فرد}$$

مالیات ماهیانه - درآمد ماهیانه = مانده خالص ماهیانه فرد

$$\text{ریال } ۶۲۱۰ = ۶۹۰۰ - ۶۹۰ =$$

۱۹۶ گزینه ۲ (الف) تصویب قانون ۵ ساله و هر قانونی ← محور وضع مقررات، سیاست‌گذاری و حکمرانی در اقتصاد توسط دولت است.

(پ) راه‌سازی و ساخت صنایع مادر و هر کارخانه‌ای ← عرضه کالا و خدمات توسعه دولت است.

(ت و ث) مالیات گذاشتن بر واردات و معاف کردن تولیدکننده داخلی از مالیات ← وضع مقررات و سیاست‌گذاری و حکمرانی در اقتصاد توسط دولت است.

(ج) از دیدگاه اقتصاددانان، رفع فقر و حمایت از اقشار کم درآمد، راهی برای گسترش توسعه اقتصادی و افزایش سرعت روند توسعه‌یافتگی جامعه است؛ زیرا فقر گسترده می‌تواند مانعی بر سر راه پیشرفت همه جانبه کشور باشد.

۱۹۷ گزینه ۳ (الف) کشور ترکیه گاز و نفت کشورهای دیگر را به اروپا می‌رساند و درآمد به‌دست می‌آورد. به همین راحتی از گذر کردن نفت و گاز از کشورش درآمد کسب می‌کند. پس اقدام به خلق مزیت‌های جدید اقتصادی کرده است.

(ب) کشورهای برای تشویق صادرکنندگان داخلی به منظور نفوذ به بازارهای جهانی یا تشویق سرمایه‌گذاران خارجی به سرمایه‌گذاری در داخل، یارانه‌های مختلف و انواع تسهیلات اقتصادی و حقوقی ارائه می‌کنند.

(پ) کالاها و خدماتی را که تولید آن‌ها بدون توجه به میزان سود، هزینه و بازار و ... انجام می‌شود، «محصولات راهبردی» می‌نامند.

۱۹۸ گزینه ۳ (الف) در حالت رکود اقتصادی که سطح تولید کاهش و بیکاری افزایش یافته و تولیدکنندگان انگیزه تولید و ایجاد اشتغال را از دست داده‌اند، بانک مرکزی با سیاست پولی انبساطی (مانند خرید اوراق مشارکت) می‌تواند برای کوتاه‌مدت مشکل را حل کند.

(ب) بدیهی است برای حل اساسی مشکل در بلندمدت باید سیاست‌های جانب عرضه (مثل بهبود بهره‌وری، افزایش سرمایه‌گذاری و بهبود فضای کسب و کار) را در پیش گرفت.

(ج) افزایش در مخارج جاری یا عمرانی دولت و کاهش در نرخ‌ها یا پایه‌های مالیاتی (سیاست مالی انبساطی) بهترین راه تحریک تقاضای عمومی است که در مواقع رکود می‌تواند رونق را به بازار برگرداند.

۱۹۹ گزینه ۴ (ب) اقتصاددانان در مورد اصل حضور دولت در اقتصاد اتفاق نظر دارند؛ ولی در مورد این که دولت در چه مواردی، چقدر، تا چه زمانی و چگونه نقش داشته باشد، اختلاف‌نظر دارند.

۲۰۰ گزینه ۴ (الف) نتیجه دوران سازندگی به ثمر رسیدن بسیاری از طرح‌های اقتصادی و مولد بود که باعث افزایش تولید ناخالص ملی و درآمد سرانه شد.

(ب) در منحنی شماره ۲، از سال ۶۷ که سال پایان جنگ است، درآمد سرانه افزایش می‌یابد و به سمت بالا گرایش پیدا می‌کند.

پاسخنامه  
کلیدی

۱	۳	۴۱	۱	۸۱	۲	۱۲۱	۳	۱۶۱	۴
۲	۳	۴۲	۱	۸۲	۴	۱۲۲	۴	۱۶۲	۳
۳	۲	۴۳	۴	۸۳	۱	۱۲۳	۱	۱۶۳	۴
۴	۲	۴۴	۴	۸۴	۴	۱۲۴	۴	۱۶۴	۳
۵	۲	۴۵	۳	۸۵	۴	۱۲۵	۴	۱۶۵	۴
۶	۱	۴۶	۲	۸۶	۱	۱۲۶	۳	۱۶۶	۱
۷	۳	۴۷	۴	۸۷	۲	۱۲۷	۴	۱۶۷	۲
۸	۴	۴۸	۱	۸۸	۳	۱۲۸	۳	۱۶۸	۱
۹	۳	۴۹	۳	۸۹	۳	۱۲۹	۳	۱۶۹	۴
۱۰	۳	۵۰	۱	۹۰	۳	۱۳۰	۲	۱۷۰	۱
۱۱	۲	۵۱	۲	۹۱	۲	۱۳۱	۳	۱۷۱	۴
۱۲	۳	۵۲	۲	۹۲	۳	۱۳۲	۱	۱۷۲	۳
۱۳	۴	۵۳	۴	۹۳	۱	۱۳۳	۳	۱۷۳	۳
۱۴	۲	۵۴	۳	۹۴	۳	۱۳۴	۲	۱۷۴	۴
۱۵	۳	۵۵	۲	۹۵	۴	۱۳۵	۳	۱۷۵	۲
۱۶	۴	۵۶	۱	۹۶	۳	۱۳۶	۲	۱۷۶	۳
۱۷	۲	۵۷	۲	۹۷	۴	۱۳۷	۲	۱۷۷	۲
۱۸	۱	۵۸	۱	۹۸	۱	۱۳۸	۳	۱۷۸	۴
۱۹	۳	۵۹	۴	۹۹	۲	۱۳۹	۳	۱۷۹	۱
۲۰	۲	۶۰	۳	۱۰۰	۲	۱۴۰	۳	۱۸۰	۲
۲۱	۳	۶۱	۲	۱۰۱	۲	۱۴۱	۳	۱۸۱	۳
۲۲	۴	۶۲	۴	۱۰۲	۳	۱۴۲	۱	۱۸۲	۱
۲۳	۱	۶۳	۱	۱۰۳	۱	۱۴۳	۳	۱۸۳	۲
۲۴	۳	۶۴	۲	۱۰۴	۴	۱۴۴	۴	۱۸۴	۲
۲۵	۲	۶۵	۲	۱۰۵	۳	۱۴۵	۲	۱۸۵	۲
۲۶	۲	۶۶	۲	۱۰۶	۲	۱۴۶	۴	۱۸۶	۴
۲۷	۳	۶۷	۴	۱۰۷	۴	۱۴۷	۳	۱۸۷	۳
۲۸	۱	۶۸	۲	۱۰۸	۳	۱۴۸	۲	۱۸۸	۱
۲۹	۱	۶۹	۲	۱۰۹	۲	۱۴۹	۴	۱۸۹	۱
۳۰	۲	۷۰	۳	۱۱۰	۱	۱۵۰	۴	۱۹۰	۳
۳۱	۴	۷۱	۲	۱۱۱	۴	۱۵۱	۲	۱۹۱	۴
۳۲	۴	۷۲	۱	۱۱۲	۳	۱۵۲	۴	۱۹۲	۲
۳۳	۴	۷۳	۴	۱۱۳	۱	۱۵۳	۳	۱۹۳	۳
۳۴	۳	۷۴	۲	۱۱۴	۱	۱۵۴	۳	۱۹۴	۴
۳۵	۲	۷۵	۴	۱۱۵	۴	۱۵۵	۱	۱۹۵	۳
۳۶	۱	۷۶	۲	۱۱۶	۱	۱۵۶	۲	۱۹۶	۲
۳۷	۴	۷۷	۴	۱۱۷	۲	۱۵۷	۳	۱۹۷	۳
۳۸	۴	۷۸	۱	۱۱۸	۲	۱۵۸	۲	۱۹۸	۳
۳۹	۴	۷۹	۴	۱۱۹	۳	۱۵۹	۳	۱۹۹	۴
۴۰	۱	۸۰	۱	۱۲۰	۴	۱۶۰	۳	۲۰۰	۴