


بسمه تعالی

نام و نام خانوادگی:	نام درس : تاریخ ۱	رشته : انسانی	پایه: دهم	کد کتاب: ۱۱۰۲۱۹
تاریخ امتحان: ۹۸/۱۰/۲۱	تعداد صفحه: ۳ صفحه	مدت امتحان: ۸۰ دقیقه	ساعت شروع: ۸:	
امضاء دبیر : خانم بیانی	نمره به عدد:	مهر و امضاء آموزگاه:		
	نمره به حروف:			
ردیف	سؤالات			بارم

۱	پاسخ صحیح و غلط را مشخص کنید: الف) زبان مهاجران هند سانسکریت بود. ب) مردم مصر باستان و بین النهرین در تنظیم گاه شماری پیشگام بودند. ج) جاده ابریشم در دوران شی هوانگ تی گشایش یافت. د) کهن ترین نشانه حضور انسان در ایران مربوط به چغاگلان در شهر مهران بود.	۱
۲	در جاهای خالی پاسخ مناسب بنویسید: الف) برای رصد خورشید ماه و سیارات و ستارگان وسیله ای به نام..... اختراع شد. ب) گام دوم فعالیت های باستان شناسی برای بیرون و نمایان کردن آثار است. ج) تا اواخر دوره توانایی بشر در سخن گفتن و اندیشیدن تکامل یافت. د) به گمان برخی از باستان شناسان..... مخترع خط بوده اند.	۱
۳	موارد زیر را به دقت خوانده و شماره گزینه صحیح را از جدول سمت چپ انتخاب نموده و در جلوی هر مورد بنویسید؟	۱
	الف) اصلاح گاه شماری رومی ب) نخستین سند قانون گذاری جهان ج) دین مسیحیت در زمان او رونق یافت د) او موفق به خواندن خط میخی شد	۱) حمورابی ۲) راولینسون ۳) پاپ گرگوار سیزدهم ۴) اکتاویان ۵) هر تسفلد ۶) کنستانتین
سؤالات چهارگزینه ای		
۴	الف) تمدن پیامد چیست؟ ۱) روابط اقتصادی و سیاسی جوامع ۲) کنش های فردی و اجتماعی انسان ها ۳) ارتباط انسان های گذشته با یک دیگر ۴) نتیجه افکار و اعمال انسان ها ب) با ضعیف شدن سلسله موری در هند کدام سلسله بر سرکار آمد؟ ۱) چه این ۲) گوپتا ۳) آشوکا ۴) چندرا گوپتا ج) یکی از ویژگی های برجسته تمدن یونان باستان کدام مورد بود؟ ۱) شیوه تفکر علمی ۲) شیوه جدید پزشکی ۳) شیوه متفاوت حکمرانی ۴) رشد فلسفه د) دوران تاریخی فلات ایران با تاریخ کدام تمدن آغاز می شود؟ ۱) بین النهرین ۲) ایلام ۳) ماد ۴) هخامنشی	۱
ادامه سؤالات در صفحه ۲		



ردیف	نام و نام خانوادگی:	رشته و پایه: دهم انسانی	نام درس: تاریخ ۱	تاریخ: ۹۸/۱۰/ ۲۱	بارم	
۵	در مورد اصطلاحات زیر توضیح دهید: (الف) خط زمان: (ب) گاه شماری:				۱	
سوالات پاسخ کوتاه (هر مورد ۰.۵ نمره)						
۶	(الف) هدف علم باستان شناسی چیست؟				۴	
	(ب) علت ساخت دیوار چین چه بود؟					
	(ج) مهمترین دستاورد رومیان در حوزه معماری چه بود؟					
	(د) علت برگزاری مسابقات المپیک در یونان چه بود؟					
	(ه) مهمترین منابع نوشتاری در دوره هخامنشیان را نام ببرید؟					
	(ی) سلسله های دوره افسانه ای ایران کدامند؟					
۷	مراحل پژوهش را تکمیل کنید:					۰.۷۵
سوالات تشریحی						
۸	تاثیر تاریخ بر میهن دوستی و تقویت هویت ملی را توضیح دهید؟				۱	
۹	(گاه شماری اوستایی) ساسانی، سال را چگونه تقسیم کرده بود شرح دهید؟				۱	
۱۰	باستان شناسی چه کمکی به مطالعه دوره تاریخی کرده است؟				۱	
۱۱	درباره ویژگی های آیین برهمنی و وظایف برهمنان توضیح دهید؟				۱.۵	
ادامه سؤالات در صفحه ۳						

ردیف	نام و نام خانوادگی:	رشته و پایه: دهم انسانی	نام درس: تاریخ ۱	تاریخ: ۹۸/۱۰/۷	بارم
۱۲	نام دوره های زندگی بشر را بر اساس نوع ابزار در خط زمان زیر مشخص کنید؟				
۰.۷۵	۵۵۰۰	۶۵۰۰	۱۲۰۰۰	۱۸۰۰۰	۱۰۰۰۰۰
		دوره مس و سنگ	(ج) دوره.....	(ب) دوره.....	(الف) دوره.....
۱۳	دوشباهت و دوتفاوت دین سومریان و مصریان باستان را بنویسید؟				
۱					
۱۴	درباره مصریان باستان به موارد زیر پاسخ دهید: (الف) خصیصه اخلاقی مردم مصر؟ (ب) نام کاغذی که مصریان ابداع کردند؟ (ج) فرعون ها در کدام دوره مصر در اوج بودند؟ (د) از شاهکار های معماری جهان در مصر؟				
۱					
۱۵	به نظر شما چه عواملی موجب شکوفایی فلسفه و علوم در یونان باستان شد؟				
۱					
۱۶	آگاهی های جدید باستان شناسی چه کمکی به شناخت تاریخ ایران کرد؟				
۱					
۱۷	موقعیت فلات ایران به عنوان پل ارتباطی شرق و غرب جهان باستان چه پیامدهایی برای ایران داشت؟				
۱					
۱۸	چهار مورد از ویژگی های دینی و اعتقادی ایلامیان را بنویسید؟				
۱					
	با آرزوی موفقیت				

بسمه تعالی

اداره آموزش و پرورش منطقه ۸ تهران

دبیرستان دخترانه تزکیه شاهد

	پایه: دهم	رشته: انسانی	نام درس: تاریخ ۱	نام دبیر: بیانی
	تعداد صفحه: ۲ صفحه	ساعت شروع: ۸:	مدت امتحان: ۸۰ دقیقه	تاریخ امتحان: ۹۸/۱۰/۷
				مهر و امضاء آموزگاه:
ردیف				سؤالات

۱	الف) درست (ص ۴) ب) درست (ص ۱۳) ج) نادرست (ص ۴۸) د) نادرست (ص ۷۲) هر مورد ۰.۲۵
۲	الف) اسطرب (ص ۱۲) ب) حفاری ج) گردآوری خوراکی (ص ۳۲) د) سومریان (ص ۱۳) هر مورد ۰.۲۵
۳	الف) ۳ (ص ۱۳) ب) ۱ (ص ۳۷) ج) ۶ (ص ۶۰) د) ۲ (ص ۶۲) هر مورد ۰.۲۵
۴	الف) ۲ (ص ۲) ب) ۲ (ص ۴۵) ج) ۳ (ص ۵۴) د) ۲ (ص ۷۶) هر مورد ۰.۲۵
۵	الف) می توان رویدادهای یک دوره را به ترتیب بر روی نمودار نشان داد ص ۱۲ ب) نظامی است برای اندازه گیری دقیق زمان ص ۱۲
۳	الف) شناخت انسان و پژوهش در فرهنگ او ص ۲ ب) جلوگیری از هجوم اقوام صحراگرد ص ۴۷ ج) ایجاد شبکه جاده ها و راه ها ص ۵۸ د) به احترام خدایان و بزرگداشت قهرمانان خویش ص ۵۳ ه) سنگ نوشته ها و لوح های گلی ص ۶۸ ی) پیشدادیان، کیانیان ص ۶۲ هر مورد ۰.۵
۰.۷۵	۲- تدوین پرسش های تحقیق ۳- شناسایی منابع ۵- تفسیر اطلاعات ص ۶ و ۷ هر مورد ۰.۲۵
۱	مردمانی که برای نسل های متوالی سرگذشت مشترکی ۰.۲۵ داشته اند و سالیان طولانی در شادی ها و تلخ کامی ها موفقیت ها و شکست های هم شریک بوده اند به طور طبیعی نسبت به سرزمین ۰.۲۵ و گذشته خود ۰.۲۵ احساس نوعی علاقه و دلبستگی ۰.۲۵ خاص پیدا می کنند.
۱	سال به ۱۲ ماه خورشیدی ۳۰ روزه تقسیم می شد ۰.۵ پنج روز اضافی را به نام اندرگاه به آخر ماه دوازدهم می افزودند. ۰.۵ ص ۱۵
۱	منابع نوشتاری برای شناخت این دوره مخصوصا اوایل آن کافی نیستند از سوی دیگر عمده اطلاعات منابع نوشتاری مربوط به رویداد های سیاسی نظامی و شرح اقدامات فرمانروایان است . ص ۲۷
۱.۵	به خدایان متعدد باور داشتند ۰.۲۵ مناسک سخت مثل قربانی کردن بود ۰.۲۵ وظیفه: حفظ سرود های ودا و آموزه های دینی و اجرای مراسم دینی و آموزش آن انمره
۰.۷۵	الف) پارینه سنگی ب) فرا پارینه سنگی ج) نو سنگی هر مورد ۰.۲۵ ص ۳۰
۱	شباهت: هر دو خدایان متعدد، وجود کاهنان ۰.۵ ص ۳۶-۳۹-۴۰ تفاوت: خدای مصریان مهربان تر از خدای سومریان بود در سومر انسان در خدمت خدا بود ۰.۵
۱	الف) صبور و فرمانبردار ص ۴۰ ب) پاپیروس ص ۴۱ ج) قدیم ص ۳۶ د) اهرام سه گانه ص ۳۸ هر مورد ۰.۲۵
۱	یونانی ها از دستاورد ها و روش های علمی بین النهرین و مصر بهره گرفتند و فلسفه را بنیان گذاری کردند آنها در علوم دیگر مانند پزشکی و ریاضی هم به پیشرفت های قابل توجهی دست یافتند
	ادامه کلید سؤالات در صفحه ۲

ردیف	نام دبیر: بیانی رشته و پایه: دهم انسانی نام درس: تاریخ ۱ تاریخ: ۹۸/۱۰/۷	شمارک
۱۶	۱) این آگاهی ها کمک کرد تا سلسله های پادشاهی ماد تا ساسانی بهتر شناخته شوند (۲) امکان تشخیص تاریخ واقعی از افسانه تا حدودی فراهم آمد هر مورد ۰.۵ ص ۶۵	۱
۱۷	ایران تبدیل به کانون مبادلات فرهنگی جهان باستان شده بود و۰.۵ ایران مرتب در معرض مهاجرت ها و هجوم اقوام قرار داشت. ۰.۵ ص ۷۱	۱
۱۸	۱) ایلامیان به خدایان متعدد اعتقاد داشتند (۲) خدایان دارای نیروی مافوق طبیعی بودند (۳) خدای معروف آنها اینشوشیناک بود که معبد چغازنبیل پرستشگاه او بود (۴) پرستش الهه مادر نشانه احترام به مقام مادر و ستایش او بود هر مورد ۰.۲۵ ص ۷۸	۱
	موفق باشید.	۲۰