



مثلثات

۳-۴: معادلات مثلثاتی

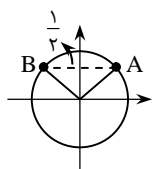
در این بخش با معادلات مثلثاتی و روش‌های حل آن‌ها آشنا می‌شویم. معادلات مثلثاتی به معادلاتی می‌گویند که در آن‌ها عبارت‌های مثلثاتی حضور داشته باشند. بسیاری از مواقع، حل یک مسأله در هندسه یا علوم دیگر، به حل یک معادله‌ی مثلثاتی می‌انجامد. معادلات مثلثاتی بخشی بسیار گسترده دارند که در این بخش ما تنها بر حل معادلات مقدماتی در محدوده‌ی مطالب کتاب درسی و کمی فراتر از آن تأکید داریم.

چهار صورت اصلی معادلات مثلثاتی

معادلات مثلثاتی می‌توانند ساختارهای متفاوتی داشته باشند. معادله‌ای چون $\sin x = \frac{1}{2}$ یک معادله‌ی بسیار ساده است و معادله‌ای مانند $\sin^2 x + \tan x = x - \cos x$ یک معادله‌ی پیچیده. معمولاً معادلاتی که ما با آن‌ها سروکار داریم پس از ساده‌کردن و انجام عملیات‌های جبری، به یکی از ۴ صورت زیر تبدیل می‌شوند:

(الف) $\sin x = \sin a$ (ب) $\cos x = \cos a$ (پ) $\tan x = \tan a$ (ت) $\cot x = \cot a$
در این بخش ابتدا این چهار حالت کلی و معادلات قابل تبدیل به آن‌ها را بررسی می‌کنیم و سپس چند معادله‌ی پیچیده‌تر را حل می‌کنیم.

معادلات به شکل $\sin x = \sin a$



فرض کنید می‌خواهیم معادله‌ی $\sin x = \frac{1}{2}$ (یا در واقع $\sin x = \sin \frac{\pi}{6}$) را حل کنیم. طبق دایره‌ی مثلثاتی اگر انتهای کمان متناظر زاویه‌ی x در یکی از دو نقطه‌ی A و B باشد، داریم $\sin x = \frac{1}{2}$. نقطه‌ی A متناظر $x_1 = \frac{\pi}{6}$ و نقطه‌ی B متناظر $x_2 = \pi - \frac{\pi}{6}$ است. پس دو جواب معادله به دست آمده است.

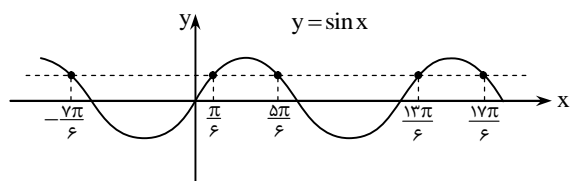
از طرفی می‌دانیم نسبت‌های مثلثاتی زوایای α و $2k\pi + \alpha$ (که $k \in \mathbb{Z}$) یکسان‌اند، پس هر $x = 2k\pi + x_1$ یا $x = 2k\pi + x_2$ نیز جواب معادله است.

نکته:

معادله‌ی $\sin x = \sin a$ دو دسته جواب دارد: ($k \in \mathbb{Z}$)

$$x_1 = 2k\pi + a, \quad x_2 = 2k\pi + \pi - a$$

در حالت‌های خاص $\sin x = \pm 1$ فقط یک دسته جواب داریم ($x = 2k\pi + \frac{\pi}{2}$ یا $x = 2k\pi - \frac{\pi}{2}$)



معادله‌ی $\sin x = \frac{1}{2}$ را با نمودار نیز می‌توانیم حل کنیم. می‌دانیم ریشه‌های این معادله همان طول نقاط برخورد نمودار $y = \sin x$ و خط $y = \frac{1}{2}$ هستند. در شکل این نقاط را مشاهده می‌کنید.

○ **مسأله‌ی (۱):** هر یک از معادلات زیر را حل کنید و بگویید در فاصله‌ی $[0, 2\pi]$ چند جواب دارند.

(الف) $\sqrt{2} \sin 2x + 1 = 0$ (ب) $\sin 2x - \sin 4x = 0$ (پ) $2 \sin^2 x - \sin x = 1$

حل: الف) داریم: $\sin 2x = -\frac{1}{\sqrt{2}}$ ، پس $\sin 2x = \sin(-\frac{\pi}{4})$ ، در نتیجه دو دسته جواب داریم:

$$2x = 2k\pi - \frac{\pi}{4} \Rightarrow x = k\pi - \frac{\pi}{8}, \quad 2x = 2k\pi + \pi + \frac{\pi}{4} \Rightarrow x = k\pi + \frac{5\pi}{8}$$

دو دسته جواب وجود دارد. در فاصله‌ی $[0, 2\pi]$ ریشه‌های $x_1 = \pi - \frac{\pi}{8}$ ، $x_2 = 2\pi - \frac{\pi}{8}$ ، $x_3 = \frac{5\pi}{8}$ و $x_4 = \pi + \frac{5\pi}{8}$ حضور دارند.



ب) داریم: $\sin 2x = \sin 4x$ ، بنابراین دو حالت پیش می‌آید:

$$2x = 2k\pi + 4x \Rightarrow -2x = 2k\pi \Rightarrow x = -k\pi$$

$$2x = 2k\pi + \pi - 4x \Rightarrow 6x = 2k\pi + \pi \Rightarrow x = \frac{2k+1}{6}\pi$$

دو دسته جواب به دست می‌آید. در فاصله‌ی $[0, 2\pi]$ ریشه‌های $x_1 = 0$ ، $x_2 = \pi$ ، $x_3 = 2\pi$ ، $x_4 = \frac{\pi}{6}$ ، $x_5 = \frac{5\pi}{6}$ ، $x_6 = \frac{7\pi}{6}$ ، $x_7 = \frac{11\pi}{6}$ حضور دارند.

تذکره: دسته جواب اول را می‌توانیم به صورت $x = k\pi$ نیز نشان دهیم (زیرا $k \in \mathbb{Z}$).

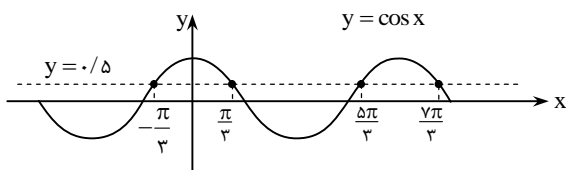
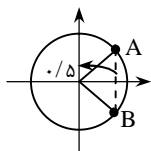
پ) معادله را می‌توانیم به صورت $(\sin x - 1)(\sin x + 1) = 0$ بنویسیم. پس دو معادله حاصل می‌شود:

$$2\sin x + 1 = 0 \Rightarrow \sin x = -\frac{1}{2} \Rightarrow \sin x = \sin\left(-\frac{\pi}{6}\right) \Rightarrow x = 2k\pi - \frac{\pi}{6} \text{ یا } x = 2k\pi + \pi + \frac{\pi}{6}$$

$$\sin x - 1 = 0 \Rightarrow \sin x = 1 \Rightarrow \sin x = \sin\left(\frac{\pi}{2}\right) \Rightarrow x = 2k\pi + \frac{\pi}{2}$$

پس سه دسته جواب داریم. در فاصله‌ی $[0, 2\pi]$ جواب‌های $x_1 = 2\pi - \frac{\pi}{6}$ ، $x_2 = \pi + \frac{\pi}{6}$ و $x_3 = \frac{\pi}{2}$ حضور دارند.

معادلات به شکل $\cos x = \cos a$



فرض کنید می‌خواهیم معادله‌ی $\cos x = \frac{1}{5}$ (یا در واقع

$\cos x = \cos \frac{\pi}{3}$) را حل کنیم. طبق دایره‌ی مثلثاتی اگر انتهای کمان

متناظر x در یکی از دو نقطه‌ی A و B باشد، داریم: $\cos x = \frac{1}{5}$.

نقطه‌ی A متناظر $\frac{\pi}{3}$ و نقطه‌ی B متناظر $-\frac{\pi}{3}$ است، پس دو دسته

جواب $x = 2k\pi + \frac{\pi}{3}$ و $x = 2k\pi - \frac{\pi}{3}$ برای معادله به دست می‌آیند.

از نمودار $y = \cos x$ نیز این نتیجه واضح است که با خط $y = \frac{1}{5}$ در

نقاطی برخورد می‌کند که طول آن‌ها همان ریشه‌های معادله است.

نکته:

معادله‌ی $\cos x = \cos a$ دو دسته جواب دارد:

$$x = 2k\pi + a \quad , \quad x = 2k\pi - a$$

در حالت‌های خاص $\cos x = \pm 1$ فقط یک دسته جواب داریم ($x = 2k\pi$ یا $x = (2k+1)\pi$).

مسئله‌ی (۲): هر یک از معادلات زیر را حل کنید.

الف) $\cos 2x = \cos 3x$

ب) $\cos 2x = \sin 3x$

حل: الف) طبق نکته‌ی قبل دو حالت پیش می‌آید:

$$2x = 2k\pi + 3x \Rightarrow -x = 2k\pi \Rightarrow x = -2k\pi$$

$$2x = 2k\pi - 3x \Rightarrow 5x = 2k\pi \Rightarrow x = \frac{2k\pi}{5}$$

تمام جواب‌های دسته جواب اول، در دسته جواب دوم حضور دارند. مثلاً $x = -4\pi$ یکی از جواب‌های دسته جواب اول است، که به ازای $k = -10$

از دسته جواب دوم تولید می‌شود. به این ترتیب جواب کلی معادله $x = \frac{2k\pi}{5}$ است.

ب) می دانیم $\sin \alpha = \cos(\frac{\pi}{2} - \alpha)$ ، پس می توانیم معادله را به صورت $\cos 2x = \cos(\frac{\pi}{2} - 3x)$ بنویسیم. بنابراین:

$$2x = 2k\pi + \frac{\pi}{2} - 3x \Rightarrow 5x = 2k\pi + \frac{\pi}{2} \Rightarrow x = 2k \frac{\pi}{5} + \frac{\pi}{10}$$

$$2x = 2k\pi - \frac{\pi}{2} + 3x \Rightarrow x = -2k\pi + \frac{\pi}{2}$$

◀ **تذکره (۱):** می توانستید معادله را به صورت $\sin(\frac{\pi}{2} - 2x) = \sin 3x$ بنویسید و با استفاده از روش حل $\sin x = \sin a$ معادله را حل کنید.

◀ **تذکره (۲):** جواب های به صورت $x = -2k\pi + \frac{\pi}{2}$ همگی در دسته جواب اول حضور دارند. زیرا این جواب ها به صورت $x = (4k+1)\frac{\pi}{2}$ قابل

بازنویسی اند، دسته جواب اول نیز به صورت $x = (4k+1)\frac{\pi}{2}$ قابل بازنویسی است. حال اگر $x = (4m+1)\frac{\pi}{2}$ یکی از جواب های دسته جواب

دوم باشد، با جای گذاری $k = 5m+1$ داریم: $(4k+1)\frac{\pi}{2} = (4m+1)\frac{\pi}{2}$ ، پس این جواب در دسته اول حضور دارد. پس می توانیم دسته جواب اول را به تنهایی به عنوان همه ی جواب های معادله معرفی کنیم.

◀ **تذکره (۳):** هنگام حل یک معادله لازم نیست حتماً مانند تذکره قبل، دسته جواب ها را با هم مقایسه کنید. انجام ندادن این کار لطمه ای به درستی راه حل شما وارد نمی کند، هر چند که از زیبایی و دقت آن می کاهد.

○ **مسئله (۳): معادله ی** $2\cos^2 x - \sin x - 1 = 0$ را از دو راه حل کنید و نشان بدهید جواب های دو روش یکسان اند.

حل: راه اول: با جای گذاری $\cos^2 x = 1 - \sin^2 x$ در معادله به دست می آوریم:

$$2(1 - \sin^2 x) - \sin x - 1 = 0 \Rightarrow 2\sin^2 x + \sin x - 1 = 0 \Rightarrow (2\sin x - 1)(\sin x + 1) = 0$$

$$\Rightarrow \sin x = \frac{1}{2} \text{ یا } \sin x = -1$$

به این ترتیب دو معادله ی زیر به دست می آید:

$$۱) \sin x = \frac{1}{2} = \sin\left(\frac{\pi}{6}\right) \Rightarrow x = 2k\pi + \frac{\pi}{6} \text{ یا } x = (2k+1)\pi - \frac{\pi}{6}$$

$$۲) \sin x = -1 \Rightarrow x = 2k\pi - \frac{\pi}{2}$$

راه دوم: با استفاده از اتحاد $\cos 2x = 2\cos^2 x - 1$ معادله به صورت زیر درمی آید:

$$\cos 2x - \sin x = 0 \Rightarrow \cos 2x = \sin x \Rightarrow \cos 2x = \cos\left(\frac{\pi}{2} - x\right) \Rightarrow 2x = 2k\pi \pm \left(\frac{\pi}{2} - x\right)$$

دو معادله ی زیر از رابطه ی فوق به دست می آید:

$$۱) 2x = 2k\pi + \left(\frac{\pi}{2} - x\right) \Rightarrow x = \frac{2k\pi}{3} + \frac{\pi}{6}$$

$$۲) 2x = 2k\pi - \left(\frac{\pi}{2} - x\right) \Rightarrow x = 2k\pi - \frac{\pi}{2}$$

حالا باید ثابت کنیم که جواب های راه اول و دوم یکسان هستند. برای این منظور باید نشان بدهیم دسته جواب های اول هر دو راه حل یکسان اند.

برای این منظور در دسته جواب $x = \frac{2k\pi}{3} + \frac{\pi}{6}$ سه وضعیت را برای k در نظر می گیریم: $k = 3m$ ، $k = 3m+1$ یا $k = 3m+2$. در هر حالت داریم:

$$x = \frac{2k\pi}{3} + \frac{\pi}{6} = \begin{cases} 2m\pi + \frac{\pi}{6} & k = 3m \\ 2m\pi + \frac{5\pi}{6} & k = 3m+1 \\ 2(m+1)\pi - \frac{\pi}{6} & k = 3m+2 \end{cases}$$

با توجه به صحیح بودن m می بینید که دو حالت اول همان جواب های بخش (۱) از روش اول را بیان می کنند و حالت سوم همان جواب های بخش (۲) از راه اول است.



تست (۱): جواب‌های کلی معادله‌ی مثلثاتی $\cos 2x = \sin x$ به صورت $x = 2k\pi + \frac{i\pi}{6}$ بیان شده است. مجموعه‌ی مقادیر i کدام است؟

(سراسری-۸۳)

(۱) $\{۷, ۹\}$ (۲) $\{۱, ۳, ۵\}$ (۳) $\{۱, ۴, ۷\}$ (۴) $\{۱, ۵, ۹\}$

حل: این تست را در مسأله‌ی قبل حل کرده‌ایم. مثلاً با راه حل اول سه دسته جواب زیر را نتیجه می‌گیریم:

$$x = 2k\pi + \frac{\pi}{6}, \quad x = (2k+1)\pi - \frac{\pi}{6}, \quad x = 2k\pi - \frac{\pi}{6}$$

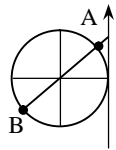
دسته جواب $x = 2k\pi - \frac{\pi}{6}$ را به صورت $x = 2k\pi + \frac{3\pi}{6}$ نیز می‌توانیم نشان دهیم (چون انتهای کمان‌های $-\frac{\pi}{6}$ و $\frac{3\pi}{6}$ یکسان‌اند)، پس سه دسته جواب عبارت‌اند از:

$$x = 2k\pi + \frac{\pi}{6}, \quad x = 2k\pi + \frac{5\pi}{6}, \quad x = 2k\pi + \frac{9\pi}{6}$$

این سه دسته جواب به صورت $x = 2k\pi + \frac{i\pi}{6}$ قابل بیان‌اند که $i \in \{۱, ۵, ۹\}$. بنابراین گزینه‌ی (۴) درست است.

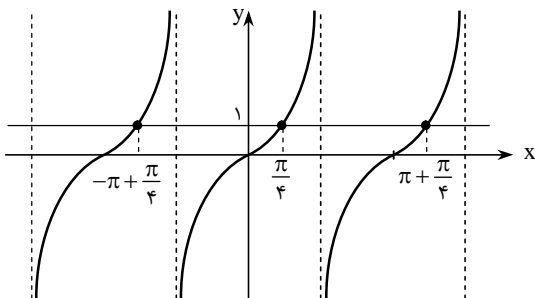
معادلات به شکل $\cot x = \cot a$ و $\tan x = \tan a$

فرض کنید می‌خواهیم معادله‌ی $\tan x = ۱$ را حل کنیم (در واقع معادله‌ی $\tan x = \tan \frac{\pi}{4}$ را). طبق دایره‌ی مثلثاتی اگر



انتهای کمان متناظر x در یکی از دو نقطه‌ی A و B باشد، داریم: $\tan x = ۱$. نقطه‌ی A متناظر $\frac{\pi}{4}$ و نقطه‌ی B

متناظر $\pi + \frac{\pi}{4}$ است، پس دو دسته جواب $x = 2k\pi + \frac{\pi}{4}$ و $x = 2k\pi + \pi + \frac{\pi}{4} = (2k+1)\pi + \frac{\pi}{4}$ برای معادله به دست می‌آید.



این دو دسته جواب را به صورت $x = k\pi + \frac{\pi}{4}$ می‌توانیم ترکیب کنیم. چون k یا

فرد است یا زوج، که در هر حالت $k\pi + \frac{\pi}{4}$ در یکی از دو دسته‌ی بالا قرار می‌گیرد.

از نمودار $y = \tan x$ نیز که با دوره‌ی تناوب π متناوب است، این امر واضح است. می‌بینید که خط $y = ۱$ نمودار را در نقطه‌ای به طول $x = \frac{\pi}{4}$ (و در

حالت کلی $x = k\pi + \frac{\pi}{4}$) قطع کرده است. مشابه حرف‌های بالا را درباره‌ی

معادله‌ای چون $\cot x = ۱$ نیز می‌توانیم بگوییم.

نکته: معادله‌ی $\tan x = \tan a$ (یا $\cot x = \cot a$) دسته جواب $x = k\pi + a$ را دارد.

○ مسأله‌ی (۱۴): هر یک از معادلات زیر را حل کنید.

(ب) $\cot x - 3 \tan x = 0$

(الف) $\sin 2x = -\cos 2x$

حل: الف) می‌توانیم معادله را به صورت $\sin 2x = -\sin(\frac{\pi}{2} - 2x)$ بنویسیم و حل کنیم. ولی راه دیگر استفاده از نسبت تانژانت است. می‌دانیم

$\cos 2x \neq 0$ ، زیرا اگر $\cos 2x = 0$ داریم $\sin 2x = \pm 1$ ، پس تساوی برقرار نیست. با فرض $\cos 2x \neq 0$ دو طرف را بر $\cos 2x$ تقسیم می‌کنیم و به دست می‌آوریم:

$$\frac{\sin 2x}{\cos 2x} = -1 \Rightarrow \tan 2x = -1 \Rightarrow \tan 2x = \tan(-\frac{\pi}{4}) \Rightarrow 2x = k\pi - \frac{\pi}{4} \Rightarrow x = k\frac{\pi}{2} - \frac{\pi}{8}$$

(ب) با جای‌گذاری $\cot x = \frac{1}{\tan x}$ به دست می‌آوریم:

$$\frac{1}{\tan x} - 3 \tan x = 0 \Rightarrow 1 - 3 \tan^2 x = 0 \Rightarrow \tan^2 x = \frac{1}{3} \Rightarrow \tan x = \pm \frac{1}{\sqrt{3}}$$

دو حالت پیش می‌آید:

$$\tan x = \frac{1}{\sqrt{3}} = \tan\left(\frac{\pi}{6}\right) \Rightarrow x = k\pi + \frac{\pi}{6}$$

$$\tan x = -\frac{1}{\sqrt{3}} = \tan\left(\frac{5\pi}{6}\right) \Rightarrow x = k\pi + \frac{5\pi}{6}$$

معمولاً در معادلات دیگر باید با استفاده از اتحادهای مثلثاتی، معادله را به یکی از چهار صورت قبلی تبدیل و سپس آن را حل کنید.

مسئله (۵): هر یک از معادلات زیر را حل کنید.

$$\text{ب) } 2 \sin\left(x + \frac{\pi}{\lambda}\right) - \cos^2\left(x - \frac{3\pi}{\lambda}\right) = 1$$

$$\text{الف) } \sin 2x + 2 \sin x = 0$$

$$\text{ت) } \frac{2}{\sqrt{3}} (\tan x - \cot x) = \tan^2 x + \cot^2 x - 2$$

$$\text{پ) } 2 \sin\left(\frac{3\pi}{\lambda} - x\right) = \sin(3x - \frac{\pi}{\lambda})$$

$$\text{ج) } \cos x - 2 \sin x = \frac{1}{\cos x}$$

$$\text{ث) } \tan\left(\frac{\pi}{12} - x\right) \tan\left(x - \frac{\pi}{6}\right) = -1$$

حل: الف) با توجه به $\sin 2x = 2 \sin x \cos x$ داریم:

$$2 \sin x \cos x + 2 \sin x = 0 \Rightarrow 2 \sin x (\cos x + 1) = 0 \Rightarrow \sin x = 0 \text{ یا } \cos x = -1$$

می‌دانیم وقتی $\cos x = -1$ ، قطعاً $\sin x = 0$. پس اگر جواب‌های $\sin x = 0$ را بیابیم، جواب‌های معادله‌ی دوم را نیز یافته‌ایم. در نتیجه تمام

جواب‌های معادله عبارت‌اند از: $\sin x = 0 \Rightarrow x = k\pi$

ب) با توجه به روابط $\sin \alpha = \cos\left(\frac{\pi}{2} - \alpha\right)$ و $\cos(-\alpha) = \cos \alpha$ داریم:

$$\sin\left(x + \frac{\pi}{\lambda}\right) = \cos\left(\frac{\pi}{2} - \left(x + \frac{\pi}{\lambda}\right)\right) = \cos\left(\frac{3\pi}{2} - x\right) = \cos\left(x - \frac{3\pi}{2}\right)$$

با جای‌گذاری این نتیجه در معادله‌ی اولیه به دست می‌آوریم:

$$2 \cos\left(x - \frac{3\pi}{\lambda}\right) - \cos^2\left(x - \frac{3\pi}{\lambda}\right) = 1 \xrightarrow{t = \cos\left(x - \frac{3\pi}{\lambda}\right)} 2t^2 - 2t + 1 = 0 \Rightarrow t = 1$$

$$\Rightarrow \cos\left(x - \frac{3\pi}{\lambda}\right) = 1 \Rightarrow x - \frac{3\pi}{\lambda} = 2k\pi \Rightarrow x = 2k\pi + \frac{3\pi}{\lambda}$$

پ) می‌توانیم $\sin\left(3x - \frac{\pi}{\lambda}\right)$ را بر حسب $\sin\left(\frac{3\pi}{\lambda} - x\right)$ بیان کنیم. داریم:

$$\sin\left(3\left(\frac{3\pi}{\lambda} - x\right)\right) = \sin\left(\frac{9\pi}{\lambda} - 3x\right) = \sin\left(\pi + \frac{\pi}{\lambda} - 3x\right) = -\sin\left(\frac{\pi}{\lambda} - 3x\right) = \sin\left(3x - \frac{\pi}{\lambda}\right) \Rightarrow \sin\left(3x - \frac{\pi}{\lambda}\right) = \sin\left(3\left(\frac{3\pi}{\lambda} - x\right)\right)$$

حال اگر قرار دهیم $t = \frac{3\pi}{\lambda} - x$ ، معادله را به صورت زیر می‌توانیم بیان کنیم:

$$2 \sin t = \sin 3t \Rightarrow 2 \sin t = 3 \sin t - 4 \sin^3 t \Rightarrow \sin t (4 \sin^2 t - 1) = 0$$

پس $\sin t = 0$ یا $\sin t = \pm \frac{1}{2}$ که هر کدام از معادله‌های حاصل را به راحتی می‌توان حل کرد. (پاسخ نهایی را به خودتان واگذار می‌کنیم).

ت) با توجه به تساوی $(\tan x - \cot x)^2 = \tan^2 x + \cot^2 x - 2$ ، اگر در معادله قرار دهیم $y = \tan x - \cot x$ ، به دست می‌آوریم:

$$\frac{2}{\sqrt{3}} y = y^2 \Rightarrow y = 0 \text{ یا } y = \frac{2}{\sqrt{3}}$$

$$y = \tan x - \cot x = \tan x - \frac{1}{\tan x} = \frac{\tan^2 x - 1}{\tan x} = \frac{-2}{\tan 2x} = -2 \cot 2x \Rightarrow \begin{cases} \cot 2x = 0 \Rightarrow 2x = k\pi + \frac{\pi}{2} \\ \cot 2x = \frac{-1}{\sqrt{3}} \Rightarrow 2x = k\pi + \frac{2\pi}{3} \end{cases}$$

پس $x = \frac{k\pi}{2} + \frac{\pi}{4}$ یا $x = \frac{k\pi}{2} + \frac{\pi}{3}$.

ث) راه اول: معادله را به صورت $\tan\left(\frac{\pi}{12} - x\right) = -\cot\left(x - \frac{\pi}{6}\right)$ می‌نویسیم. حال با استفاده از اتحادها داریم:

$$-\cot\left(x - \frac{\pi}{6}\right) = \cot\left(\frac{\pi}{6} - x\right) = \tan\left(\frac{\pi}{2} - \left(\frac{\pi}{6} - x\right)\right) = \tan\left(\frac{\pi}{3} + x\right)$$

مسئله (۶): هر یک از معادلات زیر را حل کنید.

$$\sin x + \sin 2x + \sin 3x = \cos x + \cos 2x + \cos 3x \quad (\text{الف})$$

$$(\cos 3x + \cos 4x)(\cos 3x + \cos x) = \frac{1}{4} \quad (\text{ب}) \quad * \quad \frac{1}{\sin x} = \frac{1}{\sin 2x} + \frac{1}{\sin 3x}$$

حل: الف) با استفاده از روابط تبدیل جمع به ضرب، دو طرف معادله را به ضرب تبدیل می‌کنیم:

$$\begin{aligned} \sin x + \sin 3x + \sin 2x &= \cos x + \cos 3x + \cos 2x \Rightarrow 2 \sin 2x \cos x + \sin 2x = 2 \cos 2x \cos x + \cos 2x \\ \Rightarrow \sin 2x(2 \cos x + 1) &= \cos 2x(2 \cos x + 1) \Rightarrow (2 \cos x + 1)(\sin 2x - \cos 2x) = 0 \end{aligned}$$

به دو معادله می‌رسیم: $\cos x = -\frac{1}{2}$ و $\sin 2x = \cos 2x$. نمونه‌ی هر یک از این معادلات را قبلاً حل کرده‌ایم.

ب) دو طرف معادله را در $2 \sin x \sin 2x \sin 3x$ ضرب کنید و سپس از روابط تبدیل به جمع استفاده کنید:

$$\begin{aligned} 2 \sin 2x \sin 3x &= 2 \sin x \sin 3x + 2 \sin x \sin 2x \Rightarrow \cos x - \cos 5x = \cos 2x - \cos 4x + \cos x - \cos 3x \\ \Rightarrow \cos 5x - \cos 3x + \cos 2x - \cos 4x &= 0 \Rightarrow -2 \sin x \sin 4x - 2 \sin(-x) \sin 3x = 0 \end{aligned}$$

$$\Rightarrow \sin x(\sin 3x - \sin 4x) = 0 \Rightarrow \sin x = 0 \quad \text{یا} \quad \sin 3x = \sin 4x$$

$\sin x = 0$ در دامنه‌ی معادله نیست. پس فقط ریشه‌های معادله‌ی دوم را پیدا می‌کنیم:

$$\sin 3x = \sin 4x \Rightarrow \begin{cases} 4x = 2k\pi + 3x \Rightarrow x = 2k\pi \\ 4x = 2k\pi + \pi - 3x \Rightarrow x = \frac{(2k+1)\pi}{7} \end{cases}$$

دسته جواب اول غیر قابل قبول است، زیرا به ازای آن‌ها داریم: $\sin x = 0$. اما دسته جواب دوم قابل قبول است، مگر حالت‌های خاصی که به ازای آن‌ها $2k+1$ مضرب ۷ است، زیرا در این حالات نیز داریم: $\sin x = 0$.

پ) ابتدا عبارت سمت چپ را با استفاده از اتحادهای مثلثاتی ساده‌تر می‌کنیم:

$$\begin{aligned} (\cos 3x + \cos 4x)(\cos 3x + \cos x) &= (\cos 3x + \cos 4x)2 \cos x \cos 2x = \cos 2x(2 \cos x \cos 3x + 2 \cos x \cos 4x) \\ &= \cos 2x(\cos 2x + \cos 4x + \cos 3x + \cos 5x) = \cos 2x \cos 2x + \cos 2x \cos 4x + \cos 2x \cos 3x + \cos 2x \cos 5x \\ &= \frac{1}{2}(\cos 4x + 1) + \frac{1}{2}(\cos 6x + \cos 2x) + \frac{1}{2}(\cos 5x + \cos x) + \frac{1}{2}(\cos 7x + \cos 3x) \end{aligned}$$

با توجه به معادله مقدار عبارت بالا برابر $\frac{1}{4}$ است، پس داریم:

$$1 + \cos x + \cos 2x + \dots + \cos 7x = \frac{1}{4} \Rightarrow 2 \sin \frac{x}{2} (\cos x + \cos 2x + \dots + \cos 7x) = -\sin \frac{x}{2}$$

مانند آن‌چه در بخش (۳-۳) درباره‌ی محاسبه‌ی مجموع‌های مثلثاتی آموختیم، نتیجه می‌گیریم:

$$\sin \frac{15}{2} x - \sin \frac{x}{2} = -\sin \frac{x}{2} \Rightarrow \sin \frac{15}{2} x = 0 \Rightarrow x = \frac{2k\pi}{15}$$

تنها دقت کنید که در جواب‌های نهایی نباید k مضرب ۱۵ باشد (چرا؟ در واقع باید همه‌ی حالاتی را که به ازای آن‌ها $\sin \frac{x}{2} = 0$ از جواب‌ها حذف کنید).

معادلات کلاسیک

دسته‌ای خاص از معادلات مثلثاتی را معادلات کلاسیک می‌گویند. فرم کلی این معادلات در مسائل زیاد ظاهر می‌شود و راه‌حل آن‌ها یکسان است. با توجه به این که کتاب درسی سه حالت این معادلات را بررسی کرده (هر چند که نامی از کلاسیک نیاورده)، در این جا ما معادلات کلاسیک نوع اول تا سوم را (و علاوه بر آن نوع چهارم را که با معلومات ما قابل حل است) بررسی می‌کنیم.

مسئله (۷): معادله‌های زیر را حل کنید.

$$3 \cos x + 2 \sin x = 2 \quad (\text{ب}) \quad \sqrt{3} \sin x + \cos x = \sqrt{2} \quad (\text{الف})$$

حل: الف) در بخش (۱-۳) دیدید که هر عبارت به شکل $a \sin x + b \cos x$ را می‌توانیم به صورت $\sqrt{a^2 + b^2} \sin \alpha$ بازنویسی کنیم. داریم:

$$\sqrt{3} \sin x + \cos x = \sqrt{2} \Rightarrow \frac{\sqrt{3}}{2} \sin x + \frac{1}{2} \cos x = \frac{\sqrt{2}}{2} \Rightarrow \sin(x + \frac{\pi}{6}) = \sin \frac{\pi}{4}$$

$$\Rightarrow x + \frac{\pi}{6} = 2k\pi + \frac{\pi}{4} \quad \text{یا} \quad x + \frac{\pi}{6} = 2k\pi + \frac{3\pi}{4} \Rightarrow x = 2k\pi + \frac{\pi}{12} \quad \text{یا} \quad 2k\pi + \frac{7\pi}{12}$$



ب) در بخش (۱-۳) دو اتحاد $\sin x = \frac{2 \tan \frac{x}{2}}{1 + \tan^2 \frac{x}{2}}$ و $\cos x = \frac{1 - \tan^2 \frac{x}{2}}{1 + \tan^2 \frac{x}{2}}$ را ثابت کرده‌ایم. با جای گذاری این روابط داریم: $(t = \tan \frac{x}{2})$

$$3 \times \frac{1-t^2}{1+t^2} + 2 \times \frac{2t}{1+t^2} = 2 \Rightarrow \Delta t^2 - 4t - 1 = 0 \Rightarrow (t-1)(\Delta t + 1) = 0$$

پس باید دو معادله‌ی $\tan \frac{x}{2} = -\frac{1}{\Delta}$ و $\tan \frac{x}{2} = 1$ را حل کنیم که حل آن‌ها را به خودتان واگذار می‌کنیم.

نتیجه: معادلاتی به شکل $a_1 \sin x + a_2 \cos x = a_3$ را معمولاً معادلات کلاسیک نوع اول می‌گویند.

این گونه معادلات را به دو روش می‌توانیم حل کنیم:

۱- نوشتن $a \sin x + b \cos x$ به شکل $\sqrt{a^2 + b^2} \sin \alpha$

۲- جای گذاری $\sin x = \frac{2 \tan \frac{x}{2}}{1 + \tan^2 \frac{x}{2}}$ و $\cos x = \frac{1 - \tan^2 \frac{x}{2}}{1 + \tan^2 \frac{x}{2}}$

○ **مسئله‌ی (۸):** معادله‌ی $\sin(2x + \frac{\pi}{6}) - \sqrt{3} \sin(\frac{\pi}{3} - 2x) = 1$ را حل کنید.

حل: با استفاده از روابط مقدماتی داریم:

$$\sin(\frac{\pi}{3} - 2x) = \cos(\frac{\pi}{2} - (\frac{\pi}{3} - 2x)) = \cos(\frac{\pi}{6} + 2x)$$

با جای گذاری نتیجه‌ی بالا در معادله به دست می‌آوریم:

$$\sin(2x + \frac{\pi}{6}) - \sqrt{3} \cos(2x + \frac{\pi}{6}) = 1$$

این معادله نیز شبیه یک معادله‌ی کلاسیک نوع اول است. در واقع داریم:

$$\frac{1}{2} \sin(2x + \frac{\pi}{6}) - \frac{\sqrt{3}}{2} \cos(2x + \frac{\pi}{6}) = \frac{1}{2} \Rightarrow \sin(2x + \frac{\pi}{6} - \frac{\pi}{3}) = \sin \frac{\pi}{6} \Rightarrow \sin(2x - \frac{\pi}{6}) = \sin \frac{\pi}{6}$$

$$\Rightarrow 2x - \frac{\pi}{6} = 2k\pi + \frac{\pi}{6} \quad \text{یا} \quad 2x - \frac{\pi}{6} = 2k\pi + \frac{5\pi}{6} \Rightarrow x = k\pi + \frac{\pi}{6} \quad \text{یا} \quad x = k\pi + \frac{\pi}{2}$$

تست (۱۴): معادله‌ی $\sin 2x + \cos 2x = \sqrt{2}$ در فاصله‌ی $(0, 4\pi)$ چند ریشه دارد؟ (آزاد-۸۱)

۱) صفر ۲) ۲ ۳) ۳ ۴) ۴

حل: از روش ارائه شده برای معادلات کلاسیک نوع اول استفاده می‌کنیم:

$$\sin 2x + \cos 2x = \sqrt{2} \Rightarrow \sqrt{2} \left(\frac{1}{\sqrt{2}} \sin 2x + \frac{1}{\sqrt{2}} \cos 2x \right) = \sqrt{2} \Rightarrow \sqrt{2} \cos(2x - \frac{\pi}{4}) = \sqrt{2}$$

$$\Rightarrow \cos(2x - \frac{\pi}{4}) = 1 \Rightarrow 2x - \frac{\pi}{4} = 2k\pi \Rightarrow x = k\pi + \frac{\pi}{8}$$

در فاصله‌ی $(0, 4\pi)$ چهار جواب متمایز برای معادله به دست می‌آید:

$$x_1 = \frac{\pi}{8}, \quad x_2 = \pi + \frac{\pi}{8}, \quad x_3 = 2\pi + \frac{\pi}{8}, \quad x_4 = 3\pi + \frac{\pi}{8}$$

بنابراین گزینه‌ی (۴) درست است.

○ **مسئله‌ی (۹):** معادله‌ی $\tan x - \sqrt{3} \cot x = 1 - \sqrt{3}$ را حل کنید.

حل: با ضرب دو طرف معادله در $\tan x$ داریم:

$$\tan^2 x - \sqrt{3} = (1 - \sqrt{3}) \tan x \xrightarrow{\tan x = t} t^2 + (\sqrt{3} - 1)t - \sqrt{3} = 0 \Rightarrow t_1 = 1, \quad t_2 = -\sqrt{3}$$

۱) $\tan x = 1 \Rightarrow x = k\pi + \frac{\pi}{4}$

۲) $\tan x = -\sqrt{3} \Rightarrow x = k\pi + \frac{2\pi}{3}$

نتیجه:

معادلات به شکل: $a_1 \tan x + a_2 \cot x = a_3$ ، را اصطلاحاً معادلات کلاسیک نوع دوم می‌گویند. این معادلات به راحتی با تغییر متغیر $\tan x = t$ قابل حل هستند.

○ **مسئله (۱۰):** معادله $(1 + \sqrt{2}) \sin^2 x + (\sqrt{2} - 1) \cos^2 x + \sin 2x = \sqrt{2}$ را حل کنید.

حل: راه اول: با توجه به آن که $\sin^2 x = \frac{1 - \cos 2x}{2}$ و $\cos^2 x = \frac{1 + \cos 2x}{2}$ نتیجه می‌گیریم:

$$(1 + \sqrt{2}) \frac{1 - \cos 2x}{2} + (\sqrt{2} - 1) \frac{1 + \cos 2x}{2} + \sin 2x = \sqrt{2} \Rightarrow \sin 2x - \cos 2x = 0 \Rightarrow \tan 2x = 1$$

$$\Rightarrow 2x = k\pi + \frac{\pi}{4}$$

$$\Rightarrow x = k \frac{\pi}{2} + \frac{\pi}{8}$$

راه دوم: می‌دانیم $\cos x \neq 0$ ، بنابراین می‌توانیم دو طرف را بر $\cos^2 x$ تقسیم کنیم:

$$(1 + \sqrt{2}) \tan^2 x + \sqrt{2} - 1 + \frac{2 \sin x \cos x}{\cos^2 x} = \frac{\sqrt{2}}{\cos^2 x} \Rightarrow (1 + \sqrt{2}) \tan^2 x + \sqrt{2} - 1 + 2 \tan x = \sqrt{2}(1 + \tan^2 x)$$

به این ترتیب به یک معادله درجه‌ی ۲ بر حسب $\tan x$ رسیده‌ایم که می‌توانیم آن را حل کنیم.

نتیجه:

معادلات به شکل $a_1 \sin^2 x + a_2 \cos^2 x + a_3 \sin x \cos x = a_4$ را اصطلاحاً معادلات کلاسیک نوع سوم می‌گویند. این معادلات را به یکی از این دو روش می‌توانیم حل کنیم:

$$۱- \text{جای گذاری های } \sin^2 x = \frac{1 - \cos 2x}{2}, \cos^2 x = \frac{1 + \cos 2x}{2} \text{ و } \sin x \cos x = \frac{\sin 2x}{2}$$

۲- با شرط $\cos x \neq 0$ ، دو طرف معادله را بر $\cos^2 x$ تقسیم کنیم تا به یک معادله درجه‌ی ۲ بر حسب $\tan x$ برسیم.

○ **مسئله (۱۱):** معادله $\sin x - \cos x + 2 \sin x \cos x = -(1 + \sqrt{2})$ را حل کنید.

حل: راه اول: می‌دانیم $\sin x - \cos x = -\sqrt{2} \cos(x + \frac{\pi}{4})$ و علاوه بر آن:

$$2 \sin x \cos x = \sin 2x = -\cos(\frac{\pi}{2} + 2x) = -(2 \cos^2(x + \frac{\pi}{4}) - 1)$$

با جای گذاری این دو نتیجه در معادله اصلی، به معادله درجه‌ی دومی بر حسب $\cos(x + \frac{\pi}{4})$ می‌رسیم. ادامه‌ی راه حل را به خودتان واگذار

می‌کنیم. (پاسخ نهایی $x = 2k\pi - \frac{\pi}{4}$ می‌شود).

راه دوم: اگر قرار دهیم $t = \sin x - \cos x$ داریم: $t^2 = 1 - \sin 2x$ ، پس $\sin x \cos x = \frac{1 - t^2}{2}$. با جای گذاری این نتیجه به معادله

درجه‌ی دومی بر حسب t می‌رسیم. با پیدا کردن مقادیر ممکن برای t ، به یک معادله کلاسیک نوع اول خواهیم رسید که حل آن را به خودتان واگذار می‌کنیم.

نتیجه:

معادلات به شکل $a_1(\sin x \pm \cos x) + a_2 \sin x \cos x = a_3$ را اصطلاحاً معادلات کلاسیک نوع چهارم می‌گویند. این معادلات را به یکی از دو روش بیان شده در مسئله قبل می‌توان حل کرد.

حل معادلات با استفاده از نامساوی‌ها

بعضی از معادلات را تنها با در نظر گرفتن محدوده‌های عبارات می‌توانیم حل کنیم. در این گونه معادلات معمولاً یک طرف تساوی همواره از مقداری بزرگ‌تر و طرف دیگر کوچک‌تر است، به همین دلیل تنها در حالت مساوی بودن با آن مقدار، دو طرف برابر می‌شوند.



مسئله (۱۲): هر یک از معادلات زیر را حل کنید.

$$\sin \delta x + \sin x = 2 + \cos^2 x \quad (\text{ب})$$

$$\cos 2x + \cos 4x = 2 \quad (\text{الف})$$

$$\cos 2x(1 - \frac{3}{4}\sin^2 2x) = 1 \quad (\text{پ})$$

حل: الف) می‌دانیم همواره $-1 \leq \cos 2x, \cos 4x \leq 1$. پس همواره $-2 \leq \cos 2x + \cos 4x \leq 2$. در معادله‌ی صورت سؤال چون $\cos 2x + \cos 4x$ در بیش‌ترین مقدار خود یعنی ۲ قرار دارد پس باید هر دو مقدار $\cos 2x$ و $\cos 4x$ در بیش‌ترین مقدار خود یعنی ۱ باشند. بنابراین جواب‌های معادله اشتراک جواب‌های دو معادله‌ی $\cos 2x = 1$ و $\cos 4x = 1$ هستند. از طرفی داریم:

$$\cos 2x = 1 \Rightarrow 2\cos^2 2x - 1 = 1 \Rightarrow \cos 4x = 1$$

یعنی جواب‌های معادله‌ی $\cos 2x = 1$ ، بخشی از جواب‌های معادله‌ی $\cos 4x = 1$ هستند و اشتراک جواب‌ها، همان جواب‌های $\cos 2x = 1$ است. پس تنها این معادله را حل می‌کنیم:

$$\cos 2x = 1 \Rightarrow 2x = 2k\pi \Rightarrow x = k\pi$$

ب) مانند قسمت قبل استدلال کنید. همواره داریم: $-2 \leq \sin \delta x + \sin x \leq 2$ و علاوه بر آن: $2 \leq 2 + \cos^2 x \leq 3$ (چرا؟). همان‌طور که می‌بینید دو عبارت تنها در یک حالت می‌توانند برابر باشند که هر دو برابر ۲ باشند. نتیجه می‌گیریم باید هر سه تساوی زیر هم‌زمان برقرار باشند: $\sin x = 1$, $\sin \delta x = 1$, $\cos x = 0$ وقتی $\sin x = 1$ ، داریم: $\cos x = 0$ و چون باید از سه جواب اشتراک بگیریم، لازم نیست معادله‌ی $\cos x = 0$ را بررسی کنیم. دو معادله‌ی دیگر را حل می‌کنیم:

$$\sin x = 1 \Rightarrow x = 2k\pi + \frac{\pi}{2}, \quad \sin \delta x = 1 \Rightarrow \delta x = 2k'\pi + \frac{\pi}{2}$$

می‌دانیم اگر $x = 2k\pi + \frac{\pi}{2}$ داریم:

$$\delta x = 1 \cdot k\pi + \frac{\delta\pi}{2} = (1 \cdot k + 2)\pi + \frac{\pi}{2} = 2(\underbrace{\delta k + 1}_m)\pi + \frac{\pi}{2} = 2m\pi + \frac{\pi}{2}$$

پس جواب‌های دسته‌ی اول جزئی از جواب‌های دسته‌ی دوم نیز هستند. یعنی اشتراک دو جواب، $x = 2k\pi + \frac{\pi}{2}$ می‌شود.

پ) با توجه به این که: $\frac{1}{4} \leq 1 - \frac{3}{4}\sin^2 2x \leq 1$ (چرا؟) و $-1 \leq \cos 2x \leq 1$ ، تنها وقتی حاصل ضرب دو عبارت برابر ۱ می‌شود که هر دو برابر ۱ باشند. یعنی: $\cos 2x = 1$ و $\sin 2x = 0$. پس: $2x = 2k\pi \Rightarrow x = k\pi$

تست (۵): حاصل جمع جواب‌های معادله‌ی $2\sin^2 x - \cos x - 1 = 0$ روی بازه‌ی $[\pi, 2\pi]$ کدام است؟

$$\frac{11\pi}{3} \quad (\text{د})$$

$$3\pi \quad (\text{ب})$$

$$\frac{10\pi}{3} \quad (\text{ا})$$

$$\frac{8\pi}{3} \quad (\text{ز})$$

حل: با توجه به آن که $2\sin^2 x - 1 = -\cos 2x$ داریم:

$$-\cos 2x - \cos x = 0 \Rightarrow \cos 2x = -\cos x = \cos(\pi + x) \Rightarrow \begin{cases} 2x = 2k\pi + \pi + x \Rightarrow x = (2k + 1)\pi \\ 2x = 2k\pi - (\pi + x) \Rightarrow x = \frac{(2k - 1)\pi}{3} \end{cases}$$

در فاصله‌ی $[\pi, 2\pi]$ دو جواب متمایز برای معادله به‌دست می‌آید: $\{\pi, \frac{5\pi}{3}\}$. مجموع این دو ریشه برابر است با $\frac{8\pi}{3}$. بنابراین گزینه‌ی (ز) درست است.

مسئله (۱۳): اگر معادله‌ی زیر ریشه داشته باشد، محدوده‌ی مقادیر m را بیابید.

$$\sin^4 x + \sin^2 x \cos^2 x + \cos^4 x = m \cos 4x$$

حل: عبارت سمت چپ را ساده می‌کنیم:

$$\sin^4 x + \sin^2 x \cos^2 x + \cos^4 x = (\sin^2 x + \cos^2 x)^2 - \sin^2 x \cos^2 x = 1 - \frac{1}{4}\sin^2 2x = 1 - \frac{1}{4}\left(\frac{1 - \cos 4x}{2}\right) = \frac{7}{8} + \frac{1}{8}\cos 4x$$

با جای‌گذاری این نتیجه در معادله به‌دست می‌آوریم:

$$\frac{7}{8} + \frac{1}{8}\cos 4x = m \cos 4x \Rightarrow \frac{7}{8} = (m - \frac{1}{8})\cos 4x \Rightarrow \cos 4x = \frac{7}{8m - 1}$$

برای آن که معادله جواب داشته باشد، باید: $-1 \leq \frac{7}{8m - 1} \leq 1$ و حل این نامعادله نتیجه می‌دهد: $m \in (-\infty, -\frac{3}{4}] \cup [1, +\infty)$

○ **مسئله‌ی (۱۴): الف)** معادله‌ی $m \tan x + \cot x = 4$ ، در فاصله‌ی $(0, \frac{\pi}{4})$ دو جواب متمایز دارد. محدوده‌ی مقادیر m را بیابید.

* **ب)** در معادله‌ی مثلثاتی $\lambda \sin^2 x + k \sin 2x = 1$ ، مجموع جواب‌های متمایز در فاصله‌ی $[0, \pi]$ برابر $\frac{3\pi}{4}$ است. مقدار k را بیابید.

حل: الف) اگر قرار دهیم: $\tan x = t$ ، داریم: $\cot x = \frac{1}{t}$ و با جای‌گذاری به یک معادله‌ی درجه‌ی دوم می‌رسیم:

$$mt^2 - 4t + 1 = 0 \Rightarrow t = \frac{2 \pm \sqrt{4 - m}}{m}$$

معادله‌ی اصلی دو ریشه‌ی متمایز x_1 و x_2 در فاصله‌ی $(0, \frac{\pi}{4})$ دارد. چون $t_1 = \tan x_1$ و $t_2 = \tan x_2$ ، پس هر دو مقدار t_1 و t_2 مثبت و متمایزند. یعنی معادله‌ی درجه‌ی دوم بر حسب t ، باید دو ریشه‌ی مثبت و متمایز داشته باشد.

اولاً باید $\Delta > 0$ ، یعنی: $m < 4$. ثانیاً باید هم حاصل‌جمع ریشه‌ها و هم حاصل‌ضرب ریشه‌ها مثبت باشد. $\frac{4}{m} > 0$ و $\frac{1}{m} > 0$. پس $m > 0$ و اشتراک این محدوده با شرط قبلی عبارت است از: $0 < m < 4$.

ب) ابتدا دقت کنید که $\cos x \neq 0$. زیرا اگر $\cos x = 0$ ، آن‌گاه با جای‌گذاری در معادله به‌دست می‌آوریم: $\lambda = 1$ ، که تناقض است. حال دو طرف معادله را بر $\cos^2 x$ تقسیم می‌کنیم که معادله بر حسب $\tan x$ مرتب شود:

$$\lambda \tan^2 x + 2k \tan x = \frac{1}{\cos^2 x} = 1 + \tan^2 x \Rightarrow \lambda \tan^2 x + 2k \tan x - 1 = 0$$

اگر قرار دهیم $\tan x = t$ ، معادله‌ی درجه‌ی دوم حاصل حداکثر دو جواب دارد که هر کدام به یک دسته جواب برای معادله‌ی اصلی منجر می‌شود.

در هر حال در فاصله‌ی $(0, \pi)$ این جواب‌ها منحصر به فردند (چرا؟). می‌خواهیم بین ریشه‌ها رابطه‌ی $x_1 + x_2 = \frac{3\pi}{4}$ برقرار باشد. در نتیجه:

$$\tan(x_1 + x_2) = -1 \Rightarrow \frac{\tan x_1 + \tan x_2}{1 - \tan x_1 \tan x_2} = -1$$

در معادله‌ی $\lambda t^2 + 2kt - 1 = 0$ مجموع دو ریشه برابر است با $-\frac{2k}{\lambda}$ و حاصل‌ضرب آن دو $-\frac{1}{\lambda}$ می‌شود. پس داریم:

$$\frac{-\frac{2k}{\lambda}}{1 - (-\frac{1}{\lambda})} = -\frac{k}{\lambda} \Rightarrow -\frac{k}{\lambda} = -1 \Rightarrow k = \lambda$$

به راحتی می‌توان بررسی کرد که به ازای این مقدار، معادله ریشه هم دارد.

تمرین‌های بخش ۳-۴

۱- هر یک از معادلات مثلثاتی زیر را حل کنید. سپس تعیین کنید که هر معادله در فاصله‌ی $[0, 4\pi]$ چند جواب دارد.

الف) $\sin 2x = \cos x$ ب) $\cos 2x \sin x = \cos 2x$

پ) $\tan 3x = \tan 2x$ ت) $\sin^3(\pi x) + \cos^3(\pi x) = 0$

ث) $\tan x = 2 \sin x$ ج) $\frac{2}{\sin x} - 2 \sin x = 3$

چ) $\sin^2 x = 1 + \cos x$ ح) $\frac{2 \sin(2\pi - x)}{\cos x} - \frac{\sin(2\pi + x)}{\cos(-x)} = \tan(\frac{\pi}{4} + x)$

۲- هر یک از معادلات زیر را حل کنید.

الف) $\cos 6x = \cos x \cos 5x$

ب) $\frac{\sin 7x - \sin x}{\sin 3x} = 2$

ث) $\sin 2x + \cos 2x = \sqrt{2} \sin x$

ج) $\cos 4x - \sin 3x + 1 = 2 \cos^2 2x$

خ) $\sqrt{2} \sin(\frac{\pi}{4} - x) = 1 + \sin(\frac{5\pi}{4} + x)$

ب) $\sin x \cos 4x - \sin 3x + \sin 4x \cos x = 0$

ت) $\sin 2x + \sqrt{3} \cos 2x = 2$

ج) $2 \sin^2 x - \sin 2x = 1$

ح) $\sin x \cos x = \cos^2 x - \frac{1}{4}$

د) $\sin^6 x + \cos^6 x = \frac{5}{4} \sin^2 2x$



۳- نقاط تلاقی نمودار تابع $f(x) = -2\sin^4 x + \sqrt{3}\sin^3 x + 2\sin^2 x - \sqrt{3}\sin x$ با محور x ها را به دست آورید.
 ۴- هر یک از معادلات زیر را حل کنید.

الف) $3\sqrt{2}(\sin x + \cos x) + \sin 2x = -5$ (الف)
 ب) $\sin^3 x + \cos^3 x = \frac{1}{\sqrt{2}} \sin 2x$ (ب)

ب) $\tan\left(\frac{\pi}{4} \cos x\right) = \cot(\pi \sin x)$ (ب)
 ت) $\sin 2x - \cos 2x = 1 - \sin 4x$ (ت)

ث) $\cos^2 x + \cos^2 2x + \cos^2 3x + \cos^2 4x = 2$ (ث)
 ج) $\sin\left(x - \frac{2\pi}{11}\right) + \cos\left(\frac{15\pi}{22} - x\right) = 1$ (ج)

چ) $\sqrt{3} \sin\left(3x + \frac{4\pi}{9}\right) + \sin\left(\frac{\pi}{18} - 3x\right) = 2 \sin 2x$ (چ)
 ح) $\tan 3x + \tan 3x \tan 2x \tan x = \tan 2x + \tan x$ (ح)

۵- هر یک از معادلات زیر در فاصله $[0, 2\pi]$ چند جواب دارد؟

الف) $\sin^4 x + \cos^4 x = \frac{3}{4}$ (الف)

ب) $\tan^3 x \cot x + \cot^3 x \tan x = 4$ (ب)

ب) $(2\sin^2 x - 1)(2\sin^2 x - 2) \dots (2\sin^2 x - 10) = 0$ (ب)

۶- الف) اگر معادله $\tan x + (a-1)\cot x = \sqrt{2}$ ، در بازه $(0, \frac{\pi}{4})$ دو جواب متمایز داشته باشد، حدود مقادیر a را بیابید.

ب) اگر معادله $(2a-3)\tan x + (a-1)\cot x = 2$ ریشه‌ی مضاعف داشته باشد، مقدار a را بیابید.

پ) اگر x_1 و x_2 ریشه‌های معادله $2\tan x + \cot x = k-1$ در فاصله $[0, \pi]$ باشند و بدانیم $x_1 + x_2 = \frac{3\pi}{4}$ ، مقدار k را به دست آورید.

۷- معادلات زیر را حل کنید.


الف) $\sin x \cos^3 x + \cos x \sin^3 x = \frac{1}{\sqrt{2}}$ (الف)
 ب) $2\sin\left(x + \frac{\pi}{4}\right) = \tan x + \cot x$ (ب)

ب) $\sin 18x + \sin 10x + \sin 20x = 3 + \cos^2 2x$ (ب)
 ت) $\tan^2 4x + \cot^2 4x + 2\tan 4x + 2\cot 4x = 6$ (ت)

ث) $\sin x + \cos x = \sqrt{2} + \sin^2 x$ (ث)
 ج) $4\sin 2x - \tan^2\left(x - \frac{\pi}{4}\right) = 4$ (ج)

* $8\sin^3 x \cos x - 3\sin^5 x + 2\cos^5 x \sin^2 x + \cos^4 x = 1$ (ج)

* $2(\sin 2x - \cos 2x) = \frac{\cos x + \cos 3x}{\cos x - \sin x}$ (ح)



معادلات مثلثاتی


پرسش‌های چهارگزینه‌ای

- ۱- معادله $2 \sin^2 x = 3 \cos x$ در بازه $[\frac{\Delta\pi}{\gamma}, \circ]$ ، چند جواب متمایز دارد؟
 (۱) ۳ (۲) ۲ (۳) ۴ (۴) ۵
- ۲- حاصل جمع جواب‌های معادله $\sin x - \cos x = \cos 2x$ در بازه $[0, 2\pi]$ چند است؟
 (۱) $\frac{9\pi}{4}$ (۲) 4π (۳) $\frac{9\pi}{2}$ (۴) $\frac{7\pi}{2}$
- ۳- جواب عمومی معادله $\sin(x + \frac{\pi}{6}) \sin(x - \frac{\pi}{6}) = \frac{1}{4}$ کدام است؟
 (۱) $k\pi + \frac{\pi}{4}$ (۲) $\frac{k\pi}{2}$ (۳) $k\pi$ (۴) $\frac{k\pi}{2} + \frac{\pi}{4}$
- ۴- انتهای کمان‌های متناظر به جواب‌های معادله $2 \cos^2 x + 3 \sin x - 3 = 0$ ، روی دایره‌ی مثلثاتی رئوس یک هستند.
 (۱) مثلث متساوی‌الاضلاع (۲) مثلث قائم‌الزاویه (۳) مثلث متساوی‌الساقین (۴) مستطیل
- ۵- جواب معادله $\sin 3x \cos x = \cos 2x \sin x$ به چه شکل است؟
 (۱) $k\pi$ (۲) $k\pi + \frac{\pi}{2}$ (۳) $2k\pi \pm \frac{\pi}{2}$ (۴) $\frac{k\pi}{2}$
- ۶- مجموع جواب‌های حاده‌ی معادله $\tan 4x = \cot x$ کدام است؟
 (۱) $\frac{\pi}{5}$ (۲) $\frac{2\pi}{5}$ (۳) $\frac{3\pi}{5}$ (۴) $\frac{4\pi}{5}$
- ۷- مجموع جواب‌های بین صفر و 2π در معادله $2 \sin^2(x - \frac{\pi}{8}) + 3 \cos(x - \frac{5\pi}{8}) = 5$ کدام است؟
 (۱) $\frac{3\pi}{4}$ (۲) $\frac{5\pi}{4}$ (۳) $\frac{5\pi}{8}$ (۴) $\frac{7\pi}{8}$
- ۸- حاصل جمع جواب‌های معادله $\cot \frac{x}{2} - \tan \frac{x}{2} = 2\sqrt{3}$ ، در بازه $[0, 2\pi]$ کدام است؟
 (۱) π (۲) $\frac{2\pi}{3}$ (۳) $\frac{4\pi}{3}$ (۴) $\frac{5\pi}{3}$
- ۹- جواب‌های معادله $\cos 4x - \cos 2x = \cos(2x - \frac{3\pi}{2})$ چند نقطه را بر روی دایره‌ی مثلثاتی مشخص می‌کنند؟
 (۱) ۳ (۲) ۴ (۳) ۶ (۴) ۸
- ۱۰- حاصل جمع جواب‌های معادله $\cos 2x = \cos x + 2$ در بازه $[-\pi, \pi]$ کدام است؟
 (۱) 2π (۲) 3π (۳) صفر (۴) $\frac{3\pi}{2}$
- ۱۱- معادله $\sin x(1 + \sin x) + \cos x(1 + \cos x) = 0$ در بازه $[-\pi, 0]$ چند ریشه دارد؟
 (۱) ۱ (۲) ۲ (۳) ۳ (۴) ۴
- ۱۲- انتهای کمان‌های x از معادله $\cos 2x(1 - \sin x) = 0$ ، بر روی دایره‌ی مثلثاتی رئوس یک ضلعی را معین می‌کند.
 (۱) ۵ - منتظم (۲) ۴ - منتظم (۳) ۵ - غیرمنتظم (۴) ۴ - غیرمنتظم



- ۱۳- جواب کلی معادله $\sin(x + \frac{\pi}{4}) - \cos(x + \frac{\pi}{4}) = \sqrt{2}$ کدام است؟
- (۱) $2k\pi + \frac{\pi}{2}$ (۲) $k\pi - \frac{\pi}{4}$ (۳) $k\pi + \frac{\pi}{2}$ (۴) $(2k+1)\pi$
- ۱۴- جواب عمومی معادله $\sin(\frac{\pi}{2} + x) \cos(2\pi - x) = \sin^2(\frac{\sqrt{2}\pi}{6})$ کدام است؟
- (۱) $2k\pi - \frac{\pi}{3}$ (۲) $2k\pi \pm \frac{\pi}{3}$ (۳) $2k\pi + \frac{\pi}{2}$ (۴) $k\pi \pm \frac{\pi}{3}$
- ۱۵- جواب عمومی معادله $\sin^3 x + \sin x = 0$ کدام است؟
- (۱) $\frac{k\pi}{2}$ (۲) $k\pi$ (۳) $k\pi + \frac{\pi}{2}$ (۴) $2k\pi + \frac{\pi}{2}$
- ۱۶- جواب کلی معادله مثلثاتی $\frac{\sin^3 x + \sin x}{\sin x} = 1$ به کدام شکل است؟ (سراسری-۸۲)
- (۱) $\frac{k\pi}{3}$ (۲) $k\pi + \frac{\pi}{3}$ (۳) $k\pi \pm \frac{\pi}{3}$ (۴) $2k\pi \pm \frac{\pi}{3}$
- ۱۷- جواب کلی معادله مثلثاتی $\frac{\cos 2x}{\cos(x + \frac{\pi}{4})} = 0$ به کدام شکل است؟ (سراسری-۸۳)
- (۱) $2k\pi \pm \frac{\pi}{4}$ (۲) $k\pi \pm \frac{\pi}{4}$ (۳) $k\pi + \frac{\pi}{4}$ (۴) $k\pi - \frac{\pi}{4}$
- ۱۸- معادله $(\sin x - \frac{9}{4})(\sin x - \frac{7}{4}) \dots (\sin x + \frac{7}{4})(\sin x + \frac{9}{4}) = 0$ در بازه $(0, 2\pi)$ چند ریشه دارد؟
- (۱) ۴ (۲) ۲۰ (۳) ۲ (۴) صفر
- ۱۹- معادله $\tan x \tan 2x = \sin x \sin 2x$ روی $[\frac{\pi}{4}, \frac{9\pi}{4}]$ چند جواب دارد؟ (آزاد-۸۱)
- (۱) ۱ (۲) ۴ (۳) ۳ (۴) صفر
- ۲۰- معادله $\cos x + \cos 2x + \cos 3x = 3 + \sin^2 x$ در بازه $[\pi, 5\pi]$ چند جواب دارد؟ (آزاد-۸۱)
- (۱) ۵ (۲) ۴ (۳) ۱ (۴) ۲
- ۲۱- جواب عمومی معادله $\tan^2 x - \cos 2x = 1$ کدام شکل است؟ (آزاد-۸۲)
- (۱) $k\pi + \frac{\pi}{4}$ (۲) $2k\pi + \frac{\pi}{4}$ (۳) $\frac{k\pi}{2} + \frac{\pi}{4}$ (۴) $\frac{(k+1)\pi}{4}$
- ۲۲- معادله $\tan^2 x - 2 \cot^2 x = 1$ در بازه $[0, 2\pi]$ چند ریشه دارد؟ (آزاد-۸۲)
- (۱) صفر (۲) ۲ (۳) ۴ (۴) ۸
- ۲۳- معادله $\sin^2 x = \cos^2 x + \frac{1}{4}$ در بازه $[0, \pi]$ چند ریشه دارد؟ (آزاد-۸۳)
- (۱) ۲ (۲) ۴ (۳) ۱ (۴) ۳
- ۲۴- برای چه مقادیر a ، معادله $\sin^2 x - 2(1+a)\sin x + 4a = 0$ در فاصله $(\frac{\pi}{6}, \frac{5\pi}{6})$ دارای جواب است؟
- (۱) $|a| < \frac{1}{4}$ (۲) $a \in [\frac{1}{4}, \frac{1}{2}]$ (۳) $a \in (\frac{1}{4}, \frac{1}{2})$ (۴) $a \in (\frac{1}{4}, \frac{1}{2})$
- ۲۵- معادله $1 + \cos 2x = 4 \cos 4x$ در فاصله $[0, \frac{\pi}{2}]$ چند جواب دارد؟
- (۱) ۶ (۲) ۲ (۳) ۵ (۴) ۳

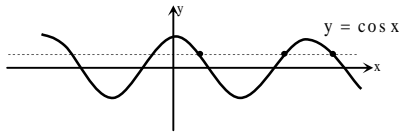
- ۲۶- معادله‌ی $\cos x + \cos 2x + \cos 3x = 0$ در فاصله‌ی $(0, \pi)$ چند جواب دارد؟
 (۱) ۱ (۲) ۲ (۳) ۳ (۴) ۴
- ۲۷- اگر $\tan(x + \alpha) \tan\left(\frac{3\pi}{2} - x\right) = 1$ حاصل $\sin(2\alpha - \frac{\pi}{6})$ کدام است؟
 (۱) $-\frac{\sqrt{3}}{2}$ (۲) $-\frac{1}{2}$ (۳) $\frac{\sqrt{3}}{2}$ (۴) $\frac{1}{2}$
- ۲۸- معادله‌ی $\tan x + \cot x = 2\sqrt{2}$ ، چند ریشه در فاصله‌ی $[0, 2\pi]$ دارد؟
 (۱) ۲ (۲) ۳ (۳) ۴ (۴) ۵
- ۲۹- معادله‌ی $\cos^6 x + \cos^2 x - 2 = 0$ در بازه‌ی $(\frac{\pi}{2}, \frac{3\pi}{2})$ چند جواب دارد؟ (آزاد-۸۶)
 (۱) صفر (۲) ۲ (۳) ۱ (۴) ۴
- ۳۰- جواب کلی معادله‌ی $2 \sin^2 x = 3 \cos x$ به چه شکل است؟ (سراسری-۸۶)
 (۱) $k\pi \pm \frac{\pi}{6}$ (۲) $k\pi \pm \frac{\pi}{3}$ (۳) $2k\pi \pm \frac{\pi}{6}$ (۴) $2k\pi \pm \frac{\pi}{3}$
- ۳۱- جواب کلی معادله‌ی مثلثاتی $\frac{1 - \cos 2x}{\sin 2x} = \sqrt{3}$ به کدام صورت است؟ (سراسری-۸۶)
 (۱) $2k\pi + \frac{5\pi}{6}$ (۲) $2k\pi + \frac{\pi}{3}$ (۳) $k\pi + \frac{5\pi}{6}$ (۴) $k\pi + \frac{\pi}{3}$
- ۳۲- معادله‌ی $\cos 2x \cos 3x = 0$ در بازه‌ی $[0, 2\pi]$ چند ریشه دارد؟ (آزاد-۸۶)
 (۱) ۶ (۲) ۸ (۳) ۱۰ (۴) ۱۲
- ۳۳- معادله‌ی $\sin 2x \cos 2x \cos 4x = 2 \sin x$ در بازه‌ی $[0, 2\pi]$ چند ریشه دارد؟ (آزاد-۸۶)
 (۱) صفر (۲) ۱ (۳) ۳ (۴) ۵
- ۳۴- جواب کلی معادله‌ی مثلثاتی $\sin \frac{5\pi}{6} + \sin(\frac{\pi}{2} + x) \sin(\pi + x) = 0$ کدام است؟ (سراسری-۸۷)
 (۱) $k\pi + \frac{\pi}{4}$ (۲) $k\pi - \frac{\pi}{4}$ (۳) $2k\pi \pm \frac{\pi}{4}$ (۴) $2k\pi + \frac{\pi}{4}$
- ۳۵- معادله‌ی $\sin^2 x + \cos^2 x + 3 \sin^2 x \cos x + 3 \cos^2 x \sin x = \frac{1}{3}$ در بازه‌ی $(\frac{\pi}{2}, \frac{3\pi}{2})$ چند جواب دارد؟ (آزاد-۸۷)
 (۱) ۲ (۲) ۴ (۳) صفر (۴) ۱
- ۳۶- معادله‌ی $\frac{\sin x + \sin 3x}{\cos x} = 1$ در بازه‌ی $(0, 2\pi)$ چند ریشه دارد؟ (آزاد-۸۸)
 (۱) ۲ (۲) ۱ (۳) ۴ (۴) ۳
- ۳۷- معادله‌ی $\cos^2 x = 1 + \sqrt{\sin x}$ چند ریشه در بازه‌ی $[\frac{\pi}{2}, 3\pi]$ دارد؟ (آزاد-۸۹)
 (۱) صفر (۲) ۳ (۳) ۱ (۴) ۲
- ۳۸- جواب کلی معادله‌ی مثلثاتی $\tan(x + \frac{\pi}{4}) + \tan(x - \frac{\pi}{4}) = 2\sqrt{3}$ به کدام صورت است؟ (سراسری-۸۹)
 (۱) $k\pi + \frac{\pi}{6}$ (۲) $\frac{k\pi}{2} + \frac{\pi}{3}$ (۳) $\frac{k\pi}{2} + \frac{\pi}{6}$ (۴) $k\pi + \frac{\pi}{3}$



معادلات مثلثاتی

پاسخ‌های تشریحی

۱- گزینه‌ی (۱) با توجه به $\sin^2 x = 1 - \cos^2 x$ داریم:



$$2(1 - \cos^2 x) = 3 \cos x \Rightarrow 2 \cos^2 x + 3 \cos x - 2 = 0 \Rightarrow \cos x = \frac{1}{2}, \cos x = -2$$

معادله‌ی $\cos x = -2$ ریشه ندارد و معادله‌ی $\cos x = \frac{1}{2}$ در فاصله‌ی مورد نظر ۳ ریشه دارد.

۲- گزینه‌ی (۲) با توجه به $\cos 2x = \cos^2 x - \sin^2 x$ داریم:

$$\sin x - \cos x = \cos^2 x - \sin^2 x \Rightarrow (\cos x - \sin x)(\cos x + \sin x + 1) = 0$$

$$۱) \sin x = \cos x \Rightarrow \tan x = 1 \Rightarrow x = k\pi + \frac{\pi}{4}$$

$$۲) \cos x + \sin x = -1 \Rightarrow \sin(x + \frac{\pi}{4}) = \frac{-1}{\sqrt{2}} \Rightarrow x + \frac{\pi}{4} = 2k\pi - \frac{\pi}{4} \text{ یا } 2k\pi + \pi + \frac{\pi}{4} \Rightarrow x = 2k\pi - \frac{\pi}{2} \text{ یا } 2k\pi + \pi$$

در فاصله‌ی $[0, 2\pi]$ ریشه‌ها عبارت‌اند از: $x_1 = \frac{\pi}{4}$, $x_2 = \frac{5\pi}{4}$, $x_3 = \frac{3\pi}{2}$, $x_4 = \pi$ که حاصل جمع آن‌ها 4π می‌شود.

۳- گزینه‌ی (۴) با استفاده از تبدیل ضرب به جمع داریم:

$$\sin(x + \frac{\pi}{6}) \sin(x - \frac{\pi}{6}) = \frac{1}{2}(\cos(\frac{\pi}{3}) - \cos 2x) = \frac{1}{2}(\frac{1}{2} - \cos 2x) \Rightarrow \frac{1}{2}(\frac{1}{2} - \cos 2x) = \frac{1}{4}$$

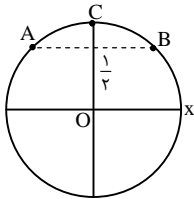
$$\Rightarrow \frac{1}{2} - \cos 2x = \frac{1}{2} \Rightarrow \cos 2x = 0 \Rightarrow 2x = k\pi + \frac{\pi}{2} \Rightarrow x = \frac{k\pi}{2} + \frac{\pi}{4}$$

۴- گزینه‌ی (۳) با جای‌گذاری $\cos^2 x = 1 - \sin^2 x$ معادله را حل می‌کنیم:

$$2(1 - \sin^2 x) + 3 \sin x - 3 = 0 \Rightarrow 2 \sin^2 x - 3 \sin x + 1 = 0 \Rightarrow (\sin x - 1)(2 \sin x - 1) = 0$$

$$\Rightarrow \sin x = 1 \text{ یا } \sin x = \frac{1}{2}$$

در شکل، نقاط A، B و C انتهای کمان‌های مورد نظر را مشخص می‌کنند. واضح است که مثلث ABC متساوی‌الساقین است.



۵- گزینه‌ی (۴) معادله را به صورت زیر می‌نویسیم:

$$\sin^3 x \cos x - \cos^3 x \sin x = 0 \Rightarrow \sin(3x - x) = 0 \Rightarrow \sin 2x = 0 \Rightarrow 2x = k\pi \Rightarrow x = \frac{k\pi}{2}$$

۶- گزینه‌ی (۲) از این‌که $\cot x = \tan(\frac{\pi}{2} - x)$ داریم:

$$\tan 4x = \tan(\frac{\pi}{2} - x) \Rightarrow 4x = k\pi + \frac{\pi}{2} - x \Rightarrow x = \frac{(2k+1)\pi}{10}$$

زاویه‌های حاده‌ی جواب عبارت‌اند از: $\frac{\pi}{10}$ و $\frac{3\pi}{10}$ که مجموع آن‌ها $\frac{2\pi}{5}$ می‌شود.

۷- گزینه‌ی (۳) می‌توانیم به جای $\cos(x - \frac{\delta\pi}{\lambda})$ همان $\sin(x - \frac{\pi}{\lambda})$ را قرار دهیم، زیرا:

$$\cos(x - \frac{\delta\pi}{\lambda}) = \cos((x - \frac{\pi}{\lambda}) - \frac{\pi}{2}) = \sin(x - \frac{\pi}{\lambda}) \Rightarrow 2 \sin^2(x - \frac{\pi}{\lambda}) + 3 \sin(x - \frac{\pi}{\lambda}) = \delta$$

$$\Rightarrow (2 \sin(x - \frac{\pi}{\lambda}) + \delta)(\sin(x - \frac{\pi}{\lambda}) - 1) = 0$$

از دو معادله‌ی حاصل، تنها $\sin(x - \frac{\pi}{\lambda}) = 1$ جواب دارد (چرا؟)، بنابراین:

$$x - \frac{\pi}{\lambda} = 2k\pi + \frac{\pi}{2} \Rightarrow x = 2k\pi + \frac{\delta\pi}{\lambda} \xrightarrow{x \in [0, 2\pi]} x = \frac{\delta\pi}{\lambda}$$

۵۱ دوام: بیشترین مقدار عبارت سمت چپ برابر ۵ است (چرا؟). چون در معادله عبارت برابر ۵ شده است، پس هر دو جزء عبارت سمت چپ در بیشترین حالت خود قرار دارند. یعنی باید اشتراک جوابهای دو معادله‌ی زیر را پیدا کنیم:

$$\sin\left(x - \frac{\pi}{8}\right) = \pm 1, \quad \cos\left(x - \frac{5\pi}{8}\right) = 1$$

۸- گزینه‌ی (۳) می‌دانیم $\tan \alpha - \cot \alpha = -2 \cot 2\alpha$ ، بنابراین:

$$\cot \frac{x}{2} - \tan \frac{x}{2} = 2 \cot x \xrightarrow{\text{از معادله}} \cot x = \sqrt{3} \Rightarrow x = k\pi + \frac{\pi}{6} \xrightarrow{x \in [0, 2\pi]} x \in \left\{ \frac{\pi}{6}, \frac{7\pi}{6} \right\}$$

۹- گزینه‌ی (۴) می‌دانیم $\cos\left(3x - \frac{3\pi}{4}\right) = -\sin 3x$ ، بنابراین:

$$\cos 4x - \cos 2x = -\sin 3x \Rightarrow -2 \sin x \sin 3x = -\sin 3x$$

$$\Rightarrow \sin 3x (2 \sin x - 1) = 0 \Rightarrow \begin{cases} \sin 3x = 0 \Rightarrow x = \frac{k\pi}{3} \rightarrow \left\{ 0, \frac{\pi}{3}, \frac{2\pi}{3}, \pi, \frac{4\pi}{3}, \frac{5\pi}{3}, 2\pi \right\} \\ \sin x = \frac{1}{2} \Rightarrow x \in \left\{ 2k\pi + \frac{\pi}{6}, 2k\pi + \frac{5\pi}{6} \right\} \rightarrow \left\{ \frac{\pi}{6}, \frac{5\pi}{6} \right\} \end{cases}$$

۹ جواب در بازه‌ی $[0, 2\pi]$ وجود دارد، که چون انتهای کمان دو جواب $x = 0$ و $x = 2\pi$ یکسان است، روی دایره‌ی مثلثاتی ۸ نقطه را معین می‌کنند.
۱۰- گزینه‌ی (۳) چون $1 \leq \cos 2x \leq 3$ و $-1 \leq \cos x \leq 3$ ، پس تنها در حالتی دو عبارت مساوی‌اند که هر دو برابر ۱ باشند. یعنی:
 $\cos x = -1$ و $\cos 2x = 1$.

$$\cos 2x = 1 \Rightarrow 2x = 2k\pi \Rightarrow x = k\pi, \quad \cos x = -1 \Rightarrow x = (2k+1)\pi$$

اشتراک دو دسته جواب فوق همان $x = (2k+1)\pi$ است، که در فاصله‌ی $[-\pi, \pi]$ ، دو جواب $x = \pm\pi$ می‌شوند.

۱۱- گزینه‌ی (۲) با ضرب عبارت در پراتتها داریم:

$$\sin x + \sin^2 x + \cos x + \cos^2 x = 0 \Rightarrow \sin x + \cos x + 1 = 0 \Rightarrow \sin x + \cos x = -1$$

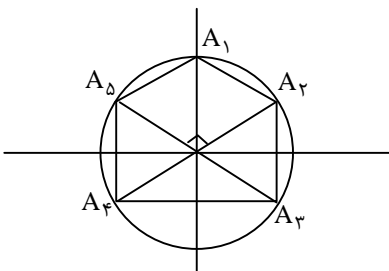
$$\Rightarrow \sqrt{2} \sin\left(x + \frac{\pi}{4}\right) = -1 \Rightarrow x + \frac{\pi}{4} = 2k\pi - \frac{\pi}{4} \text{ یا } 2k\pi + \pi + \frac{\pi}{4} \Rightarrow x \in \left\{ 2k\pi - \frac{\pi}{2}, (2k+1)\pi \right\} \xrightarrow{x \in [-\pi, 0]} \left\{ -\frac{\pi}{2}, -\pi \right\}$$

۱۲- گزینه‌ی (۳) دو معادله حاصل می‌شود:

$$\sin x = 1 \Rightarrow x = 2k\pi + \frac{\pi}{2} \xrightarrow{[0, 2\pi]} \left\{ \frac{\pi}{2} \right\}$$

$$\cos 2x = 0 \Rightarrow 2x = k\pi + \frac{\pi}{2} \Rightarrow x = \frac{k\pi}{2} + \frac{\pi}{4} \rightarrow \left\{ \frac{\pi}{4}, \frac{3\pi}{4}, \frac{5\pi}{4}, \frac{7\pi}{4} \right\}$$

واضح است که این ۵ ضلعی منتظم نیست.



۱۳- گزینه‌ی (۱) با استفاده از اتحادها داریم:

$$\sin\left(x + \frac{\pi}{4}\right) - \cos\left(x + \frac{\pi}{4}\right) = \sqrt{2} \sin\left(x + \frac{\pi}{4} - \frac{\pi}{4}\right) \Rightarrow \sqrt{2} \sin x = \sqrt{2} \Rightarrow \sin x = 1 \Rightarrow x = 2k\pi + \frac{\pi}{2}$$

۱۴- گزینه‌ی (۴) می‌دانیم $\sin\left(\frac{\pi}{2} + x\right) = \cos x$ و $\cos(2\pi - x) = \cos x$ ، بنابراین:

$$\cos^2 x = \sin^2\left(\frac{7\pi}{6}\right) \Rightarrow \cos^2 x = \frac{1}{4} \Rightarrow \cos x = \pm \frac{1}{2}$$

جوابهای معادله‌ی اول به فرم $2k\pi \pm \frac{\pi}{3}$ و جوابهای معادله‌ی دوم به فرم $2k\pi \pm \frac{2\pi}{3}$ می‌باشند. دسته جواب $2k\pi + \frac{2\pi}{3}$ به شکل

$(2k+1)\pi - \frac{\pi}{3}$ قابل بیان است، همچنین جواب $2k\pi - \frac{2\pi}{3}$ به شکل $(2(k-1)+1)\pi + \frac{\pi}{3}$ قابل بیان است. پس می‌توان اجتماع همه‌ی

جوابها را با صورت کلی $k\pi \pm \frac{\pi}{3}$ بیان کرد.

۱۵- گزینهی (۱) از معادله داریم: $\sin 3x = -\sin x$ ، بنابراین:

$$\sin 3x = \sin(\pi + x) \Rightarrow \begin{cases} 3x = 2k\pi + (\pi + x) \Rightarrow x = \frac{(2k+1)\pi}{2} \\ 3x = 2k\pi + \pi - (\pi + x) \Rightarrow x = \frac{k\pi}{2} \end{cases} \Rightarrow x = \frac{k\pi}{2}$$

۱۶- گزینهی (۳) داریم $\sin x \neq 0$ ، حال با این شرط می‌توان نوشت:

$$\sin 3x + \sin x = \sin x \Rightarrow \sin 3x = 0 \Rightarrow 3x = k\pi \Rightarrow x = \frac{k\pi}{3}$$

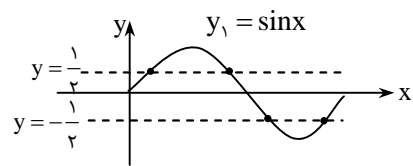
در جواب به دست آمده نباید k بر ۳ قابل قسمت باشد، چون در آن صورت: $\sin x = 0$. پس دو حالت زیر ممکن است پیش بیاید:

$$۱) k = 3m + 1 \Rightarrow x = m\pi + \frac{\pi}{3} \quad ۲) k = 3m + 2 \Rightarrow x = (m+1)\pi - \frac{\pi}{3} = m'\pi - \frac{\pi}{3}$$

۱۷- گزینهی (۴) معادله را به صورت زیر می‌نویسیم:

$$\frac{\cos 2x}{\sqrt{2}(\cos x - \sin x)} = 0 \Rightarrow \frac{(\cos x - \sin x)(\cos x + \sin x)}{\cos x - \sin x} = 0$$

$$\xrightarrow{\cos x - \sin x \neq 0} \cos x + \sin x = 0 \Rightarrow \tan x = -1 \Rightarrow x = k\pi - \frac{\pi}{4}$$



۱۸- گزینهی (۱) چون $-1 \leq \sin x \leq 1$ ، پس تنها دو تا از عبارات داخل پرانتز می‌توانند صفر باشند:

$$(\sin x - \frac{1}{2})(\sin x + \frac{1}{2}) = 0 \Rightarrow \sin x = \pm \frac{1}{2}$$

مطابق شکل در فاصله‌ی $(0, 2\pi)$ ، دو معادله روی هم ۴ ریشه دارند.

۱۹- گزینهی (۲) با نوشتن تانژانت‌ها برحسب سینوس و کسینوس داریم:

$$\frac{\sin x}{\cos x} \times \frac{\sin 2x}{\cos 2x} - \sin x \sin 2x = 0 \Rightarrow \sin x \sin 2x \left(\frac{1}{\cos x \cos 2x} - 1 \right) = 0 \Rightarrow \sin x \sin 2x = 0 \text{ یا } \cos x \cos 2x = 1$$

ریشه‌های معادله‌ی $\sin x \sin 2x = 0$ در فاصله‌ی $[\frac{\pi}{4}, \frac{9\pi}{4}]$ را به دست می‌آوریم:

$$\sin x = 0 \rightarrow \{\pi, 2\pi\} \quad \sin 2x = 0 \rightarrow \{\frac{\pi}{2}, \pi, \frac{3\pi}{2}, 2\pi\}$$

برای حل معادله‌ی $\cos x \cos 2x = 1$ دقت کنید که این تساوی تنها وقتی برقرار است که مقادیر $\cos x$ و $\cos 2x$ یا هر دو ۱ باشند یا هر دو -۱، زیرا همواره $-1 \leq \cos x, \cos 2x \leq 1$. همچنین اگر $\cos x = \pm 1$ ، آن‌گاه $\cos 2x = 2\cos^2 x - 1 = 1$ ، پس حالت هر دو برابر ۱- امکان ندارد. برای حالت دیگر نیز تنها کافی است ریشه‌های معادله‌ی $\cos x = 1$ را بررسی کنیم:

$$\cos x = 1 \Rightarrow x = 2k\pi \xrightarrow{\text{در فاصله‌ی موردنظر}} 2\pi$$

۲۰- گزینهی (۴) با توجه به دو نامساوی: $\cos x + \cos 2x + \cos 3x \leq 3$ و $3 \leq 3 + \sin^2 x \leq 4$ ، تنها در حالتی دو عبارت می‌توانند مساوی باشند که هم‌زمان داشته باشیم: $\sin x = 0$ ، $\cos x = \cos 2x = \cos 3x = 1$ ،

می‌دانیم وقتی $\cos x = 1$ ، داریم: $\sin x = 0$ و $\cos 2x = 1$ ، و علاوه بر آن: $\cos 3x = 4\cos^3 x - 3\cos x = 1$. پس نیازی به بررسی ریشه‌های معادلات دیگر نیست، و تنها باید جواب‌های $\cos x = 1$ را به دست بیاوریم: $x = 2\pi, 4\pi \leftarrow x = 2k\pi$

۲۱- گزینهی (۳) معادله را به صورت زیر می‌نویسیم:

$$-\cos 2x = 1 - \tan^2 x \Rightarrow -\frac{1 - \tan^2 x}{1 + \tan^2 x} = 1 - \tan^2 x \Rightarrow (1 - \tan^2 x) \left(1 + \frac{1}{1 + \tan^2 x} \right) = 0$$

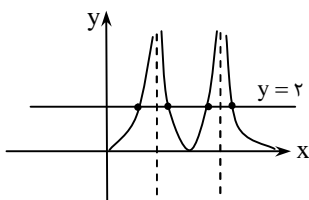
$$\Rightarrow \tan^2 x = 1 \Rightarrow \tan x = \pm 1 \Rightarrow x = k\pi \pm \frac{\pi}{4} \Rightarrow x = k \frac{\pi}{2} + \frac{\pi}{4}$$

۲۲- گزینهی (۳) با نوشتن کتانژانت برحسب تانژانت داریم:

$$\tan^2 x - \frac{2}{\tan^2 x} = 1 \xrightarrow{\tan^2 x = t} t - \frac{2}{t} = 1 \Rightarrow t^2 - t - 2 = 0$$

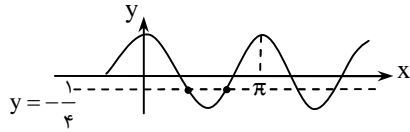
$$\Rightarrow (t+1)(t-2) = 0 \xrightarrow{t > 0} t = 2$$

برای به دست آوردن تعداد ریشه‌های $\tan^2 x = 2$ ، نمودار تابع $y = \tan^2 x$ را با خط $y = 2$ تقاطع می‌دهیم.



۲۳- گزینه‌ی (۱) معادله را به صورت زیر می‌نویسیم:

$$\sin^2 x - \cos^2 x = \frac{1}{4} \Rightarrow \cos 2x = -\frac{1}{4}$$



نمودار تابع $y = \cos 2x$ را در بازه‌ی $[0, \pi]$ رسم کرده با خط $y = -\frac{1}{4}$ تقاطع می‌دهیم:

۲۴- گزینه‌ی (۳) معادله‌ی درجه‌ی دوم برحسب $\sin x$ را حل می‌کنیم:

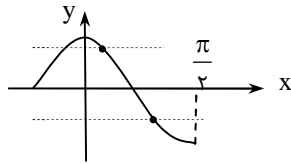
$$\sin^2 x - 2(1+a)\sin x + 4a = 0 \Rightarrow \sin x = \frac{2(1+a) \pm \sqrt{4(a-1)^2}}{2} = (1+a) \pm |a-1|$$

اگر $a \geq 1$ ، نتیجه می‌گیریم: $|a-1| = a-1$ ، بنابراین: $\sin x = 2$ یا $\sin x = 2a$ ، که در هر حالت $\sin x \geq 2$ و معادله ریشه‌ای ندارد. اگر $a < 1$ ، باز هم همان نتایج برای $\sin x$ به دست می‌آید. ولی این بار معادله‌ی $\sin x = 2a$ شاید جواب داشته باشد. با توجه به شرط مسأله داریم:

$$\frac{\pi}{6} < x < \frac{5\pi}{6} \Rightarrow \frac{1}{2} < \sin x \leq 1 \Rightarrow \frac{1}{2} < 2a \leq 1 \Rightarrow a \in \left(\frac{1}{4}, \frac{1}{2}\right]$$

۲۵- گزینه‌ی (۲) از این‌که $\cos 4x = 2\cos^2 2x - 1$ داریم:

$$1 + \cos 2x = 4(2\cos^2 2x - 1) \Rightarrow 8\cos^2 2x - \cos 2x - 5 = 0 \Rightarrow \cos 2x = \frac{1 \pm \sqrt{161}}{16}$$



می‌توان به راحتی نشان داد که: $0 < \frac{1 + \sqrt{161}}{16} < 1$ و $-1 < \frac{1 - \sqrt{161}}{16} < 0$. نمودار $y = \cos 2x$ را در

$(0, \frac{\pi}{2})$ رسم کرده، با خطوط تقاطع دهید. دو نقطه‌ی برخورد به دست می‌آید.

۲۶- گزینه‌ی (۳) با تبدیل جمع به ضرب داریم:

$$\cos x + \cos 2x + \cos 3x = 2\cos 2x \cos x + \cos 2x = \cos 2x(1 + 2\cos x) = 0$$

$$\Rightarrow \cos 2x = 0 \text{ یا } \cos x = -\frac{1}{2} \Rightarrow \begin{cases} 2x = k\pi + \frac{\pi}{2} \Rightarrow x = \frac{k\pi}{2} + \frac{\pi}{4} \rightarrow \left\{ \frac{\pi}{4}, \frac{3\pi}{4} \right\} \\ x = 2k\pi \pm \frac{2\pi}{3} \rightarrow \left\{ \frac{2\pi}{3} \right\} \end{cases}$$

۲۷- گزینه‌ی (۲) می‌دانیم $\tan\left(\frac{3\pi}{2} - x\right) = \cot x$ ، بنابراین:

$$\tan(x + \alpha) \cot x = 1 \Rightarrow \tan(x + \alpha) = \tan x$$

$$\Rightarrow x + \alpha = k\pi + x \Rightarrow \alpha = k\pi \Rightarrow \sin\left(2\alpha - \frac{\pi}{6}\right) = \sin\left(2k\pi - \frac{\pi}{6}\right) = \sin\left(-\frac{\pi}{6}\right) = -\frac{1}{2}$$

۲۸- گزینه‌ی (۳) از اتحادها استفاده می‌کنیم:

$$\tan x + \cot x = 2\sqrt{2} \Rightarrow \frac{2}{\sin 2x} = 2\sqrt{2} \Rightarrow \sin 2x = \frac{1}{\sqrt{2}} \Rightarrow 2x \in \left\{ 2k\pi + \frac{\pi}{4}, 2k\pi + \frac{3\pi}{4} \right\} \Rightarrow x \in \left\{ k\pi + \frac{\pi}{8}, k\pi + \frac{3\pi}{8} \right\}$$

۲۹- گزینه‌ی (۳) می‌دانیم همواره:

$$\cos^2 x, \cos^6 x \leq 1 \Rightarrow \cos^2 x + \cos^6 x \leq 2 \Rightarrow \cos^2 x + \cos^6 x - 2 \leq 0$$

بنابراین وقتی تساوی برقرار است که $\cos^6 x = \cos^2 x = 1$ ، یعنی $\cos x = \pm 1$. تنها ریشه‌ی معادله در بازه‌ی مفروض $x = \pi$ است.

۳۰- گزینه‌ی (۴) با جای‌گذاری $\sin^2 x = 1 - \cos^2 x$ داریم:

$$2(1 - \cos^2 x) = 3\cos x \Rightarrow 2\cos^2 x + 3\cos x - 2 = 0 \Rightarrow (2\cos x - 1)(\cos x + 2) = 0 \Rightarrow \cos x = \frac{1}{2} \Rightarrow x = 2k\pi \pm \frac{\pi}{3}$$

۳۱- گزینه‌ی (۴) با استفاده از اتحادها داریم:

$$\frac{1 - \cos 2x}{\sin 2x} = \frac{2\sin^2 x}{2\sin x \cos x} = \tan x \xrightarrow{\text{از معادله}} \tan x = \sqrt{2} \Rightarrow x = k\pi + \frac{\pi}{3}$$

۳۲- گزینه‌ی (۳) معادله‌ی اصلی به دو معادله‌ی دیگر تبدیل می‌شود:

$$\begin{aligned} \cos 2x = 0 &\Rightarrow 2x = k\pi + \frac{\pi}{2} \Rightarrow x = \frac{(2k+1)\pi}{4} \rightarrow \left\{ \frac{\pi}{4}, \frac{3\pi}{4}, \frac{5\pi}{4}, \frac{7\pi}{4} \right\} \\ \cos 3x = 0 &\Rightarrow 3x = k\pi + \frac{\pi}{2} \Rightarrow x = \frac{(2k+1)\pi}{6} \rightarrow \left\{ \frac{\pi}{6}, \frac{\pi}{2}, \frac{5\pi}{6}, \frac{7\pi}{6}, \frac{3\pi}{2}, \frac{11\pi}{6} \right\} \end{aligned}$$

۳۳- گزینهی (۳) معادله را به این شکل بازنویسی می‌کنیم: $2 \sin x (\cos x \cos 2x \cos 4x - 1) = 0$

اگر $\sin x = 0$ که معادله دارای جواب‌های $\{0, \pi, 2\pi\}$ است. در غیر این صورت داریم: $\cos x \cos 2x \cos 4x = 1$ که طبق آن حاصل ضرب سه مقدار بین ۱ و -۱، برابر ۱ شده است. مانند بحث‌های مشابهی که پیش از این داشته‌ایم، باید هر سه مقدار برابر ۱ یا -۱ باشند. ولی می‌دانیم اگر $\cos x = \pm 1$ ، داریم: $\sin x = 0$ ، پس ریشه‌های این حالت را پیش از این پیدا کرده‌ایم.

۳۴- گزینهی (۱) می‌دانیم $\sin(\frac{\pi}{4} + x) = \cos x$ ، $\sin(\pi + x) = -\sin x$ و $\sin \frac{5\pi}{6} = \frac{1}{2}$ بنابراین:

$$\frac{1}{2} - \sin x \cos x = 0 \Rightarrow 2 \sin x \cos x = 1 \Rightarrow \sin 2x = 1 \Rightarrow 2x = 2k\pi + \frac{\pi}{2} \Rightarrow x = k\pi + \frac{\pi}{4}$$

۳۵- گزینهی (۴) سمت چپ تساوی همان $(\sin x + \cos x)^3$ است. پس باید تعداد جواب‌های

معادله $\sin x + \cos x = \frac{1}{\sqrt{3}}$ را بیابیم. با توجه به آن که $\sin x + \cos x = \sqrt{2} \sin(x + \frac{\pi}{4})$

نمودار $y = \sin x + \cos x$ در فاصله $[\frac{\pi}{4}, \frac{3\pi}{4}]$ مانند شکل روبه‌رو می‌شود. واضح است که خط

$y = \frac{1}{\sqrt{3}}$ این نمودار را در فاصله $[\frac{\pi}{4}, \frac{3\pi}{4}]$ تنها در یک نقطه قطع می‌کند.

۳۶- گزینهی (۳) با توجه به روابط تبدیل جمع به ضرب داریم:

$$\sin x + \sin 3x = 2 \sin 2x \cos x \Rightarrow \frac{2 \sin 2x \cos x}{\cos x} = 1 \Rightarrow \sin 2x = \frac{1}{2}, \cos x \neq 0$$

چون $0 < 2x < 4\pi$ ، مقدار برای $2x$ وجود دارد که $\sin 2x = \frac{1}{2}$.

۳۷- گزینهی (۲) می‌دانیم بیش‌ترین مقدار $\cos^4 x$ ، برابر ۱ و کم‌ترین مقدار $1 + \sqrt{\sin x}$ نیز برابر ۱ است. پس وقتی دو طرف با هم برابر می‌شوند که هر دو برابر ۱ باشند. در این صورت $\sin x = 0$ و $\cos x = \pm 1$. در فاصله‌ی موردنظر، برای $x_1 = \pi$ ، $x_2 = 2\pi$ و $x_3 = 3\pi$ این شرایط برقرار است.

۳۸- گزینهی (۳) دو زاویه‌ی $\frac{\pi}{4} - x$ و $\frac{\pi}{4} + x$ متمم‌اند، پس $\tan(\frac{\pi}{4} - x) = \cot(x + \frac{\pi}{4})$ ، بنابراین معادله به صورت

$$\tan(x + \frac{\pi}{4}) - \cot(x + \frac{\pi}{4}) = 2\sqrt{3}$$

درمی‌آید. می‌دانیم $\tan \alpha - \cot \alpha = -2 \cot 2\alpha$ ، بنابراین:

$$-2 \cot(2x + \frac{\pi}{2}) = 2\sqrt{3} \Rightarrow \cot(2x + \frac{\pi}{2}) = -\sqrt{3} \Rightarrow -\tan 2x = -\sqrt{3} \Rightarrow 2x = k\pi + \frac{\pi}{3} \Rightarrow x = \frac{k\pi}{2} + \frac{\pi}{6}$$



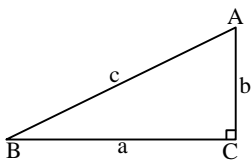
مثلثات

۳-۱: توابع مثلثاتی

بحث مثلثات یکی از بحث‌های بسیار مهم ریاضی است که اهمیت ویژه‌ای در حساب دیفرانسیل و انتگرال و علوم مهندسی دارد. شما در درس ریاضی (۱) با تعریف نسبت‌های مثلثاتی و بعضی از اتحادهای مقدماتی مربوط به آن‌ها آشنا شده‌اید. در درس ریاضی (۲) نیز دایره‌ی مثلثاتی و کاربردهای مثلثات در مسائل هندسی را آموخته‌اید. به این ترتیب حال آماده‌اید که با مثلثات به شکل مجرد و جبری‌تر از سال‌های قبل روبه‌رو شوید. در این بخش ضمن مروری کوتاه و مختصر بر آن چه پیش از این آموخته‌اید، چهار تابع اصلی مثلثاتی و نمودار آن‌ها را یاد می‌گیریم و اتحادهای مقدماتی را خواهیم آموخت.

تعریف نسبت‌های مثلثاتی برای زوایای حاده

مثلث قائم‌الزاویه‌ی ABC را با زاویه‌ی قائم \hat{C} و اضلاع c, b و a در نظر بگیرید. از روی این شکل نسبت‌های سینوس (sin) و کسینوس (cos)، تانژانت (tan) و کتانژانت (cot)، سکانت (sec) و کسکانت (csc) به صورت زیر تعریف می‌شوند:^۱



$$\begin{aligned} \sin A &= \frac{a}{c} & \cos A &= \frac{b}{c} \\ \tan A &= \frac{a}{b} & \cot A &= \frac{b}{a} \\ \csc A &= \frac{c}{a} & \sec A &= \frac{c}{b} \end{aligned}$$

ارتباط بین نسبت‌ها

با استفاده از تعریف اولیه‌ی نسبت‌های مثلثاتی می‌توان رابطه‌ی بین آن‌ها را پیدا کرد:

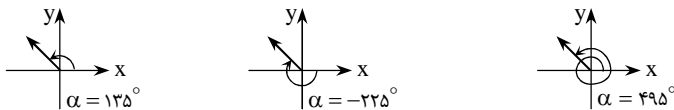
$$\begin{aligned} \tan \alpha &= \frac{\sin \alpha}{\cos \alpha}, \quad \cot \alpha = \frac{\cos \alpha}{\sin \alpha} \\ \sec \alpha &= \frac{1}{\cos \alpha}, \quad \csc \alpha = \frac{1}{\sin \alpha} \end{aligned}$$

همچنین با استفاده از رابطه‌ی فیثاغورث و استفاده از اولین تساوی فوق دو اتحاد بدیهی زیر به دست می‌آید:

$$1) \sin^2 \alpha + \cos^2 \alpha = 1 \qquad 2) \tan \alpha \cdot \cot \alpha = 1$$

زاویه‌ی مثلثاتی

در مثلثات ما فقط با زاویه‌های حاده سروکار نداریم. برای این منظور، مفهوم زاویه را به شکل جبری گسترش می‌دهیم. چنانچه می‌دانید، در صفحه‌ی مختصات یک زاویه‌ی استاندارد با جهت چرخش و میزان چرخش یک نیم‌خط مشخص می‌شود. حرکت در خلاف جهت عقربه‌های ساعت (یاد ساعتگرد) با علامت + و در جهت ساعتگرد با علامت - مشخص می‌شود. میزان چرخش نیز اندازه‌ی عددی زاویه را تعیین می‌کند. در شکل‌های زیر سه زاویه‌ی مختلف را مشخص کرده‌ایم که همگی با یک نیم‌خط مشخص شده‌اند (میزان چرخش از محور x ها تا نیم‌خط در نظر گرفته می‌شود).



^۱ - نسبت‌های مثلثاتی سکانت و کسکانت کاربرد زیادی ندارند. در این جا فقط برای کامل بودن بحث به آن‌ها اشاره کرده‌ایم.

واحد رادیان

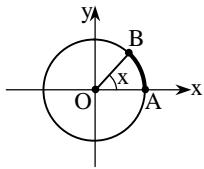
در حساب دیفرانسیل و انتگرال، برخلاف هندسه معمولاً برای زاویه از واحد رادیان استفاده می‌کنیم. در مباحث حد و مشتق در توابع مثلثاتی و فرمول‌های آن‌ها، زاویه‌ها برحسب رادیان هستند. به‌طور کلی اگر در مسأله‌ای عددی بدون علامت درجه برای اندازه‌ی یک زاویه دیدید، آن را بر حسب رادیان باید در نظر بگیرید.

یادآوری: اگر زاویه‌ای برحسب درجه اندازه‌ی D و برحسب رادیان اندازه‌ی R داشته باشد، این دو عدد را می‌توانیم با رابطه‌ی

$$\frac{D}{180} = \frac{R}{\pi} \quad \text{به هم مربوط سازیم.}$$

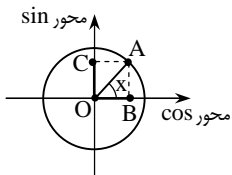
◀ **مثال:** زاویه‌ی 270° برحسب رادیان برابر است با: $\frac{270}{180} \times \pi = \frac{3\pi}{2}$ رادیان.

دایره‌ی مثلثاتی



با استفاده از دایره‌ی مثلثاتی می‌توانیم مقادیر نسبت‌های مثلثاتی را برای هر زاویه‌ی مثلثاتی (نه فقط زاویه‌های حاده) بیابیم. منظور از دایره‌ی مثلثاتی، دایره‌ای به شعاع ۱ و به مرکز مبدأ مختصات است که محورهای x و y دو قطر آن هستند. با توجه به آن که شعاع دایره ۱ است، پس طول کمان AB ، از نظر عددی با اندازه‌ی زاویه‌ی مقابل آن (یعنی x) برابر است.

محورهای سینوس و کسینوس

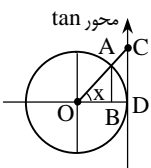


می‌توانیم دو محور عمودی قطر دایره را به‌عنوان محورهای $\sin x$ و $\cos x$ در نظر بگیریم. به این ترتیب برای به‌دست آوردن سینوس و کسینوس یک زاویه مانند x ، کافی است از نقطه‌ی انته‌ای کمان متناظر آن روی دایره (یعنی نقطه‌ی A در شکل) به این دو محور خط‌هایی عمود کنیم. پاهای عمود مقادیر $\sin x$ و $\cos x$ را نشان می‌دهند. برای زاویه‌های حاده مانند شکل بالا، به راحتی می‌توان نشان داد که این تعریف با تعریف اولیه‌ی نسبت‌ها سازگار است. چون $OA = 1$ و در مثلث قائم‌الزاویه‌ی OAB داریم: $\cos x = \frac{OB}{OA}$. با توجه به $OA = 1$ نتیجه می‌گیریم $OB = \cos x$.

◀ **تذکره:** با توجه به تعریف بالا اگر انته‌ای کمان x در یکی از چهار ربع دایره باشد، می‌توانیم علامت نسبت‌ها را به راحتی تعیین کنیم:

انته‌ای کمان متناظر x	ربع اول	ربع دوم	ربع سوم	ربع چهارم
$\sin x$	+	+	-	-
$\cos x$	+	-	-	+

محورهای تانژانت و کتانژانت

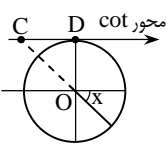


برای دایره‌ی مثلثاتی می‌توانیم خطی مماس بر دایره مطابق شکل رسم کنیم و آن را محور تانژانت در نظر بگیریم. به این ترتیب برای به‌دست آوردن تانژانت یک زاویه مانند x کافی است نیم‌خط آن زاویه را امتداد دهیم تا محور را در نقطه‌ای قطع کند (در شکل نقطه‌ی C). این نقطه همان $\tan x$ را روی محور نشان می‌دهد. برای توجیه دقت کنید $AB = \sin x$ و $OB = \cos x$. از طرفی طبق قضیه‌ی تالس در مثلث OCD داریم:

$$\frac{AB}{CD} = \frac{OB}{OD} \xrightarrow{OD=1} \frac{AB}{CD} = OB \Rightarrow CD = \frac{AB}{OB} \Rightarrow CD = \frac{\sin x}{\cos x} \Rightarrow CD = \tan x$$

شبهه محور تانژانت، می‌توانیم خطی مماس بر دایره مانند شکل روبه‌رو رسم کنیم و آن را محور کتانژانت در نظر بگیریم. برای پیدا کردن کتانژانت هر زاویه کافی است نیم‌خط آن زاویه را امتداد دهیم تا محور را قطع کند. به این ترتیب نقطه‌ی قطع شده، مقدار $\cot x$ را نشان می‌دهد.

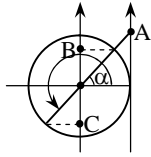
برای تمرین با روش مشابه روش ما برای تانژانت، در شکل روبه‌رو نشان دهید که $\cot x = -CD$ (چرا از علامت - استفاده کرده‌ایم؟)





◀ **تذکره:** با توجه به محور تانژانت واضح است که اگر $n \in \mathbb{Z}$ ، آن گاه $\tan(n\pi + \frac{\pi}{4})$ تعریف نشده است، زیرا نیم خط زاویه با محور تانژانت موازی می شود. به همین ترتیب $\cot(n\pi)$ نیز تعریف نشده است.

روابط بین نسبت های مثلثاتی بر اساس دایره ی مثلثاتی



با استفاده از دایره ی مثلثاتی می توانیم به راحتی ارتباط بین نسبت های مثلثاتی زوایایی چون α ، $\pi \pm \alpha$ ، $\frac{\pi}{2} \pm \alpha$ و ... را به دست آوریم.

برای مثال زاویه ی α و $\pi + \alpha$ را در نظر بگیرید. انتهای کمان این دو زاویه نسبت به مبدأ متقارن است. مثلاً با توجه به شکل، اگر نیم خط های این دو زاویه را امتداد دهیم هر دو در یک نقطه محور تانژانت را قطع می کنند (نقطه ی A در شکل)، پس $\tan(\pi + \alpha) = \tan \alpha$.

به همین ترتیب، می بینید که پای عمودهای انتهای کمان ها بر محور سینوس ها دو نقطه ی قرینه می شود (نقاط B و C)، پس $\sin(\pi + \alpha) = -\sin \alpha$.

با استفاده از دایره ی مثلثاتی روابط متنوعی از این نوع می توانیم به دست آوریم که مهم ترین آن ها در نکته ی زیر آمده است (اثبات آن ها به خودتان واگذار شده است).

نکته:

برای هر زاویه ی α و هر عدد صحیح n روابط زیر برقرار است:

۱- تمام نسبت های مثلثاتی α و $2n\pi + \alpha$ کاملاً یکسان اند.

۲- داریم: $\sin(n\pi + \alpha) = (-1)^n \sin \alpha$ و $\cos(n\pi + \alpha) = (-1)^n \cos \alpha$.

همچنین داریم: $\tan(n\pi + \alpha) = \tan \alpha$ و $\cot(n\pi + \alpha) = \cot \alpha$.

۳- داریم: $\cos(-\alpha) = \cos \alpha$ ، ولی سه نسبت دیگر زاویه های α و $-\alpha$ قرینه اند.

۴- داریم: $\sin(\pi - \alpha) = \sin \alpha$ ، ولی سه نسبت دیگر زاویه های α و $\pi - \alpha$ قرینه اند.

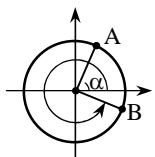
◀ **تذکره:** توصیه می کنیم که از حفظ کردن روابط بالا خودداری کنید. با هر بار رجوع به دایره ی مثلثاتی، هر چند در ابتدا سرعت کمی دارید، ولی به مرور بر این روابط به خودی خود مسلط می شوید و البته هیچ وقت آن ها را فراموش نمی کنید.

نکته:

ارتباط نسبت های مثلثاتی α و $n\frac{\pi}{4} \pm \alpha$ (n عدد فرد)

در این موارد جای سینوس و کسینوس (و همچنین تانژانت و کتانژانت) در دو زاویه عوض می شود. ممکن است علاوه بر تعویض، علامت هم عوض شود که تغییر علامت را با توجه به جایگاه زاویه در دایره ی مثلثاتی می توان متوجه شد.

◀ **مثال:** فرض کنید می خواهیم ارتباط نسبت های مثلثاتی α و $\frac{3\pi}{4} + \alpha$ را به دست آوریم.



برای $\sin(\frac{3\pi}{4} + \alpha)$ می دانیم باید از $\cos \alpha$ استفاده کنیم (تغییر \sin و \cos)، همچنین با توجه به شکل برای یک

زاویه ی مثالی α ، $\cos \alpha$ مثبت و $\sin(\frac{3\pi}{4} + \alpha)$ منفی است. بنابراین: $\sin(\frac{3\pi}{4} + \alpha) = -\cos \alpha$

با استدلالی مشابه نتیجه می گیریم $\cos(\frac{3\pi}{4} + \alpha) = \sin \alpha$ (چرا این جا علامت منفی نداریم؟)، همچنین

$\tan(\frac{3\pi}{4} + \alpha) = -\cot \alpha$ و $\cot(\frac{3\pi}{4} + \alpha) = -\tan \alpha$.

○ **مسئله ی (۱):** حاصل هر یک از عبارات زیر را بیابید.

(ب) $B = \sin(\frac{n\pi}{2}) + \cos(\frac{n\pi}{2})$ ($n \in \mathbb{N}$)

(الف) $A = 2 \cos(-\frac{125\pi}{4}) + 3 \tan(\frac{125\pi}{4}) + 4 \cot(-\frac{125\pi}{4})$

حل: الف) با توجه به دایره‌ی مثلثاتی داریم: $\cot(-\alpha) = -\cot \alpha$ و $\cos(-\alpha) = \cos \alpha$. در نتیجه:

$$A = 2 \cos\left(3\pi + \frac{\pi}{4}\right) + 3 \tan\left(3\pi + \frac{\pi}{4}\right) - 4 \cot\left(3\pi + \frac{\pi}{4}\right)$$

$$= 2 \times (-1)^{31} \cos\left(\frac{\pi}{4}\right) + 3 \tan\left(\frac{\pi}{4}\right) - 4 \cot\left(\frac{\pi}{4}\right) = 2 \times (-1)^{31} \times \frac{1}{\sqrt{2}} + 3 \times 1 - 4 \times 1 = -\sqrt{2} - 1$$

ب) مسأله را به دو حالت تقسیم می‌کنیم (حالت زوج بودن n و حالت فرد بودن n):

$$۱) n = 2k \rightarrow B = \sin k\pi + \cos k\pi = 0 + (-1)^k = (-1)^k$$

$$۲) n = 2k + 1 \rightarrow B = \sin\left(k\pi + \frac{\pi}{2}\right) + \cos\left(k\pi + \frac{\pi}{2}\right) = (-1)^k + 0 = (-1)^k$$

◀ **تذکره:** با توجه به این که در هر دو حالت $n = 2k$ و $n = 2k + 1$ ، داریم $k = \left[\frac{n}{2}\right]$ ، پس می‌توان دو نتیجه‌ی بالا را به صورت زیر با هم ترکیب کرد:

$$\sin\left(\frac{n\pi}{2}\right) + \cos\left(\frac{n\pi}{2}\right) = (-1)^{\left[\frac{n}{2}\right]}$$

◀ اتحادهای مثلثاتی مقدماتی

با استفاده از دو رابطه‌ی اصلی $\sin^2 \alpha + \cos^2 \alpha = 1$ و $\tan \alpha \cot \alpha = 1$ و ارتباط مقدماتی بین نسبت‌های مثلثاتی می‌توانیم چند اتحاد ساده و پرکاربرد را به‌دست آوریم: (اثبات این اتحادهای ساده را به خودتان واگذار می‌کنیم)

$$۱) 1 + \tan^2 \alpha = \frac{1}{\cos^2 \alpha}$$

$$۲) 1 + \cot^2 \alpha = \frac{1}{\sin^2 \alpha}$$

$$۳) \cos^2 \alpha = \frac{1}{1 + \tan^2 \alpha}$$

$$۴) \sin^2 \alpha = \frac{\tan^2 \alpha}{1 + \tan^2 \alpha}$$

○ **مسأله‌ی (۲):** هر یک از اتحادهای زیر را ثابت کنید.

$$\frac{(1 - \sin x \cos x)(1 + \sin x \cos x) - \sin^2 x \cos^2 x}{\cos^4 x + \sin^4 x} = 1 \quad (\text{الف})$$

$$\frac{\sin^3 x + \cos^3 x}{\sin x + \cos x} = 1 - \sin x \cos x \quad (\text{ب})$$

$$\frac{\sin^3 x}{1 + \tan^2 x} - \frac{\cos^3 x}{1 + \cot^2 x} + \sec^2 x = 1 + \tan^2 x \quad (\text{پ})$$

$$\frac{2(1 - \sin^3 x - \cos^3 x)}{\sin x + \cos x + 2} = (1 - \sin x - \cos x)^2 \quad (\text{ت})$$

حل: الف) از یک طرف تساوی (در این مثال طرف چپ که آن را A می‌نامیم) شروع می‌کنیم و با ساده‌کردن آن به طرف دیگر می‌رسیم:

$$A = \frac{1 - \sin^2 x \cos^2 x - \sin^2 x \cos^2 x}{\sin^4 x + \cos^4 x} = \frac{1 - 2 \sin^2 x \cos^2 x}{\sin^4 x + \cos^4 x}$$

حال با توجه به $\sin^2 x + \cos^2 x = 1$ داریم:

$$A = \frac{(\sin^2 x + \cos^2 x)^2 - 2 \sin^2 x \cos^2 x}{\sin^4 x + \cos^4 x} = \frac{\sin^4 x + \cos^4 x}{\sin^4 x + \cos^4 x} = 1$$

ب) طبق اتحاد چاق و لاغر می‌توان نوشت:

$$\sin^3 x + \cos^3 x = (\sin x + \cos x)(\sin^2 x - \sin x \cos x + \cos^2 x)$$

$$\Rightarrow \sin^3 x + \cos^3 x = (\sin x + \cos x)(1 - \sin x \cos x)$$

با تقسیم دو طرف تساوی بر $\sin x + \cos x$ اتحاد ثابت می‌شود.



(پ) ابتدا با ساده کردن دو جزء از مجموع سمت چپ تساوی داریم:

$$\frac{\sin^2 x}{1 + \tan^2 x} - \frac{\cos^2 x}{1 + \cot^2 x} = \frac{\sin^2 x}{\cos^2 x} - \frac{\cos^2 x}{\sin^2 x} = (\sin x \cos x)^2 - (\sin x \cos x)^2 = 0$$

بنابراین طرف چپ برابر است با:

$$0 + \sec^2 x = \frac{1}{\cos^2 x} = 1 + \tan^2 x$$

(ت) فرض می‌کنیم $\sin x + \cos x = t$ و $\sin^2 x + \cos^2 x = 1$ را بر حسب t می‌یابیم. داریم:

$$t^2 = (\sin x + \cos x)^2 = 1 + 2 \sin x \cos x \Rightarrow \sin x \cos x = \frac{t^2 - 1}{2}$$

از طرفی مانند قسمت (ب) می‌توان ثابت کرد:

$$\sin^3 x + \cos^3 x = (\sin x + \cos x)(1 - \sin x \cos x) \Rightarrow \sin^3 x + \cos^3 x = t(1 - \frac{t^2 - 1}{2}) = \frac{t}{2}(3 - t^2)$$

به این ترتیب با شروع از طرف چپ تساوی داریم:

$$\frac{2(1 - (\sin^2 x + \cos^2 x))}{\sin x + \cos x + 2} = \frac{2(1 - \frac{t}{2}(3 - t^2))}{t + 2} = \frac{2 - 3t + t^3}{t + 2} = \frac{(t + 2)(t^2 - 2t + 1)}{t + 2} = (t - 1)^2 = (\sin x + \cos x - 1)^2$$

تست (۱): حاصل عبارت $\frac{\sin^4 x + \cos^4 x}{\sin^2 x \cos^2 x} - (\tan x + \cot x)^2$ کدام است؟ (آزاد - ۸۳)

(۱) -۲ (۲) ۲ (۳) -۱ (۴) صفر

حل: با استفاده از تساوی $\sin^4 x + \cos^4 x = 1 - 2 \sin^2 x \cos^2 x$ داریم:

$$\begin{aligned} \frac{\sin^4 x + \cos^4 x}{\sin^2 x \cos^2 x} - (\tan x + \cot x)^2 &= \frac{1 - 2 \sin^2 x \cos^2 x}{\sin^2 x \cos^2 x} - \left(\frac{\sin^2 x + \cos^2 x}{\sin x \cos x}\right)^2 \\ &= \frac{1 - 2 \sin^2 x \cos^2 x}{\sin^2 x \cos^2 x} - \frac{1}{\sin^2 x \cos^2 x} = -2 \end{aligned}$$

بنابراین گزینه‌ی (۱) درست است.

مسئله‌ی (۳): اگر عبارت زیر برای جميع مقادیر x یک اتحاد باشد، a و b را بیابید.

$$(a + b \sin x - b \cos x)^2 = 2(1 - \sin x)(1 + \cos x)$$

حل: یک تساوی در صورتی اتحاد است که برای تمام مقادیر دامنه‌ی آن برقرار باشد.

(راه اول): فرض کنید: $\sin x - \cos x = t$. در این صورت داریم (برای سادگی محاسبات قرار داده‌ایم $\sin x \cos x = y$):

$$t^2 = (\sin x - \cos x)^2 = 1 - 2 \sin x \cos x = 1 - 2y$$

با جای‌گذاری این نتیجه در تساوی اولیه به‌دست می‌آوریم:

$$(a + bt)^2 = 2(1 - t - y) \Rightarrow a^2 + b^2 t^2 + 2abt = 2 - 2t - 2y \xrightarrow{t^2 = 1 - 2y} a^2 + b^2(1 - 2y) + 2abt = 2 - 2t - 2y$$

با مرتب‌کردن دو طرف تساوی به‌دست می‌آوریم:

$$a^2 + b^2 + (2ab)t + (-2b^2)y = 2 - 2t - 2y$$

برای آن‌که تساوی فوق یک اتحاد باشد، باید ضرایب دو طرف مساوی باشند. یعنی:

$$\{a^2 + b^2 = 2, 2ab = -2, -2b^2 = -2\} \Rightarrow (a, b) = (1, -1) \text{ یا } (-1, 1)$$

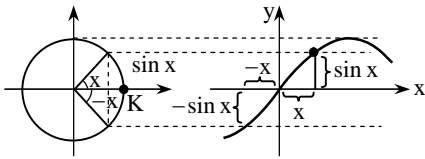
(راه دوم): چون تساوی باید برای هر مقدار x برقرار باشد، برای $x = 0$ و $x = \pi$ نیز صادق است. با جای‌گذاری این مقادیر به دو معادله می‌رسیم

که از حل دستگاه آن‌ها مقادیر a و b به‌دست می‌آید.

توابع مثلثاتی

اگر ورودی یک تابع، زاویه‌ای برحسب رادیان باشد و خروجی آن یکی از نسبت‌های مثلثاتی قبل یا عبارتی شامل آن‌ها، در واقع با یک تابع مثلثاتی مواجه‌ایم. با استفاده از توابع مثلثاتی می‌توانیم بسیاری از پدیده‌های طبیعی را مدل کنیم، چرا که در بسیاری پدیده‌ها با روندی تناوبی مواجه‌ایم و چنانچه در فصل ۲ دیده‌اید، بخش مهمی از توابع متناوب، تابع‌های مثلثاتی هستند.

با استفاده از دایره‌ی مثلثاتی می‌توانیم درکی از نمودار توابع مثلثاتی داشته باشیم. برای مثال، تابع $f(x) = \sin x$ را در نظر بگیرید. این تابع به هر زاویه‌ی x ، مقدار $\sin x$ را نسبت می‌دهد. به شکل روبه‌رو دقت کنید.

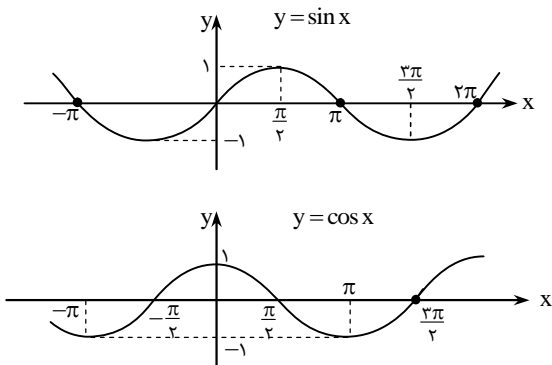


می‌بینید که چگونه x ، $-\sin x$ و $\sin(-x)$ را روی نمودار تابع f با طول‌های متناظر روی دایره تطبیق داده‌ایم. در واقع اگر شما از نقطه‌ی K روی دایره شروع به حرکت در خلاف جهت عقربه‌های ساعت کنید، مانند آن است که از مبدأ مختصات روی نمودار تابع $y = \sin x$ در حال حرکتید. در هر لحظه فاصله‌ی عمودی شما تا محور x ها برابر فاصله‌ی عمودی شما در دایره تا محور x ها است.

با توجه به این توضیح می‌توانیم نمودار توابع مثلثاتی را رسم کنیم. در ادامه ما نمودار چهار تابع اصلی را بررسی می‌کنیم.

توابع $y = \cos x$ و $y = \sin x$

نمودار این دو تابع را در دو شکل مقابل مشاهده می‌کنید. چنانچه می‌بینید دو نمودار شباهت‌هایی دارند. هر دو دارای بیش‌ترین مقدار ۱ و کم‌ترین مقدار -۱ هستند.



در واقع نمودار $y = \cos x$ همان نمودار $y = \sin x$ است که به اندازه‌ی $\frac{\pi}{2}$ واحد به چپ انتقال یافته است. این نتیجه معادل اتحاد

$$\cos x = \sin\left(x + \frac{\pi}{2}\right) \text{ است.}$$

نکته:

ویژگی‌های اصلی نمودارهای $y = \cos x$ و $y = \sin x$

۱- هر دو نمودار بین خطوط $y = 1$ و $y = -1$ واقع‌اند (این دو خط بر نمودارها مماس‌اند).

۲- نمودار $y = \sin x$ در نقاط $x = n\pi$ و نمودار $y = \cos x$ در نقاط $x = n\pi + \frac{\pi}{2}$ با محور x ها برخورد می‌کنند. ($n \in \mathbb{Z}$)

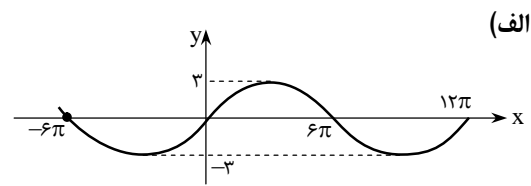
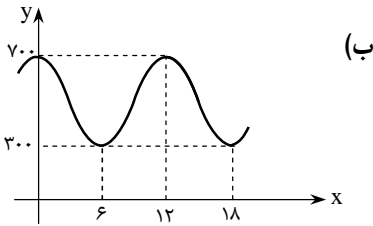
۳- نمودار $y = \sin x$ در نقاط به طول $x = n\pi + \frac{\pi}{2}$ بر یکی از دو خط $y = \pm 1$ مماس است و نمودار $y = \cos x$ در نقاط به طول $x = n\pi$. ($n \in \mathbb{Z}$)

۴- دوره‌ی تناوب هر دو نمودار $T = 2\pi$ است.

۵- تابع $y = \sin x$ فرد است و نمودار آن نسبت به مبدأ متقارن است.

۶- تابع $y = \cos x$ زوج است و نمودار آن نسبت به محور y ها متقارن است.

مسئله (۴): در شکل‌های زیر نمودار توابعی مثلثاتی رسم شده است. ضابطه‌ی آن‌ها را بیابید. (دقت کنید که مقیاس‌های دو محور مساوی نیستند!)



حل: (الف) نمودار تابع شبیه نمودار $y = \sin x$ است که در جهت افقی و عمودی باز شده است. اگر قرار دهیم $f(x) = a \sin bx$ داریم:

۱- چون بیش‌ترین و کم‌ترین مقدار تابع برابر ۳ و -۳ است، پس $a = 3$.

۲- چون دوره‌ی تناوب تابع 12π است، پس $\frac{2\pi}{|b|} = 12\pi$ ، بنابراین $b = \frac{1}{6}$ (چرا $b > 0$ ؟). به این ترتیب نتیجه می‌گیریم $f(x) = 3 \sin \frac{x}{6}$.

(ب) نمودار تابع شبیه نمودار $y = \cos x$ است که در جهت افقی و عمودی تغییر مقیاس داده و سپس به بالا منتقل شده است. اگر قرار دهیم $f(x) = a \cos bx + c$ داریم:

۱- بیش‌ترین و کم‌ترین مقدار تابع از روی نمودار 300 و 700 و از روی ضابطه $a + c$ و $-a + c$ است، پس $a = 200$ و $c = 500$.

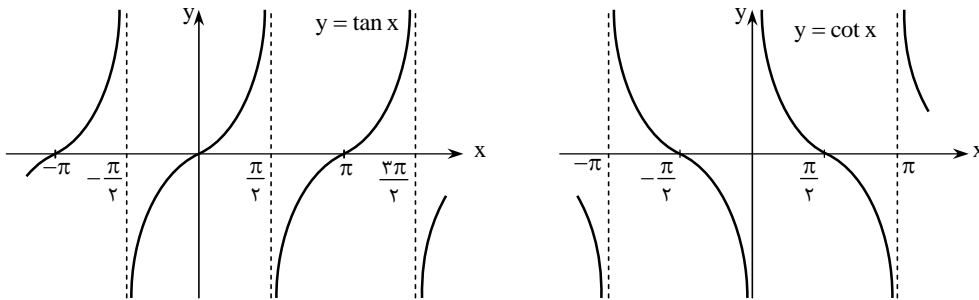
۲- دوره‌ی تناوب تابع 12 است، پس $\frac{2\pi}{|b|} = 12$ ، بنابراین $b = \frac{\pi}{6}$.

به این ترتیب نتیجه می‌گیریم $f(x) = 200 \cos\left(\frac{\pi}{6}x\right) + 500$.

توابع $y = \tan x$ و $y = \cot x$

در شکل‌های مقابل نمودار این دو تابع را رسم کرده‌ایم. چنان‌چه می‌بینید نمودار این دو تابع شبیه یکدیگر است. در واقع اگر نمودار $y = \tan x$ را نسبت به محور y قرینه کنیم و سپس آن را به اندازه‌ی $\frac{\pi}{2}$ واحد به راست منتقل کنیم به نمودار $y = \cot x$ می‌رسیم. این نتیجه معادل اتحاد

$$\cot x = \tan\left(\frac{\pi}{2} - x\right) \text{ است.}$$



از نکات قابل توجه در نمودارهای دو تابع بالا، وجود خط‌چین‌های عمودی است. می‌دانیم دامنه‌ی این توابع \mathbb{R} نیست، به همین دلیل برای بعضی مقادیر تعریف نشده‌اند. در این مقادیر خط‌چین‌های عمودی رسم شده‌اند. اصطلاحاً به این خط‌چین‌های عمودی «مجانبات قائم» می‌گوییم. می‌بینید که وقتی به این خطوط نزدیک می‌شویم، مقدار تابع به سرعت زیاد یا به سرعت کم می‌شود (اصطلاحاً به $+\infty$ یا $-\infty$ میل می‌کند).

نکته:

ویژگی‌های اصلی نمودارهای $y = \tan x$ و $y = \cot x$

۱- تابع $y = \tan x$ مجانب‌های قائمی در نقاط $x = n\pi + \frac{\pi}{2}$ دارد و تابع $y = \cot x$ در نقاط $x = n\pi$ (که $n \in \mathbb{Z}$). به ازای این

مقادیر توابع تعریف نشده‌اند.

۲- دوره‌ی تناوب هر دو تابع برابر π است.

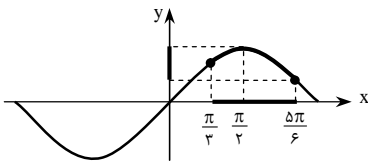
۳- در یک دوره‌ی تناوب با شروع از یک خط مجانب، تابع $y = \tan x$ صعودی اکید و تابع $y = \cot x$ نزولی اکید است.

۴- هر دو تابع فرد و نمودارهای آن‌ها نسبت به مبدأ مختصات متقارن هستند.

○ **مسئله (۵): الف)** اگر $x \in (\frac{\pi}{3}, \frac{5\pi}{6})$ و $\sin x = \frac{3-m^2}{3+m^2}$ ، مقدار m در چه فاصله‌ای قرار دارد؟

ب) اگر $\alpha \in (\frac{\pi}{4}, \frac{3\pi}{4})$ و $\sin 2\alpha = \frac{m}{1+2m}$ ، حدود تغییرات m را بیابید.

حل: الف) به نمودار تابع $y = \sin x$ توجه کنید:

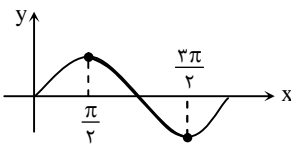


فاصله‌ی $x \in (\frac{\pi}{3}, \frac{5\pi}{6})$ روی محور طول‌ها فاصله‌ای را مشخص می‌کند که متناظر آن روی نمودار قسمت مورد نظر پررنگ‌تر شده است. به این ترتیب محدوده‌ی تغییرات $\sin x$ (یا همان برد تابع) نیز مشخص شده است. با توجه به این که $\sin(\frac{\pi}{3}) = \frac{\sqrt{3}}{2}$ و $\sin(\frac{5\pi}{6}) = \frac{1}{2}$ ، در این فاصله داریم:

$$\frac{1}{2} \leq \sin x \leq 1 \Rightarrow \frac{1}{2} \leq \frac{3-m^2}{3+m^2} \leq 1 \Rightarrow \frac{3-m^2}{3+m^2} \geq \frac{1}{2} \Rightarrow \frac{3-3m^2}{3+m^2} \geq 0 \xrightarrow{3+m^2 > 0} 3-3m^2 \geq 0 \Rightarrow |m| \leq 1$$

$$\left. \begin{aligned} \frac{1}{2} \leq \frac{3-m^2}{3+m^2} &\Rightarrow \frac{3-m^2}{3+m^2} - \frac{1}{2} \geq 0 \Rightarrow \frac{3-3m^2}{3+m^2} \geq 0 \xrightarrow{3+m^2 > 0} 3-3m^2 \geq 0 \Rightarrow |m| \leq 1 \\ \frac{3-m^2}{3+m^2} \leq 1 &\Rightarrow \frac{3-m^2}{3+m^2} - 1 \leq 0 \Rightarrow \frac{-2m^2}{3+m^2} \leq 0 \xrightarrow{3+m^2 > 0} -2m^2 \leq 0 \Rightarrow m \in \mathbb{R} \end{aligned} \right\} \Rightarrow m \in [-1, 1]$$

ب) داریم: $\frac{\pi}{2} \leq 2\alpha \leq \frac{3\pi}{2}$. این فاصله را در نمودار تابع $y = \sin x$ پررنگ کرده‌ایم. بنابراین:



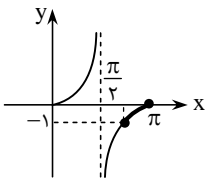
$$-1 \leq \sin 2\alpha \leq 1 \Rightarrow \left| \frac{m}{1+2m} \right| \leq 1 \Rightarrow m^2 \leq 4m^2 + 4m + 1 \Rightarrow 3m^2 + 4m + 1 \geq 0$$

$$\Rightarrow (m+1)(3m+1) \geq 0 \Rightarrow m \in \mathbb{R} - (-1, -\frac{1}{3})$$

تست (۲): با فرض $\frac{3\pi}{4} < \alpha < \pi$ و $\tan \alpha = \frac{2}{m-1}$ ، حدود تغییرات m کدام است؟

$$m < -1 \quad (۱) \quad m < 1 \quad (۲) \quad -1 < m < 1 \quad (۳) \quad -2 < m < 2 \quad (۴)$$

حل: با توجه به نمودار $y = \tan x$ ، در فاصله‌ی $\frac{3\pi}{4} < x < \pi$ ، داریم: $-1 < y < 0$. پس می‌توان نوشت:

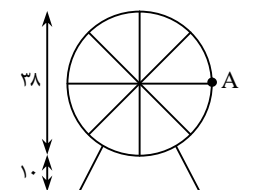


$$-1 < \frac{2}{m-1} < 0 \Rightarrow \begin{cases} \frac{2}{m-1} > -1 \Rightarrow \frac{m+1}{m-1} > 0 \Rightarrow m \in (-\infty, -1) \cup (1, +\infty) \\ \frac{2}{m-1} < 0 \Rightarrow m \in (-\infty, 1) \end{cases}$$

اشتراک دو جواب بالا برابر است با: $m \in (-\infty, -1)$. بنابراین گزینه‌ی (۱) درست است.

مدل‌سازی ریاضی با توابع مثلثاتی

بسیاری از حرکت‌ها و تغییرات تناوبی را می‌توانیم با توابع مثلثاتی مدل کنیم.



○ **مسئله (۶):** پایین‌ترین نقطه‌ی یک چرخ و فلک به قطر ۳۸ متر از سطح زمین ۱۰ متر فاصله دارد. این چرخ و فلک در هر ۸ دقیقه یک دور می‌زند. اگر در نخستین لحظه در نقطه‌ی A باشیم، با هر دور چرخش چرخ و فلک به نقطه‌ی A بازمی‌گردیم.

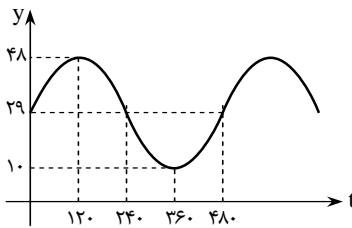
الف) اگر زاویه‌ی چرخش را به صورت تابعی از زمان نشان دهیم، دوره‌ی تناوب این تابع چقدر است؟
ب) اگر ارتفاع خود از سطح زمین را با $h(t)$ (تابعی از زمان) نشان دهیم، ضابطه‌ی $h(t)$ را به دست آورید و نمودار آن را رسم کنید.



حل: الف) در هر $۸ \times ۶۰ = ۴۸۰$ ثانیه، ۲π رادیان دور می‌زنیم. پس دوره‌ی تناوب $\frac{۲\pi}{۴۸۰} = \frac{\pi}{۲۴۰}$ می‌شود.

ب) بیش‌ترین ارتفاع ۳۸ و کم‌ترین ۱۰ است. در لحظه‌ی اول نیز در ارتفاع ۲۹ متری هستیم. به این ترتیب نمودار تابع به شکل روبه‌رو می‌شود (هر ربع حرکت در ۲ دقیقه یا ۱۲۰ ثانیه طی می‌شود). می‌توانیم قرار دهیم $h(t) = a \sin bt + c$ ، پس $a + c = ۴۸$ و $-a + c = ۱۰$ ، یعنی $c = ۲۹$ و $a = ۱۹$. همچنین با توجه به دوره‌ی تناوب تابع، داریم $\frac{۲\pi}{b} = ۴۸۰$ ، پس

$$b = \frac{\pi}{۲۴۰} \text{ به این ترتیب نتیجه می‌گیریم:}$$



$$h(t) = 19 \sin\left(\frac{\pi}{240}t\right) + 29$$

تمرین‌های بخش ۳-۱

۱- هر یک از تساوی‌های زیر را ثابت کنید.

$$\frac{\sin 60^\circ \cos 60^\circ \tan 60^\circ \csc 60^\circ \sec 60^\circ \cot 60^\circ}{\sin 80^\circ \cos 80^\circ \tan 80^\circ \csc 80^\circ \sec 80^\circ \cot 80^\circ} = 1 \quad (\text{الف})$$

$$\sin 24^\circ + \sin 21^\circ + \sin 18^\circ + \sin 15^\circ + \sin 12^\circ + \sin 9^\circ = 1 \quad (\text{ب})$$

۲- حاصل هر یک از عبارات زیر را به ساده‌ترین صورت بنویسید.

$$A = \cos\left(a + 3\pi\right) \sin\left(a + \frac{\pi}{4}\right) + \tan\left(a - \delta\pi\right) \cot\left(a + 7\pi\right) \quad (\text{الف})$$

$$B = \frac{\log_a (\tan 1^\circ) + \log_a (\tan 2^\circ) + \dots + \log_a (\tan 89^\circ)}{1 + \log_a (\tan 1^\circ) \times \log_a (\tan 2^\circ) \times \dots \times \log_a (\tan 89^\circ)} \quad (\text{ب})$$

۳- هر یک از اتحادهای زیر را ثابت کنید.

$$(x \sin \theta - y \cos \theta)^2 + (x \cos \theta + y \sin \theta)^2 = x^2 + y^2 \quad (\text{الف})$$

$$(r \sin \theta \cos \varphi)^2 + (r \sin \theta \sin \varphi)^2 + (r \cos \theta)^2 = r^2 \quad (\text{ب})$$

$$\sin x \cos x (1 + \tan x)(1 + \cot x) = (\sin x + \cos x)^2 \quad (\text{پ})$$

$$\sec^4 x - \sec^2 x = \tan^4 x + \tan^2 x \quad (\text{ت})$$

$$(\sin^6 x + \cos^6 x - 1)^2 = 27 \sin^6 x \cos^6 x \quad (\text{ث})$$

$$\frac{1}{\sin^4 x} + \frac{1}{\tan^4 x} = 1 + 2 \cot^2 x + 2 \cot^4 x \quad (\text{ج})$$

۴- هر یک از اتحادهای زیر را ثابت کنید.

$$\left(0 < x < \frac{\pi}{2}\right) \quad \sqrt{\frac{1 + \sin x}{1 - \sin x}} - \sqrt{\frac{1 - \sin x}{1 + \sin x}} = 2 \tan x \quad (\text{الف})$$

$$\frac{\sin x + \cos x}{\sin x - \cos x} + \frac{2 \cos^2 x - 1}{\cos^2 x (1 - \tan^2 x)} = \frac{2 \tan x}{\tan x - 1} \quad (\text{ب})$$

$$\frac{1 - \cos \alpha}{(1 + \tan^2 \alpha)^2} = \frac{1}{(1 + \cos \alpha)(3 + \cot^2 \alpha + 3 \tan^2 \alpha + \tan^4 \alpha)} \quad (\text{پ}) \quad *$$

$$5- \text{اگر } \tan \alpha = \frac{2}{3} \text{، حاصل } \frac{\sin\left(\alpha - \frac{\pi}{2}\right) + \sin(3\pi + \alpha)}{\cos\left(\frac{3\pi}{2} + \alpha\right) + \cos(\alpha - \pi)} \text{ را به دست آورید.}$$

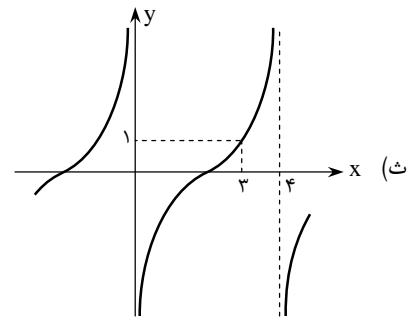
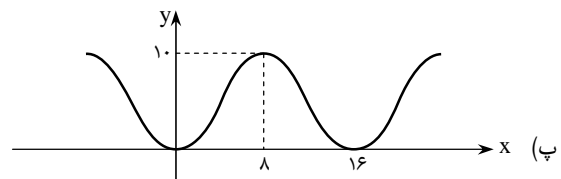
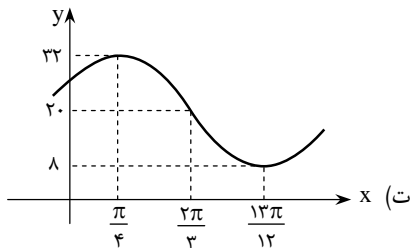
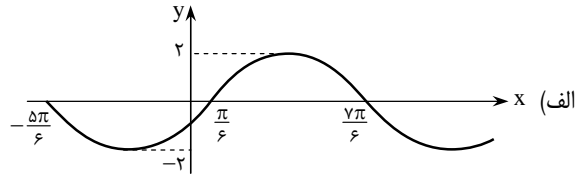
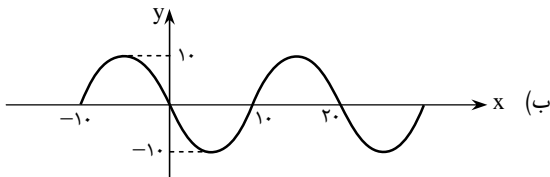
-۶ اگر $\begin{cases} \tan x + \tan y = 3 \\ \cot x + \cot y = 5 \end{cases}$ ، آن گاه حاصل $\frac{\tan x}{\tan y} + \frac{\cot x}{\cot y}$ را به دست آورید.

-۷ با فرض $\tan\left(\frac{\pi}{1386}\right) \approx 0.002$ حاصل $\frac{1}{1 + \tan\left(\frac{\pi}{1386}\right)} + \frac{1}{1 + \cot\left(\frac{\pi}{1386}\right)}$ را به دست آورید.

-۸ مقدار m را چنان بیابید که تابع زیر، تابعی ثابت باشد.

$$F(x) = \sin^6 x + \cos^6 x + m(\sin^4 x + \cos^4 x)$$

-۹ در شکل‌های زیر نمودار چند تابع مثلثاتی رسم شده است. ضابطه‌ی آن‌ها را به دست آورید. (مقیاس‌های روی محورها برابر نیستند!)



-۱۰ اگر $x \in \left(-\frac{\pi}{6}, \pi\right)$ و $\sin x = \frac{4-m}{m+1}$ ، محدوده‌ی تغییرات m را به دست آورید.

-۱۱ اگر $\alpha \in \left(-\frac{\pi}{4}, \frac{\pi}{3}\right)$ و $2m \cos 2\alpha - 1 = m$ ، محدوده‌ی تغییرات m را به دست آورید.

-۱۲ اگر $x \in \left(\frac{\pi}{4}, \frac{3\pi}{4}\right)$ ، برد توابع $y = \tan x$ ، $y = \cot x$ ، $y = 2 \cos^3 x - 1$ و $y = \pi \sin\left(-x + \frac{\pi}{4}\right)$ را به دست آورید.


-۱۳ عمق آب در یک منطقه‌ی دریایی در ساعات مختلف شبانه روز مطابق جدول زیر تغییر می‌کند:

زمان (ساعت)	۰	۲	۴	۶	۸	۱۰	۱۲
عمق (متر)	۳/۱	۷/۸	۱۱/۳	۱۰/۹	۶/۶	۱/۷	۰/۹

می‌دانیم بیش‌ترین و کم‌ترین عمق آب را یادداشت کرده‌ایم. همچنین روند تغییر عمق متناوب با مدلی مثلثاتی است.

(الف) اگر عمق آب را بر حسب زمان به صورت تابع $h(t)$ بیان کنیم، دوره‌ی تناوب و ضابطه‌ی $h(t)$ را بیابید.

(ب) اگر یک قایق برای حرکت در این منطقه به حداقل عمق ۱۰ متر آب نیاز داشته باشد، در چه ساعت‌هایی از شبانه‌روز می‌تواند در این منطقه حرکت کند؟



توابع مثلثاتی

پرسش‌های چهارگزینه‌ای

- ۱- اگر $\sin \alpha = -\frac{2\sqrt{2}}{3}$ و انتهای کمان α در ناحیه‌ی چهارم دایره‌ی مثلثاتی باشد، مقدار $\sin(\frac{3\pi}{2} - \alpha)$ کدام است؟
- (۱) $-\frac{1}{3}$ (۲) $\frac{1}{3}$ (۳) $\frac{\sqrt{2}}{3}$ (۴) $-\frac{\sqrt{2}}{3}$
- ۲- اگر $\cot 34^\circ = 1/5$ ، حاصل $A = \frac{2 \sin 326^\circ + 3 \sin 56^\circ}{\cos 304^\circ}$ چقدر است؟
- (۱) $2/5$ (۲) 2 (۳) 1 (۴) $-1/5$
- ۳- اگر $2 \sin x - 3 \sin y = 5$ ، حاصل $\tan(\frac{x+y}{2})$ کدام است؟
- (۱) صفر (۲) ± 1 (۳) 1 (۴) -1
- ۴- با فرض $-\frac{\pi}{9} < x < \frac{\pi}{9}$ و $\cos 3x = \frac{m-1}{2}$ ، مقادیر m در کدام فاصله قرار می‌گیرد؟
- (۱) $(1, 2]$ (۲) $(0, 2)$ (۳) $(2, 3]$ (۴) $[3, 4)$
- ۵- برای کدام مقدار A ، تساوی $\frac{1}{\cos^4 x} + \frac{A}{\cos^2 x} = \tan^4 x - 1$ برای تمام مقادیر $x \neq n\pi + \frac{\pi}{2}$ یک اتحاد است؟
- (۱) 2 (۲) 1 (۳) -1 (۴) -2
- ۶- حاصل عبارت $A = (\cos^4 x - \sin^4 x)(1 + \tan^2 x) + \tan^2 x$ کدام است؟
- (۱) صفر (۲) 1 (۳) 2 (۴) 3
- ۷- اگر $\sin x + \cos x = \frac{1}{3}$ ، آن‌گاه حاصل $A = \cos^4 x - \sin^4 x$ کدام می‌تواند باشد؟
- (۱) $\frac{\sqrt{17}}{9}$ (۲) $\frac{64}{81}$ (۳) $\frac{8}{9}$ (۴) $\frac{17}{81}$
- ۸- اگر $\frac{\sin x + \cos x}{\sin x - \cos x} + \frac{\sin x - \cos x}{\sin x + \cos x} = 4$ ، آن‌گاه حاصل $\tan^2 x + \cot^2 x$ کدام است؟
- (۱) 1 (۲) $\frac{5}{2}$ (۳) $\frac{17}{4}$ (۴) $\frac{10}{3}$
- ۹- اگر $x \in [0, \frac{\pi}{4}]$ ، آن‌گاه حاصل $f(x) = \sqrt{1 + 2\sqrt{\cos^2 x(1 - \cos^2 x)}}$ کدام است؟
- (۱) $\sin x - \cos x$ (۲) $\sin 2x$ (۳) $-\sin x - \cos x$ (۴) $\sin x + \cos x$
- ۱۰- مقدار $B = \sin(\pi \cos \frac{16\pi}{3}) - \tan(\pi \cot(\frac{171\pi}{4}))$ کدام است؟
- (۱) 1 (۲) -1 (۳) صفر (۴) تعریف نشده
- ۱۱- حاصل عبارت $\frac{1}{\cos^6 x} - \frac{3 \tan^2 x}{\cos^2 x}$ ، برای همگی مقادیر $x \neq n\pi + \frac{\pi}{2}$ با کدام عبارت برابر است؟
- (۱) $\tan^6 x$ (۲) $1 + \tan^6 x$ (۳) $1 - \tan^6 x$ (۴) $(\sin x \cos x)^6$

- ۱۲- هرگاه داشته باشیم: $a \sin^2 x - b \cos^2 x = a - b$ ، آن گاه حاصل $b \sin^4 x + a \cos^4 x$ در کدام گزینه آمده است؟
- (۱) $\frac{a+b}{a-b}$ (۲) $\frac{a-b}{ab}$ (۳) $\frac{ab}{a+b}$ (۴) $\frac{a+b}{ab}$
- ۱۳- اگر $\sin^4 x + \cos^4 x = \frac{3}{5}$ ، حاصل $\sin^6 x + \cos^6 x$ کدام است؟ (آزاد - ۸۷)
- (۱) $\frac{1}{5}$ (۲) $\frac{2}{3}$ (۳) $\frac{2}{5}$ (۴) $\frac{3}{7}$
- ۱۴- اگر $(\sin x - \cos x)^2 = 1 - \cos x$ و $x \in [0, \frac{\pi}{2}]$ ، حاصل $2 \cos x + \sin x$ چند مقدار متفاوت می تواند داشته باشد؟
- (۱) صفر (۲) ۱ (۳) ۲ (۴) ۳
- ۱۵- اگر $\tan x + \cot x = 2$ ، آن گاه حاصل $\tan^3 x + \cot^3 x$ کدام است؟
- (۱) ۲ (۲) ۳ (۳) ۴ (۴) ۶
- ۱۶- اگر $\frac{\pi}{4} < x < \frac{\pi}{2}$ ، آن گاه مقدار $C = \frac{\sqrt{1 - 2 \sin x \cos x}}{\sin^2 x - \cos^2 x} + \frac{2}{\sec x + \csc x}$ کدام است؟
- (۱) $\sin x \pm \cos x$ (۲) $\sin x + \cos x$ (۳) $\sin x - \cos x$ (۴) $\cos x - \sin x$
- ۱۷- کدام نابرابری درست است؟
- (۱) $\sin 17^\circ < \sin 2^\circ$ (۲) $\cos 2^\circ < \cos 16^\circ$ (۳) $\tan 2^\circ < \sin 2^\circ$ (۴) $\cot 2^\circ < \cos 2^\circ$
- ۱۸- اگر $\sin x \cos x < 0$ ، آن گاه کدام نامساوی درست است؟
- (۱) $\sin(x - \frac{\pi}{2}) \cos(x - \frac{\pi}{2}) < 0$ (۲) $\sin(x + \frac{\pi}{2}) \cos(x - \frac{\pi}{2}) > 0$
 (۳) $\sin(x + \frac{\pi}{2}) \cos(x + \frac{\pi}{2}) > 0$ (۴) $\sin(x - \frac{\pi}{2}) \cos(x + \frac{\pi}{2}) > 0$
- ۱۹- اگر $\sqrt{\sin x}$ مقداری تعریف شده باشد، آن گاه کدام رابطه درست است؟
- (۱) $\sin x \leq \sin^2 x$ (۲) $\sqrt{\sin x} \geq \sin^2 x$ (۳) $\sqrt{\sin x} \geq \sqrt[3]{\sin x}$ (۴) $\frac{1}{\sin x} \leq \sqrt{\sin x}$
- ۲۰- حاصل عبارت $\cos(\frac{3\pi}{2} + x) + \sin(\pi + x) + \cos(\frac{\pi}{2} + x) + \sin(\pi - x)$ کدام است؟
- (۱) $-2 \sin x$ (۲) صفر (۳) $2 \sin x$ (۴) $2 \cos x$
- ۲۱- اگر $\sin^2 x + 2 \cos^2 x + 3 \sin x \cos x = 3$ ، آن گاه مقدار $\cot x$ کدام است؟
- (۱) -1 و -2 (۲) 1 و -2 (۳) -1 و 2 (۴) 1 و 2
- ۲۲- حاصل کسر $A = \frac{1 + \sin x \cos x}{\sin^3 x - \cos^3 x}$ برابر کدام است؟
- (۱) $\sin x + \cos x$ (۲) $\frac{1}{\sin x + \cos x}$ (۳) $\cos x - \sin x$ (۴) $\frac{1}{\sin x - \cos x}$
- ۲۳- اگر $\sin x + \frac{1}{\sin x} = 2$ ، آن گاه حاصل عبارت $\sin^5 x + \cos^5 x$ کدام است؟
- (۱) ۲ (۲) ۱ (۳) $2 - \sqrt{2}$ (۴) $\sqrt{2} - 1$
- ۲۴- اگر $\tan x = \frac{1}{4}$ ، آن گاه حاصل $D = \frac{\sin x}{\sin x - \cos x} + \frac{\sin x + \cos x}{\cos x}$ کدام است؟
- (۱) ۱ (۲) ۴ (۳) $\frac{1}{12}$ (۴) $\frac{11}{12}$



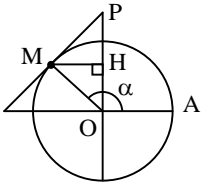
۲۵- عبارت $\frac{1 + \cos \theta}{\sin^2 \theta}$ ، با کدام گزینه برابر است؟


(۱) $\frac{1}{\sin \theta - \sin \theta \cos \theta}$ (۲) $\frac{\cos \theta}{1 + \sin \theta}$ (۳) $\frac{1}{\sin \theta \cos \theta}$ (۴) $\frac{1}{\cos^2 \theta - \sin^2 \theta}$

۲۶- در دایره‌ی مثلثاتی مطابق شکل روبه‌رو، در نقطه‌ی مماسی بر دایره رسم کرده‌ایم تا امتداد قطر عمودی را در

P قطع کند. با فرض $\widehat{AOM} = \alpha$ ، طول پاره‌خط HP کدام است؟

(۱) $|\sin \alpha \tan \alpha|$ (۲) $|\cos \alpha|$
 (۳) $|\cos \alpha \cot \alpha|$ (۴) $|\sin \alpha|$





توابع مثلثاتی

پاسخ‌های تشریحی

۱- گزینه‌ی (۲) اگر α در ربع چهارم باشد، داریم: $\sin \alpha < 0$ و $\cos \alpha > 0$. با توجه به $\sin(\frac{3\pi}{4} - \alpha) = -\cos \alpha$ ، باید $\cos \alpha$ را بیابیم:

$$\sin \alpha = -\frac{2\sqrt{2}}{3} \Rightarrow \cos \alpha = \sqrt{1 - \sin^2 \alpha} = \frac{1}{3}$$

۲- گزینه‌ی (۱) مقادیر زوایا را به 34° ربط می‌دهیم:

$$A = \frac{2 \sin(36^\circ - 34^\circ) + 3 \sin(90^\circ - 34^\circ)}{\cos(270^\circ + 34^\circ)} = \frac{-2 \sin 34^\circ + 3 \cos 34^\circ}{\sin 34^\circ} = -2 + 3 \cot 34^\circ = 2/5$$

۳- گزینه‌ی (۱) می‌دانیم همواره $-1 \leq \sin x \leq 1$ و $-1 \leq \sin y \leq 1$ ، پس: $2 \sin x - 3 \sin y \leq 5$ ، بنابراین برای برقراری فرض سؤال باید داشته باشیم:

$$2 \sin x = 2, \quad -3 \sin y = 3 \Rightarrow \sin x = 1, \quad \sin y = -1$$

$$\Rightarrow x = 2m\pi + \frac{\pi}{2}, \quad y = 2n\pi - \frac{\pi}{2} \Rightarrow \frac{x+y}{2} = (m+n)\pi \Rightarrow \tan\left(\frac{x+y}{2}\right) = 0$$

۴- گزینه‌ی (۳) اگر $-\frac{\pi}{9} < x < \frac{\pi}{9}$ ، آن‌گاه $-\frac{\pi}{3} < 3x < \frac{\pi}{3}$. بنابراین طبق نمودار تابع $y = \cos x$ داریم:

$$\frac{1}{2} < \cos 3x \leq 1 \Rightarrow \frac{1}{2} < \frac{m-1}{2} \leq 1 \Rightarrow 1 < m-1 \leq 2 \Rightarrow 2 < m \leq 3 \Rightarrow m \in (2, 3]$$

۵- گزینه‌ی (۴) با توجه به $\frac{1}{\cos^2 x} = 1 + \tan^2 x$ داریم:

$$\frac{1}{\cos^4 x} + \frac{A}{\cos^2 x} = (1 + \tan^2 x)^2 + A(1 + \tan^2 x) = \tan^4 x + (2 + A)\tan^2 x + 1 + A$$

$$\Rightarrow \tan^4 x + (2 + A)\tan^2 x + 1 + A = \tan^4 x - 1 \Rightarrow A = -2$$

۶- گزینه‌ی (۲) با توجه به اتحاد مزدوج داریم:

$$\cos^4 x - \sin^4 x = (\cos^2 x - \sin^2 x)(\cos^2 x + \sin^2 x) = \cos^2 x - \sin^2 x$$

$$\Rightarrow A = (\cos^2 x - \sin^2 x)\left(\frac{1}{\cos^2 x}\right) + \tan^2 x = 1 - \tan^2 x + \tan^2 x = 1$$

۷- گزینه‌ی (۱) مشابه تست قبل می‌توان نوشت: $\cos^4 x - \sin^4 x = \cos^2 x - \sin^2 x = (\cos x - \sin x)(\cos x + \sin x)$ ، پس باید حاصل $\cos x - \sin x$ را بیابیم. از فرض داریم:

$$(\sin x + \cos x)^2 = \frac{1}{9} \Rightarrow 1 + 2 \sin x \cos x = \frac{1}{9} \Rightarrow \sin x \cos x = -\frac{4}{9}$$

حال می‌توانیم بنویسیم:

$$(\sin x - \cos x)^2 = 1 - 2 \sin x \cos x \Rightarrow (\sin x - \cos x)^2 = \frac{17}{9} \Rightarrow \sin x - \cos x = \pm \frac{\sqrt{17}}{3} \Rightarrow A = \pm \frac{\sqrt{17}}{9}$$

۸- گزینه‌ی (۴) می‌دانیم: $\frac{\sin x + \cos x}{\sin x - \cos x} = \frac{\cos x(\tan x + 1)}{\cos x(\tan x - 1)} = \frac{\tan x + 1}{\tan x - 1}$ ، به همین ترتیب داریم:

$$\frac{\sin x + \cos x}{\sin x - \cos x} + \frac{\sin x - \cos x}{\sin x + \cos x} = \frac{\tan x + 1}{\tan x - 1} + \frac{\tan x - 1}{\tan x + 1} = \frac{2(1 + \tan^2 x)}{\tan^2 x - 1} \Rightarrow \frac{2(1 + \tan^2 x)}{\tan^2 x - 1} = 4$$

$$\Rightarrow 1 + \tan^2 x = 2 \tan^2 x - 2 \Rightarrow \tan^2 x = 3 \Rightarrow \tan^2 x + \cot^2 x = 3 + \frac{1}{3} = \frac{10}{3}$$



۹- گزینه‌ی (۴) با توجه به آن که $\cos^2 x(1 - \cos^2 x) = \cos^2 x \sin^2 x$ داریم:

$$f(x) = \sqrt{1 + 2|\sin x \cos x|} \xrightarrow{x \in [0, \frac{\pi}{4}]} f(x) = \sqrt{1 + 2\sin x \cos x} = \sqrt{(\sin x + \cos x)^2} = |\sin x + \cos x| = \sin x + \cos x$$

۱۰- گزینه‌ی (۲) مقادیر موردنظر را حساب می‌کنیم:

$$\left. \begin{aligned} \cos\left(\frac{16\pi}{3}\right) &= \cos\left(5\pi + \frac{\pi}{3}\right) = -\cos\frac{\pi}{3} = -\frac{1}{2} \\ \cot\left(\frac{171\pi}{4}\right) &= \cot\left(42\pi + \frac{3\pi}{4}\right) = \cot\frac{3\pi}{4} = -1 \end{aligned} \right\} \Rightarrow B = \sin\left(-\frac{\pi}{2}\right) - \tan(-\pi) = -1 - 0 = -1$$

۱۱- گزینه‌ی (۲) با توجه به $\frac{1}{\cos^2 x} = 1 + \tan^2 x$ داریم:

$$\frac{1}{\cos^2 x} - \frac{3 \tan^2 x}{\cos^2 x} = (1 + \tan^2 x) - 3 \tan^2 x = 1 - 2 \tan^2 x$$

۱۲- گزینه‌ی (۳) با توجه به فرض و این که $\cos^2 x = 1 - \sin^2 x$ داریم:

$$a \sin^2 x - b(1 - \sin^2 x) = a - b \Rightarrow \sin^2 x = \frac{a}{a+b} \Rightarrow \cos^2 x = 1 - \sin^2 x = \frac{b}{a+b}$$

$$\Rightarrow b \sin^2 x + a \cos^2 x = \frac{ba + ab}{(a+b)} = \frac{2ab}{a+b}$$

۱۳- گزینه‌ی (۳) با توجه به $\sin^2 x + \cos^2 x = (\sin^2 x + \cos^2 x) - 2 \sin^2 x \cos^2 x$ داریم:

$$\frac{3}{5} = 1 - 2 \sin^2 x \cos^2 x \Rightarrow \sin^2 x \cos^2 x = \frac{1}{5}$$

$$\sin^2 x + \cos^2 x = (\sin^2 x + \cos^2 x)(\sin^2 x + \cos^2 x - 2 \sin^2 x \cos^2 x) \Rightarrow \sin^2 x + \cos^2 x = 1 \times \left(\frac{3}{5} - \frac{1}{5}\right) = \frac{2}{5}$$

۱۴- گزینه‌ی (۳) می‌دانیم: $(\sin x - \cos x)^2 = 1 - 2 \sin x \cos x$ ، پس از فرض داریم: $1 - 2 \sin x \cos x = 1 - \cos x$ ، بنابراین $\cos x(2 \sin x - 1) = 0$ و دو حالت می‌تواند پیش بیاید:

$$\cos x = 0 \xrightarrow{x \in [0, \frac{\pi}{2}]} \sin x = 1 \Rightarrow 2 \cos x + \sin x = 1$$

$$\sin x = \frac{1}{2} \Rightarrow \cos x = \frac{\sqrt{3}}{2} \Rightarrow 2 \cos x + \sin x = \sqrt{3} + \frac{1}{2}$$

۱۵- گزینه‌ی (۱) با توجه به اتحادها داریم:

$$\tan^2 x + \cot^2 x = (\tan x + \cot x)^2 - 2 \tan x \cot x = (\tan x + \cot x)^2 - 2 \Rightarrow \tan^2 x + \cot^2 x = 8 - 2 \times 2 = 4$$

۱۶- گزینه‌ی (۲) می‌دانیم:

$$1 - 2 \sin x \cos x = (\sin x - \cos x)^2 \Rightarrow \sqrt{1 - 2 \sin x \cos x} = |\sin x - \cos x|$$

از روی دایره‌ی مثلثاتی می‌توان تشخیص داد که در فاصله‌ی $\frac{\pi}{4} < x < \frac{\pi}{2}$ داریم:

$$\sin x > \cos x \Rightarrow \sin x - \cos x > 0 \Rightarrow |\sin x - \cos x| = \sin x - \cos x$$

$$\sec x + \csc x = \frac{1}{\sin x} + \frac{1}{\cos x} = \frac{\sin x + \cos x}{\sin x \cos x} \Rightarrow C = \frac{1}{\sin x + \cos x} + \frac{2 \sin x \cos x}{\sin x + \cos x} = \frac{(\sin x + \cos x)^2}{\sin x + \cos x} = \sin x + \cos x$$

۱۷- گزینه‌ی (۱) گزینه‌ها را بررسی می‌کنیم:

گزینه‌ی (۱): می‌دانیم $\sin 170^\circ = \sin 10^\circ$ و با توجه به صعودی بودن تابع $y = \sin x$ در فاصله‌ی $[0, \frac{\pi}{2}]$ داریم: $\sin 10^\circ < \sin 20^\circ$

گزینه‌ی (۲): می‌دانیم $\cos 160^\circ = -\cos 20^\circ$ و $\cos 20^\circ > 0$ ، پس این گزینه نادرست است.

گزینه‌ی (۳): چون $\tan 20^\circ = \frac{\sin 20^\circ}{\cos 20^\circ}$ و مخرج کسر عددی بین صفر و یک است، پس $\tan 20^\circ > \sin 20^\circ$ و این گزینه نادرست است. به

شیوه‌ای مشابه گزینه‌ی (۴) نیز رد می‌شود.

۱۸- گزینه‌ی (۳) با توجه به دایره‌ی مثلثاتی روابط زیر به وضوح برقرار است:

$$\sin\left(x - \frac{\pi}{2}\right)\cos\left(x - \frac{\pi}{2}\right) = -\sin\left(\frac{\pi}{2} - x\right)\cos\left(\frac{\pi}{2} - x\right) = -\cos x \times \sin x > 0 \quad \sin\left(x + \frac{\pi}{2}\right)\cos\left(x - \frac{\pi}{2}\right) = \cos x \times \sin x < 0$$

$$\sin\left(x + \frac{\pi}{2}\right)\cos\left(x + \frac{\pi}{2}\right) = \cos x \times (-\sin x) > 0 \quad \sin\left(x - \frac{\pi}{2}\right)\cos\left(x + \frac{\pi}{2}\right) = -\cos x \times (-\sin x) < 0$$

۱۹- گزینه‌ی (۲) داریم: $0 \leq \sqrt{\sin x} < 1$ ، و می‌دانیم هر چقدر توان یک عدد بین صفر و یک بزرگ‌تر باشد، حاصل کوچک‌تر خواهد بود، بنابراین:

$$\frac{1}{\sin x} = (\sin x)^{-1} \geq 1 \geq \sqrt[3]{\sin x} \geq \sqrt{\sin x} \geq \sin x \geq \sin^2 x$$

۲۰- گزینه‌ی (۲) با جای‌گذاری نتایج زیر حاصل عبارت صفر می‌شود:

$$\cos\left(\frac{3\pi}{2} + x\right) = \sin x, \sin(\pi + x) = -\sin x, \cos\left(x + \frac{\pi}{2}\right) = -\sin x, \sin(\pi - x) = \sin x$$

۲۱- گزینه‌ی (۴) طرفین تساوی فرض را بر $\sin^2 x$ تقسیم کنید:

$$\sin^2 x + 2\cos^2 x + 3\sin x \cos x = 3 \Rightarrow 1 + 2\cot^2 x + 3\cot x = \frac{3}{\sin^2 x} = 3(1 + \cot^2 x)$$

$$\Rightarrow \cot^2 x - 3\cot x + 2 = 0 \Rightarrow (\cot x - 1)(\cot x - 2) = 0 \Rightarrow \cot x = 1, 2$$

۲۲- گزینه‌ی (۴) با توجه به اتحاد چاق و لاغر داریم:

$$\sin^3 x - \cos^3 x = (\sin x - \cos x)(1 + \sin x \cos x) \Rightarrow A = \frac{1}{\sin x - \cos x}$$

۲۳- گزینه‌ی (۲) می‌دانیم همواره $a + \frac{1}{a} \geq 2$ و تنها در حالت $a = 1$ تساوی برقرار است (برای $a > 0$). پس از فرض سؤال نتیجه می‌گیریم $\sin x = 1$ ، پس $\cos x = 0$ حاصل عبارت ۱ می‌شود.

۲۴- گزینه‌ی (۴) با فاکتورگیری از $\cos x$ در صورت و مخرج کسر اول داریم:

$$\frac{\sin x}{\sin x - \cos x} = \frac{\cos x \tan x}{\cos x (\tan x - 1)} \Rightarrow D = \frac{\tan x}{\tan x - 1} + \tan x + 1 = \frac{\frac{1}{4}}{-\frac{3}{4}} + \frac{5}{4} = \frac{11}{12}$$

۲۵- گزینه‌ی (۱) داریم:

$$\frac{1 + \cos \theta}{\sin^3 \theta} = (1 + \cos \theta) \times \frac{1}{\sin^3 \theta} = \frac{1 - \cos^2 \theta}{1 - \cos \theta} \times \frac{1}{\sin^3 \theta} = \frac{\sin^2 \theta}{(1 - \cos \theta)\sin^3 \theta} = \frac{1}{\sin \theta - \sin \theta \cos \theta}$$

۲۶- گزینه‌ی (۳) با توجه به دایره‌ی مثلثاتی داریم: $OH = \sin \alpha$ و $MH = |\cos \alpha|$. چون OM بر خط مماس عمود است. در مثلث قائم‌الزاویه OMP ، OH ارتفاع وارد بر وتر است. بنابراین:

$$MH^2 = HP \times OH \Rightarrow \cos^2 \alpha = HP \times \sin \alpha \Rightarrow HP = \frac{\cos^2 \alpha}{\sin \alpha} = \cos \alpha \cot \alpha$$