

## بسمه تعالی



www.barttar.ir

تاریخ:  
مدت آزمون:

آزمون ریاضی پنجم ابتدایی  
(فصل یک)

دبستان:  
کلاس:  
نام و نام خانوادگی:

جاهای خالی را با اعداد یا کلمات مناسب پر کنید.

- الف- اگر عدد ۳۰۸۴۱۲ را در هزار ضرب کنیم، ارزش مکانی رقم ۴ برابر ..... خواهد شد.  
ب- بیست و پنجمین عدد در الگوی عددهای مربعی، عدد ..... است  
ج- اگر ۴۰ ثانیه را از یک‌ونیم دقیقه کم بکنیم، ..... ثانیه باقی خواهد ماند.  
د- چند تا چک پول ۵۰۰۰۰۰ ریالی برابر با یک میلیارد ریال می‌شود؟ .....  
ه- یک میلیارد دو دویست هزار ریال از نیم میلیارد ریال چقدر بیشتر است؟ .....

در هر سوال گزینه مناسب را مشخص کنید.

(۱) یک ساعت و بیست دقیقه و شصت ثانیه برابر با چند دقیقه است ؟

- الف) ۱۲۱ دقیقه  ب) ۱۲۰ دقیقه  ج) ۸۱ دقیقه  د) ۸۰ دقیقه

(۲) نصف ۱۷ میلیون برابر است با:

- الف) ۸۵ تا ده هزار تایی  ب) ۸۵ تا صد هزار تایی  ج) ۸ تا صد هزار تایی  د) ۸۵۰ تا هزار تایی


به سوالات زیر با دقت پاسخ دهید.

(۳) عدد ۲,۰۰۵,۰۵۲,۳۰۰ را در جدول ارزش مکانی نوشته و به حروف بنویسید.

میلیارد			میلیون			هزار			یکان		
صدگان	دهگان	یکان	صدگان	دهگان	یکان	صدگان	دهگان	یکان	صدگان	دهگان	یکان

به حروف : .....

(۴) اختلاف زمان‌های نشان داده شده در دو ساعت زیر را محاسبه کنید. (هر دو ساعت مربوط به قبل از ظهر می‌باشد).



## بسمه تعالی

دبستان:

کلاس:

نام و نام خانوادگی:

آزمون ریاضی پنجم ابتدایی

(فصل یک)

تاریخ:

مدت آزمون:

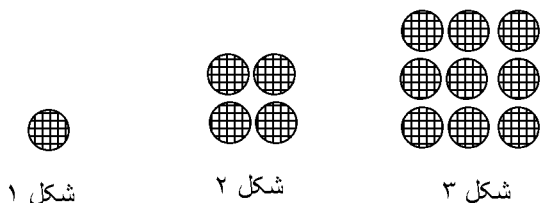


www.barttar.ir

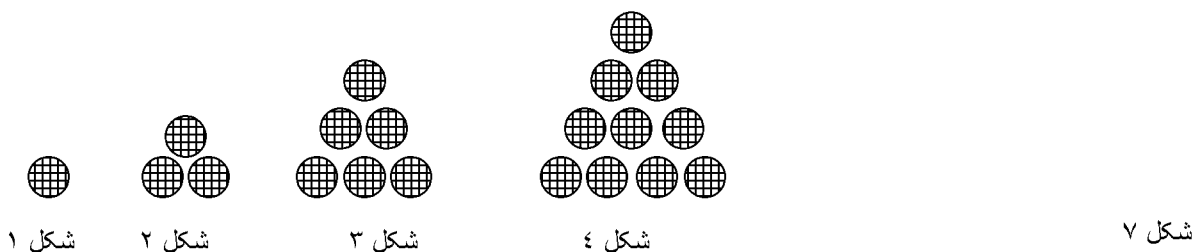
۵) مهدی در تاریخ ۱۲ بهمن سال ۸۴ متولد شده است و برادرش محمد ۴ سال و یک ماه و ۱۰ روز از او کوچکتر است. تاریخ تولد محمد را محاسبه کنید.

۶) قطار تهران - مشهد ساعت یک ربع به پنج عصر از تهران به سمت مشهد حرکت نمود و ساعت شش و نیم صبح فردا وارد مشهد شد. این قطار چه مدت در راه بوده است؟

۷) شکل دهم در الگوی زیر چند دایره دارد؟



۸) شکل هفتم الگوی زیر را رسم کنید.



۹) هریک از الگوهای زیر را تا سه عدد بعدی ادامه دهید.

..... - ..... - ..... - ۸۶۰ میلیون - ۶۴۰ میلیون - ۴۲۰ میلیون

..... - ..... - ..... - ۲۴ : ۰۴' : ۴۵'' - ۲۳ : ۰۴' : ۳۰'' - ۲۲ : ۰۴' : ۱۵''

## بسمه تعالی

### پاسخنامه

#### آزمون ریاضی پنجم ابتدایی

(فصل یک)



www.barttar.ir

#### پاهای قالی

الف- صدگان هزار ب- ۶۲۵ ج- ۵۰ ثانیه د- دو هزار تا ه- ۷۰۰ میلیون ریال

#### سوالات چهارگزینه‌ای

۱- گزینه‌ی ج صحیح است.

۲- گزینه‌ی ب صحیح است.

#### به سوالات زیر با دقت پاسخ دهید

۳-

میلیارد			میلیون			هزار			یکان		
صدگان	دهگان	یکان	صدگان	دهگان	یکان	صدگان	دهگان	یکان	صدگان	دهگان	یکان
		۲	۰	۰	۵	۰	۵	۲	۳	۰	۰

به هروف : ۰، دو میلیارد و پنج میلیون و پنجاه و دو هزار و سیصد


۴- دو ساعت و پهل و هفت دقیقه

۵- ۱۳۸۸/۱۲/۲۲

۶- سیزده ساعت و پهل و پنج دقیقه

۷- ۱۰۰ دایره

۸-



شکل ۷

۹-

یک میلیارد و ۵۲۰ میلیون - یک میلیارد و ۳۰۰ میلیون - یک میلیارد و ۱۰ میلیون - ۱۶۰ میلیون - ۶۴۰ میلیون - ۴۲۰ میلیون  
۰۰' : ۰۵' : ۲۷ - ۱۵' : ۰۵' : ۲۶ - ۰۰' : ۰۵' : ۲۵ - ۰۰' : ۰۳' : ۳۵ - ۰۰' : ۰۳' : ۲۳ - ۰۰' : ۰۳' : ۳۰ - ۰۰' : ۰۳' : ۲۳ - ۰۰' : ۰۳' : ۲۲