

نام و نام خانوادگی:
 پایه: پنجم
 نام پدر:
 شماره داوطلب:
 تعداد صفحه سؤال: ۲ صفحه

جمهوری اسلامی ایران
 اداره ی کل آموزش و پرورش شهر تهران
 اداره ی آموزش و پرورش شهر تهران منطقه ۵ تهران
 پیش دبستان و دبستان غیردولتی دخترانه **نرگش**
 ارزشیابی عملکردی نوبت دوم سال تحصیلی ۱۴۰۱-۱۴۰۰

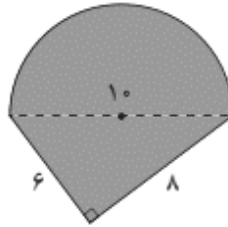
نام درس: ریاضی
 نام دبیر: خانم سمیرا مرادزاده
 تاریخ امتحان: ۱۴۰۱ / ۲ / ۳۱
 ساعت امتحان: ۰۰ : ۰۸ صبح / عصر
 مدت امتحان: ۱۲۰ دقیقه

| ردیف | سؤالات |
|------|------------------------------------------------------------------------------------------------------------------------------------------------------------------------------------------------------------------------------------------------------------------------------------------------------------------------------------------------------------------------------------------------------------------------------------------------------------------------------------------------------------------------------------------------------------------------------------------------------------------------------------------------------------------------------------------------------------------------------------------------------------------------------------------------------------------------------------------------------------------------------------------------------------------------------------------------------------------------------------------------------------------------------------------------------------------------------------------------------------------------------------------------------------------------------------------------------------------------------------------------------------------------------------------------------------------------------------------------------------------------------------------------------------------------------------------------------------------------------------------------------------------------------------------------------------------------------------------|
| ۱ | <p>جاهای خالی را با کلمات مناسب کامل کنید.</p> <ul style="list-style-type: none"> • مجموع زاویه های داخلی یک چهار ضلعی برابر است. • خطی که زاویه را به دو قسمت مساوی تقسیم میکند می نامند. • عدد ۲۷۰۰۵۰۰ از تا یک میلیون و ۷ تا و ۵ تا ساخته شه است. • متوازی الاضلاع خط تقارن اما مرکز تقارن • برای نشان دادن درصد قبولی دانش آموزان یک کلاس نمودار مناسب تر است. |
| ۲ | <p>حاصل عملیات های زیر را به دست آورید.</p> <div style="display: flex; justify-content: space-around;"> <div style="width: 45%;"> $2\frac{2}{5} + 1\frac{3}{10} =$ $5\frac{1}{4} - 2\frac{10}{12} =$ $4\frac{1}{5} \times 2\frac{1}{3} =$ $6/0.3 \times 3/2 =$ $8/27 + 3/935 =$ </div> <div style="width: 45%;"> $7 - 3\frac{2}{4} =$ $\frac{5}{3} + 1\frac{1}{5} =$ $\frac{8}{5} \div \frac{12}{10} =$ $4/1 \times 0/8 =$ $12/4 - 5/28 =$ </div> </div> <div style="display: flex; justify-content: space-around; margin-top: 20px;"> <div style="text-align: center;"> $\begin{array}{r} 6 \\ + 4 \\ \hline 10 \end{array}$ </div> <div style="text-align: center;"> $\begin{array}{r} 24 \\ - 31 \\ \hline 41 \end{array}$ </div> <div style="text-align: center;"> $\begin{array}{r} 28 \\ - 41 \\ \hline 13 \end{array}$ </div> <div style="text-align: center;"> $\begin{array}{r} 8 \\ - 2 \\ \hline 6 \end{array}$ </div> <div style="text-align: center;"> $\begin{array}{r} 29 \\ - 18 \\ \hline 11 \end{array}$ </div> <div style="text-align: center;"> $\begin{array}{r} 25 \\ - 57 \\ \hline 32 \end{array}$ </div> </div> |
| ۳ | <p>در شکل های زیر اندازه زاویه خواسته شده را به دست آورید.</p> <div style="display: flex; justify-content: space-around;"> <div style="text-align: center;"> </div> <div style="text-align: center;"> </div> </div> |

محیط شکل های زیر را به دست آورید.




شعاع : ۱۰



۴

برای جدول داده های زیر نمودار خط شکسته رسم کنید.

| روزهای هفته | دما درجه |
|-------------|----------|
| شنبه | ۲۰ |
| یکشنبه | ۲۲ |
| دوشنبه | ۲۴ |
| سه شنبه | ۲۲ |
| چهارشنبه | ۲۶ |
| پنج شنبه | ۲۰ |



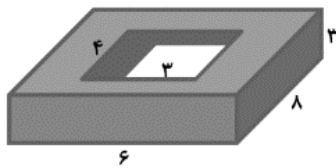
۵

۳ و $\frac{۹}{۵}$ و $۱۲\frac{۱}{۴}$ و $۱۲\frac{۱}{۶}$ و $\frac{۴}{۷۵}$

میانگین عددهای مقابل را به دست آورید.

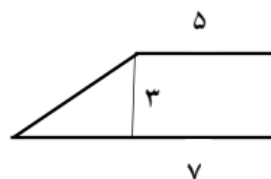
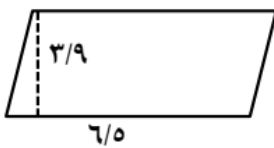
۶

چند درصد از حجم شکل رو به رو بریده شده است؟



۷

مساحت شکل های زیر را به دست آورید.



۸



اداره ی کل آموزش و پرورش شهر تهران

اداره ی آموزش و پرورش شهر تهران منطقه ۵ تهران

پیش دبستان و دبستان غیر دولتی دخترانه **نیریشتر**
کلید سؤالات ارزشیابی عملکردی نوبت دوم سال تحصیلی ۱۴۰۱-۱۴۰۰

نام درس: ریاضیات
نام دبیر: فائمه سمیرا مرادزاده
تاریخ امتحان: ۳۱ / ۲ / ۱۴۰۱
ساعت امتحان: ۸:۰۰ صبح / عصر
مدت امتحان: ۱۲۰ دقیقه

| ردیف | راهنمای تصحیح | محل مهر یا امضاء مدیر |
|---------------------------|----------------------------------------------------------------------------------------------------------------------------------|-----------------------|
| ۱ | ۳۶۰ درجه - نیمساز - ۲ و صد هزار و ۱۰۰ تا - ندارد - دارد - دایره ای | |
| ۲ | ۷/۱۲ و ۱۲/۲۰۵ و ۳/۲۸ و ۱۹/۲۹۶ و ۴/۳ و ۴۹/۵ و ۲۱۳/۱۵ و ۲۵/۱۲ و ۱/۳ و ۱۰ ساعت و ۵۶ دقیقه و ۱۹ ثانیه و ۶ ساعت و ۱۰ دقیقه و ۳۸ ثانیه | |
| ۳ | ۷۰ و ۱۰۰ | |
| ۴ | ۲۹/۷ و ۵۱/۴ | |
| ۵ | | |
| ۶ | $\frac{2}{8-\frac{5}{5}}$ | |
| ۷ | ۲۵ درصد | |
| ۸ | ۲۵/۳۵ - ۱۸ | |
| نام و نام خانوادگی مصحح : | | امضاء: |