



به نام خدا

مدیریت آموزش و پرورش منطقه ۷ تهران

تاریخ امتحان: / / ۱۳۹۷

مطالعات اجتماعی پایه ششم

نام و نام خانوادگی .....

تعداد صفحات : ۴

زمان : ۶۰ دقیقه

الف) پاسخ صحیح را مشخص کنید.

- کدام تصمیم نتیجه منفی خواهد داشت؟

الف) برنامه ریزی برای زندگی روزانه  ب) خاموش کردن وسایل برقی اضافی

ج) مطالعه کردن در نور کم  د) تلفن کردن به دوستان قدیمی

- در موقع خرید لباس باید به چه چیزهایی توجه کنیم؟

الف) بودجه - مطابقت با باورهای دینی ما  ب) مد بودن - رنگ

ج) رنگ - تصاویر روی آن  د) مارک - تصاویر روی آن

۲- بزرگترین منبع مروارید سیاه (خاویار) در کدام منطقه است؟

الف) دریای عمان  ب) دریای خزر  ج) دریای مدیترانه  د) خلیج فارس

۱- خرمشهر در چه تاریخی آزاد شد؟

۳۱ شهریور ۵۹  ۳ شهریور ۶۱  ۳ خرداد ۵۹  ۳ خرداد ۶۱

ب) جمله های زیر را کامل کنید.

۵- اولین چاه نفت ایران در استان ..... حفر شد.

۶- در برابر خواسته های نابه جای دیگران باید مهارت ..... را داشته باشیم.

۷- به سرزمینهایی که استقلال سیاسی و اقتصادی ندارند و تابع حکومت استعمار گر باشند، ..... می گویند.

۸- برای مسافرت به کشور دیگر باید از سفارت خانه آن اجازه بگیریم. به این اجازه روادید یا ..... می گویند.

۹- شکوفایی شهر اصفهان مربوط به دوره ..... است.

پ در هر عبارت روی پاسخ نادرست خط بکشید.

۱۰- انتخاب دوست یک موضوع (بی اهمیت - مهم) است.

۱۱- در مورد مسایل زندگی و تصمیم گیری های مهم باید با (بزرگترها - دوستانمان) مشورت کنیم.

ت جمله های درست و نادرست را مشخص کنید.

درست | نادرست

۱۲) تصمیم گیری یعنی انتخاب یک چیز از بین دو یا چند چیز.

۱۳) به پیشروی آب دریاها در خشکی ها خلیج می گویند.

۱۴) اوقات فراغت به روزها وساعتها ودقیقه های عمر ما می گویند.

۱۵) گنبد یکی از نشانه های معماری دوره اسلامی است.


ت مفاهیم را توضیح دهید.

۱) تولید انبوه : .....

۱) برق حرارتی: .....

ج نمودار زیر را کامل کنید.

۱) جملات نمودار را کامل کنید.



چ پاسخ کوتاه بدهید.

۱) یکی از شهر های بسیار مقاوم در هشت سال دفاع مقدس ؟ .....

۲) این سخن از کیست ؟ « از دست دادن فرصت ها موجب پشیمانی و آندوه است» .....

۲- در دوره اسلامی به دانشمندان چه می گفتند؟.....

۲- اگر دوستان کار اشتباهی انجام داد و عذر خواهی کرد چگونه برخورد کنیم؟.....

پاسخ های مناسب را از ستون «ب» به ستون «الف» وصل کنید.

الف(محصول)	ب (منطقه آب وهوای مناسب)
برنج	سردسیر
خرما	گرمسیری
	معتدل ومرطوب

پاسخ کامل دهید.

۲) دو مورد از مزایای کشت گلخانه ای را بنویسید ؟

.....

۲) مراحل عمده کشاورزی را نام ببرید؟ .....

۲) نقشه گردشگری چیست؟ .....

.....

۳) بزرگترین تجارت در جهان امروزی چیست؟ .....

۲) رونق تجارت و بازرگانی در اروپا چگونه باعث تغییر و تحول در اروپا شد؟

.....

۲) عوامل گسترش علوم و فنون در دوره اسلامی را نام ببرید؟(۳مورد).....

.....

۳) یک برنامه متعادل چگونه تنظیم می شود؟ .....

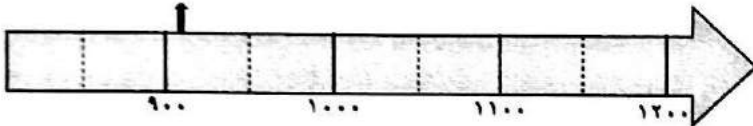
.....

۳۱) چند شغل که با دریا ارتباط دارند نام ببرید؟ (۳ مورد)

۳۲) سلسله صفویه در سال ۹۰۷ هجری تاسیس شد. یعنی نیمه ..... قرن .....

سقوط سلسله صفویه (سال ۱۱۳۵) را روی خط زمان نشان دهید.

تاسیس سلسله صفویه



۳۳) با توجه به نقشه جواب بدهید.

ام دو رود مرزی (۱) ..... (۲) .....

ام کوههای مرزی (۳) .....



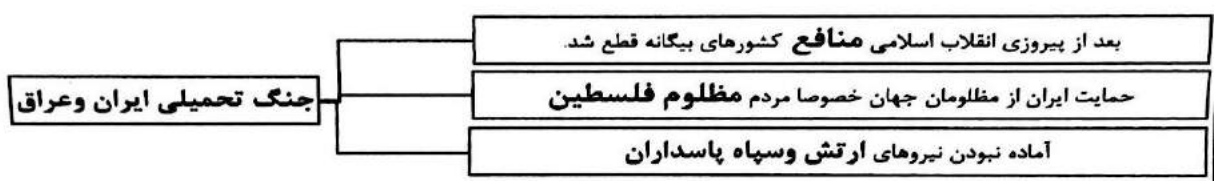
**کلید مطالعات اجتماعی پایه ششم**

- در صفحه
- (۱) ج (۲) الف (۳) ب (۴) د
- (۵) خوزستان (۶) نه گفتن (۷) مستعمره (۸) ویزا
- (۹) صفویه (۱۰) مهم (۱۱) بزرگترها (۱۲) و (۱۳) و (۱۵) درست (۱۴) نادرست

(۱۶) تولید کالا به یک شکل و تعداد زیاد را تولید انبوه می گویند.

(۱۱) در نیروگاه هابا سوزاندن سوختهای فسیلی آب را به بخار تبدیل میکنند و فشار بخار توربینها را به حرکت در می آورد و برق تولید می شود.

(۱۷)



- (۱۹) دزفول (۲۰) حضرت علی (ع) (۲۱) حکیم (۲۲) او را ببخشیم

(۲۳)

الف) محصول	ب) منطقه آب و هوای مناسب
برنج	سردسیری
خرما	گرمسیری
	معتدل و مرطوب

(۲۴) در مصرف آب صرفه جویی می شود - هر محصول با هر شرایط آب و هوایی را می توانیم پرورش دهیم - نور آن قابل تنظیم است.

۲۶) کاشت - داشت - برداشت

۲۶) نقشه ی گردشگری، نقشه ای است که روی آن، مکان های دیدنی و آثار تاریخی نشان داده می شود.

۲۷) صادرات و واردات نفت و گاز بزرگ ترین تجارت در جهان امروزی است.

۲۷) تجارت موجب شد ثروت اروپاییان بیشتر شود. شهر و شهرنشینی رشد کرد و شکل زندگی مردم را تغییر داد. به تدریج کارگاه های صنعتی افزایش یافت.

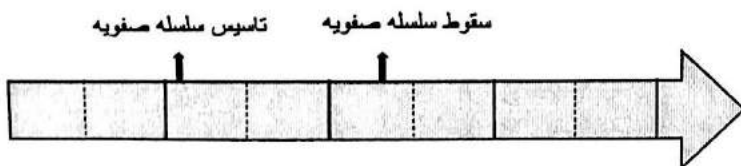
۲۹) آموزه های دین اسلام-نیاز های جدید جوامع مسلمان-ترجمه-حمایت فرمانروایان از دانشمندان- تجارت و ازرگانی- کاغذ سازی

۳۰) در برنامه ای متعادل، استراحت و خواب، درس خواندن، عبادت کردن و تفریح و سرگرمی به اندازه ی کافی وجود دارد و هر کاری در موقع مناسب انجام می شود .

۳۱) کار در کارخانه های کشتی سازی و لنج سازی و تولید کنسرو-بار اندازی - بار گیری - ماهیگیری -

۳۲) سلسله صفویه در سال ۹۰۷ هجری تاسیس شد. یعنی نیمه اول قرن دهم

سقوط سلسله صفویه (سال ۱۱۳۵) راروی خط زمان نشان دهید.



۳۲) ۱- اترک ۲- ارس ۳) کوههای آرا رات