


	تاریخ امتحان: ۱۳۹۸/۰۳/۱۸	رشته: عمومی	پایه: هفتم	سوالات امتحان: مطالعات اجتماعی
	مدت امتحان: ۷۰ دقیقه	آزمون نیمسال دوم خرداد ماه ۹۸		دوره اول آموزش متوسطه
	تعداد صفحات: ۴	دبیرستان پسرانه دوستی و گفتگوی ممتاز حنان - منطقه ۶ تهران		

نام و نام خانوادگی:	شماره صندلی:
---------------------	--------------

بارم		
		الف) پاسخ صحیح را انتخاب نموده و با علامت ✓ مشخص کنید. (۲ نمره)
۰/۵	۱	در دوره‌ی اشکانیان و ساسانیان مردم ایران به کدام یک از زبان‌های زیر صحبت می‌کردند؟ الف) پارسی دری <input type="checkbox"/> ب) پارسی میانه یا پهلوی <input type="checkbox"/> ج) زبان پارتی <input type="checkbox"/> د) پارسی باستان <input type="checkbox"/>
۰/۵	۲	سکه‌های زرین دریک و زر یک به فرمان این پادشاه ضرب شد. الف) کوروش <input type="checkbox"/> ب) خسرو پرویز <input type="checkbox"/> ج) اردشیر بابکان <input type="checkbox"/> د) داریوش اول <input type="checkbox"/>
۰/۵	۳	تمدن جیرفت در کجا قرار داشته است؟ الف) شوش کنار رود کارون <input type="checkbox"/> ب) کرمان کنار رود هلیل رود <input type="checkbox"/> ج) زابل کنار رود هیرمند <input type="checkbox"/> د) کرمان کنار رود هیرمند <input type="checkbox"/>
۰/۵	۴	پس از پیروزی انقلاب اسلامی قانون اساسی جمهوری اسلامی ایران توسط کدام نهاد نوشته شد؟ الف) مجلس شورای اسلامی <input type="checkbox"/> ب) شورای نگهبان <input type="checkbox"/> ج) مجلس خبرگان <input type="checkbox"/> د) توسط رهبری <input type="checkbox"/>
		ب) صحیح و نادرست بودن عبارتهای زیر را مشخص نمایید (۲ نمره)
۰/۵	۵	رودهای پر آبی که از کوه‌های زاگرس سرچشمه می‌گیرند به دریای خزر می‌ریزند. <input type="checkbox"/> صحیح <input type="checkbox"/> نادرست
۰/۵	۶	بیمه تعهد می‌کند در قبال دریافت حق بیمه از بیمه شونده، خسارت‌های ناشی از حوادث معینی را جبران کند. <input type="checkbox"/> صحیح <input type="checkbox"/> نادرست
۰/۵	۷	کشاورزی، مهم‌ترین پیشه و وسیله‌ی معیشت در ایران باستان بود. <input type="checkbox"/> صحیح <input type="checkbox"/> نادرست
۰/۵	۸	اختلاف طبقاتی در دوره‌ی اشکانیان به اوج خود رسیده بود. <input type="checkbox"/> صحیح <input type="checkbox"/> نادرست
		پ) در جاهای خالی کلمات مناسب بنویسید. (۲ نمره)
۰/۵	۹	در کشور ما بخش عمده‌ای از سفرها جنبه‌ی دارند.
۰/۵	۱۰	مردمانی که حدود چهارهزار سال پیش از مناطق شمال دریای خزر به تدریج وارد سرزمین ایران شدند را می‌نامند.
۰/۵	۱۱	حکومت ساسانیان توسط فردی به نام تأسیس گردید.
۰/۵	۱۲	اولین ناحیه پر تراکم کشور ما منطقه‌ی شهری است.
		ادامه سوالات در پشت صفحه

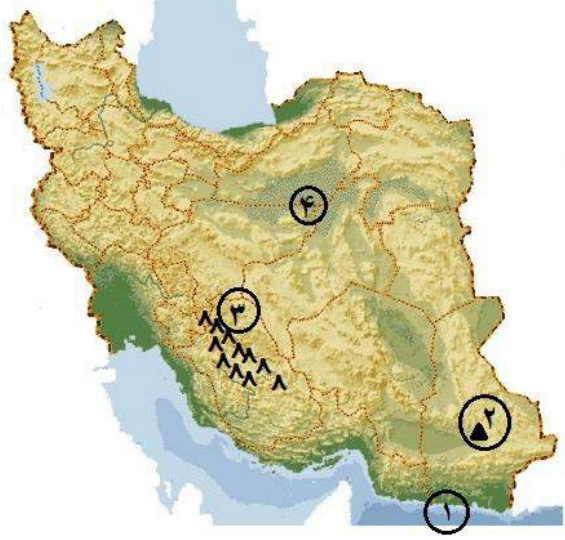
	تاریخ امتحان: ۱۳۹۸/۰۳/۱۸	رشته: عمومی	پایه: هفتم	سوالات امتحان: مطالعات اجتماعی
	مدت امتحان: ۷۰ دقیقه	آزمون نیمسال دوم خرداد ماه ۹۸		دوره اول آموزش متوسطه
	تعداد صفحات: ۴	دبیرستان پسرانه دوستی و گفتگوی ممتاز حنان - منطقه ۶ تهران		

۱	<p>(ت) پایتخت‌ها را به دولت‌هایشان وصل کنید. (انمره)</p> <table border="1"> <tr> <td>۱۳- هخامنشیان</td> <td>شوش و هگمتانه</td> </tr> <tr> <td>۱۴- ساسانیان</td> <td>هگمتانه</td> </tr> <tr> <td>۱۵- اشکانیان</td> <td>تیسفون، گور (فیروزآباد)</td> </tr> <tr> <td>۱۶- مادها</td> <td>صد دروازه و تیسفون</td> </tr> </table>					۱۳- هخامنشیان	شوش و هگمتانه	۱۴- ساسانیان	هگمتانه	۱۵- اشکانیان	تیسفون، گور (فیروزآباد)	۱۶- مادها	صد دروازه و تیسفون																
۱۳- هخامنشیان	شوش و هگمتانه																												
۱۴- ساسانیان	هگمتانه																												
۱۵- اشکانیان	تیسفون، گور (فیروزآباد)																												
۱۶- مادها	صد دروازه و تیسفون																												
۱	<p>(ث) با توجه به توضیحات مقابل هر ردیف جدول زیر را کامل نمائید (حرف اول هر کلمه آمده است). (انمره)</p> <table border="1"> <tr> <td>۱۷</td> <td>ق</td> <td></td> <td></td> <td></td> <td>برای حفظ حقوق افراد جامعه لازم است.</td> </tr> <tr> <td>۱۸</td> <td>ن</td> <td></td> <td></td> <td></td> <td>از پیامبران الهی که در بین النهرین می زیسته است.</td> </tr> <tr> <td>۱۹</td> <td>ا</td> <td></td> <td></td> <td></td> <td>لقب یکی از روسای قبایل پارت.</td> </tr> <tr> <td>۲۰</td> <td>ت</td> <td></td> <td></td> <td></td> <td>نسبت جمعیت ساکن در یک محل به مساحت آن را می گویند.</td> </tr> </table>					۱۷	ق				برای حفظ حقوق افراد جامعه لازم است.	۱۸	ن				از پیامبران الهی که در بین النهرین می زیسته است.	۱۹	ا				لقب یکی از روسای قبایل پارت.	۲۰	ت				نسبت جمعیت ساکن در یک محل به مساحت آن را می گویند.
۱۷	ق				برای حفظ حقوق افراد جامعه لازم است.																								
۱۸	ن				از پیامبران الهی که در بین النهرین می زیسته است.																								
۱۹	ا				لقب یکی از روسای قبایل پارت.																								
۲۰	ت				نسبت جمعیت ساکن در یک محل به مساحت آن را می گویند.																								
۰/۵	۲۱	<p>(ج) به پرسش‌های زیر پاسخ دهید. (۱۱ انمره)</p> <p>یکی از اثرات رشد منفی جمعیت را بنویسید.</p>																											
۰/۵	۲۲	<p>هدف از ایجاد پارک‌های ملی چیست؟</p>																											
۰/۵	۲۳	<p>چرا گردشگری تاریخی در ایران رواج دارد؟</p>																											
۰/۷۵	۲۴	<p>اقوام آریایی که وارد ایران شدند به سه گروه یا قبیله تقسیم شدند. آن‌ها را نام ببرید.</p>																											
۰/۷۵	۲۵	<p>سه مورد از امتیازات یا ویژگی‌های طبقه‌ی اشراف در دوره ساسانیان را بنویسید.</p>																											
ادامه سوالات در صفحه بعد																													


	تاریخ امتحان: ۱۳۹۸/۰۳/۱۸	رشته: عمومی	پایه: هفتم	سوالات امتحان: مطالعات اجتماعی
	مدت امتحان: ۷۰ دقیقه	آزمون نیمسال دوم خرداد ماه ۹۸		دوره اول آموزش متوسطه
	تعداد صفحات: ۴	دبیرستان پسرانه دوستی و گفتگوی ممتاز حنان - منطقه ۶ تهران		

۱	هریک از موارد زیر را تعریف کنید. میراث فرهنگی: علم تاریخ:	۲۶
۱	یکی از موارد زیر را انتخاب نموده و دو خط در مورد آن توضیح دهید. «آداب غذا خوردن در ایران باستان- علم پزشکی در اوستا- واژه‌ی جشن و جشن‌های ایران باستان»	۲۷
۱	زیستگاه (زیست بوم) را تعریف کنید.	۲۸
۱	در مورد سپاه جاویدان توضیح دهید.	۲۹
۱	دو مورد از فواید و یا اهمیت گردشگری را بنویسید.	۳۰
۱	از عواملی که باعث نابودی و از بین رفتن خاک می‌شوند دو مورد را بنویسید.	۳۱
	ادامه سوالات در پشت صفحه	
۱	دو مورد از وظایف شورای نگهبان را بنویسید.	۳۲


	تاریخ امتحان: ۱۳۹۸/۰۳/۱۸	رشته: عمومی	پایه: هفتم	سوالات امتحان: مطالعات اجتماعی
	مدت امتحان: ۷۰ دقیقه	آزمون نیمسال دوم خرداد ماه ۹۸		دوره اول آموزش متوسطه
	تعداد صفحات: ۴	دبیرستان پسرانه دوستی و گفتگوی ممتاز حنان - منطقه ۶ تهران		

۱	۴ مورد از ویژگی های تمدن را بنویسید.	۳۳
۱	با توجه به شماره های روی نقشه به پرسش های زیر پاسخ دهید. (۱) دریای (۲) قلعه ی (۳) رشته کوه (۴) دشت	۳۴
		
۲۰	جمع نمرات	

<p>۳- در صورت مغایرت نمره های موارد ۱ و ۲</p> <p>با عدد باحروف</p> <table border="1" style="width: 100%;"> <tr> <td style="width: 50%; height: 30px;"></td> <td style="width: 50%; height: 30px;"></td> </tr> </table> <p>نام و نام خانوادگی تایید کننده امضا</p>			<p>۲- رسیدگی به اعتراضات</p> <p>با عدد باحروف</p> <table border="1" style="width: 100%;"> <tr> <td style="width: 50%; height: 30px;"></td> <td style="width: 50%; height: 30px;"></td> </tr> </table> <p>نام و نام خانوادگی تجدید نظر کننده امضا</p>			<p>۱- تصحیح</p> <p>نمره: با عدد باحروف</p> <table border="1" style="width: 100%;"> <tr> <td style="width: 50%; height: 30px;"></td> <td style="width: 50%; height: 30px;"></td> </tr> </table> <p>نام و نام خانوادگی مصحح امضا</p>		

	تاریخ امتحان: ۱۳۹۸/۰۳/۱۸	رشته: عمومی	پایه: هفتم	سوالات امتحان: مطالعات اجتماعی
	مدت امتحان: ۷۰ دقیقه	آزمون نیمسال دوم خرداد ماه ۹۸		دوره اول آموزش متوسطه
	تعداد صفحات: ۴	دبیرستان پسرانه دوستی و گفتگوی ممتاز حنان - منطقه ۶ تهران		

متن پاسخ	
الف) پاسخ صحیح را انتخاب نموده و با علامت ✓ مشخص کنید.	
۱	پارسی میانه یا پهلوی (۰/۵)
۲	داریوش اول (۰/۵)
۳	کرمان کنار رود هلیل رود (۰/۵)
۴	مجلس خبرگان (۰/۵)
ب) صحیح و غلط بودن عبارتهای زیر را مشخص نمایید.	
۵	غلط (۰/۵)
۶	غلط (۰/۵)
۷	صحیح (۰/۵)
۸	غلط (۰/۵)
پ) در جاهای خالی کلمات مناسب بنویسید.	
۹	زیارتی (۰/۵)
۱۰	آریایی (۰/۵)
۱۱	اردشیر بابکان (۰/۵)
۱۲	تهران (۰/۵)
ت) پایتختها را به دولتهایشان وصل کنید	
۱۳	هخامنشیان ← شوش، هگمتانه (۰/۲۵)
۱۴	ساسانیان ← تیسفون، گور (فیروزآباد) (۰/۲۵)
۱۵	اشکانیان ← صد دروازه، تیسفون (۰/۲۵)
۱۶	مادها ← همدان (هگمتانه) (۰/۲۵)
ث) با توجه به توضیحات مقابل هر ردیف جدول زیر را کامل نمایید.	
۱۷	قانون (۰/۲۵)
۱۸	نوح (۰/۲۵)
۱۹	ارشک (۰/۲۵)
۲۰	تراکم (۰/۲۵)
ج) به پرسشهای زیر پاسخ دهید.	
۲۱	الف) با کم شدن زاد و ولد جمعیت جوان کاهش می یابد. ب) تعداد سالمندان افزایش می یابد. ج) از نیروی جوان که می تواند کار کند و فعالیت اقتصادی و آموختن علم و پیشرفت محروم می شود. (یک مورد کافیست). (۰/۵)
۲۲	از آسیب رساندن به محیط زیست جلوگیری می شود. (۰/۵)
۲۳	به دلیل دارا بودن تاریخ طولانی و آثار و بناهای متعدد مانند کاخها، مساجد و ... (۰/۵)
۲۴	پارسیها / مادها / پارتها (هر مورد ۰/۲۵)
۲۵	الف) آنها زمین و ثروت فراوان داشتند ب) از پرداخت مالیات معاف بودند ج) از حق تحصیل و آموزش برخوردار بودند. د) خود را صاحب جان و مال مردم می دانستند. (سه مورد هر مورد ۰/۲۵ جمعا ۰/۷۵ نمره)
۲۶	میراث فرهنگی: همه آثار ارزشمندی است که به فرهنگ یک ملت مربوط می شود. (۰/۵) علم تاریخ: مطالعه ی زندگی انسانها در گذشته (۰/۵)
۲۷	آداب غذا خوردن: سخن گفتن به هنگام غذا خوردن را گناه می دانستند، شستن دستها قبل و بعد از غذا خوردن، خواندن دعای نان در ابتدا و پایان غذا علم پزشکی در اوستا: در بخشی از کتاب اوستا از سه نوع پزشک جراح، پزشک عمومی و پزشک دعا که با دعای مقدس باطن افراد را درمان می کند.

	تاریخ امتحان: ۱۳۹۸/۰۳/۱۸	رشته: عمومی	پایه: هفتم	سوالات امتحان: مطالعات اجتماعی
	مدت امتحان: ۷۰ دقیقه	آزمون نیمسال دوم خرداد ماه ۹۸		دوره اول آموزش متوسطه
	تعداد صفحات: ۴	دبیرستان پسرانه دوستی و گفتگوی ممتاز حنان - منطقه ۶ تهران		

جشن و جشن‌های ایران باستان: واژه‌ی جشن از پشت و سینه اوستایی گرفته شده که به معنای پرستیدن و نیایش است و جشن‌ها اهمیت دینی داشته‌اند. مانند نوروز، مهرگاه و جشن سده (۱ نمره اشاره به مفهوم نمره دارد).	
به منطقه‌ی بزرگی که در آن مجموعه‌ای از گیاهان و جانوران خاصی زندگی می‌کنند. (۱)	۲۸
یکی از ابتکارات دارویش بوده است تعداد افراد آن ۱۰ هزار نفر بوده و به گروه‌های ده نفره تقسیم می‌شد و هرگاه یکی از افراد از بین می‌رفت یک نفر جنگاور دیگر جای او را می‌گرفت. (۱)	۲۹
با پدیده‌های زیبای طبیعی و مکان تاریخی و فرهنگی آشنا می‌شود. آشنایی با آداب و رسوم مردم مناطق مختلف. ایجاد شغل‌های مختلف، ایجاد درآمد بیش‌تر (دو مورد هر مورد ۵/۰ نمره جمعا ۱ نمره)	۳۰
مصرف زیاد مواد غذایی، کشت پی‌در پی و استراحت ندادن به خاک، قطع درختان و کندم بوته‌ها، موجب راحت شسته شدن خاک می‌شود. استفاده از کودهای شیمیایی، دفن زباله در خاک. (دو مورد هر مورد ۵/۰ نمره جمعا ۱ نمره)	۳۱
این شورا همه مصوباتی را که مجلس تصویب می‌کند با قانون اساسی و اصول و احکام دین اسلام تطبیق می‌دهد تا با قانون اساسی و اصول و احکام دین مغایرت نداشته باشد. نظارت بر انتخابات مانند انتخابات ریاست جمهوری، بررسی و تایید صلاحیت انتخابات ریاست جمهوری (دو مورد هر مورد ۵/۰ نمره جمعا ۱ نمره)	۳۲
خط-حکومت-قوانین و مقررات-عقاید مذهبی-معماری شهرسازی و هنر-تقسیم کار مهارت در کارهای مختلف-دادوستد و تجارت	۳۳
ج) از دو سوال زیر به دلخواه خود فقط به یک سوال پاسخ دهید	
الف) زرتشتی ب) زرتشت ج) اوستا د) آتشکده (هر مورد ۲۵/۰)	۳۴
۱- دریای عمان ۲- قله‌ی تفتان ۳- رشته کوه زاگرس ۴- دشت کویر (هر مورد ۲۵/۰)	۳۵