


طراح سؤال: مرادی نمره به عدد: نمره به حروف: امضاء مصحح:		دیرستان: فرزندان دوره: متوسطه اول				
		آموزش و پرورش شهرستان نور آباد		امتحان درس: مطالعات اجتماعی نوبت: دوم		
		نام و نام خانوادگی:			سال تحصیلی: 1402	
		پایه: هشتم			تاریخ امتحان: 28/02	
شماره کلاس:		تعداد صفحات: 2		ساعت شروع: 10/00		
شماره صفحه: ...		وقت: 60 دقیقه				

فصل اول ، دوم و سوم

- 1- به اموال و دارایی هایی که وقف می شود، می گویند. 0/5
- 2- حداقل سن رأی دهندگان در ایران چند سال است؟ 0/5
الف (الف) 15 □ ب (ب) 16 □ ج (ج) 18 □ د (د) 20 □
- 3- هر نوجوان نخست توسط در برابر آسیب های اجتماعی محافظت می شود. 0/5
الف - خودش □ ب - خانواده □ ج - قانون □ د - مدرسه □

1.5 نمره

فصل چهارم ، پنجم و ششم

- 1- یعقوب لیث موسس سلسله صفاریان با پشتیبانی مردم سیستان و به خصوص گروه به قدرت دست یافت. 0/5 نمره
- 2- امام حسین (ع) هدف از قیام خود را چه می دانست؟ 0/5
- 3- هنگام استفاده از فضای مجازی چه نکاتی را باید رعایت کرد؟ یک مورد . 0/5

1.5 نمره

فصل هفتم

- 1- خواجه نظام الملک مداری در شهر های مختلف بنیان گذاشت که همگی آنها خوانده می شد. 0/5
- 2- کدام سلطان سلجوقی امپراتوری روم شرقی را در نبرد ملازگرد اسیر کرد؟ 0/5
الف (طغرل □ ب (آلب ارسلان □ ج (ملکشاه □ د (سلطان مسعود □
- 3- چرا پایه های حکومت خوارزمشاهیان چندان محکم نبود؟ یک مورد 0/5
- 4- چرا سلجوقیان مجبور به استفاده از وزیران ایرانی شدند؟ 0/5

2 نمره

فصل هشتم

- 1- بهانه چنگیزخان برای حمله به ایران چه بود؟ 0/5
- 2- شعار سرداران چه بود؟ 0/5
- 3- یکی از کارهای ارزشمند خواجه نصیر تشویق هلاکو به ساختن بود. 0/5
- 4- خلافت عباسیان توسط چه کسی برانداخته شد؟ 0/5
الف (هلاکوخان □ ب (چنگیزخان □ ج (تیمور □ د (شاهرخ □

2 نمره

فصل نهم

- 1- اوراسیا چیست؟ 1
- 2- قلّه اورست در رشته کوه هیمالیا، بلندترین قلّه جهان است و به آن لقب داده اند. 0/5
- 3- مهمترین محصول کشاورزی در قاره آسیا برنج است. 0/5 ص □ غ □
- 4- بیشتر جمعیت آسیا از نژاد هستند. 0/5
- 5- آسیا از نظر بارش به چند بخش تشکیل می شود؟ نام ببرید. 1

3.5 نمره

فصل دهم

1- چرا منطقه جنوب غرب آسیا راهبردی و مهم است؟ دو مورد 1

2- یکی از مسائل مهم منطقه جنوب غربی آسیا کمبود است. 0/5

3- جزایر ایران در خلیج فارس از چه جهاتی اهمیت دارد؟ دو مورد 1

4- اگر فاصله دو روستا روی نقشه ای 10 سانتی متر باشد، در صورتی که مقیاس نقشه $\frac{1}{100000}$ باشد، فاصله این دو روستا روی زمین، چقدر است؟ 1

3.5 نمره

فصل یازدهم

1- ناهمواری های اروپا به چند بخش تقسیم می شود؟ نام ببرید. 0/5

2- چه عواملی موجب تراکم بالای جمعیت در اروپا شده است؟ دو مورد 1

3- علت تشکیل دریاچه های شرق آفریقا چیست؟ 0/5

4- رود طولانی ترین رود جهان است. 0/5

5- در گذشته چه عواملی از افزایش جمعیت آفریقا جلوگیری می کرد؟ یک مورد 0/5

3 نمره

فصل دوازدهم

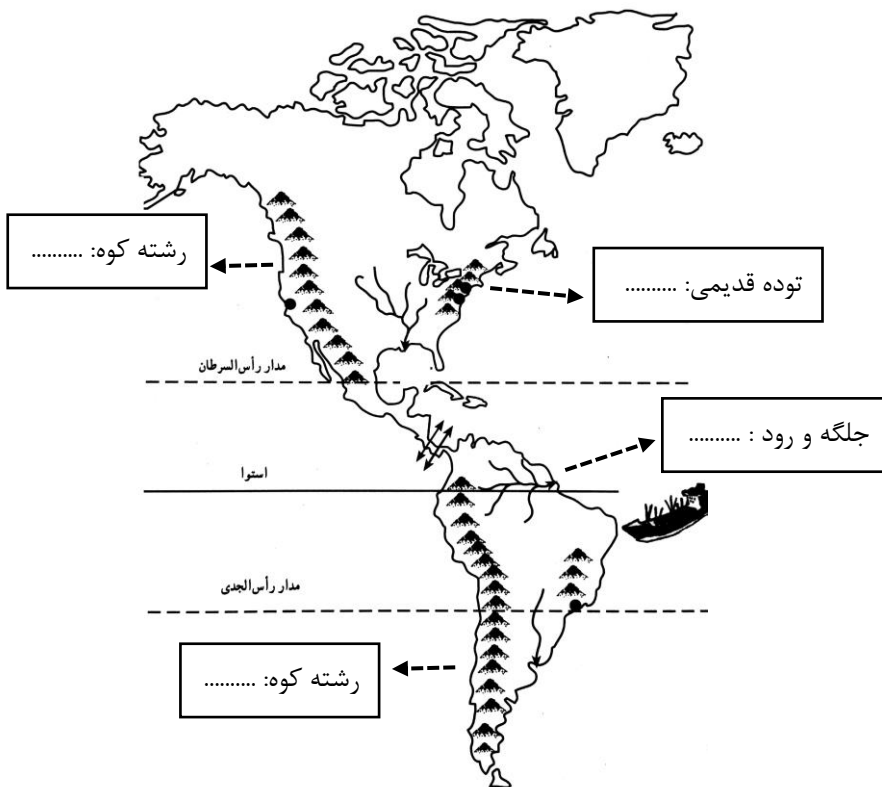
1- تا قبل از حفر کانال کشتی ها برای عبور از اقیانوس اطلس به آرام ، آمریکای جنوبی را دور می زدند. 0/5


2- چه عواملی موجب پیشرفت و توسعه آمریکای شمالی شده است؟ دو مورد 1

3- قاره کم وسعت ترین و کم جمعیت ترین قاره مسکونی جهان است. 0/5

4- جاهای خالی مربوط به نقشه قاره آمریکا را پر کنید . 1

3 نمره



طرح سؤال: مرادی نمره به عدد: نمره به حروف: امضاء مصحح:		آموزش و پرورش شهرستان نور آباد		دبیرستان: فرزندان دوره: متوسطه اول	
		نام و نام خانوادگی:		امتحان درس: مطالعات اجتماعی نوبت: دوم	
		شماره کلاس:		سال تحصیلی: 1402	
		تعداد صفحات: 2	شماره صفحه: ...	تاریخ امتحان	ساعت شروع: ... / ... / ...

فصل اول، دوم و سوم

1- به اموال و دارایی هایی که وقف می شود، می گویند. 0/5 موقوفات

2- حداقل سن رأی دهندگان در ایران چند سال است؟ 0/5 18

الف (الف) 15 ب (ب) 16 ج (ج) 18 د (د) 20

3- هر نوجوان نخست توسط در برابر آسیب های اجتماعی محافظت می شود. 0/5 خودش

الف - خودش ب - خانواده ج - قانون د - مدرسه

1.5 نمره

فصل چهارم، پنجم و ششم

1- یعقوب لیث موسس سلسله صفاریان با پشتیبانی مردم سیستان و به خصوص گروه به قدرت دست یافت. 0/5 نمره عیاران

2- امام حسین (ع) هدف از قیام خود را چه می دانست؟ 0/5 امر به معروف و نهی از منکر و پیاده کردن سیره پیامبر (ص) و امام علی (ع)

3- هنگام استفاده از فضای مجازی چه نکاتی را باید رعایت کرد؟ یک مورد. 0/5 به افراد ناشناس اعتماد نکنیم

1.5 نمره

فصل هفتم

1- خواجه نظام الملک مداری در شهر های مختلف بنیان گذاشت که همگی آنها خوانده می شد. 0/5 نظامیه

2- کدام سلطان سلجوقی امپراتوری روم شرقی را در نبرد ملازگرد اسیر کرد؟ 0/5 آلب ارسلان

الف (طغرل) ب (آلب ارسلان) ج (ملکشاه) د (سلطان مسعود)

3- چرا پایه های حکومت خوارزمشاهیان چندان محکم نبود؟ یک مورد 0/5 تسلطی بر فرمانروایان محلی نداشتند

4- چرا سلجوقیان مجبور به استفاده از وزیران ایرانی شدند؟ 0/5 چون از کشور داری و حکومت بی خبر بودند

2 نمره

فصل هشتم

1- بهانه چنگیزخان برای حمله به ایران چه بود؟ 0/5 قتل اعضای کاروان تجاری مغول در ایران

2- شعار سرداران چه بود؟ 0/5 سر به دار میدهیم تن به ذلت نمی دهیم

3- یکی از کارهای ارزشمند خواجه نصیر تشویق هلاکو به ساختن بود. 0/5 رصدخانه مراغه

4- خلافت عباسیان توسط چه کسی برانداخته شد؟ 0/5 هلاکوخان

الف (هلاکوخان) ب (چنگیزخان) ج (تیمور) د (شاهرخ)

2 نمره

فصل نهم

1- اوراسیا چیست؟ 1

2- قلّه اورست در رشته کوه هیمالیا، بلندترین قلّه جهان است و به آن لقب داده اند. 0/5 بام دنیا

3- مهمترین محصول کشاورزی در قاره آسیا برنج است. 0/5 ص غ صحیح

4- بیشتر جمعیت آسیا از نژاد هستند. 0/5 زردپوست

5- آسیا از نظر بارش به چند بخش تشکیل می شود؟ نام ببرید. 1 آسیای مرطوب و آسیای خشک

3.5 نمره

فصل دهم

1- چرا منطقه جنوب غرب آسیا راهبردی و مهم است؟ دو مورد 1 محل اتصال سه قاره - ذخایر نفت و گاز - کانون جهان اسلام

2- یکی از مسائل مهم منطقه جنوب غربی آسیا کمبود است. 0/5 آب شیرین

3- جزایر ایران در خلیج فارس از چه جهاتی اهمیت دارد؟ دو مورد 1 تجارت و بازرگانی - نفت - نظامی

4- اگر فاصله دو روستا روی نقشه ای 10 سانتی متر باشد، در صورتی که مقیاس نقشه $\frac{1}{100000}$ باشد، فاصله این دو روستا روی زمین، چقدر است؟ 1

3.5 نمره

$$10 * 100000 = 1000000 \text{ cm} . 1000000 / 100000 = 10 \text{ km}$$

فصل یازدهم

1- ناهمواری های اروپا به چند بخش تقسیم می شود؟ نام ببرید. 0/5 جوان - پیر

2- چه عواملی موجب تراکم بالای جمعیت در اروپا شده است؟ دو مورد 1 شرایط مساعد طبیعی - پیشرفت در علم و فناوری

3- علت تشکیل دریاچه های شرق آفریقا چیست؟ 0/5 فرورفتگی (شکست) در زمین

4- رود طولانی ترین رود جهان است. 0/5 نیل

5- در گذشته چه عواملی از افزایش جمعیت آفریقا جلوگیری می کرد؟ یک مورد 0/5 فقر - خشکسالی - بیماری های واگیردار

3 نمره

فصل دوازدهم

1- تا قبل از حفر کانال کشتی ها برای عبور از اقیانوس اطلس به آرام ، آمریکای جنوبی را دور می زدند. 0/5 پاناما

2- چه عواملی موجب پیشرفت و توسعه آمریکای شمالی شده است؟ دو مورد 1 دوری از جنگ جهانی دوم - جذب دانشمندان و متخصصان کشورها

3- قاره کم وسعت ترین و کم جمعیت ترین قاره مسکونی جهان است. 0/5 استرالیا

3 نمره

4- جاهای خالی مربوط به نقشه قاره آمریکا را پر کنید . 1

