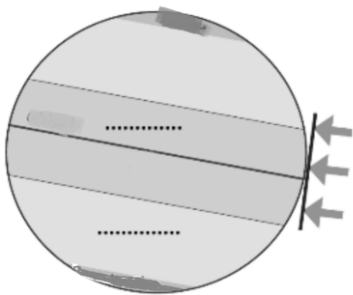



نام و نام خانوادگی:		بسمه تعالی	
نام پدر:		اداره کل آموزش و پرورش استان فارس	
نام آموزشگاه:		مدیریت آموزش پرورش	
نمره با عدد:		نمره با حروف	
نام و نام خانوادگی و امضاء مصحح:		نام درس: مطالعات اجتماعی نهم	
تاریخ امتحان: ۹۹/۱۰/.....		مدت امتحان: ۶۰ دقیقه	
ساعت امتحان: ۱۲:۳۰		سوالات در ۳ صفحه	

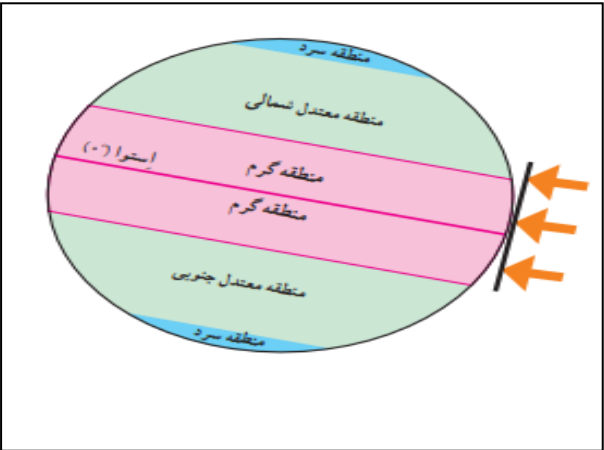
بارم	امتحان درس مطالعات اجتماعی پایه نهم نوبت دی ماه ۱۳۹۹	ردیف
۰/۲۵ ۰/۵	۱- در میان چهار سیاره نزدیک به خورشید، زمین بزرگترین است. <input type="checkbox"/> ص <input type="checkbox"/> غ	فصل اول
۰/۷۵	۲- دو ویژگی سیارات درونی را بنویسید؟	
۰/۷۵	۳- از میان عبارات داخل پرانتز پاسخ صحیح را انتخاب کنید. الف- کوتاهترین روز سال در اول دی ماه در نیمکره شمالی. (اعتدالین، انقلاب زمستانی، انقلاب تابستانی) ب- مدت زمان ۳۶۵ روز و ۶ ساعت. (سال رسمی، سال کیسه، سال واقعی) ج- فاصله هر مکان بامدار استوا برحسب درجه. (عرض جغرافیایی، مختصات جغرافیایی، طول جغرافیایی)	
۰/۵	۴- اختلاف شب و روز در نتیجه حرکت زمین است.	
۰/۷۵	۵. به شکل مقابل نگاه کنید و به پرسش ها پاسخ دهید. الف) نصف النهار مبدأ را روی شکل مشخص کنید. ب) اگر بر روی این کره ۲۰ نصف النهار داشته باشیم فاصله آن از یکدیگر چند درجه است (با راه حل)	
۰/۷۵	۶. اگر مسافری از تهران به کانادا سفر کند باید ساعت خود را به جلو بکشد یا عقب؟ چرا؟	
۰/۷۵	۱. محیط قابل زندگی برای انسان و دیگر موجودات زنده را چه می گویند؟ الف) زیست کره <input type="checkbox"/> ب) هواکره <input type="checkbox"/> ج) سنگ کره <input type="checkbox"/> د) آب کره <input type="checkbox"/>	فصل دوم
۰/۵	۲. از نتایج حرکت ورقه ها در پوسته، ایجاد و است.	
۰/۵	۳. در جایی که اقیانوس ها با خشکی تماس دارند، اغلب ناحیه ای کم عمق بار ژرفایی کمتر از ۲۰۰ متر دیده می شود می گویند.	
۰/۲۵ ۱	۴. در کوه های کم ارتفاع شیب دامنه ها ملایم است و دره های بین آنها V شکل است. <input type="checkbox"/> ص <input type="checkbox"/> غ	
۰/۷۵	۵. گرم شدن کره زمین چه پیامدهای ناخوشایندی در پی خواهد داشت؟ ۴ مورد	
۰/۷۵	۶. از یکسان نتابیدن خورشید به سطح زمین سه منطقه آب و هوایی در روی زمین پدید می آید. بر روی شکل مقابل، بنویسید.	



<p>۰/۵</p> <p>۰/۵</p> <p>۱/۵</p> <p>۱</p>	<p>۱. شکل ناهمواری ها، مهم ترین و بیشترین تأثیر را در تنوع زیست بوم های جهان دارد. <input type="checkbox"/> ص <input type="checkbox"/> غ</p> <p>۲.غنی ترین تنوع گیاهی و جانوری را دارد.</p> <p>۳. مهم ترین عوامل تخریب زیستگاه ها را بنویسید. ۳ مورد</p> <p>۴. هر کدام از زیست بوم های زیر با کدام توضیح مرتبط است. (یک مورد اضافی است) (تایگا، ساوان، بیابان، توندرا، جنگل بارانی استوایی)</p> <p>۱. میزان بارندگی سالیانه ۲۵۰۰ میلی متر است. (.....)</p> <p>۲. ناحیه ای در حاشیه اقیانوس منجمد شمالی. (.....)</p> <p>۳. منطقه علفزارها با درختان تک و منفرد. (.....)</p> <p>۴. گسترده ترین زیست بوم. (.....)</p>	<p>فصل سوم</p>
<p>۰/۵</p> <p>۱</p> <p>۰/۵</p> <p>۰/۷۵</p> <p>۰/۷۵</p>	<p>۱. رشد طبیعی جمعیت در یک مکان به دو عامل و در یک دوره زمانی وابسته است.</p> <p>۲. برای هر کدام از مهاجرت ها یک مثال بزنید؟ الف) داخلی و اختیاری ب) خارجی و اجباری</p> <p>۳. کدام مورد از ملاک های توسعه انسانی محسوب نمی شود؟ الف) امنیت و آزادی <input type="checkbox"/> ب) سواد و آموزش <input type="checkbox"/> ج) درآمد و رفاه <input type="checkbox"/> د) امید به زندگی <input type="checkbox"/></p> <p>۴. سه نمونه از جاذبه های شهرهای بزرگ که سبب جذب جمعیت می گردد را بنویسید؟</p> <p>۵. عوامل داخلی نابرابری در جهان کدامند؟ (۳ مورد بنویسید) ۱. ۲. ۳.</p>	<p>فصل چهارم</p>
<p>۰/۵</p> <p>۰/۵</p> <p>۱</p> <p>۱</p>	<p>۱. شاه عباس به کمک نیروهای کدام کشور، پرتغالی ها را از سواحل و جزایر جنوبی بیرون کرد؟ الف) عثمانی <input type="checkbox"/> ب) روسیه <input type="checkbox"/> ج) فرانسه <input type="checkbox"/> د) انگلستان <input type="checkbox"/></p> <p>۲. در دوره ی صفوی شعر و ادب فارسی رونق گرفت. <input type="checkbox"/> ص <input type="checkbox"/> غ</p> <p>۳. دو مورد از اقدامات شاه اسماعیل صفوی را بنویسید؟</p> <p>۴. عوامل گسترش و رونق تجارت در عصر صفوی را بنویسید؟ ۲ مورد</p>	<p>فصل پنجم</p>

۰/۵	در زمان کدام پادشاه، اوج رقابت کشورهای روسیه و انگلستان برای کسب امتیازات اقتصادی بود؟ الف) ناصرالدین شاه <input type="checkbox"/> ب) فتحعلی شاه <input type="checkbox"/> ج) آقامحمدخان <input type="checkbox"/> د) نادر <input type="checkbox"/>	فصل ششم
۰/۵	۲. به موجب عهدنامه ی سرزمین های ایرانی شمال رود ارس به تصرف روسیه درآمد؟ ۳. در مورد کریم خان به سوالات زیر پاسخ دهید؟	
۰/۵	الف) پایتخت در کدام شهر بود؟ ب) نوع رفتار با مردم	
۰/۵	۴. هدف اصلی انگلستان از برقراری ارتباط باحکومت قاجار چه بود؟	
۱	۵. اهداف امیرکبیر از اقدامات اصلاحی چه بود؟ ۲ مورد	

موفق و سربلند باشید

بارم	پاسخنامه امتحان درس مطالعات اجتماعی پایه نهم نوبت دی ماه ۱۳۹۹	ردیف
<p>۰/۲۵</p> <p>۰/۵</p> <p>۰/۷۵</p> <p>۰/۵</p> <p>۰/۷۵</p> <p>۰/۷۵</p>	<p>۱- صحیح</p> <p>۲- در فاصله نزدیک تری به خورشید قرار دارند..سطحی سنگی و جامد دارند</p> <p>۳- الف- انقلاب زمستانی، ب- سال واقعی ج- عرض جغرافیایی</p> <p>۴. وضعی.</p> <p>۵. به شکل مقابل نگاه کنید و به پرسش ها پاسخ دهید.</p> <p>الف) نصف النهار مبدأ را روی شکل مشخص کنید. ←</p> <p>ب) مجموع نصف النهار های شرقی و غربی ۳۶۰ درجه هستند اگر آن را به ۲۰ تقسیم کنیم در مجموع ۱۸ نصف النهار خواهیم داشت</p> <p>۶ عقب بکشند..زیرا هرگاه بخواهیم از غرب به شرق سفر کنیم باید ساعت را عقب بکشیم و کانادا در ناحیه شرقی تر قرار دارد</p>	<p>فصل اول</p>
<p>۰/۵</p> <p>۰/۵</p> <p>۰/۵</p> <p>۰/۲۵</p> <p>۱</p> <p>۰/۷۵</p>	<p>۱. الف) زیست کره</p> <p>۲. چین خوردگیها و رشته کوهها، شکستهها گسلها و کوههای آتشفشانی ۲ مورد</p> <p>۳. فلات قاره (ایوان خشکی)</p> <p>۴. غ</p> <p>۵. ذوب شدن یخهای قطبی، بال آمدن آب ، به زیر آب رفتن نواحی ساحلی و جزیره ها یا افزایش و طولانی شدن دوره های خشکسالی در نواحی گرم و خشک، افزایش سیلاب</p> <p>۶</p> 	<p>فصل دوم</p>
<p>۰/۵</p> <p>۰/۵</p> <p>۱/۵</p> <p>۱</p>	<p>۱. غ</p> <p>۲. جنگل های بارانی استوایی</p> <p>۳. ایجاد و گسترش شهرها و روستاها، ساختن پل، جاده، ساختمانها و سدها بدون برنامه ریزی و توجه به جنبه های زیست محیطی ب: فعالیتهای صنعتی و تولید انبوه کالها در کارخانه ها ج: مصرف گرایی و تولید انبوه زباله د: شکار و تجارت اعضای بدن حیوانات.</p> <p>۴. ۱... جنگل بارانی استوایی ۲. توندرا ۳. ساوان ۴. تایگا</p>	<p>فصل سوم</p>

<p>۰/۵ ۱ ۰/۵ ۰/۷۵ ۰/۷۵</p>	<p>۱. میزان موالید (تولدها) و میزان مرگ ومیرها ۲. الف) مهاجرت به دلیل تحصیل.. کارگران فصلی ب) جنگ ، خشکسالی و قحطی و..... ۳. الف) امنیت و آزادی □ ۴. مکانهای گردشگری و زیارتی و یا مکانهایی که امکانات مناسب آموزشی، اقتصادی، بهداشتی ۵. وابستگی حکومتها به بیگانگان، استبداد، وجود برخی فرهنگها و عاداتهای غلط مانند تنبلی یا کم اهمیت انگاشتن کار و تلاش، نبود مدیریت صحیح و غفلت از استعدادها و ظرفیتهای داخلی هر کشور و نبودن وحدت و مشارکت بین مردم</p>	<p>فصل چهارم</p>
<p>۰/۵ ۰/۵ ۱ ۱</p>	<p>۱. د) انگلستان ۲. ص ۳. مذهب شیعه را مذهب رسمی کشور کرد.. شاه اسماعیل سپس حاکمان مناطق مختلف را یکی پس از دیگری از میان برداشت و با شکست دادن ازبکها در خراسان، بر سراسر ایران مسلط شد. ۴. مالیات.. عوارض.. صادرات</p>	<p>فصل پنجم</p>
<p>۰/۵ ۰/۵ ۰/۵ ۰/۵ ۱</p>	<p>الف: ب) فتحعلی شاه ۲. ترکمانچای ۳. الف) شیراز ب) به رفاه عمومی مردم توجه میکرد و به صلح، آسایش و آرامش آنها اهمیت میداد و میکوشید از بروز ناامنی و شورشهای داخلی جلوگیری کند ۴. نگذارد کشورهای رقیب از طریق ایران به هندوستان دسترسی پیدا کنند. ۵. تاسیس مدرسه دارالفنون ، استخدام معلمان از کشورهای دیگر برای تدریس در مدرسه دارالفنون</p>	<p>فصل ششم</p>

موفق و سربلند باشید