

۱۵	اختلاف ساعت در نصف النهارهای کره زمین به چه علت است؟ الف) حرکت وضعی زمین <input type="checkbox"/> ب) حرکت ظاهری خورشید <input type="checkbox"/> ج) حرکت انتقالی زمین <input type="checkbox"/> د) تمایل محور قطبها <input type="checkbox"/>	۲							
۱۵	عرض جغرافیایی نقطه قطب شمال چند درجه است؟ الف) ۱۸۰ <input type="checkbox"/> ب) صفر <input type="checkbox"/> ج) ۹۰ <input type="checkbox"/> د) ۳۶۰ <input type="checkbox"/>	۳							
۱	سیاره های درونی و بیرونی را با هم مقایسه کنید: (دو مورد کافی است)	۴							
	<table border="1"> <tr> <td>سیاره درونی</td> <td></td> <td></td> <td></td> </tr> <tr> <td>سیاره های بیرونی</td> <td></td> <td></td> <td></td> </tr> </table>		سیاره درونی				سیاره های بیرونی		
سیاره درونی									
سیاره های بیرونی									
۱۵	کدام گزینه از نتایج حرکات ورقه های پوسته زمین نمی باشد؟ الف) چین خوردگی <input type="checkbox"/> ب) جلگه <input type="checkbox"/> ج) گسل <input type="checkbox"/> د) کوههای آتشفشان <input type="checkbox"/>	۵							
۱۵	کم عمق ترین بخش اقیانوس کدام است؟ الف) شیب قاره <input type="checkbox"/> ب) فلات قاره <input type="checkbox"/> ج) گودال اقیانوسی <input type="checkbox"/> د) دشت اقیانوسی <input type="checkbox"/>	۶							
۱	دوراهکار برای آسیب نزدن به اقیانوس ها ارائه دهید.	۷							
۱	در تصاویر زیر، کدام فعالیت های انسان بر تغییر شکل ناهمواری ها تأثیر گذاشته است؟ (پاسخ در فلش) 	۸							
۱/۵	دوست دارید به کدام زیست بوم مسافرت کنید. سه ویژگی آنرا بیان کنید.	۹							

«عزیزانم سلامت و سعادت مند باشید و همواره در تحصیل علم کوشا و موفق»



«صفحه ۱»

نام درس : مطالعات اجتماعی پایه نهم

سازمان آموزش و پرورش استان بوشهر
کارشناس سنجش و ارزشیابی تحصیلی متوسطه
اداره آموزش و پرورش شهرستان بوشهر
دبیرستان دخترانه فرزانهگان

نام و نام خانوادگی :
نام پدر :
شماره :
شعبه کلاسی :
نام دبیر :

شروع : ساعت ۹
تاریخ آزمون : ۹۹/۳/۷
مدت آزمون : ۵۰ دقیقه

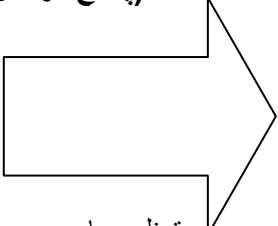

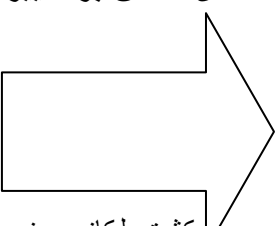

تعداد سوال: اجباری ۱۶ انتخابی بسته اول: ۸ انتخابی بسته دوم: ۹

بارم	بخش اجباری: دانش آموز عزیز لطفاً به تمام سوالات این قسمت پاسخ دهید (۱۳ نمره)	ردیف						
۱۵	*فصل هفتم : درس ۱۳ و ۱۴ مهمترین خواسته مشروطه خواهان بازگشت رهبران مشروطه خواه بود. درست <input type="checkbox"/> نادرست <input checked="" type="checkbox"/>	۱						
۱۵	انقلاب مشروطیت در زمان کدام پادشاه قاجار به وقوع پیوست؟ الف) ناصرالدین شاه <input type="checkbox"/> ب) مظفرالدین شاه <input checked="" type="checkbox"/> ج) احمدشاه <input type="checkbox"/> د) محمد علیشاه <input type="checkbox"/>	۲						
۱۵	بهانه متفقین برای اشغال ایران در شهریور ۱۳۲۰ چه بود؟ الف) حضور تعدادی کارشناسان آلمانی در ایران <input checked="" type="checkbox"/> ب) سرنگون شدن حکومت تزاری روسیه <input type="checkbox"/> ج) ناکامی در اجرای قرارداد ۱۹۱۹ <input type="checkbox"/> د) عدم همکاری دولت ایران با روس ها در برابر آلمان <input type="checkbox"/>	۳						
۱	مهمترین دلیل موفقیت کودتای ۲۸ مرداد ۱۳۳۲ چه بود؟ اختلاف میان رهبران و گروه های سیاسی پشتیبان نهضت ملی نفت به طوری که اتحاد و همدلی به دشمنی تبدیل شد و باعث شد انگلستان و آمریکا از این شرایط برای سرنگونی دکتر مصدق استفاده کنند.	۴						
۱/۵	در هر زمینه ، یک مورد از علل وقوع انقلاب مشروطه را در جدول زیر بنویسید. <table border="1" style="width: 100%; text-align: center;"> <thead> <tr> <th>سیاسی</th> <th>فرهنگی</th> <th>اقتصادی</th> </tr> </thead> <tbody> <tr> <td>وگذاری قسمتی از ایران و بستن قراردادهای ننگین (استعمار ایران)</td> <td>الهام گرفتن از آموزه های دین اسلام- الهام گرفتن از انقلاب کبیر فرانسه</td> <td>تسلط بیگانگان بر منابع ثروت ایران - لطمه به صنعت و کشاورزی - فقر و بیکاری - مالیاتهای سنگین</td> </tr> </tbody> </table>	سیاسی	فرهنگی	اقتصادی	وگذاری قسمتی از ایران و بستن قراردادهای ننگین (استعمار ایران)	الهام گرفتن از آموزه های دین اسلام- الهام گرفتن از انقلاب کبیر فرانسه	تسلط بیگانگان بر منابع ثروت ایران - لطمه به صنعت و کشاورزی - فقر و بیکاری - مالیاتهای سنگین	۵
سیاسی	فرهنگی	اقتصادی						
وگذاری قسمتی از ایران و بستن قراردادهای ننگین (استعمار ایران)	الهام گرفتن از آموزه های دین اسلام- الهام گرفتن از انقلاب کبیر فرانسه	تسلط بیگانگان بر منابع ثروت ایران - لطمه به صنعت و کشاورزی - فقر و بیکاری - مالیاتهای سنگین						
۱۵	*فصل هشتم : درس ۱۵ و ۱۶ امام خمینی (ره) به علت مخالفت با کدام تصویب نامه به ترکیه تبعید شدند؟ الف) انجمن های ایالتی و ولایتی <input type="checkbox"/> ب) قرارداد ۱۹۱۹ <input type="checkbox"/> ج) کاپیتولاسیون <input checked="" type="checkbox"/> د) اصول شش گانه <input type="checkbox"/>	۶						
۱	موارد مرتبط را با کشیدن خط به یکدیگر وصل کنید: \Rightarrow یک مورد اضافه می باشد. \Leftarrow هر کدام از وقایع زیر در چه تاریخی اتفاق افتاده است؟ اعلام نتیجه همه پرسی تعیین نظام سیاسی * کشتار بی رحمانه جمعه سیاه میدان ژاله * * ۱۷ شهریور ۵۷ * * ۱۳ آبان ۴۳ * * ۱۲ فروردین ۵۸ *	۷						
۱	در ابتدای انقلاب اسلامی ، دولت های استعمارگر و آمریکا چه اقداماتی را علیه نظام جمهوری اسلامی انجام دادند؟ (۲ مورد فقط نام ببرید.) ترور شخصیت ها - شورش و ناامنی - اقدامات نظامی - جنگ تحمیلی	۸						
۱/۵	نمودار اقدامات امام خمینی در مبارزه با حکومت پهلوی، به ترتیب کامل کنید : (۱- مخالفت با لایحه کاپیتولاسیون ۲- مخالفت با اصول شش گانه ۳- سخنرانی تاریخی در مدرسه فیضیه قم)	۹						
	<table border="1" style="width: 100%; text-align: center;"> <tbody> <tr> <td>ادامه مبارزه در دوران تبعید</td> <td>سخنرانی علیه کاپیتولاسیون</td> <td>سخنرانی در فیضیه و قیام ۱۵ خرداد</td> <td>اصول شش گانه شاه و ملت</td> <td>مخالفت با لایحه انجمن های ایالتی و ولایتی</td> </tr> </tbody> </table>	ادامه مبارزه در دوران تبعید	سخنرانی علیه کاپیتولاسیون	سخنرانی در فیضیه و قیام ۱۵ خرداد	اصول شش گانه شاه و ملت	مخالفت با لایحه انجمن های ایالتی و ولایتی		
ادامه مبارزه در دوران تبعید	سخنرانی علیه کاپیتولاسیون	سخنرانی در فیضیه و قیام ۱۵ خرداد	اصول شش گانه شاه و ملت	مخالفت با لایحه انجمن های ایالتی و ولایتی				

۱۵	۱۰	*فصل نهم : درس ۱۷ و ۱۸ فصل دهم درس : ۱۹ ویژگی های انتسابی هویت هر فرد، همیشه ثابت هستند . درست <input type="checkbox"/> نادرست <input type="checkbox"/>						
۱۵	۱۱	شیوه مشترک زندگی در یک جامعه است . الف) نماد <input type="checkbox"/> ب) هنجار <input type="checkbox"/> ج) ارزش <input type="checkbox"/> د) فرهنگ <input checked="" type="checkbox"/>						
۱۵	۱۲	فرآیند جامعه پذیری یعنی چه؟ الف) نحوه برطرف کردن نیازهای مادی و عاطفی <input type="checkbox"/> ب) نوع ارتباط فرد با اعضای جامعه <input type="checkbox"/> ج) آموختن شیوه زندگی کردن در جامعه <input checked="" type="checkbox"/> د) پذیرفتن قوانین و مقررات رایج <input type="checkbox"/>						
۱۵	۱۳	کدام یک از روش های زیر برای اجتماعی شدن اعضای خانواده با بقیه متفاوت است؟ الف) خودداری از صحبت کردن با محبت <input type="checkbox"/> ب) نشان دادن نارضایتی <input type="checkbox"/> ج) شرح دادن ارزش های جامعه <input checked="" type="checkbox"/> د) محروم کردن فرزند از بازی مورد علاقه <input type="checkbox"/>						
۱۵	۱۴	دوتا از عمده ترین عناصر هویت یک ملت را نام ببرید . تاریخ(زمان)-سرزمین (مکان) -فرهنگ						
۱	۱۵	بامعرفی یکی از اعضای خانواده محترم خود ویژگی های فردی واجتماعی ایشان را بیان کنید . (برای هر ویژگی دو مورد) پاسخ آزاد						
۱/۵	۱۶	در متن زیر (هنجار - نماد - ارزش) را مشخص کرده و در جدول بنویسید . ویژه برنامه افطارشب قدر را نگاه می کردم مسجد سیاهپوش شده بود وعده ای از مردم با جمع آوری وبسته بندی کمک های مومنانه تلاش می کردند آنها را به دست افرادی که در ایام کرونا آسیب دیده اند برسانند. آنها تمام موارد بهداشتی را رعایت می کردند و ماسک و دستکش داشتند و برخلاف همیشه نمازگزاران با فاصله نشسته بودند . <table border="1"> <tr> <td>نماد</td> <td>هنجار</td> <td>ارزش</td> </tr> <tr> <td>سیاهپوش کردن مسجد</td> <td>استفاده از ماسک و دستکش رعایت فاصله</td> <td>کمک به آسیب دیدگان</td> </tr> </table>	نماد	هنجار	ارزش	سیاهپوش کردن مسجد	استفاده از ماسک و دستکش رعایت فاصله	کمک به آسیب دیدگان
نماد	هنجار	ارزش						
سیاهپوش کردن مسجد	استفاده از ماسک و دستکش رعایت فاصله	کمک به آسیب دیدگان						
*بخش انتخابی: دانش آموز عزیز، لطفاً از بین ۲ بسته سوالات زیر، یکی را به دلخواه انتخاب کرده و به طور کامل پاسخ دهید: از پراکنده پاسخ دادن بپرهیزید چنانچه به هر دو بسته پاسخ دهید. فقط اولین بسته شما تصحیح و نمره آن منظوری شود و نمره ای برای بسته بعدی شما در نظر گرفته نخواهد شد ☞								
*بسته شماره ۱ اختیاری : فصل دهم درس ۲۰ فصل یازدهم و دوازدهم (در ۲۱ و ۲۲ و ۲۳ و ۲۴ (۷ نمره)								
۱۵	۱	*فصل دهم درس ۲۰ و فصل یازدهم درس ۲۱ و ۲۲ مهم ترین هدف ازدواج از دیدگاه قرآن فرزندپروری است . درست <input type="checkbox"/> نادرست <input checked="" type="checkbox"/>						
۱۵	۲	با کلمات داده شده یک سوال مناسب بسازید : ((نصب - رهبر- قبول استعفا- عزل)) رهبر نصب ، عزل و قبول استعفا چه کسانی را برعهده دارد؟						
۱۵	۳	رسول اکرم (ص)، چه فردی را جزء بهترین انسان ها می دانند؟ الف) خوش رفتار با خانواده <input checked="" type="checkbox"/> ب) عالم و پرهیزکار <input type="checkbox"/> ج) پرکار و سخت کوش <input type="checkbox"/> د) زاهد و عابد <input type="checkbox"/>						
۱۵	۴	عامل ناسازگاری والدین و فرزندان چیست؟ الف) اختلاف ارزش ها و هنجار های خانه با سایر محیط ها <input checked="" type="checkbox"/> ب) نظارت دقیق وسختگیرانه والدین <input type="checkbox"/> ج) عدم تجربه کافی نوجوانان <input type="checkbox"/> د) مدگرایی فرزندان <input type="checkbox"/>						
۱	۵	بر اساس قانون اساسی جمهوری اسلامی ایران مردم در هریک از انتخابات های زیر به چه صورت مشارکت دارند؟ ((مستقیم- غیر مستقیم)) الف- رهبری (غیر مستقیم) ب- نمایندگان مجلس (مستقیم) ج- رئیس جمهور (مستقیم) د- اعضای مجلس خبرگان (مستقیم)						
۲	۶	عوارض ومالیات چه تفاوتی با یکدیگر دارند؟ عوارض مبلغی است که در مقابل دریافت خدمتی از دستگاههای اداری ودولتی دریافت می شود مثل پولی که بابت کنتور برق یا آب وگاز پرداخت می کنیم اما مالیات مبلغی است که بلا عوض پرداخت می کنیم تا صرف هزینه های عمومی شود .						
۱	۷	*فصل ۱۲ درس ۲۳ و ۲۴ برای افزایش بهره وری دستگاههای زیر دو پیشنهاد دهید : کولر: اطلاع کافی از روش نگهداری و روشن کردن آن سرویس وشستشوی به موقع - پرهیز از روشن کردن وقتی هوا خوب است باز نگذاشتن در و پنجره موبایل: وقتی در حال شارژ است از آن استفاده نکنیم - ساعات استفاده از آن را محدود کنیم- روشنایی آنرا تنظیم کنیم-محافظه برای آن تهیه کنیم و...						

	« صفحه ۳ »	
۱	منظور از اقتصاد مقاومتی چیست؟ در شرایط سخت بتوانیم کمترین اتلاف هزینه داشته باشیم روی پای خود بایستیم اسراف نکنیم از تولید ملی حمایت کنیم از منابع وامکانات حداکثر استفاده کنیم	۸

*بسته شماره ۲ اختیاری: فصل اول و دوم درس ۱-۲-۳-۴- و فصل سوم درس ۵ (۷نمره)
چنانچه بسته اول انتخاب کرده اید از پاسخ به سوالات زیر پیر هیزید پاسخ تأثیری در نمره شما نخواهد داشت

۱۵	*فصل ۱ درس ۱ و ۲ با توجه به نصف النهار مبدا ایران در نیمکره شمالی است؟ درست <input type="checkbox"/> نادرست <input checked="" type="checkbox"/>	۱								
۱۵	اختلاف ساعت در نصف النهارهای کره زمین به چه علت است؟ الف) حرکت وضعی زمین <input checked="" type="checkbox"/> ب) حرکت ظاهری خورشید <input type="checkbox"/> ج) حرکت انتقالی زمین <input type="checkbox"/> د) تمایل محور قطبها <input type="checkbox"/>	۲								
۱۵	عرض جغرافیایی نقطه قطب شمال چند درجه است؟ الف) ۱۸۰ <input type="checkbox"/> ب) صفر <input type="checkbox"/> ج) ۹۰ <input checked="" type="checkbox"/> د) ۳۶۰ <input type="checkbox"/>	۳								
۱	سیاره های درونی و بیرونی را با هم مقایسه کنید: (دو مورد کافی است)	۴								
	<table border="1"> <tr> <td>سیاره درونی</td> <td>سطوح سنگی و جامد دارند</td> <td>تعداد قمرهای آنها کم است یا قمر ندارند</td> <td>مدار آنها به دور خورشید کوتاه است یا به خورشید نزدیکترند</td> </tr> <tr> <td>سیاره های بیرونی</td> <td>از گازهای مختلف تشکیل شده اند</td> <td>تعداد قمرها زیاد است</td> <td>از خورشید فاصله بیشتری دارند</td> </tr> </table>	سیاره درونی	سطوح سنگی و جامد دارند	تعداد قمرهای آنها کم است یا قمر ندارند	مدار آنها به دور خورشید کوتاه است یا به خورشید نزدیکترند	سیاره های بیرونی	از گازهای مختلف تشکیل شده اند	تعداد قمرها زیاد است	از خورشید فاصله بیشتری دارند	
سیاره درونی	سطوح سنگی و جامد دارند	تعداد قمرهای آنها کم است یا قمر ندارند	مدار آنها به دور خورشید کوتاه است یا به خورشید نزدیکترند							
سیاره های بیرونی	از گازهای مختلف تشکیل شده اند	تعداد قمرها زیاد است	از خورشید فاصله بیشتری دارند							
۱۵	*فصل ۲ درس ۳ و ۴ و فصل ۳ درس ۵ کدام گزینه از نتایج حرکات ورقه های پوسته زمین نمی باشد؟ الف) چین خوردگی <input type="checkbox"/> ب) جلگه <input checked="" type="checkbox"/> ج) گسل <input type="checkbox"/> د) کوههای آتشفشان <input type="checkbox"/>	۵								
۱۵	کم عمق ترین بخش اقیانوس کدام است؟ الف) شیب قاره <input type="checkbox"/> ب) فلات قاره <input checked="" type="checkbox"/> ج) گودال اقیانوسی <input type="checkbox"/> د) دشت اقیانوسی <input type="checkbox"/>	۶								
۱	دوراهکار برای آسیب نزدن به اقیانوس ها ارائه دهید . زباله در آن نریزیم- صید بی رویه نداشته باشیم (هر پاسخ مشابه درست است)	۷								
۱	در تصاویر زیر، کدام فعالیت های انسان بر تغییر شکل ناهمواری ها تأثیر گذاشته است؟ (پاسخ در فلش) <div style="display: flex; justify-content: space-around; align-items: center;"> <div style="text-align: center;">  <p>تونل و جاده</p> </div> <div style="text-align: center;">  </div> <div style="text-align: center;">  <p>کشت پلکانی برنج</p> </div> <div style="text-align: center;">  </div> </div>	۸								
۱/۵	دوست دارید به کدام زیست بوم مسافرت کنید . سه ویژگی آنرا بیان کنید . پاسخ دلخواه با توجه به صفحه ۳۲ تا ۳۵	۹								

« عزیزانم سلامت و سعادت مند باشید و همواره در تحصیل علم کوشا و موفق »