

نام و نام خانوادگی:		اداره کل آموزش و پرورش استان اصفهان		نام درس: مطالعات اجتماعی	
نام پدر:		اداره سنجش		تاریخ امتحان: ۹۸/۳/۱۸	
نام آموزشگاه:		مدیریت آموزش و پرورش		مدت امتحان: ۶۰ دقیقه	
نمره کتبی:		جمع نمره با حروف:		ساعت امتحان: ۱۰ صبح	
نمره شفاهی - عملی:		نام و نام خانوادگی و امضای مصحح:		سوالات در ۵ صفحه	

ردیف	امتحانات هماهنگ استانی پایه نهم دانش آموزان ، داوطلبان آزاد و مدارس آموزش از راه دور در نوبت خرداد ماه ۱۳۹۸	نمره
------	---	------

سوالات اجباری: دانش آموزان عزیز در این بخش لطفاً به تمامی سوالات ۱ تا ۲۴ پاسخ دهید.




۰/۲۵	۱- رژیم شاه امام خمینی(ره) را در ۱۳ آبان سال ۱۳۴۳ به کشور عراق تبعید کرد.	درست □ نادرست □				
۰/۲۵	۲- انقلاب کبیر فرانسه همزمان با تأسیس سلسله افشاریه در اروپا رخ داد.	درست □ نادرست □				
۰/۲۵	۳- کدام گزینه جزء موانع و مشکلات حکومت مشروطه محسوب نمی شود؟ الف) استبداد محمدعلی شاه □ ب) مخالفت روس ها با مشروطیت □ ج) اختلاف بین مشروطه خواهان □ د) مخالفت انگلیسی ها با مشروطیت □					
۰/۲۵	۴- قیام ۱۹ دی ماه ۱۳۵۶ مردم قم به چه دلیلی رخ داد؟ الف) درگذشت مشکوک حاج آقا مصطفی خمینی □ ب) چهارم شهدای ۲۹ بهمن مردم تبریز □ ج) انتشار مقاله توهین آمیز روزنامه اطلاعات □ د) قیام خونین ۱۷ شهریور مردم تهران □					
۱	۵- جدول زیر مربوط به نارضایتی مردم از حکومت پهلوی می باشد؛ آن را کامل نمایید.					
	<table border="1"> <tr> <td>نارضایتی اقتصادی</td> <td>نارضایتی فرهنگی</td> </tr> <tr> <td>۱-</td> <td>۱-</td> </tr> </table>	نارضایتی اقتصادی	نارضایتی فرهنگی	۱-	۱-	
نارضایتی اقتصادی	نارضایتی فرهنگی					
۱-	۱-					
۱	۶- در دوره قاجار، چه عواملی انگیزه و اراده مردم را برای مبارزه با استبداد و سلطه خارجی بیشتر کرد؟(دو مورد ذکر نمایید.)					
۱	۷- نهادهای زیر با چه هدفی شکل گرفتند؟ الف) بسیج مستضعفان: ب) جهاد سازندگی:					
۱	۸- به نظر شما چه شباهت و تفاوتی بین نهضت تنباکو و نهضت ملی شدن صنعت نفت وجود دارد؟ (یک شباهت و یک تفاوت کافی است). شباهت: تفاوت:					
۰/۲۵	۹- اولین گام در راه تشکیل یک خانواده متعادل و سالم، دقت در انتخاب همسر است.	درست □ نادرست □				
۰/۲۵	۱۰- واژه شهروندی به روابط متقابل مردم و قانون اشاره دارد.	درست □ نادرست □				
۰/۲۵	۱۱- بهره‌وری در گذشته وجود نداشته و با صنعتی شدن رایج شده است.	درست □ نادرست □				
۰/۲۵	۱۲- پدر پارسا نظامی است، در نظام، نظم و انضباط بسیار اهمیت دارد. پدر پارسا این نظم را در زندگی خویش نیز اعمال می کند. مشخص کنید؛ کدام یک از ابعاد هویتی او بر دیگری تأثیر گذاشته است؟ الف) جسمانی بر اخلاقی □ ب) اجتماعی بر فردی □ ج) اجتماعی بر جسمانی □ د) فردی بر اجتماعی □					
۰/۲۵	۱۳- کدام یک از موارد زیر از پیامدهای نامطلوب تک فرزندی محسوب نمی شود؟ الف) رشد اجتماعی کودک کاهش می یابد. □ ب) از حمایت و محبت خواهر و برادر محروم می شود. □ ج) از داشتن هم بازی محروم می شود. □ د) لذت ارتباطات وسیع خانوادگی برخوردار می شود. □					

بخش تاریخ

بخش مدنی

نام و نام خانوادگی:		اداره کل آموزش و پرورش استان اصفهان		نام درس: مطالعات اجتماعی	
نام پدر:		اداره سنجش		تاریخ امتحان: ۹۸/۳/۱۸	
نام آموزشگاه:		مدیریت آموزش و پرورش		مدت امتحان: ۶۰ دقیقه	
				ساعات امتحان: ۱۰ صبح	
				سوالات در ۵ صفحه	

ردیف	امتحانات هماهنگ استانی پایه نهم دانش آموزان ، داوطلبان آزاد و مدارس آموزش از راه دور در نوبت خرداد ماه ۱۳۹۸	نمره
------	---	------

ادامه بخش مدنی	۱۴- بهره‌وری سبز یعنی.....	۰/۲۵						
	(الف) افزایش تولید، حداقل هزینه مصرف <input type="checkbox"/> (ب) افزایش تولید با هدف کیفیت مرغوب تر <input type="checkbox"/> (ج) افزایش تولید با هدف سود بیشتر <input type="checkbox"/> (د) افزایش تولید با حفظ محیط زیست <input type="checkbox"/>							
	۱۵- ویژگی‌های اکتسابی و انتسابی را با یکدیگر مقایسه کنید.	۱						
	۱۶- نوع حقوق شهروندی را از میان واژگان زیر انتخاب نموده، و در مقابل جمله مربوط به آن در جدول بنویسید. (یک مورد اضافه است). (عدالت قانونی - عدالت قضایی - تأمین اجتماعی - حقوق فرهنگی)	۰/۷۵						
	<table border="1"> <tr> <td>الف) دسترسی آسان به آموزش و پرورش</td> <td></td> </tr> <tr> <td>ب) جلوگیری از پیمان شدن حقوق انسانها</td> <td></td> </tr> <tr> <td>ج) حمایت از تعلیم و تربیت شایسته</td> <td></td> </tr> </table>	الف) دسترسی آسان به آموزش و پرورش		ب) جلوگیری از پیمان شدن حقوق انسانها		ج) حمایت از تعلیم و تربیت شایسته		
الف) دسترسی آسان به آموزش و پرورش								
ب) جلوگیری از پیمان شدن حقوق انسانها								
ج) حمایت از تعلیم و تربیت شایسته								
	۱۷- دو مورد از نتایج تولد فرزند (فرزندآوری) را بنویسید	۱						
	۱۸- تصاویر زیر کدام یک از عناصر هویت ملی (ویژگی‌های مشترک جامعه ایرانی) را نشان می‌دهند.	۰/۵						
	<table border="0"> <tr> <td>..... (الف)</td> <td></td> </tr> <tr> <td>..... (ب)</td> <td></td> </tr> </table> (الف)	 (ب)				
..... (الف)								
..... (ب)								
	۱۹- در متن زیر (هنجار - نماد - ارزش) را مشخص کرده و در جدول بنویسید. «عید نوروز به سواحل نیلگون خلیج همیشه فارس رفته بودیم. در سواحل قوانین خاصی حاکم بود؛ از جمله این که باید در مناطق مشخص شده شنا می‌کردیم و ماشین را در پارکینگ، پارک می‌نمودیم. در بین جنوبی‌ها صداقت موج می‌زد. لباس‌های محلی مردم جنوب، بسیار جالب بود. سعی کردیم از خرید اضافی پرهیز نماییم؛ زیرا یکی از راه‌های موفقیت در زندگی، صرفه‌جویی است. در ضمن از بازار ساحلی برای برخی از اقوام هدیه گرفتیم.»	۰/۷۵						
	<table border="1"> <thead> <tr> <th>هنجار</th> <th>ارزش</th> <th>نماد</th> </tr> </thead> <tbody> <tr> <td></td> <td></td> <td></td> </tr> </tbody> </table>	هنجار	ارزش	نماد				
هنجار	ارزش	نماد						

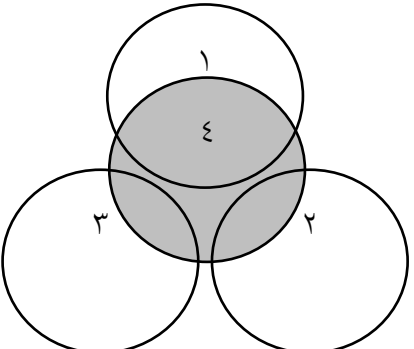
نام و نام خانوادگی:		اداره کل آموزش و پرورش استان اصفهان		نام درس: مطالعات اجتماعی	
نام پدر:		اداره سنجش		تاریخ امتحان: ۹۸/۳/۱۸	
نام آموزشگاه:		مدیریت آموزش و پرورش		مدت امتحان: ۶۰ دقیقه	
				ساعات امتحان: ۱۰ صبح	
				سوالات در ۵ صفحه	

ردیف	امتحانات هماهنگ استانی پایه نهم دانش آموزان ، داوطلبان آزاد و مدارس آموزش از راه دور در نوبت خرداد ماه ۱۳۹۸	نمره
------	---	------

ادامه بخش مدنی	۲۰- فرض کنید خانواده شما در تعطیلات تابستان قصد سفر دارند. دو راهکار مناسب برای افزایش بهره‌وری و داشتن مسافرتی لذتبخش، پیشنهاد دهید. (الف) (ب)	۱
	۲۱- دو مورد از وظایف و اختیارات رهبر جمهوری اسلامی را بنویسید.	۰/۵
	۲۲- اقتصاد مقاومتی چیست؟	۱
	۲۳- منظور از «تعارض نقش» را با ذکر مثال توضیح دهید.	۱
	۲۴- مالیات و عوارض چه تفاوتی با هم دارند؟	۱
سوالات اختیاری: دانش آموز عزیز لطفاً در این بخش دو فصل را به دلخواه انتخاب کنید و فقط به سوال‌های همان دو فصل پاسخ دهید.		
فصل اول	۲۵- در جملات زیر یک اشتباه علمی وجود دارد آن را اصلاح نمایید. (فعل جمله صحیح است). (الف) یکی از نتایج حرکت انتقالی زمین، پیدایش شب و روز است. (ب) نصف النهاراتی که داخل یک قاچ قرار گرفته اند به طور توافقی ساعت متفاوتی دارند.	۰/۵
	۲۶- با توجه به شکل مقابل مشخص کنید که در نیمکره شمالی کدام پدیده بوجود آمده است؟ در مورد آن توضیح دهید. (الف) انقلاب تابستانی □ (ب) انقلاب زمستانی □	۱
		
۲۷- اگر مسافری از اصفهان به تورنتو (کانادا) سفر کند باید ساعت خود را عقب بکشد یا جلو؟ چرا؟	۱	

نام و نام خانوادگی:		اداره کل آموزش و پرورش استان اصفهان		نام درس: مطالعات اجتماعی	
نام پدر:		اداره سنجش		تاریخ امتحان: ۹۸/۳/۱۸	
نام آموزشگاه:		مدیریت آموزش و پرورش		مدت امتحان: ۶۰ دقیقه	
				ساعات امتحان: ۱۰ صبح	
				سوالات در ۵ صفحه	

ردیف	امتحانات هماهنگ استانی پایه نهم دانش آموزان ، داوطلبان آزاد و مدارس آموزش از راه دور در نوبت خرداد ماه ۱۳۹۸	نمره
------	---	------

۰/۷۵	۲۸- چرا مطالعات در مورد اقیانوس ها و بستر آن ها با دشواری های زیادی روبه رو است؟ (سه مورد ذکر نمایید). ۱- ۲- ۳-	فصل دوم				
۰/۷۵	۲۹- از نتایج حرکت ورقه ها در پوسته، سه مورد بنویسید. ۱- ۲- ۳-					
۱	۳۰- نام محیط های زمین را بر روی شکل مقابل نشان دهید. 					
۰/۷۵	۳۱- هر یک از مناطق زیر در کدام زیست بوم واقع شده اند؟ <table border="1" data-bbox="279 1164 1284 1254"> <tr> <td>ساوان</td> <td>بیابان</td> <td>تایگا</td> <td>توندر</td> </tr> </table> (الف) کانادا () (ج) حاشیه اقیانوس منجمد شمالی () (ب) مجاور جنگل های استوایی آفریقا ()	ساوان	بیابان	تایگا	توندر	فصل سوم
ساوان	بیابان	تایگا	توندر			
۱	۳۲- چه راهکارهایی را برای حفاظت از جنگل های استوایی پیشنهاد می دهید؟ (دو مورد)					
۰/۷۵	۳۳- مهم ترین عواملی که باعث تخریب زیستگاه ها می شوند را بنویسید؟ (سه مورد)					
ادامه سوالات در صفحه بعد						

نام و نام خانوادگی:		اداره کل آموزش و پرورش استان اصفهان اداره سنجش مدیریت آموزش و پرورش	نام درس: مطالعات اجتماعی
نام پدر:			تاریخ امتحان: ۹۸/۳/۱۸
نام آموزشگاه:			مدت امتحان: ۶۰ دقیقه
			ساعات امتحان: ۱۰ صبح
			سوالات در ۵ صفحه

ردیف	امتحانات هماهنگ استانی پایه نهم دانش آموزان ، داوطلبان آزاد و مدارس آموزش از راه دور در نوبت خرداد ماه ۱۳۹۸	نمره
------	---	------

۰/۲۵	۳۴- تفاوت میان موالید و مرگ و میر رشد طبیعی جمعیت را نشان می‌دهد. <input type="checkbox"/> درست <input type="checkbox"/> نادرست	
۱/۲۵	۳۵- در دو قرن اخیر کدام عامل موجب کاهش چشمگیر مرگ و میر شده است؟ الف) بهبود آموزش <input type="checkbox"/> ب) درآمد زیاد <input type="checkbox"/> ج) مهاجرت از روستا <input type="checkbox"/> د) بهبود تغذیه <input type="checkbox"/>	
۰/۷۵	۳۶- ملاک‌های توسعه انسانی عبارتند از: الف)..... ب)..... ج).....	فصل چهارم
۰/۲۵	۳۷- کدام مناطق زمین جمعیت بیشتری به خود جذب می‌کند؟	
۱	۳۸- مهاجرت اجباری و اختیاری چه تفاوتی با هم دارند؟ برای هر کدام یک مثال بزنید.	
۰/۵	۳۹- من کیستم؟ (.....) (از صوفیان معروف زمان خود بودم؛ که پیروان زیادی داشتم؛ خانقاهم در اردبیل مورد توجه مردم و حاکمان محلی بود.)	
۱	۴۰- دو عامل گسترش و رونق تجارت در عصر صفوی را بیان کنید. الف)..... ب).....	فصل پنجم
۱	۴۱- اوضاع سیاسی ایران در ارتباط با دشمنان خارجی، هنگام تأسیس حکومت صفوی چگونه بود؟ (این وضعیت را در دو سطر تشریح نمایید.)	
۱	۴۲- چرا امیرکبیر مدرسه‌ی دارالفنون را تأسیس کرد؟	
۰/۵	۴۳- در ارتباط با حکومت زندیه به سوالات زیر پاسخ دهید. الف) بنیانگذار سلسله: ب) نوع رفتار بنیانگذار با مردم:	فصل ششم
۱	۴۴- دلایل افزایش فعالیت‌ها و رقابت‌های استعماری کشورهای اروپایی بعد از انقلاب صنعتی بود؟ الف)..... ب).....	
۲۰	جمع بارم	

موفق و پیروز باشید.

نام درس: مطالعات اجتماعی	اداره کل آموزش و پرورش استان اصفهان اداره سنجش مدیریت آموزش و پرورش	راهنمای تصحیح سوالات امتحانات هماهنگ استانی
تاریخ امتحان:		دانش آموزان ، داوطلبان آزاد و مدارس آموزش از راه دور
پایه نهم ماه ۱۳۹۸		

ردیف	نظر همکاران در تصحیح محترم است.	نمره
	خرداد نهم	بارم
۱	نادرست	۰/۲۵
۲	نادرست	۰/۲۵
۳	گزینه د	۰/۲۵
۴	گزینه ج	۰/۲۵
۵	نارضایتی فرهنگی: بی توجهی به فرهنگ و ارزش های اسلامی نارضایتی سیاسی: ۱- وابستگی سیاسی حکومت پهلوی به بیگانگان ۲- نفوذ و دخالت کشورهای خارجی به ویژه آمریکا در امور ایران (یک مورد کافی است).	۱
۶	موفقیت نهضت تنباکو و در پی آن، قتل ناصرالدین شاه به دست میرزا رضا کرمانی، انگیزه مردم را برای مبارزه با استبداد و سلطه خارجی بیشتر کرد.	۱
۷	الف) دفاع از آرمان های انقلاب اسلامی و مرز و بوم کشور ب) عمران و آبادانی روستاها	۱
۸	شباهت: (۱) نقش مردم و اتحاد و همبستگی آن ها (۲) موفقیت هر دو نهضت (۳) نقش مهم رهبری در هر دو نهضت (۴) نقش مهم روحانیت در هر دو نهضت تفاوت: (۱) نهضت تنباکو غیر مستقیم بر ضد استعمار خارجی صورت گرفت ولی نهضت ملی شدن نفت مستقیماً بر ضد استعمار خارجی صورت گرفت. (۲) در نهضت تنباکو طرف مقابل مردم، حکومت قاجار بود و در نهضت ملی نفت طرف مقابل مردم، استعمار انگلیس و نیروی خارجی بود. (البته نظر دبیر در این مورد بسیار مهم است).	۱
۹	درست	۰/۲۵
۱۰	نادرست	۰/۲۵
۱۱	نادرست	۰/۲۵
۱۲	گزینه ب	۰/۲۵
۱۳	گزینه د	۰/۲۵
۱۴	گزینه د	۰/۲۵

نام درس: مطالعات اجتماعی	اداره کل آموزش و پرورش استان اصفهان اداره سنجش مدیریت آموزش و پرورش	راهنمای تصحیح سوالات امتحانات هماهنگ استانی
تاریخ امتحان:		دانش آموزان ، داوطلبان آزاد و مدارس آموزش از راه دور
پایه نهم ماه ۱۳۹۸		

ردیف	نظر همکاران در تصحیح محترم است.	نمره
۱۵	ویژگی انتسابی: ویژگی های هویتی که ما در پیدایش آن ها نقش نداریم مانند: جنسیت، مکان تولد، والدین، شکل و قیافه و... ویژگی های اکتسابی: ویژگی های هویتی که ما در پیدایش آن ها نقش داریم مانند برخی صفات اخلاقی یا ویژگی های اجتماعی.	۱
۱۶	الف) رفاه و تأمین اجتماعی ب) عدالت قانونی ج) حقوق فرهنگی	۰/۷۵
۱۷	تقویت بنیان خانواده - تداوم نسل انسان - توسعه و استحکام خانواده - نشاط و سرزندگی اعضای خانواده - دلگرمی پدر و مادر	۱
۱۸	الف) تاریخ طولانی و میراث فرهنگی غنی ب) سرزمین	۰/۵
۱۹	هنجار: شنا در مناطق مشخص شده - پارک ماشین در پارکینگ - هدیه گرفتن (یک مورد کافی می باشد) نماد: لباس محلی مردم جنوب ارزش: موفقیت در زندگی - صداقت	۰/۷۵
۲۰	۱- استفاده مناسب از وقت و زمان - ۲- نظم و ترتیب و انضباط در کارها ۳- اصلاح عادت های غلط مصرفی ۴- انجام دادن کارها از روی آگاهی ۵- تنظیم جدول بودجه اقتصادی	۱
۲۱	۱) تعیین سیاست های کلی نظام و نظارت بر حسن اجرای آن ها ۲) فرماندهی کل نیروهای مسلح ۳) نصب و عزل و قبول استعفای فقهای شورای نگهبان، رئیس قوه قضائیه، رئیس سازمان صدا و سیما و فرماندهان نیروهای نظامی و انتظامی و سپاه پاسداران ۴) عفو و تخفیف محکومان در حدود موازین اسلامی	۱
۲۲	در شرایط سخت بتوانیم کمترین اتلاف هزینه را داشته باشیم. روی پای خود بایستیم، از تولید ملی حمایت کنیم، از اسراف بپرهیزیم و از منابع و امکانات حداکثر استفاده را بکنیم. (اگر قسمتی از این جملات را هم بنویسند؛ جواب صحیح می باشد)	۰/۵
۲۳	برای مثال، خانمی که شاغل است هم وظیفه شغلی دارد و باید ساعاتی را در بیرون از منزل بگذراند و هم وظایف مادری و همسری برعهده اوست و می خواهد این وظایف را نیز به خوبی انجام دهد. پس با دشواری هایی روبه رو می شود. (هر مثالی که مفهوم را برساند قابل قبول می باشد.)	۱

نام درس: مطالعات اجتماعی	اداره کل آموزش و پرورش استان اصفهان اداره سنجس مدیریت آموزش و پرورش	راهنمای تصحیح سؤالات امتحانات هماهنگ استانی دانش آموزان، داوطلبان آزاد و مدارس آموزش از راه دور
تاریخ امتحان: پایه نهم ماه ۱۳۹۸		

ردیف	نظر همکاران در تصحیح محترم است.	نمره
۲۴	مالیات مبلغی است که شهروندان براساس قانون و به صورت بلاعوض به دولت پرداخت می کنند تا صرف هزینه های عمومی کشور شود اما عوارض مبلغی است که شهروندان در مقابل دریافت خدمتی از دستگاه های اداری و دولتی به آن ها می پردازند.	۱
۲۵	الف) دو حالت دارد. ۱- حرکت انتقالی نادرست و حرکت وضعی درست است. ۲- پیدایش شب و روز نادرست و پیدایش فصل ها یا پیدایش یکسال شمسی درست می باشد. (هر کدام از این دو حالت صحیح می باشد). ب) ساعت متفارت اشتباه است، ساعت یکسانی دارند.	۰/۵
۲۶	الف) انقلاب تابستانی، در اول تیرماه خورشید در نیمکره شمالی به مدار رأس سرطان به طور عمود می تابد و منطقه وسیعتری در معرض نور خورشید قرار می گیرد، در نتیجه طول روزها از شبها بیشتر است و طولانی ترین روز در نیمکره شمالی است که به آن انقلاب تابستانی می گویند.	۱
۲۷	عقب بکشید. زیرا اصفهان شرقی تر است و مردم اصفهان روز را زودتر شروع می کنند و زودتر خورشید طلوع می کند.	۱
۲۸	۱- فشار زیاد آب ۲- تاریکی ۳- دمای کم	۰/۷۵
۲۹	۱- شکستگی با گسل ۲- چین خوردگی ها و رشته کوه ۳- کوه های آتشفشانی	۰/۷۵
۳۰	۱- هوا کره ۲- سنگ کره ۳- آب کره ۴- زیست کره	۱
۳۱	الف) تایگا ب) ساوان ج) توندرا	۰/۷۵
۳۲	۱- بین استفاده اقتصادی از جنگل ها و فرصت بازسازی آن ها تعادل بوجود آید. ۲- میزان قطع درختان قاعده و قانون داشته باشد و پس از قطع هر درخت با برنامه ریزی مناسب درختانی را جایگزین آن ها کنند. ۳- به کشاورزان و دامپروران آن منطقه روش علمی و جدید کشاورزی و دامپروری را بیاموزند تا کمترین آسیب به محیط زیست وارد شود.	۱
۳۳	سه مورد ۱- ایجاد و گسترش شهرها و روستاها، ساختن پل، جاده، ساختمان ها و سدها بدون برنامه ریزی و توجه به جنبه های زیست محیطی ۲- فعالیت های صنعتی و تولید انبوه کالاها در کارخانه ها ۳- مصرف گرایی و تولید انبوه زباله ۴- شکار و تجارت اعضای بدن حیوانات.	۰/۷۵

نام درس: مطالعات اجتماعی	اداره کل آموزش و پرورش استان اصفهان اداره سنجش مدیریت آموزش و پرورش	راهنمای تصحیح سؤالات امتحانات هماهنگ استانی
تاریخ امتحان:		دانش آموزان ، داوطلبان آزاد و مدارس آموزش از راه دور
پایه نهم ماه ۱۳۹۸		

ردیف	نظر همکاران در تصحیح محترم است.	نمره
۳۴	درست	۰/۲۵
۳۵	گزینه د (بهبود تغذیه)	۰/۲۵
۳۶	الف) درآمد و رفاه ب) امید به زندگی ج) سواد و آموزش	۰/۷۵
۳۷	نواحی معتدل با باران کافی یا نواحی دارای آب و هوای موسمی و دشتها و جلگه‌های آبرفتی و حاصلخیز و نواحی دارای منابع آب کافی. (یک مورد کافی می‌باشد)	۰/۲۵
۳۸	اگر افراد با میل و تصمیم خود برای دستیابی به زندگی بهتر به جای دیگر مهاجرت کنند مهاجرت اختیاری نامیده می‌شود مانند مهاجرت اروپاییان در قرن ۱۹ و ۲۰ به آمریکا و استرالیا. اما اگر افراد بدون میل خود و به دلیل عواملی چون قحطی، خشکسالی و دیگر حوادث طبیعی و یا جنگ‌ها و مجبور به ترک محل زندگی خود شوند مهاجرت اجباری نامیده می‌شود. مانند مهاجرت اجباری مردم فلسطین از سرزمین‌های اشغالی (هر مثالی که مفهوم را برساند صحیح می‌باشد).	۱
۳۹	شیخ صفی الدین اردبیلی	۰/۵
۴۰	الف) گرفتن عوارض از کاردان‌های تجاری ب) گسترش تجارت خارجی ج) صادرات کالاها به ویژه ابریشم (۲ مورد)	۱
۴۱	همسایگان ایران که در فکر گسترش قلمرو خود بودند مانند امپراتوری عثمانی که با حمله‌های پیاپی به سرزمین‌های همجوار بر قلمرو خود می‌افزود؛ به ایران نیز طمع داشت. در شمال شرقی ایران، ازبک‌ها به مرزهای ایران می‌تاختند.	۱
۴۲	چون ایشان فرستادن دانشجو به اروپا را کافی نمی‌دانست، تصمیم گرفت مدرسه‌ای به سبک مدرسه‌های اروپایی در ایران تأسیس کند تا تعداد بیشتری از ایرانیان علوم و فنون جدید را بیاموزند.	۱
۴۳	الف) کریم خان زند ب) ملایمت و مهربانی	۰/۵
۴۴	الف) دستیابی به مواد اولیه ب) یافتن بازار مصرف مناسب	۱

موفق و پیروز باشید.